

المرشد



جغرافية التنمية

نماذج عالمية وتطبيقات عربية

للفصل الثاني الثانوي - القسم الأدبي.

(إعداد)

أ. عاصم مطاوع

جميع حقوق الطبع و النشر محفوظة ل
الهيئة العامة

محتويات الكتاب

جغرافية التنمية الاقتصادية

الوحدة الثالثة

- ١ ماهية التنمية الاقتصادية.
- ٢ التنمية الزراعية والحيوانية.
- ٣ التنمية السياحية.
- ٤ التنمية الصناعية.

جغرافية التنمية البشرية

الوحدة الرابعة

- ١ ماهية التنمية البشرية.
- ٢ مؤشرات التنمية البشرية.
- ٣ نماذج تنموية رائدة.
- ٤ مستقبل التنمية في الوطن العربي.

تنويه

على الطالب مراجعة هذه الخطة مع مدرس المادة ؛ لأنه قد تحدث بعض التغيرات بالخطة أثناء الدراسة.

جغرافية التنمية الاقتصادية

الاهداف الوحدة

في نهاية الوحدة يكون الطالب قادرا على أن ..

1. يوضح مفهوم التنمية الاقتصادية ومتطلباتها.
2. يحدد استراتيجيات التنمية الاقتصادية وأساليبها.
3. يشرح أهمية التنمية الاقتصادية.
4. يستخلص من مصادر المعلومات خطط .
5. تنمية الأنشطة الاقتصادية في مناطق مختلفة بالوطن العربي.
6. رآيه في الوضع الراهن للتنمية الزراعية بالوطن العربي.
7. يستنتج أثر التنمية الاقتصادية في تحقيق التوازن الاقتصادي.
8. يقيم أثر برامج التنمية الاقتصادية على تقدم الدول.
9. يقيم أثر التكنولوجيا الحديثة في نجاح التنمية الاقتصادية.
10. يضع رؤية مستقبلية للتنمية السياحية بالوطن العربي.
11. يقيم تجارب بعض الدول العربية في التنمية الصناعية.
12. يستنتج العلاقة بين الاستقرار السياسي والتنمية الاقتصادية.

ماهية التنمية الاقتصادية

الدرس
الأول

موضوعات الدرس

مفاهيم التنمية الاقتصادية

مفاهيم التنمية الاقتصادية

خصائص التنمية الاقتصادية

مفهوم التنمية الاقتصادية

التنمية الاقتصادية

النمو الاقتصادي

- يمر الاقتصاد العالمي منذ عام ٢٠٠٨م بأسوأ الأزمات المالية التي عرفها التاريخ الاقتصادي : من هنا ظهرت الحاجة إلى وضع الخطط التنموية لإدارة الموارد.
- يختلف مفهوم النمو الاقتصادي عن التنمية الاقتصادية :

التنمية الاقتصادية.	النمو الاقتصادي.	
هو عملية متعددة الأبعاد تتضمن إحداث تغييرات جذرية في الهياكل الاقتصادية والاجتماعية والسياسية والإدارية ، بمقتضاها يتم الانتقال من حالة التأخر إلى حالة التقدم.	هو حدوث زيادة في إجمالي الناتج المحلي يؤدي إلى زيادة مستمرة في متوسط نصيب الفرد من الدخل الحقيقي	التعريف
١. تتضمن إحداث تغييرات كمية ونوعية في الجوانب الاقتصادية. ٢. لا ترتبط بزيادة ثروة المجتمع فقط و لكن يجب أن يصاحب هذه الزيادة عدالة في التوزيع وارتفاع في مستوى المعيشة.	١. حدوث تغييرات كمية في بعض الجوانب الاقتصادية. ٢. حدوث زيادة في ثروة المجتمع فقط.	التأثير
تحدث على المدى الطويل ولا يمكن الحكم عليها إلا بعد فترة طويلة نسبيا.	يسبق التنمية ؛ يحدث على المدى القصير.	المدى الزمني

١ الموارد الطبيعية

من أهم مقومات التنمية : فغنى أي دولة بمورد طبيعي سهل الاستغلال ، يساعد على الإسراع في إعداد برامج التنمية.

• مثال ذلك .. انتشار مناجم الثروات المعدنية أو مصادر الطاقة أو وجود التربة الخصبة الصالحة للزراعة ، أو توافر موارد المياه كل ذلك يعد من الموارد الطبيعية التي تسهم في تنفيذ مشروعات التنمية.

٢ الموارد البشرية

تعد القوى البشرية (السكان) أساس التنمية الاقتصادية في أي مجتمع من المجتمعات والعامل المحفز على استثمار الموارد (الزراعية - المعدنية -) بما تمتلكه من معارف ومهارات.

٣ رأس المال والتكنولوجيا المتطورة

يعد رأس المال شرط مهم لتنفيذ أي مشروع من مشروعات التنمية في أي مكان في العالم ؛ لذلك تضطر بعض الدول إلى البحث عن مصادر لتمويل مشروعات التنمية بها نتيجة لعجز مواردها المالية.

التكنولوجيا الحديثة

استخدام التقنيات الحديثة والأساليب التكنولوجية المتطورة يلعب دوراً مهماً في إنجاح مختلف مشروعات التنمية.

مراجعة دورية

١- ليأ به تفسر : الموارد الطبيعية من أهم مقومات التنمية الاقتصادية؟

٢- ليأ ضع علامة أو : يمكن تحقيق التنمية الاقتصادية رغم نقص رأس المال.

٣- ليأ تفسر : للقوى البشرية دور مهم في تحقيق التنمية البشرية؟

٤- اكمل : من مقومات التنمية الاقتصادية و

٥- ليأ ضع علامة أو : ترتبط عملية التنمية الاقتصادية بزيادة ثروة المجتمع فقط.

التنمية الاقتصادية

موقوفات

١ الموقوفات الاقتصادية

١. محدودية الموارد الطبيعية (المياه ، الطاقة) في بعض الدول وسوء استغلال المتاح منها في دول أخرى.
٢. تدني وضع البنية التحتية (الأساسية) مثل .. الطرق ، الصرف، المياه ، الكهرباء.
٣. نقص الموارد المالية وضعف الجهاز المصرفي في تعبئة المدخرات وزيادة الديون الخارجية في بعض الدول.

٢ الموقوفات الاجتماعية

١. زيادة معدلات النمو السكاني والبطالة والفقر.
٢. استمرار الهجرة من الريف إلى المناطق الحضرية (المدن).
٣. انتشار العشوائيات ، تفاقم مشكلات التلوث بجميع أشكاله.
٤. انتشار الأمية وضعف إمكانيات بعض المؤسسات التعليمية والبحثية.

٣ الموقوفات السياسية

١. عدم استقرار النظام السياسي.
٢. الاضطرابات الأمنية.
٣. زيادة بعض المشكلات السياسية الدولية التي تصل إلى حد الحروب.

٤ المؤسسات الادارية

١. ضعف الأداء الوظيفي للجهاز الإداري.
٢. البيروقراطية والروتين في الإجراءات وإنجاز المعاملات.
٣. نقص الخبرات والكوادر الفنية المتخصصة.
٤. تدني مستوى أنظمة المعلومات ونقص قواعد البيانات.

مراجعة دورية

١. **لماذا** أهمية مشروعات البنية التحتية في تحقيق التنمية الاقتصادية؟
٢. **دلي** على صحة ما يلي، توجد موقوفات اجتماعية واقتصادية تقف أمام التنمية الاقتصادية

١ تطوير التعليم والبحث العلمي

تسمى الدول إلى تطوير التعليم والبحث العلمي لأن :

- التعليم هو استثمار له مردودة اقتصادية والاجتماعي الذي لا يقل أهمية عن الاستثمار في رأس المال.
 - التعليم يعد بناءا لاقتصاد المعرفة ودفعاً لعجلة التنمية الاقتصادية.
- مثل ألمانيا وكوريا الجنوبية والبرازيل.

٢ تحسين البنية التحتية

توفير خدمات البنية التحتية بمستوى مناسب له أثر إيجابي في عملية التنمية و

تتمثل البنية التحتية في :

- شبكة الطرق التي يجب العمل على تطويرها وتحديث وسائل النقل.
- توفير مصادر الطاقة لاستخدامها في مختلف الأغراض (منزلية ، صناعة ، زراعة سياحة)

نموذج عربي

مشروع وصال الدار البيضاء / الميناء

استهدفت الخطة الإستراتيجية لمشروع وصال بالمغرب تطوير البنية التحتية بالمدن التي بدأت بطنجة ، ثم مراكش وأخيراً الدار البيضاء و رصد لها حوالي ٧٢٧ مليون دولار لتحسين شبكات البنية التحتية لتمكينها من الارتقاء إلى مصاف كبريات العواصم العالمية وتنشيط الجانب السياحي.

- تحسين وتطوير وسائل الاتصال بهدف تيسير انتقال الأفراد ورؤوس الأموال و المعلومات من مكان إلى آخر.
- ولتنفيذ المشروعات في مختلف المجالات الاقتصادية كمشروعات استصلاح الأراضي و مشروعات التنمية الصناعي وغيرها من المشروعات التي تتيح فرصاً متعددة لخفض نسبة البطالة من ناحية ورفع مستويات المعيشة بزيادة الدخل من ناحية أخرى.

مراجعة دورية

١ ما العلاقة بين : مشروعات البنية التحتية والتنمية الاقتصادية؟

٢ ما العلاقة بين : تطوير التعليم والتنمية الاقتصادية؟

٣ بم تفسر : اهتمام دول العالم بتطوير التعليم والبحث العلمي؟

٢ ضغط معدلات النمو السكاني

• تهتم الدول بإعطاء أولوية لبرامج تنظيم الأسرة للسيطرة على النمو السكاني المتزايد ، حيث يعد عاملاً معوقاً للتنمية الاقتصادية ، لما تطلب من توفير الغذاء والكساء والمأوى ونفقات التعليم وخاصة إذا لم يتزايد الناتج القومي بالقدر الذي يكفي لمواجهة هذه الأعباء .

• يرى بعض الاقتصاديين .. أن النمو السكاني المتزايد ميزة وليس عيباً فهو العامل المحفز على استغلال ثروات وموارد التنمية .. مثل الصين التي استطاعت استثمار القوة البشرية لديها في مجال الصناعة بأنواعها المختلفة والتي غزت العالم بمنتجاتها الصناعية.

٤ التنمية الاجتماعية

• تلعب التنمية الاجتماعية دوراً كبيراً في التأثير على اقتصاديات أي مجتمع من المجتمعات.

• لذلك من الضروري العمل على تنمية وتطوير المناطق الريفية وعدم تهملها ، حتى لا تصبح مناطق طرد سكاني من خلال تيارات الهجرة المستمرة من الريف إلى المدينة ، التي من أهم نتائجها وأثارها السلبية على أغلب المدن انتشار ظاهرة العشوائيات خاصة في المدن الكبرى.

• محافظة القاهرة بلغ عدد المناطق العشوائية أكثر من ٨٠ منطقة عشوائية حتى عام ٢٠٠٨ م وتم إزالة بعضها وجاري تطوير الباقي كمنطقة زينهم.

مراجعة دورية

١. لماذا ما العلاقة بين : مشروعات البنية التحتية والتنمية الاقتصادية؟
٢. دلل على صحة ما يلي : للتنمية الاجتماعية دوراً مؤثراً على اقتصاديات أي مجتمع.
٣. بم نقدر : تهتم دول العالم بإعطاء أولوية لبرامج تنظيم الأسرة؟
٤. أكمل : بلغ عدد العشوائيات في محافظة القاهرة عام ٢٠٠٨ م عشوائية.
٥. لماذا وضع رايلند في : النمو السكاني سلاح ذو حدين في مشروعات التنمية الاقتصادية؟
٦. ماذا يحدث إذا : لم يتزايد الناتج القومي بقدر الزيادة السكانية؟

٥ زيادة الصادرات من السلع والخدمات



الميزان التجاري

هو الفرق بين قيمة الصادرات والواردات للدولة.

لكل دولة ميزان تجاري وإذا زادت قيمة صادرات الدولة عن قيمة وارداتها سينتج فائض في الميزان التجاري ، أما إذا انخفضت

قيمة الصادرات عن الواردات سيكون هناك عجز في هذا الميزان.

٥ تعمل زيادة الصادرات على ..

١. زيادة الإنتاج.
٢. توفير السيولة من العملة الصعبة اللازمة للاستيراد من الخارج.

٦ الخسارة من تصدير المواد الخام للخارج

٥ تصدير المواد الخام يؤدي إلى ...

١. إهدار مكتسبات الأجيال القادمة وحرمان الدولة من إنشاء العديد من الصناعات وبالتالي زيادة معدل البطالة.
٢. فقد مبالغ طائلة نتيجة الفرق بين سعر المادة الخام وسعرها بعد التصنيع وهو ما يعرف بالقيمة المضافة.



٥ بعض أنواع الرمال المصرية تصدر إلى الدول المتقدمة بأسعار متدنية تصل إلى ٥٠ جنيها ؛ ثم تقوم هذه الدول بتنقيتها و تركيزها وتعيد تصديرها بأسعار تتراوح بين ١٠٠ ، ١٢٠٠ دولار

مراجعة دورية

١. عرف : الميزان التجاري؟
٢. ما نتائج : استمرار تصدير الدول للمواد الخام إلى الخارج؟
٣. بم تفسر : تشجيع الصادرات يساعد على تحقيق التنمية الاقتصادية؟
٤. عرف : القيمة المضافة؟
٥. ليلى وضح رأيك في : تصدير المواد الأولية خاما؟
٦. ماذا يحدث إذا : زادت قيمة صادرات الدولة عن قيمة وارداتها ؟

٧ ربط السياسات الاقتصادية بالتنمية البيئية

تركز السياسات الاقتصادية الحديثة على الاقتصاد الأخضر الذي ينتج عنه تحسين في رفاهية الإنسان و يقلل بصورة ملحوظة من المخاطر البيئية و ندرة الموارد ، لذلك يجب أن تهتم استراتيجيات التنمية بـ

١. المحافظة على الموارد البيئية غير المتجددة.
٢. ترشيد استهلاكها.
٣. الحد من آثارها السلبية على الإنسان والبيئة.

٨ الشراكة والتعاون الدولي

من الضروري دعم العلاقات التجارية بين جميع الدول خاصة بين الدول العربية و هو ما يعرف بالتجارة البيئية و العمل على تصفية الخلافات سواء السياسية أو الاقتصادية فيما بينها و البحث عن حلول علمية و عملية لبعض المشكلات الأكثر تعقيدا كمشكلة المياه التي يجب وضعها في أولويات التخطيط و التنمية المستدامة لشعوب المنطقة.

مراجعة دورية

١. عرف : الاقتصاد الأخضر؟
٢. ما مقترحاتك : لتحقيق التعاون الاقتصادي بين الدول العربية؟
٣. ابد صحة ما يلي : يجب أن تركز السياسات الاقتصادية الحديثة على الاقتصاد الأخضر.
٤. ضع علامة أو : تركز السياسات الاقتصادية الحديثة على الاقتصاد الأخضر
٥. ما مقترحاتك : لزيادة جذب الاستثمارات الخارجية للدول العربية؟
٦. ماذا يحدث إذا : زادت قيمة صادرات الدولة عن قيمة وارداتها ؟
٧. عرف : التجارة البيئية؟
٨. ما نتائج : تبني دول العالم المتحضر سياسة الاقتصاد الأخضر؟
٩. اذكر ما تعرفه عن : مشروع وصال الدار البيضاء؟
١٠. في رأيك : كيف يمكن دعم العلاقات التجارية بين جميع الدول؟

مراجعة على الدرس الأول

عرف ما يلي

1. النمو الاقتصادي.
2. التنمية الاقتصادية.
3. إستراتيجية التنمية الاقتصادية.
4. الميزان التجاري.

بم تفسر

1. تشجيع الصادرات يساعد على التنمية الاقتصادية؟
2. اهتمام بعض الدول بإصدار القوانين التي تمنع تصدير المواد الخام للخارج؟
3. أهمية مشروعات البنية التحتية في تحقيق التنمية الاقتصادية؟
4. الموارد الطبيعية من أهم مقومات التنمية الاقتصادية؟
5. اهتمام دول العالم بتحقيق التنمية الاقتصادية؟
6. للقوى البشرية دورا هاما في التنمية الصناعية؟

ما مقترحاتك لـ

1. تحقيق التكامل الاقتصادي بين الدول العربية؟
2. التغلب على معوقات التنمية الاقتصادية بالعالم؟
3. زيادة جذب الاستثمارات الخارجية للدول العربية؟
4. تحقيق التعاون الاقتصادي بين الدول العربية؟
5. الاستفادة من تجربة مشروع وصال الدار البيضاء في تطوير البنية التحتية

بمصر؟

4 ضع علامة (✓) أو (x) فيما يلي مع ذكر السبب

1. ترتبط عمليات التنمية الاقتصادية بزيادة ثروة المجتمع فقط. ()
2. تعد التنمية الاقتصادية عنصراً أساسياً في خطط تنمية أي دولة. ()
3. التنمية الاقتصادية عملية فردية تقتصر على الجهات الحكومية. ()
4. تعد السعودية أولى الدول العربية جذباً للاستثمارات الخارجية. ()
5. يمكن تحقيق التنمية الاقتصادية رغم نقص رأس المال. ()
6. تؤدي عملية النمو الاقتصادي إلى زيادة في ثروة المجتمع مع عدالة التوزيع. ()
7. الموارد الطبيعية من أهم مقومات التنمية الاقتصادية. ()
8. تطوير التعليم أحد استراتيجيات التنمية الاقتصادية. ()
9. تحسين البنية التحتية من استراتيجيات التنمية الاقتصادية. ()

5 ما العلاقة بين

1. التعليم والتنمية الاقتصادية؟
2. مشروعات البنية التحتية والتنمية الاقتصادية في أي دولة؟

6 ماذا يحدث إذا

1. شجعت الدول العربية المستثمرين على المزيد من المشروعات؟
2. استثمرت زيادة معدلات النمو السكاني في بعض دول العالم؟
3. زادت قيمة الصادرات عن الواردات؟

7 قسارن بين

النمو الاقتصادي و التنمية الاقتصادية.
من حيث ..
المفهوم ، التأثير.

موضوعات الدرس

الإنتاج السمكي

الإنتاج الحيواني

الإنتاج الزراعي

اسباب ازمة الغذاء في العالم

١. ارتفاع أسعار النفط العالمية ..
مما دفع كثير من شركات إنتاج الغذاء لتحويل مساحات واسعة من إنتاج المحاصيل الحقلية إلى إنتاج محاصيل تنتج الوقود الحيوي كقصب السكر والذرة وفول الصويا.
٢. انخفاض الإنتاجية الزراعية ..
بسبب قصور التخطيط الزراعي وتخلف الأساليب والطرق الزراعية المستخدمة في بعض مناطق الزراعة.
٣. زيادة معدلات النمو السكاني .. مما يؤدي إلى زيادة الطلب على الغذاء رغم محدودية الإنتاج.
٤. الهجرة من الريف إلى المدن .. مما انعكس على قلة العمالة الزراعية وبالتالي انكماش المساحة المزروعة.
٥. نقص موارد المياه وتدهور الأراضي الزراعية وتدني جودتها وسوء استغلالها ..
٦. انخفاض الاستثمارات الزراعية .. انخفاضاً كبيراً لضعف العائد منها.
٧. الحروب وعدم الاستقرار السياسي .. كما في ميانمار (بورما) وفلسطين وجنوب السودان.

الزراعة .. في العالم

• يؤدي القطاع الزراعي دورا هاما في الاقتصاديات العربية نظرا لـ ...

١. مساهمته في تحقيق الأمن الغذائي.
٢. توفير الدخل للسكان.
٣. توفير المواد الأولية للصناعات التحويلية.

الأمن الغذائي



توافر الغذاء لكل فرد من الشعب في أي فترة بكمية ونوعية كافية تضمن له حياة صحية سليمة ونشطة.

المساحة المنزرعة

• بلغت مساحة الأراضي الزراعية في العالم نحو .. ٣.٦ مليون فدان عام ٢٠١١ م.

- منها ٨٠% للزراعة البعلية (المطرية) .
- ٢٠% للزراعة المروية .

• ينخفض نصيب الفرد من الأراضي الزراعية في معظم الدول العربية بسبب ..

تدهورها وتناقصها.

مراجعة دورية

١. عرف : الأمن الغذائي.

٢. ماهي : أسباب أزمة الغذاء في العالم؟

٣. افسر : أهمية قطاع الزراعة في الاقتصاديات العربية؟

٤. ضع علامة أو : معظم الأراضي الزراعية في العالم تعتمد على الزراعة البعلية؟

٥. افسر : ينخفض نصيب الفرد من الأراضي الزراعية في معظم الدول العربية؟

٦. افسر : أهمية قطاع الزراعة في الاقتصاديات العربية؟

٧. ما نتائج : ارتفاع أسعار النفط عالميا بالنسبة لإنتاج الغذاء؟

٨. اكمل : بلغت مساحة الأراضي الزراعية في العالم مليون فدان.

٩. ما نتائج : الهجرة من الريف إلى المدن بالنسبة لإنتاج الغذاء ؟

١٠. ضع علامة أو : يتميز الوطن العربي بارتفاع نصيب الفرد من الأرض الزراعية؟

١١. عرف : الزراعة البعلية.

المساحة المنزرعة في الوطن العربي

تبلغ مساحة الأراضي القابلة للزراعة بالوطن العربي نحو ٤٧٠ مليون هكتار (٢٧ %).

٢ عوامل تدهور الأراضي الزراعية بالوطن العربي

١. الزحف العمراني على الأراضي الزراعية نتيجة زيادة عدد السكان.
٢. تملح بعض الأراضي الزراعية بسبب استخدام طرق الري التقليدية.
٣. الإسراف في استخدام الأسمدة الكيماوية.
٤. تعرض بعض الأراضي الزراعية للتصحر والتجريف.
٥. عدم إتباع نظام الدورات الزراعية.
٦. زراعة الأرض أكثر من مرة في السنة.
٧. نقص برامج التوعية والثقافة الزراعية للمزارعين.

٣ الإنتاج الزراعي في الوطن العربي

الدول المنتجة	الإنتاج	المحصول
• مصر .. ٤٠% • المغرب .. ١٦%	٥٤,٥ مليون طن-	الحبوب الغذائية
١. المغرب. ٢. مصر.	١,٤ مليون طن-	البقوليات
مصر ، السودان ، المغرب.	٤٥٤,٥ ألف طن-	محاصيل السكر
١. المغرب. ٢. مصر.	٢٢,٢ مليون طن	الفاكهة
تصدر سوريا الدول العربية المنتجة يليها مصر حيث بلغ إنتاجها نحو ٩٠% من الإنتاج العربي	٢,١ مليون طن-	الألياف النسيجية

مراجعة دورية

أكمل : أولى الدول العربية إنتاجا للمحاصيل السكرية ..

بم تفسر : تدهور الأراضي الزراعية في الوطن العربي؟

أكمل : تنتج مصر وسوريا ٩٠% من إنتاج الوطن العربي من محصول ..

٤ وسائل تنمية وإدارة الموارد الزراعية

١. تفعيل القوانين لحماية التربة من التجريف.
٢. وضع برامج توعية للمزارعين في مجال استخدام الأراضي والري والتسميد.
٣. الاستفادة من التكنولوجيا الحيوية للحصول على بذور فائقة الإنتاجية.
٤. استنباط أنواع جديدة من النبات التي تتحمل الملوحة والجفاف.
٥. استصلاح الأراضي الصحراوية وزراعة المدن.
٦. استخدام المخصبات العضوية.
٧. إجراء الأبحاث العلمية على الأراضي الزراعية لتحديد نوع النبات المناسب للأرض المناسبة.
٨. استخدام تقنيات الاستشعار من بعد لحصر المساحات المحصولية وتقدير إنتاجيتها ومراقبتها تعرضها للكوارث الطبيعية كالفيضانات والأعاصير.

التعبئة الزراعية المستدامة



هي الإدارة الناجحة للموارد الطبيعية التي تسمح للزراعة بتلبية الاحتياجات البشرية مع تضاوي تدهور البيئة.

توجهت أوغندا نحو التنمية الزراعية المستدامة؛ لتحسين سبل عيش السكان وحماية البيئة من التلوث وذلك من خلال تخصيص مساحات واسعة من لإنتاج الزراعة العضوية التي بلغت مساحتها نحو ٥٢٧ ألف فدان عام ٢٠١١م.

التجربة

الأوغندية

في الزراعة العضوية

- احتلت أوغندا المركز ١٢ عالميا والأول أفريقيا في مساحة الزراعة العضوية.
- من المحاصيل العضوية في أوغندا .. الفانيلا، الزنجبيل.
- أهمية الزراعة العضوية .. أنها تساعد على خفض معدلات انبعاث الكربون و الغازات الدفيئة بنسبة ٦٤٪.

مراجعة دورية

١. بم تفسر أهمية الزراعة العضوية؟

٢. عرف التنمية الزراعية المستدامة؟

٣. بم تفسر نجاح أوغندا نحو التنمية الزراعية المستدامة؟

الأحياء والثروة الحيوانية في العالم

تنتشر مساحات واسعة من الحشائش الطبيعية (السافانا ، الأستبس ، النباتات الصحراوية) في كثير من دول العالم وتصلح هذه الحشائش لرعي الحيوانات التي يستفيد منها الإنسان في توفير احتياجاته من اللحوم والأصواف والألبان

- يتركز ٢٩% من المراعي في قارات نصف الكرة الأرضية الشمالي.
- يتركز ٦١% من المراعي في قارات نصف الكرة الأرضية الجنوبي.

أولاً الرعي في الوطن العربي

- تصل مساحة المراعي نحو ٢٢% من مساحة الوطن العربي عام ٢٠١٢.
- المراعي الطبيعية في الوطن العربي فقيرة ومحدودة الإنتاجية ؛ نظراً لوقوع معظم مساحته في المناطق الجافة وشبه الجافة التي تشهد سقوط مطر متباين وغير منتظم وتعاني المراعي العربية من التدهور الحاد.

• أهمية المراعي الطبيعية ؛

١. تربية الثروة الحيوانية.
٢. مناطق جذب للسياحة والترفيه.
٢. موطن للحيوانات البرية.

أنواع المراعي

١ المراعي الطبيعية

الغطاء النباتي الطبيعي والذي يشمل أنواع متعدد من الحشائش والشجيرات التي تفي بمتطلبات حياة الحيوانات ...

٢ المراعي الاصطناعية

• مراعي يقوم الإنسان بزراعتها باستخدام نظم ري وتسمى بالمراعي المروية.

مراجعة دورية

١. بم تفسر : أهمية المراعي الطبيعية؟

٢. ما هي : أنواع المراعي في العالم؟

٣. ضع علامة أو : تتوافر المراعي الطبيعية الفنية في الوطن العربي.

العوامل المؤثرة في تدهور الأراضي الرعوية بالوطن العربي ..

1. الممارسات الخاطئة التي يمارسها مربو الماشية كالرعي الجائر مما يؤدي إلى انكماش مساحة الغطاء النباتي وتدني كثافة النباتات الرعوية في المرعى.
2. غياب السياسات الرعوية والخطط التنموية الهادفة إلى تطوير الموارد الرعوية.
3. التوسع في الزراعات المروية على حساب مساحة المراعي.
4. التغيرات المناخية وتناقص معدلات هطول الأمطار.
5. تراجع عدد الرعاة نتيجة لسياسات توطين البدو وتحولهم للعمل بالتعدين والبترو.
6. ضعف الإرشاد الرعوي وتدني الوعي البيئي.
7. الزيادة في عدد السكان والزحف العمراني.

• لذلك لجأت بعض الدول العربية مثل مصر إلى زراعة بعض المساحات بالنباتات التي تستخدم كعلف للحيوانات مثل البرسيم والذرة لتكون بديلا للمراعي الطبيعية ويسمى ذلك بالزراعة المختلطة أي ممارسة الزراعة وتربية الحيوان في آن واحد.

أساليب إدارة الموارد الرعوية في الوطن العربي وتنميتها ..

- أ. تحديث السياسات والقوانين وتفعيلها:
 - بدأت غالبية الدول العربية بالاهتمام بسن وتحديث قوانين الموارد الرعوية وفقا لتنامي المعرفة العلمية والوعي البيئي ، فقد سنت المغرب قانون حقوق الرعي عام ١٩١٧م ، بهدف إدارة وتنمية الموارد والمحافظة عليها.

إدارة المراعي



هي علم استغلال المراعي للحصول على أعلى وأفضل المنتجات والخدمات (أعلى مردود اقتصادي) دون التأثير السلبي على هذه الموارد

ب. اعتماد النهج التشاركي (بين القطاع العام والخاص) في تنمية الموارد الرعوية وإدارتها

يجب إشراك المستفيدين من الموارد الرعوية في وضع وإعداد السياسات والاستراتيجيات والخطط والبرامج التنموية للمراعي وقد بدأت بعض الدول العربية في ذلك ، منها المغرب والتي قامت بإنشاء أكثر من ١١٦ جمعية رعوية.

ج. اعداد استراتيجيات و خطط عمل مناسبة و تنفيذها،

يتم ذلك من خلال :

- اختيار نوع الحيوان الملائم للمراعي.
- مراعاة حمولة المرعى.

د. استخدام التقنيات الحديثة ...

مثل نظم المعلومات والاستشعار من بعد و ذلك في مراقبة:

- المناطق الرعوية ودراسة حالتها خاصة في المناطق الجافة و شبه الجافة.
- الدورة الفصلية و السنوية لمناطق الرعي و تقييم التغيرات التي تطرأ عليها.
- خطة الرعي و المساعدة على ضبطها و تنفيذها و تقدير الحمولة الرعوية بالنسبة للمراعي.

هـ. بناء القدرات البشرية العاملة في مجال تأهيل المراعي و ادارتها

تهتم حكومات الدول بإعداد البرامج التدريبية بهدف :

- رفع كفاءة الرعاة و تنمية وعيهم بأهمية الرعي.
- ضرورة استخدام نظام الرعي المناسب للمرعى.

مراجعة دورية

يم تفسر : اهتمام الحكومات العربية بإعداد برامج تدريب الرعاة؟

عرف : الحمولة الرعوية؟

يم تفسر : ضرورة استخدام تقنيات الاستشعار من بعد في تنمية و إدارة الموارد الزراعية؟

ضع علامة أو : تؤدي الممارسات الخاطئة لعربو الماشية لتدهور الأراضي الرعوية.

عرف : الزراعة المختلطة؟

لماذا يم تفسر : تزايد واردات الوطن العربي من المحاصيل الزراعية؟

ضع علامة أو : لذلك لجأت بعض الدول العربية إلى زراعة مساحات بالنباتات التي

تستخدم كعلاف.

أكمل : سنت دولة قانون حقوق الرعي عام ١٩١٧م.

الثروة الحيوانية في الوطن العربي



• يقوم الزراع والرعاة بتربية أنواع متعددة من الحيوانات بما يتلاءم مع ظروف البيئة الطبيعية التي تربي فيها : فنجد أن :

أكثر الحيوانات انتشارا في الوطن العربي حيث تعد أصلي الحيوانات للرعي في الوطن العربي في المناطق الصحراوية و الجبلية و السهلية بسبب ..

الأغنام و الماعز

١. مطالبا الغذائية القليلة. ٢. قدرتها على تسلق المرتفعات.

تتركز تربيتها في عدد محدود من الدول العربية مثل .. السودان و مصر و المغرب و سوريا و الصومال و موريتانيا و السعودية لوفرة .. الحشائش و الموارد المائية.

الأبقار

• يربي في البيئات الفيضية الزراعية لأنه ..

١. لا يتحمل الجفاف حيث يحتاج إلى مجار مائية.

٢. لا يتحمل البرودة الشديدة.

• لذلك تقتصر تربيته في ..

الجاموس

١. مصر .. في الدلتا مصر الوسطى ؛ تحتل مصر المركز الأول عربيا في تربيته ٩٢,٨%

٢. العراق .. في السهول و المستنقعات الجنوبية.

توجد في معظم الأقطار العربية تقريبا و تعد الصومال أولى الدول العربية في تربيتها ؛ بنسبة ٤٠% من أعداد الإبل في الوطن العربي.

الإبل

مراجعة دورية

أكمل : أكثر الحيوانات انتشارا في الوطن العربي و

بم تفسر : تقتصر تربية الجاموس في الوطن العربي على مصر و العراق؟

ضع علامة [✓] أو [✗] : تتركز تربية الإبل في السودان دون غيرها من الدول العربية.

اللحوم

الإنتاج ومدى كفايته :

- لا يكفي إنتاج اللحوم الحمراء في الوطن العربي حاجة السكان.
- بلغت واردات الوطن العربي من اللحوم نحو 5 مليون طن عام 2012 م.
- لجأت كثير من الدول العربية لتعويض ذلك النقص من البروتين الحيواني عن طريق الدواجن والأسماك.

الدول المنتجة بالترتيب :

1. السودان.
2. الصومال.

أسباب تناقص إنتاج اللحوم في الوطن العربي :

- قلة مساحة المراعي بشكل عام وتعرضها للتدهور والاستنزاف وقلة الإنتاجية.
- استيراد الوطن العربي لكميات كبيرة من اللحوم :

1. ارتفاع مستوى المعيشة في كثير من الدول العربية.
2. زيادة الطلب على اللحوم بسبب .. زيادة السكان.

الألبان

ينتج الوطن العربي 2,8 مليون طن من الألبان عام 2011 م.

الدول المنتجة بالترتيب :

1. مصر.
2. السودان.
3. السعودية.

مراجعة دورية

1. مع علامة [] أو [X] : تعد السودان أولى الدول العربية المنتجة للألبان.
2. بمفسر : تناقص إنتاج اللحوم في الوطن العربي؟
3. اكمل : أولى الدول المنتجة للحوم هي دولة
4. بمفسر : استيراد الوطن العربي كميات كبيرة من اللحوم سنوياً؟
5. اكمل : أولى الدول المنتجة للحوم هي دولة
6. اكمل : لجأت الدول العربية لتعويض ذلك النقص من البروتين الحيواني عن طريق

الثروة السمكية ..

في العالم

• تعد الثروة السمكية أهم الثروات البحرية :

بسبب أهميتها في توفير الغذاء البروتيني للإنسان : حيث تعد أحد مجالات التنمية و القطاعات الاقتصادية المهمة التي تساهم في تحقيق الأمن الغذائي على مستوى العالم حيث يحصل الإنسان منها على ١٤% من احتياجاته من البروتين الحيواني.

المصايد السمكية في الوطن العربي

• أهمية الثروة السمكية :

١. تعد موردا مهما بالنسبة للموارد الغذائية العربية.

٢. تعتمد عليها بعض الدول العربية في ..

- إنتاج الغذاء وسد الفجوة الغذائية خاصة في مجال البروتينات الحيوانية.

- توفير فرص العمل.

- تحقيق عائدات من النقد الأجنبي نتيجة تصدير الفائض.

• المصايد السمكية

أهم الدول المنتجة	تشمل	المصايد
١. المغرب. ٢. موريتانيا.	- المحيط الهندي. - البحر الأحمر. - المحيط الأطلسي. - خليج عمان. - بحر العرب. - الخليج العربي. - خليج عدن. - البحر المتوسط	١. البحرية
١. مصر. ٢. الإمارات.	- بحيرات مصر الشمالية. - بحيرة قارون. (مصر). - بحيرة ناصر. (مصر).	٢. الداخلية
	- نهر النيل. - نهري دجلة و الفرات.	النهرية
	اهتمت الدول العربية بإنشائها و تساهم بنحو ٢٥% من الإنتاج السمكي العربي لعام ٢٠١٢م.	المزارع السمكية

الانتاج السمكي في الوطن العربي

• تعد مصر و المغرب و موريتانيا أولى الدول العربية في الإنتاج. يبلغ الإنتاج السمكي للوطن العربي حوالي ٢.٨% من الإنتاج العالمي عام ٢٠١٢ وهو إنتاج ضئيل بالرغم من طول السواحل العربية وتنوع المصايد السمكية.

اسباب ضعف الإنتاج السمكي في الوطن العربي

١. استخدام الوسائل البدائية في الصيد وعدم وجود أساطيل صيد حديثة مجهزة.
٢. قلة تعاريج السواحل ومن ثم قلة موانئ الصيد أحيانا.
٣. ضيق الأرصفة القارية في بعض البحار والخلجان العربية.
٤. تحول كثير من الصيادين في دول الخليج العربي من حرفة الصيد إلى العمل بالتعدين واستخراج البترول.
٥. ضعف الاهتمام بالصيادين.

مساهمة الإنتاج السمكي للوطن العربي في التجارة الدولية

• رغم قلة إنتاج الوطن العربي من الأسماك إلا أنها تعد من أكثر السلع العربية الغذائية المتداولة في التجارة الدولية بعد الخضار والفاكهة. ترتيب الدول العربية المصدرة للأسماك لعام ٢٠١٢ م :

١. المملكة المغربية ... ٤٠.٩%.
٢. موريتانيا ... ١٦.٣%.
٣. اليمن ... ١٥.٩%.
٤. عمان ... ١٣.٢%.

وسائل تنمية الإنتاج السمكي في الوطن العربي

١. استخدام أساطيل الصيد الحديثة.
٢. إصدار القوانين الخاصة بالصيد البحري وحمايته.
٣. التوسع في إنشاء المزارع السمكية.
٤. دعم التعاون العربي في مجال صيد الأسماك.
٥. التنمية المهنية للصيادين .. من خلال عقد الندوات وورش العمل لرفع الوعي بأهمية الصيد.

مراجعة على الدرس الثاني

عرف ما يلي

١. إدارة المراعي.
٢. الحمولة الرعوية.
٣. الأمن الغذائي.
٤. التنمية الزراعية المستدامة.

بم تفسر

١. انخفاض الاستثمارات في مجال الزراعة على مستوى العالم؟
٢. تزايد واردات الوطن العربي من المحاصيل الزراعية؟
٣. تدهور معظم الأراضي الزراعية والرعوية بالوطن العربي؟
٤. تركيز تربية الجاموس في مصر والعراق؟
٥. أهمية الإنتاج السمكي للدول العربية؟
٦. ضآلة إنتاج الوطن العربي من الأسماك رغم طول سواحله على البحار والمحيطات؟

ما مقترحاتك لـ

تنمية الثروة الزراعية والحيوانية والسمكية بالوطن العربي بما يحفظ حق الأجيال المستقبلية فيها؟

ضع علامة (✓) أو (x) فيما يلي مع ذكر السبب

١. الحبوب الغذائية من أكثر المحاصيل الزراعية إنتاجاً وأقلها استيراداً بالوطن العربي. ()
٢. الأبقار والجاموس من أكثر الحيوانات انتشاراً بالوطن العربي. ()
٣. يتميز الوطن العربي بالإنتاج السمكي الضخم نظراً لطول سواحله. ()

٥ برهن على صحة ما يلي

١. تقتصر بعض الدول العربية للمراعي الطبيعية؟
٢. يعاني الوطن العربي من أزمة غذاء؟
٣. الزراعة العضوية تحمي البيئة من التلوث؟
٤. يفتقر الوطن العربي للمصايد البحرية؟

٦ ماذا يحدث إذا

١. تم إزالة جميع المراعي الطبيعية بالعالم؟
٢. كانت عدد الحيوانات أكبر من مساحة المرعى؟
٣. جرت الأنهار في كل دول الوطن العربي؟
٤. اتجهت الدول العربية نحو الزراعة العضوية؟

٧ ما رأيك في

١. استخدام تقنيات نظم المعلومات الجغرافية والاستشعار من بعد في التنمية الزراعية؟
٢. استخدام الأسمدة الكيماوية لزيادة الإنتاج الزراعي؟
٣. تجربة أوغندا الزراعية.

٨ اقرأ ثم اجب

"اتجهت كثير من دول العالم لاستخدام بعض المحاصيل الزراعية لتوليد الطاقة مما تسبب في أزمة غذاء حول العالم"

على ضوء العبارة السابقة وضح ما يلي ..

١. أهم المحاصيل الزراعية المستخدمة في توليد الطاقة؟
 ٢. أسباب أزمة الغذاء في العالم؟
- رأيك في زراعة المحاصيل المنتجة للطاقة أم زراعة الحبوب الغذائية؟

التنمية الصناعية

الدرس الثالث

موضوعات الدرس

الصناعة في الوطن العربي

الصناعة في الدول النامية

الصناعة وأسس تصنيفها

الصناعة هي تحويل المواد الخام من صورتها الأولية إلى صورة أكثر فائدة.

بعد القطاع الصناعي هو قاطرة التنمية الاقتصادية لأنه :

1. تتمتع الصناعة بروابط قوية مع القطاعات الاقتصادية كالزراعة والخدمات.
2. الصناعة لديها إمكانيات كبيرة لتوفير فرص كثيرة للعمال.
3. الصناعة وسيلة مهمة لنقل التكنولوجيا وجذب الاستثمارات الأجنبية.

١ مقومات الصناعة

- أ. طبيعية : المواد الخام ، مصادر الطاقة ، الموقع المتميز.
- ب. بشرية : الأيدي العاملة ، وسائل النقل والمواصلات ، رأس المال ، السوق.

٢ أسس تصنيف الصناعة



* تتشابه هذه التصنيفات معا ، فعلى سبيل المثال ،

- صناعة السكر : تعد صناعة زراعية - استهلاكية - خفيفة - تحويلية.
- صناعة الحديد والصلب : تعد صناعة معدنية - إنتاجية - ثقيلة - تحويلية.

مراجعة دورية

ضع علامة [X] أو [] ، تعد السودان أولى الدول العربية المنتجة للأنبان.

نسباً يتم تفسير : الصناعة هي قاطرة التنمية؟ عرف : الصناعة.

٢٢ اقاليم الصناعة



١. شمال شرق الولايات المتحدة.

٢. غرب أوروبا.

٣. اليابان.

٤. غرب الاتحاد السوفيتي

سابقا (روسيا و أوكرانيا).

توجد بعض المناطق

الصناعية في بعض الدول مثل مصر و جنوب إفريقيا و شرق أمريكا الجنوبية و غرب أمريكا الشمالية.

استغلها
٢٩

نطاق القوى المحركة

الامتداد: في العروض الوسطى من المسيبي غربا في أمريكا الشمالية إلى أوروبا.

ثم جبال الأورال شرقا في روسيا الاتحادية.

والخصائص:

١. يستهلك نحو ٩٠٪ من جملة الطاقة المحركة في العالم سنويا من الفحم و البترو و الغاز الطبيعي و الكهرباء و الطاقة النووية.

٢. ينتج هذا الإقليم معظم إنتاج العالم من الصناعات الثقيلة: مثل الحديد و الصلب و الآلات و بناء السفن و السيارات و القاطرات و الصناعات الميكانيكية.

الصناعة في الدول النامية

شهد الإنتاج الصناعي العالمي تحولا تدريجيا من البلدان المتقدمة إلى البلدان النامية للاستفادة من ..

١. توفر المادة الخام و العمالة الرخيصة.

٢. البنية الأساسية الجيدة.

٣. النفقات الاجتماعية الأقل.

٤. الأسواق الكبيرة في بعض الدول

مراجعة دورية

ضع علامة أو : يمتد نطاق القوى المحركة من المسيبي شرقا إلى الأورال غربا.

أيضا بم تفسر : تحول الإنتاج الصناعي للبلدان النامية؟ ٢٦ عرفها : نطاق القوى المحركة.

أيد بالأدلة صحة ما يلي : يستهلك نطاق القوى المحركة معظم الطاقة في العالم.

١ أسباب اهتمام الدول النامية بالصناعة

١. معظم الدول النامية دولاً زراعية والتصنيع ضرورياً ومكملاً للقطاع الزراعي فالإنتاج الصناعي يمد قطاع الزراعة باحتياجاته، مثل الآلات والأسمدة.
٢. تقليل الاستيراد من الخارج وتشجيع الصناعات الوطنية مما يحقق فائض يساهم بالتصدير وتوفير العملات الأجنبية.
٣. زيادة القدرة الصناعية للدولة يعمل على زيادة قوتها العسكرية.
٤. الدول النامية تعاني من زيادة سكانية والقطاع الصناعي قادر على استيعاب العمالة وبالتالي تخفيف البطالة.

٢ معوقات الصناعة في الدول النامية

المعوقات الداخلية

١. ضعف كفاءة الأيدي العاملة ونقص الخبرات الفنية.
٢. استخدام وسائل تكنولوجية قديمة في الإنتاج مما يؤدي إلى ارتفاع تكاليف الإنتاج وبالتالي عدم القدرة على منافسة المنتجات المستوردة.
٣. قلة رؤوس الأموال الوطنية.

المعوقات الخارجية

١. الممارسات التجارية للدول المتقدمة، عن طريق فرض التعريفات الجمركية على واردات الدول النامية.
٢. الضغوط التي تمارسها الشركات متعددة الجنسيات على السياسات الاقتصادية للدول النامية.
٣. المعونات والائتمانيات التجارية، عن طريق فرض التعريفات الجمركية.

الشركات متعددة الجنسيات



هي الشركات التي تمارس نشاطها في دولتين أجنبيتين أو أكثر وتزيد مبيعاتها السنوية عن ١٠٠ مليون دولار.

فالدول الصغيرة تتلقى المعونات من أجل إقامة المشروعات الصناعية؛ وقد تكون هذه المعونات معيقاً لعملية التنمية في هذه الدول نظراً للشروط التي تفرضها الدول المقدمة للمعونات.

٤. **المشاكل الاجنبية** التي تفيد اقتصاديات الدول النامية ، إلا أن زيادتها في العقد الأخير أدى إلى تراجع **المشروعات الصناعية** بسبب عجز هذه الدول على سداد أعباء الديون.

• ينصح مما تقدم أن التنمية في البلاد النامية امر صعبا و مرهنا يجب



اليونيدو

- تأسست عام : ٧ نوفمبر ١٩٦٦ م.
- مقرها : فيينا - النمسا.
- هي وكالة متخصصة تابعة للأمم المتحدة
- أهدافها :
- ١. دعم التنمية الصناعية في الدول النامية ذات الاقتصاد المتغير.
- ٢. دعم وتمويل مشروعات التنمية الصناعية الصغيرة والمتوسطة.

• **التخطيط الصناعي** : كأسلوب علمي منظم لتوزيع الموارد وتوجيه النشاط الصناعي.

• **التدخل الحكومي** : كأداة لضمان تنفيذ الخطة وتحقيق الأهداف المقررة.

• **مساعدة المنظمات الدولية** : التي تعمل على مساعدة الدول النامية و الفقيرة لتنمية القطاع الصناعي بها.

مراجعة دورية

١. **بم تفسر** : اهتمام الدول النامية بالصناعة؟

٢. ضع علامة أو : عملية التعدين في الدول النامية صعبة و مكلفة.

٣. **بم تفسر** : اتجاه الدول المتقدمة للاستثمار في الدول النامية؟

٤. **عرف** : الشركات متعددة الجنسيات.

٥. **أيد بالأدلة صحة ما يلي** : يستهلك نطاق القوى المحركة معظم الطاقة في العالم.

٦. **بم تفسر** : تسعى الدول النامية منذ استقلالها إلى تحويل اقتصادها إلى تحويل اقتصاديتها

إلى الطابع الصناعي؟

٧. **بم تفسر** : تحوق المعونات و الاتفاقيات التجارية عملية التنمية في الدول النامية؟

الصناعة في الوطن العربي

1. الصناعات الاستخراجية

• تشمل الصناعات الاستخراجية في الدول العربية ..

١. استخراج النفط والغاز الطبيعي.

٢. الخامات المعدنية مثل الحديد والزنك.

٣. الخامات غير المعدنية مثل الفوسفات و

البوتاس.

القبة المضافة



الفرق بين قيمة المنتج النهائي ومستلزمات إنتاجه (المواد الخام - مصادر الطاقة - الأجور...)

• بلغت القيمة المضافة للصناعات الاستخراجية في الدول العربية حوالي ..
تريليون دولار عام ٢٠١١م.

• تحسن أداء الصناعات الاستخراجية عام ٢٠١٣ م في جميع الدول العربية باستثناء ..
السودان وسوريا وليبيا : نظراً للظروف السياسية التي مرت بها هذه الدول.

2. الصناعات التحويلية

• رغم تنوع الصناعات

التحويلية بالوطن

العربي إلا أن معظمها

صناعات استهلاكية.

• أهم الصناعات

التحويلية بالوطن

العربي تتمثل في ..

الأسمنت والحديد والصلب والألمنيوم صناعات تكرير البترول والبتروكيماويات

صناعة الأسمدة والسكر.



• بلغت القيمة المضافة للصناعات التحويلية حوالي ٢١٣.٤ مليار دولار عام ٢٠١١م

الجزائر ، السعودية.

أكبر الدول العربية في الصناعات التحويلية ..

يعاني قطاع الصناعات التحويلية العربية من ضعف في المساهمة في الناتج المحلي الاجمالي حيث لم تتعد 10% خلال الفترة من 2009 إلى 2013م يرجع ذلك إلى .. الصعوبات و المعوقات التي تواجهها الصناعات التحويلية في الدول العربية.

معوذات الصناعة التحويلية في الوطن العربي

1. تنافس الصناعة العربية فيما بينها وعدم وجود تكامل بينها.
2. صغر حجم الأسواق العربية نظرا لانخفاض المستوى المعيشي للسكان وارتفاع أسعار السلع المحلية.
3. نقص الكوادر البشرية المؤهلة من الخبرات الفنية والتكنولوجية.
4. عدم توافر البنية التحتية الصناعية.
5. عدم استقرار السياسات الحكومية في بعض الأقطار العربية تجاه قضايا اقتصادية عديدة .. منها .. آلية السوق وملكية وسائل الإنتاج وتشغيل القوى العاملة وحماية الصناعة الوطنية وغيرها.
6. الإهمال النسبي للبحث العلمي في المنشآت الصناعية بالعديد من الأقطار العربية.
7. غياب الاستراتيجيات التنموية الصناعية التكاملية بين الدول العربية.

مراجعة دورية

- أكمل : أكبر الدول العربية في الصناعات التحويلية و..... .
- ضع علامة أو : أكبر الدول تطورا في الصناعات التحويلية مصر يليها سوريا.
- هم تفسر : لم تشهد الصناعات الإستخراجية تطورا في ليبيا و السودان؟
- عرف : القيمة المضافة.
- يد بالأدلة صحة ما يلي : تواجه الصناعة الإستخراجية عقبات عدة.
- هم تفسر : تشمل الصناعات الإستخراجية استخراج الرخام و الجرانيت من المحاجر.
- أكمل : تحسنت الصناعات الإستخراجية في الدول العربية باستثناء و و..... .
- ضع علامة أو : الصناعات التحويلية أكثر إسهاما من الإستخراجية في الناتج.

استراتيجية تنمية الصناعة في الوطن العربي

١. توفير نظم معلومات لجمع وتبويب وتحليل المعلومات عن القطاعات الصناعية المختلفة.

المنظمة العربية للتنمية الصناعية والتعدين - الإيدمو -

الإيدمو

• هي منظمة عربية متخصصة في مجال الصناعة والتعدين، تعمل في إطار جامعة الدول العربية.
• مقرها: الرباط بالمغرب.
• أهم أهدافها:

١. تحقيق التنسيق والتكامل الصناعي العربي.

٢. تنمية وتطوير الصناعة في الوطن العربي.

٣. التخطيط لدعم وإقامة المشروعات الصناعية.

٤. تشجيع التعاون بين الدول العربية والدول النامية والمتقدمة في مجال الصناعة والتعدين.

٢. توحيد المواصفات القياسية للمنتجات الصناعية والمواد الوسيطة.

٣. التعاون في مجال التدريب المهني والتعليم الفني الصناعي.

٤. التعاون في مجال البحث العلمي والتطوير التكنولوجي.

٥. السعي لتحقيق التكامل الاقتصادي.

٦. الاهتمام بالصناعات الخضراء لحماية البيئة ومواردها.

٧. الاهتمام بإنشاء المجمعات الصناعية - المدن الصناعية.

الصناعات الخضراء

تعمل على تلبية الاحتياجات الإنسانية والتنمية الاجتماعية والاقتصادية دون الإضرار بالبيئة والموارد الطبيعية، من خلال حسن الاستفادة من المصادر المتجددة وتدوير المواد وتقليل النفايات وإعادة الاستخدام للتقليل من التلوث من ناحية، تحسين مما كفاءة الطاقة من ناحية أخرى.

مراجعة دورية

١. أكمل: مقر منظمة الإيدمو مدينة

٢. ضع علامة أو : الإيدمو منظمة عالمية تعمل تحت مظلة الأمم المتحدة.

٣. ناقش: أهمية الصناعات الخضراء؟
٤. ما هي أهداف منظمة الإيدمو.

تربية المجمعات الصناعية في المملكة العربية السعودية.

انتهجت استراتيجية إقامة مجمعات صناعية ضخمة تعتمد على الصناعات الأساسية المرتبطة بإنتاج البترول وفي هذا الإطار أقيم مجمعان صناعيان هما ..

مجمع الجبيل الصناعي.

• أنشئت مدينة الجبيل عام ١٩١٠ م على الخليج العربي.

• تبلغ مساحتها حوالي ٩٣٠ كيلو متر مربع وتعتبر من أكبر المدن الصناعية في العالم.

• يوجد بها عدد من المجمعات الصناعية الخاصة بالبتر وكيمائيات والصناعات الأساسية والثانوية وتضم المدينة ميناءين بحريين هما .. ميناء الجبيل التجاري ، ميناء الملك فهد الصناعي.

مجمع ينبع الصناعي.

• تتميز مدينة ينبع بموقعها التاريخي على طرق القوافل التجارية القديمة وميناءها الطبيعي على ساحل البحر الأحمر ونظرا لموقعها الجغرافي المهم فقد تم اختيارها لتكون الميناء الغربي لتصدير البترول والغاز الطبيعي للمملكة العربية السعودية.

• تعتبر مدينة ينبع الصناعية من أهم المجمعات الصناعية للبتر وكيمائيات في المملكة وقد نمت مدينة ينبع الصناعية نمواً سريعاً في أقل من عقدين من الزمن.

ولذلك تعتبر السعودية أكبر الدول العربية الجاذبة للاستثمارات.

مراجعة دورية

أكمل : تعتبر أكبر الدول العربية الجاذبة للاستثمارات.

ضع علامة [✓] أو [✗] : تتميز مدينة ينبع بوجود ميناءين بحريين هامين.

ناقش : أهمية المجمعات الصناعية وتأثيرها على قيام الصناعة؟

جاء في : أهم الصناعات القائمة في مدينة الجبيل.

مراجعة على الدرس الثالث

عرف ما يلي

١. تحويل المادة الخام **مصدرة** لها **الأولى** المصدرة أكثر ما نملكه
 ٢. الفرق بين قيمته الممنوحه الزطئي ومستلزمات انتاجه
 القيمة المضافة.

بم تفسر

١. اعتبار القطاع الصناعي هو قاطرة التنمية الاقتصادية. الإصدار
 ٢. يطلق على نطاق الأقاليم الصناعية الكبرى اسم نطاق القوى المحركة؟

٢. اتجاد الدول المتقدمة للاستثمار الصناعي في الدول النامية؟ لا استفادكم
 ١- توسع المادة الخام - السلع الأساسية
 ٢- اهتمام الدول النامية بالتصنيع
 ٣- تقليل الاستثمار الخارج - زيادة القدرة التنافسية للصناعة
 ٤- ضعف مساهمة قطاع الصناعات التحويلية في الناتج المحلي الإجمالي بالدول العربية؟
 ٥- ضعف الأسواق العربية
 ٦- ضعف الاستثمار في قطاع السلع الحديثة
 ٧- نقص الكوادر الفنية
 ٨- انخفاض المستوى المعيشي
 ٩- ضعف البنية التحتية

١. مجمع الجبيل الصناعي من المجمعات الصناعية الخاصة ب... **البحرين**
٢. من المعوقات الداخلية لقيام الصناعة في الدول العربية ضعف البنية التحتية وال...
٣. توجد مناطق صناعية في بعض دول أفريقيا مثل **مصر** و **جنوب إفريقيا**
٤. تحسن أداء الصناعات الإستخراجية في عام ٢٠١٣ في جميع الدول العربية باستثناء السودان وسوريا و **ليبيا** بسبب الظروف السياسية.
٥. تضم الأقاليم الصناعية الكبرى في العالم عدة دول منها **عربها** و **الولايات المتحدة**
٦. تمتد الأقاليم الصناعية من **الشرق** حتى **الغرب**
٧. تستهلك الأقاليم الصناعية الكبرى ... **٩٠** % من جملة الطاقة المحركة في العالم.
٨. تعد مدينة **بيليج** الصناعية من أهم المجمعات الصناعية بالسعودية.

تصدرت دولة قائمة الدول العربية المنتجة لـ كصناعة استخراجية عام

١٠. انتهجت السعودية انتهجت السعودية إقامة مجموعات صناعية ضخمة فأقامت مجمع

الجبل ... و. ينبع الصناعيه

- ١١. تنقسم الصناعة في الوطن العربي إلى إستراتيجية و تحويلية.
- ١٢. من الصناعات التحويلية في الوطن العربي الاصطناع و الحديد.

تعتبر مدينة جبيل ... أكبر مدن العالم الصناعية.

١٤. اختيرت مدينة جبيل ... لتكون الميناء الغربي لتصدير البترول والغاز الطبيعي بالسعودية.

١٥. تعتبر دولة السعودية هي أكثر الدول العربية الجاذبة للاستثمارات.

١٦. مقر منظمة الأيدمو مدينة الرياض بالمغرب

٤ **برهن على أهمية الصناعة في تحقيق التنمية الاقتصادية:**
 ١. أهمية الصناعة في تحقيق التنمية الاقتصادية؟
 ٢. للقروض الأجنبية آثار سلبية على الصناعة؟ بسبب عجز الدول عن سد أعباء

٣. نجحت السعودية في إقامة مجموعات صناعية تنافس بها الصناعات الدولية؟
 ٤. يؤثر التخطيط الصناعي على التنمية الصناعية بالدولة؟
 حيث أنه له أسلوبه الخاص في توزيع الموارد

٥ **بين العلاقة بين كلاهما يلي:**
 هذين هما تطوير الصناعة و النمو الصناعي.
 منظمة اليونيدو ومنظمة الأيدمو

معوقات الصناعة في الدول النامية والدول العربية.

٦ **ما العلاقة بين:**
 ١. البترول في السعودية والصناعة؟
 حيث أنتهجت إستراتيجية إطلاق مشروعات أبحاث

٢. منظمة اليونيدو والصناعة في الدول النامية؟
 صنعه أهداف دعم التنمية الصناعية
 فالدول النامية ذات الإقتصاد المتغير

التنمية السياحية

الدرس
الرابع

ميزان اطفوعان



سجل محاسبي مستظ
لكافة التعاملات الاقتصادية التي
تتم بين المقيمين في الدولة
المقيمين خارجها خلال عام.

صناعة السياحة

اهمية

١. أهم مصادر الدخل القومي.

٢. أهم مكونات الصادرات الخدمية ذات
التأثير في ميزان المدفوعات.

٣. مصدر هام للعملات الأجنبية.

السياحية في العالم

الإقليم

١. إقليم أوروبا السياحي ... بلغت نسبة السائحين الذين وفدوا إلى أوروبا ٥١,٧% من إجمالي السائحين عام ٢٠١٢ م وهو بذلك في مقدمة الأقاليم السياحية جذب بسبب ..

- ارتفاع أعداد السائحين بين الدول الأوربية بعضها مع بعض.

- سهولة الحصول على تأشيرة الدخول إلى الإقليم.

- ارتفاع مستوى دخل المواطن الأوربي وتعليمه وثقافته.

٢. إقليم آسيا والمحيط الهادي السياحي ... يأتي في المركز الثاني : حيث

بلغت نسبة السائحين الذين استقبلهم الإقليم ٢٢% مما يعكس مدى اهتمام الإقليم بالسياحة.

٣. إقليم الشرق الأوسط السياحي ... انخفض عدد السائحين الوافدين لإقليم الشرق الأوسط السياحي من ٦,٤% عام ٢٠١٠ م إلى ٤,٨% عام ٢٠١٢ م ويرجع ذلك

لعدم الاستقرار الأمني والسياسي في كثير من دول الإقليم.

زيادة عدد السائحين الوافدين إلى البلد المضيف مؤشرا جيدا على مدى تقدم وازدهار صناعة السياحة على مستوى العالم.



في الوطن العربي

السياحة

يزخر الوطن العربي بالعديد من المعالم الأثرية التي ساعدت على جذب السياح.

انماط السياحة العربية

- | | | |
|--------------------|----------------|--------------------------------|
| 1. سياحة دينية : | المسجد النبوي. | (السعودية) . |
| 2. سياحة ترفيهية : | برج خليفة. | (الإمارات) ، السفاري في مصر. |
| 3. سياحة ثقافية : | مسرح بصرى. | (سوريا) . |
| 4. سياحة بينية : | مقارة جعيتا. | (لبنان) . |

مراجعة دورية

1. عرف : ميزان المدفوعات.
2. بم تفسر : أهمية قطاع السياحة في اقتصاد أي دولة؟
3. بم تفسر : تراجع أعداد السائحين في إقليم الشرق الأوسط؟
4. أكمل : زيادة عدد السائحين الوافدين إلى البلد المضيف مؤشرا جيدا على
5. ضع علامة أو : يتصدر إقليم أوروبا السياحي تصنيف أقاليم السياحة في العالم
6. ماهي : أنواع السياحة العربية؟
7. أكمل : تعتبر زيارة مقارة جعيتا من أنواع السياحة
8. أكمل : يعد برج خليفة من مجالات السياحة
9. عرف : السياحة العلاجية؟
10. بم تفسر : تزايد أعداد السائحين في إقليم آسيا والمحيط الهادي؟

منظمة السياحة العربية

- تأسست المنظمة عام ٢٠٠٥ م.
- المقر: مدينة جدة بالسعودية لتكون مقراً لها.
- أهداف المنظمة:

١. وضع الخطط والسياسات التنموية للسياحة العربية مع إلغاء التأشيرات المسبقة.
٢. ترجمة قرارات المجلس الوزاري العربي للسياحة إلى سياسات وخطط للنهوض بصناعة السياحة عربياً.

السياحة العربية

مفوقات

١. ضعف البنية التحتية الخاصة بالقطاع السياحي.
٢. ضعف القدرات الاقتصادية على مستوى الوطن العربي.
٣. ضعف التسويق للمنتج السياحي العربي.
٤. عدم ظهور الوطن العربي على الخريطة العالمية كتكتل اقتصادي مثل الاتحاد الأوربي.
٥. ضآلة نمو الوعي السياحي في المجتمع المحلي.
٦. الافتقار إلى التخطيط الاستراتيجي للتنمية.
٧. فقدان الأمن والاستقرار السياسي في بعض الدول العربية عقب الثورات العربية.

مراجعة دورية

- أكمل ، مقر منظمة السياحة العربية مدينة
- ما هي ، مفوقات السياحة العربية؟
- أكمل ، تعد أهم مكونات الصادرات الخدمية .
- مفسر ، إنشاء منظمة السياحة العربية؟
- أكمل ، يعد زيارة من أهم المعالم السياحية الموجودة بسوريا .
- ضع علامة [X] أو [] ، قيام الثورات العربية من عوامل تشجيع السياحة العربية .

نظرا لأهمية النشاط السياحي باتت كثير من الدول تستهدف تحقيق التنمية السياحية المستدامة . التي تتمثل أهدافها فيما يلي :

أهداف التنمية السياحية المستدامة

١. زيادة مستويات الدخل وتحسين ميزان المدفوعات بالدولة.
٢. تعميق العلاقات السياسية بين الحكومات في الدول السياحية.

التنمية السياحية المستدامة



نشاط يحافظ على البيئة و يحقق التكامل الاقتصادي والاجتماعي ويرتقي بالبيئة المعمارية.

٣. حماية البيئة وزيادة الاهتمام بالموارد الطبيعية والموروثات الثقافية للمجتمع
٤. تحقيق العدالة على مستوى الجيل الواحد وكذلك بين الأجيال المختلفة من حيث الحق في الاستفادة من الموارد البيئية وتوزيع الدخل إلخ.
٥. توفير فرص جديدة للاستثمار وبالتالي فرص عمل.
٦. تحسين البنية الأساسية والخدمات العامة في المجتمعات المستقبلية للسائحين.
٧. توفير أسواق جديدة للمنتجات المحلية.

تنمية السياحة

أساليب

١. الاهتمام بالتخطيط السياحي و ذلك لكونه منهجاً علمياً لتنظيم و إدارة النشاط السياحي.
٢. الاهتمام بتطوير البنية التحتية (المياد والكهرباء)
٣. تطوير المنشآت والخدمات السياحية.

التخطيط السياحي



نوع من أنواع التخطيط التنموي : يعني رسم صورة مستقبلية للنشاط السياحي في دولة معينة وفي فترة محددة.

٤. استخدام الأساليب التكنولوجية الحديثة كالإنترنت في التسويق السياحي (التسويق الإلكتروني) .

٥. الاهتمام ببرامج التنمية البشرية للعاملين في مجال السياحة.

٦. الاهتمام بالأماكن الأثرية وترميمها.

٧. تشجيع القطاع الخاص وقطاع الأعمال على الاستثمار خاصة في المناطق السياحية الجديدة.

٨. استحداث أنماط سياحية جديدة تعتمد على التنمية المستدامة.

المنتجات والقرى السياحية

١. سياحة المغامرات (السفاري):

تستهوي سياحة المغامرات الكثير من المغامرين حيث يسعون للسفر إلى بعض المناطق كالصحاري والجبال والغابات ومناطق الثلج حياً في المغامرة وبحثاً عن هذا النوع من الاستمتاع رغم خطورته في بعض الأحيان.

٢. سياحة الرياضات البحرية:

يعتمد هذا النوع من السياحة على وجود الماء (البحار أو البحيرات) ، وتتفاوت المدة التي يقضيها السائح في ممارسة الرياضات البحرية المختلفة مثل .. الغوص، التزلج على الماء، العوم، سباق اليخوت أو القوارب وصيد الأسماك إلخ.

٣. سياحة الجوافر:

نمط سياحي يهدف إلى تشجيع العاملين بالشركات الكبرى ؛ يحفزهم على مزيد من الإنتاج والأداء الجيد في وظائفهم وذلك عن طريق تنظيم رحلات سياحية كمكافأة لهم على حسن أدائهم أو تحقيقهم نسبة عالية في تسويق سلعة معينة.

مراجعة دورية

١. أكمل : تهدف التنمية السياحية إلى زيادة وتحسين

٢. ما هي أهداف التنمية السياحية؟

٣. ما رأيك : في التسويق الإلكتروني للسياحة.

٤. عرف : التخطيط السياحي.

٥. ما مقترحاتك : لتحقيق التنمية السياحية؟

التنمية السياحية المستدامة في غانا ..

تعد تجربة غانا إحدى التجارب التي يمكن الاقتداء بها في مجال التنمية السياحية المستدامة حيث اهتمت بوضع استراتيجيات سياحية لاستثمار المناطق التراثية وذلك من خلال ..

1. تحديد مشروعات التنمية السياحية ذات الأولوية في التنفيذ.
2. إعداد دراسات الجدوى المختلفة لها.
3. تدريب العاملين في القطاع السياحي.
4. تبني برنامج لحماية وصيانة الأماكن التاريخية مثل القلاع والحصون و طريق العبيد السياحي.
5. إعداد برنامج لحماية الحياة البرية عن طريق إنشاء منتزهات قومية بوصفها محميات طبيعية مثل منتزه كاكوم القومي.

ترتب على هذه التجربة ..

1. توفير فرص للعمالة.
2. زيادة الدخل عن طريق فرض رسوم دخول إلى الآثار والأماكن المحمية و كذلك من بيع التحف و التذكارات المحلية.
3. خلق سوق جديد للسياحة.

مراجعة دورية

1. ما هي معالم تجربة غانا السياحية؟
2. عرف سياحة الحوافز.
3. ما نتائج تجربة غانا السياحية؟
4. دلل جغرافيا ، تتعدد الأنماط السياحية الجديدة.
5. كيف يمكن الاستفادة من تجربة غانا السياحية في السياحة المصرية؟
6. كيف نجحت غانا في زيادة الدخل من خلال قطاع السياحة؟

مراجعة على الدرس الرابع

١ عرف ما يلي

١. سياحة مغامرات.
٢. ميزان المدفوعات.
٣. التنمية السياحية المستدامة.

٢ بم تفسر

١. انخفاض أعداد السائحين في إقليم الشرق الأوسط السياحي؟
٢. أسست الدول العربية منظمة خاصة بالسياحة؟
٣. أهمية التخطيط السياحي؟
٤. اهتمام دول العالم بالتنمية السياحية المستدامة؟

٣ ضع علامة (✓) أو (x) فيما يلي مع ذكر السبب

١. تعد السياحة من الأنشطة الخدمية المهمة. ()
٢. أوروبا أكبر الأقاليم السياحية الجاذبة في العالم. ()
٣. من الأنماط السياحية الحديثة نمط سياحة الحوافز. ()
٤. لم تستفد غانا من تجربة التنمية السياحية المستدامة. ()

٤ ما العلاقة بين

١. السياحة والدخل القومي؟
٢. الاستقرار السياسي للدولة والنشاط السياحي؟

٥ اقرأ ثم اجب عما يلي

((يزخر الوطن العربي بالعديد من المقومات السياحية والعالم الأثرية التي تساعد على جذب السياح وتنوع أنماط السياحة به))

في ضوء هذه العبارة وضح ..

١. أهداف منظمة السياحة العربية؟
٢. مقترحاتك لتنمية السياحة العربية؟
٣. الأنماط السياحية الجديدة التي تجذب السائحين؟

الوحدة الرابعة

جغرافية التنمية البشرية



١ ماهية التنمية البشرية

٢

مؤشرات التنمية البشرية

٣ نماذج تنموية رائدة

٤

مستقبل التنمية في وطننا العربي

جغرافية التنمية البشرية

الاهداف الوحدة

في نهاية الوحدة يكون الطالب قادرا على أن ..

١. يعطي تعريفاً صحيحاً لكل مما يلي : التنمية البشرية ، الفقر متعدد الأبعاد.
٢. يعدد أبعاد التنمية البشرية.
٣. يميز بين استراتيجيات التنمية البشرية.
٤. يستنتج أهمية مؤشرات ومقاييس التنمية.
٥. يصنف مؤشرات التنمية البشرية وفقاً لأبعادها.
٦. يقرأ خرائط توزيع (متوسط نصيب الفرد من الدخل القومي معدل الأطباء) في الوطن العربي.
٧. يحلل العلاقات المتبادلة بين الفقر والدخل والصحة والتعليم.
٨. يقيم أثر برامج التنمية الاقتصادية على مستوى التنمية البشرية.
٩. يستنتج أوجه التشابه بين معالم التنمية في دولتي ماليزيا والبرازيل.
١٠. يحدد مقومات وتحديات التنمية في الوطن العربي وفقاً لأهميتها من وجهة نظره.

جغرافية التنمية البشرية

ماهية التنمية البشرية

الدرس
الأول

التنمية البشرية

أولاً

تعريف التنمية البشرية .. عملية إعداد وتوجيه واستثمار الموارد البشرية ، في كافة قطاعات .. التعليم والإعلام والثقافة والصحة والبيئة ، بهدف التحسين المستمر لمستوى رفاهية الفرد وتحقيق أهداف المجتمع.

• **ساد مفهوم التنمية البشرية منذ** العقد الأخير من القرن العشرين نتيجة لاهتمام الاقتصاديين برأس المال البشري (الأيدي العاملة) ؛ حيث أن تنمية الطاقة البشرية تعد : - أساس عملية التنمية في أي مجتمع .
- أهم عناصر الإنتاج .

• **لم تعد التنمية البشرية مجرد زيادة في دخل الفرد وإنما اتسع مفهومها ليشمل ..**

- الاهتمام بالمستوى التعليمي والصحي والسياسي والثقافي .

- التأكيد على تمكين المرأة اقتصاديا وسياسيا وثقافيا .

أهداف التنمية البشرية

ثانياً

١. الاهتمام بالتعليم والثقافة لإعداد إنسان قادر على التفكير الإبداعي .
٢. تحسين المستوى الصحي ونشر الثقافة الصحية بين أفراد المجتمع .
٣. تحسين مستوى المعيشة من خلال زيادة متوسط دخل الفرد .
٤. إثراء تواصل الفرد بالمجتمع بشكل أخلاقي ومؤثر .
٥. تأهيل الفرد وإكسابه المهارات المطلوبة لسوق العمل مثل .. القيادة وإدارة الوقت

ترتكز التنمية البشرية على ثلاثة أبعاد متداخلة وهي: التعليم، الصحة، الدخل

١ التعليم

• تولي دول العالم اهتماما كبيرا بالتعليم حيث تهتم بـ ..

١. التعليم بكافة أشكاله بداية من محو الأمية والتعليم الأساسي ثم الثانوي والظني وكذلك التعليم العالي .. الذي يعمل على بناء القيادات والكفاءات.
٢. المساواة وتكافؤ الفرص في التعليم بين الذكور والإناث.
٣. البحث العلمي ومواكبة المعرفة التكنولوجية.
٤. إعداد وتطبيق البرامج التدريبية.

٢ الصحة

• تعد الصحة من أهم أبعاد التنمية البشرية حيث ؛

أ تهتم بـ ..



- رفع متوسط الأعمار.
- انخفاض معدلات وفيات الأطفال.
- توفير مياه الشرب النقية والمرافق الصحية.
- رعاية الأمومة والطفولة والمعاقين.
- الصحة الوقائية والخدمات العلاجية.

ب. تعمل على ..

رفع إنتاجية البشر وبالتالي تزداد دخولهم ويزداد استيعابهم العلمي مما يساهم في رفع مستوى التنمية البشرية.

مراجعة دورية

عرف : التنمية البشرية.

٢ ما هي : أهداف التنمية البشرية.

ضع علامة أو : يقتصر مفهوم التنمية البشرية على زيادة الدخل.

أكمل : ساد مفهوم التنمية البشرية منذ العقد الأخير من القرن ..

٣ ما هي : أبعاد التنمية البشرية.

• ارتفاع متوسط دخل الفرد يؤثر بشكل غير مباشر في ..

مستوى التنمية البشرية ، الجانب الصحي ، مستوى التعليم .

• لذلك تهتم الدول بـ:

الأبعاد الثلاثة للتنمية البشرية

مؤشرات مهمة للتنمية ، لأنها :

١. تهدف إلى زيادة الدخل القومي.
٢. تحديد مستوى التنمية البشرية.
٣. تؤثر وتتأثر ببعضها : مثال التعليم يؤثر في مستوى الدخل و الصحة.

- محاربة الفقر.

- توفير دخل مناسب للفرد.

- تقليل معدل البطالة.

- ضبط مستويات الاستهلاك.

- توفير الأمان ضد العوز (الاحتياج) .

- تشجيع الادخار وتوجيهه نحو الاستثمار.

الابعاد استراتيجيات التنمية البشرية

اتجهت دول العالم ومنها مصر نحو الاهتمام بقضايا التنمية البشرية ، حيث بدأت

الدول بوضع استراتيجيات للتنمية البشرية تتركز حول المحاور التالية :

١. القضاء على الأمية.
٢. الاهتمام بالتدريب وإعادة التأهيل.
٤. تطوير نظم وشروط وقوانين العمل والتعاقد.
٥. تحسين ظروف بيئة العمل.
٦. توسيع شبكة التغطية للتأمين الصحي والاجتماعي.
٧. توفير مصادر التمويل لمشروعات الرعاية الصحية والصحة الوقائية.

مراجعة دورية

بم تفسر : اهتمام الدول بمحاربة الفقر؟

أكمل : ارتفاع متوسط دخل الفرد يؤثر على و و

أيد صحة العبارة : تولي دول العالم اهتماماً بالتعليم.

ضع علامة أو : تعد الصحة من أبعاد التنمية البشرية.

مثال يوضح مدى أهمية البشر كثرة حقيقية للتنمية

سر تقدم دول جنوب شرق آسيا اعتمادها على العنصر البشري كسبيل لتحقيق التنمية والدليل على ذلك عندما تعرضت تلك البلدان لأزمة مالية كبرى استطاعت أن تسترد قوتها الاقتصادية وهو ما أرجعه الاقتصاديون للثروة البشرية.

التنمية البشرية وحقوق الإنسان

خامسا

أصبحت التنمية البشرية حق أساسي من حقوق الإنسان وهذا ما أكدت عليه المواثيق الدولية (إعلان الحق في التنمية) مثل الجمعية العامة للأمم المتحدة عام ١٩٨٦ م والذي اشتمل على عشرة مواد أهمها :

١. حق كل إنسان وجميع الشعوب المشاركة في تحقيق تنمية اقتصادية واجتماعية وثقافية وسياسية.
٢. تفعيل حق الشعوب في تقرير المصير والسيادة التامة على جميع ثرواتها ومواردها
٣. حق الدولة في وضع سياسات إنمائية وطنية تهدف إلى تحسين رفاهية السكان.

مراجعة دورية

قارن بين : أبعاد التنمية البشرية؟

أيد صحة العبارة : تهتم دول العالم بقضايا التنمية البشرية.

أكمل : صدر الإعلان العالمي لحقوق الإنسان من الأمم المتحدة عام

أيد صحة العبارة : يعد العنصر البشري سر نهضة وتقدم دول جنوب شرق آسيا.

دلل صحة العبارة : توجد علاقة وطيدة بين التنمية البشرية وحقوق الإنسان.

كيف : استطاعت دول جنوب شرق آسيا التغلب على أزمته المالية.

أكمل : تتمثل إستراتيجية التنمية البشرية في

مراجعة على الدرس الأول

أكمل ما يلي

١. ارتفاع مستوى معيشة الفرد يؤثر بشكل غير مباشر على مستوى
٢. من إستراتيجيات التنمية البشرية و
٣. تتمثل مجالات التنمية في و و

بم تفسر

١. أهمية التنمية البشرية؟
٢. الاهتمام بمجالي الصحة والتعليم؟
٣. أهمية التخطيط السياحي؟
٤. أهمية مؤشرات التنمية البشرية الثلاثة بالنسبة للتنمية البشرية؟

ضع علامة (✓) أو (x) فيما يلي مع ذكر السبب

١. سيادة مفهوم التنمية البشرية منذ العقد الأخير من القرن الـ ٢٠. ()
٢. التنمية البشرية تهدف أساس إلى زيادة الدخل. ()
٣. تهتم دول العالم بالتعليم العالي كجزء من التنمية البشرية. ()
٤. يكمن سر نهضة دول جنوب شرق آسيا في اعتمادها على الموارد الطبيعية. ()

دلل على صحة العبارات التالية

١. تطور مفهوم التنمية البشرية؟
٢. اهتمام دول العالم بالتعليم؟
٣. اتجهت دول العالم نحو الاهتمام بقضايا التنمية البشرية.

أقرأ ثم أجب عما يلي

((إيجاد بيئة مناسبة تمكن الناس من التمتع بحياة بينية وصحية و خلاقه هو الغاية الأساسية من أحداث التنمية البشرية))

- في ضوء هذه العبارة وضح ..
١. ما المقصود بالتنمية البشرية؟
 ٢. ما هي أهداف التنمية البشرية؟

مؤشرات التنمية البشرية



وضعت الأمم المتحدة عدة مؤشرات لقياس مستوى التنمية البشرية ، وصلت هذه المؤشرات إلى ١٨٠ مؤشراً وتم تحديدها في برنامج الأمم المتحدة الإنمائي في ١٩ مؤشراً منها ...

المؤشر ..



رقم إحصائي يمثل ظاهرة معينة خلال فترة زمنية محددة ويعكس مدى نجاح الدولة في تحقيق التنمية بأبعادها المختلفة.

١. متوسط الدخل.

٢. معدل الفقر.

٣. الملامح الرئيسية للصحة.

٤. مؤشرات الحالة التعليمية.

٥. البطالة.

أهمية مؤشرات التنمية البشرية

١. تشخيص وتحديد المشكلات للوقوف على الوضع الراهن تمهيداً لحلها.

٢. قياس مقدار استفادة المجتمع من خطط التنمية.

٣. معرفة مدى تقدم أو تأخر المجتمعات.

٤. الوقوف على مدى توفر .. صحة ، تعليم ، دخل ...

٥. متابعة وتقييم الخطط والسياسات اللازمة لتحقيق الأهداف قصيرة وطويلة الأجل.



محبوب الحق

عالم اقتصاد باكستاني ، اهتم بنظريات تطور المجتمع الإنساني وساهم مساهمة كبيرة في تحديد مؤشرات التنمية البشرية وكانت أفكاره الأساس الذي ارتكز عليه المجلس الاستشاري للاقتصاد المجتمع في الأمم المتحدة وهو أول من استخدم مصطلح التنمية البشرية وذلك عام ١٩٩٠ م

مراجعة دورية

١- بم تفسر أهمية مؤشرات التنمية البشرية؟

٢- عرف المؤشر.

٣- اكمل : بلغ عدد مؤشرات التنمية البشرية

مؤشراً ، ثم اختزلت في مؤشر.

• يعد الدخل الفردي مؤشرا جيدا للنمو الاقتصادي للدولة و يختلف متوسط دخل الفرد من دولة لأخرى بالوطن العربي.

- دول ذات دخل مرتفع (أكثر من ١٢٦١٦ دولار):

السعودية ، الإمارات ، الكويت ، قطر ، البحرين ، عمان ، لبنان ، ليبيا.

- دول ذات دخل متوسط (من ١٢٦١٥ : ٤٠٨٦ دولار):

سوريا ، الأردن ، مصر ، تونس ، الجزائر ، المغرب.

- دول ذات دخل متوسط منخفض (من ٤٠٨٥ : ١٠٣٦ دولار)

العراق ، اليمن ، السودان ، موريتانيا ، جيبوتي.

- دول ذات دخل منخفض (أقل من ١٠٣٥ دولار) : جزر القمر

• يعد الفقر من أهم مقاييس ومؤشرات التنمية الاقتصادية في الدولة.

أنواع الفقر

١. الفقر الاقتصادي / فقر الدخل.

الدخل يقل عن دولارين في اليوم للفرد.

٢. الفقر متعدد الأبعاد.

حالة تتصف بالحرمان الشديد من

حاجات الإنسان الأساسية.

• هذا التعريف أكثر شمولية من التعريف الاقتصادي.

الوضع في مصر

بلغ معدل الفقر الاقتصادي في مصر عام ٢٠٠٠ .. ١٧% ثم ارتفع عام ٢٠١٣م إلى ٢٨% ..
 بسبب : انخفاض الدخل القومي ، الزيادة السكانية ، انخفاض معدل النمو الاقتصادي.

٢ الصحة

تعكس المؤشرات الصحية الكثير مدى تقدمه أو تأخر الدول في الجانب الصحي

١ الإنفاق العام على الصحة

- يشمل مجموع ما ينفق على الصحة من ميزانية الدولة.
- بلغ المتوسط العالمي للإنفاق العام على الصحة .. ٦,٥% من إجمالي الناتج المحلي الإجمالي لدول العالم ٢٠١٢ م.

- أولى الدول إنفاقاً على الصحة .. الولايات المتحدة الأمريكية وكوبا.
- أدنى الدول إنفاقاً على الصحة .. غينيا.

٢ متوسط العمر المتوقع عند الميلاد

- يمثل عدد السنوات التي يتوقع أن يعيشها المولود.
- ارتفع متوسط العمر المتوقع عند الميلاد في الدول العربية من ٤٥ سنة عام ١٩٦٠ إلى ٧١ سنة عام ٢٠١٢ م ، ليزيد بذلك عن المتوسط العالمي للعمر المتوقع الذي يبلغ ٧٠ سنة ، يرجع ذلك إلى : تحسن الرعاية الصحية وانخفاض معدلات الوفيات.
- أكثر الدول العربية ارتفاعاً في متوسط العمر المتوقع : الإمارات ، سوريا ، ليبيا ، قطر ، البحرين.

- أقل الدول العربية في متوسط العمر المتوقع : الصومال ، موريتانيا ، جيبوتي.

مراجعة دورية

- ١- **بم تفسر : ارتفاع معدل الفقر الاقتصادي في مصر؟**
- ٢- **وضح : أنواع الفقر.**
- ٣- **أكمل : أكبر الدول إنفاقاً على الصحة وأقلها**
- ٤- **أكمل : أكثر الدول العربية ارتفاعاً في متوسط العمر المتوقع وأقلها**
- ٥- **بم تفسر : ارتفاع متوسط العمر المتوقع في الوطن العربي؟**

التعليم

- تتحدد أهمية مؤشرات التعليم في مدى تأثيرها في المجال الصحي والاقتصادي.
- تتنوع المؤشرات التعليمية وجميعها تعكس مدى تقدم أو تأخر الدولة .. مثال ..

الإنفاق العام على التعليم

- مجموع الإنفاق العام على التعليم من الحساب الجاري ورأس المال.
- يقدر متوسط نسبة الإنفاق العالمي على التعليم .. ٤,٩%.
- يقدر متوسط نسبة الإنفاق العربي على التعليم .. ٣,٩% في عام ٢٠١٠م.
- أولى دول العالم إنفاقاً على التعليم ... كوبا وأيسلندا (١٢% من الدخل القومي).
- أدنى الدول إنفاقاً على التعليم ... جمهورية أفريقيا الوسطى.

الأمية

- تعد من أهم مؤشرات قياس التنمية ؛ لذا تسعى الدول للعمل على القضاء عليها.
- تهتم الدول بتحديد نسبة هذه الفئة لدورها المهم في مجالات التنمية ، فكلما زادت أعداد المتعلمين ، أسهم ذلك في نمو ورفي المجتمع.
- كلما ارتفع عدد الأميين في الدولة ازدادت الحاجة إلى توسيع نطاق التعليم الابتدائي وبرامج محو الأمية لدى البالغين ، في محاولة للقضاء على الأمية.

الأمية ..



نسبة السكان البالغين من العمر ١٥ سنة فما فوق وغير قادرين على قراءة وكتابة جمل بسيطة في أي لغة.

مراجعة دورية

٢. عرف : الأمية .
 بم تفسر : ارتفاع متوسط العمر المتوقع عند الميلاد في الدول العربية؟

أكمل : أكبر الدول إنفاقاً على التعليم وأقلها

٥. ما نتائج : اهتمام الدول النامية بالتعليم؟
 ما العلاقة بين : التعليم ، التقدم والرفي .

ماذا يحدث إذا : ارتفع أعداد الأميين في دولة ما؟

أكمل : يتم الإنفاق على التعليم من و

ضع علامة أو : الفقر الاقتصادي أكثر شمولية من الفقر متعدد الأبعاد.

دليل التنمية البشرية

دليل يصدره البرنامج الإنمائي للأمم المتحدة (**UNDP**) منذ عام ١٩٩٠ ويتضمن ثلاثة أبعاد وهي الصحة والتعليم والدخل ، ويقاس مستوى هذه الأبعاد بأربعة مؤشرات خاصة هي ..

المؤشرات	الأبعاد
متوسط نصيب الفرد من الناتج المحلي الحقيقي بالدولار.	الدخل
معدل الإلمام بالقراءة والكتابة لدى البالغين.	التعليم
معدل القيد بالتعليم الأساسي والثانوي والجامعي.	التعليم
متوسط العمر المتوقع عند الميلاد.	الصحة

الدول حسب مستويات التنمية البشرية

تتراوح قيمة دليل التنمية البشرية بين القيمتين الصفر والواحد الصحيح .. لذلك تم تصنيف الدول وفق الدليل إلى أربعة مستويات :

المستوى	التصنيف	عدد الدول	أمثلة
الأول	٠,٨ : ١	٤٧ دولة	الولايات المتحدة ، كوريا الجنوبية ، الإمارات.
الثاني	٠,٧ : ٠,٨	٤٧ دولة	ماليزيا ، لبنان ، الجزائر.
الثالث	٠,٥ : ٠,٧	٤٧ دولة	مصر ، الصين ، الأردن.
الرابع	صفر : ٠,٥	٤٦ دولة	كينيا ، جزر القمر ، إثيوبيا.

مراجعة دورية

١. صنّف الدول التالية من حيث مستويات التنمية البشرية : مصر ، الجزائر ، إثيوبيا.

٢. عرف : دليل التنمية البشرية.

٣. ما هي : أبعاد التنمية البشرية ؛ وكيف يمكن قياسها؟

٤. أكمل : يضم دليل التنمية البشرية أبعاد و مؤشرات.

أهم الانتقادات الموجهة لدليل التنمية البشرية ..

١. المؤشر توقع الحياة عند الميلاد قد لا يعبر بالضرورة عن سلامة الصحة البدنية و النفسية للأفراد.
٢. معدل أمية البالغين لا يعكس مستوى التعليم ومدى مساهمته في إكساب الأفراد المعرفة و تنمية قدراتهم بالقرن الحادي والعشرين.
٣. نصيب الفرد من الناتج القومي لا يعكس العدالة في التوزيع.
٤. وقد أدت تلك الانتقادات إلى إعداد أدلة منها دليل التنمية المرتبط بالنوع.

مراجعة على الدرس الثاني

عرف ما يلي

١. المؤشر.
٢. خط الفقر.
٣. فقر اقتصادي.
٤. فقر متعدد الأبعاد.
٥. العاقل.
٦. الأمية.
٧. دليل التنمية البشرية.
٨. متوسط العمر المتوقع.

أكمل ما يلي

١. يعتمد دليل التنمية البشرية على ثلاثة أبعاد هي و و
٢. من الدول ذات التنمية البشرية المرتفعة و
٣. يعتمد دليل التنمية البشرية على ثلاثة أبعاد هي و و

٤. أعلى دول العالم إنفاقاً على الصحة..... وأقلها
٥. من الدول العربية ذات الدخل المنخفض..... و.....
٦. من الدول العربية ذات التنمية البشرية المرتفعة جداً
٧. تعد دولتي ماليزيا و الجزائر من الدول ذات التنمية البشرية

٣ بم تفسر

١. أهمية مؤشرات التنمية البشرية؟
٢. قصور دليل التنمية البشرية؟
٣. ارتفاع متوسط العمر المتوقع عند الميلاد في البلدان العربية؟
٤. شمولية تعريف من المنظور التنموي عن المنظور الاقتصادي؟
٥. الدخل والفقير والعشوائيات سلسلة مترابطة مع بعضه البعض؟
٦. ارتفاع متوسط العمر المتوقع عند في الدول العربية عن المستوى العالمي؟

٤ ما الفرق بين

الفقر الاقتصادي والفقير متعدد الأبعاد.

٥ اقرأ ثم أجب عما يلي

((قامت الأمم المتحدة بوضع عدة مؤشرات لقياس مستوى التنمية البشرية))

في ضوء هذه العبارة وضح ..

١. أذكر أمثلة لمؤشرات التنمية البشرية التي حددتها الأمم المتحدة في برنامجها التنموي؟
٢. ما أوجه النقد التي وجهت لدليل التنمية البشرية؟
٣. حدد مستوى التنمية البشرية الموجود في مصر ، اقترح الأساليب لتصبح مصر في أعلى مستويات التنمية البشرية؟

نماذج تنموية رائدة

الدرس
الثالث

الجزيرة الماليزية

ماليزيا في سطور



- ماليزيا دولة آسيوية تقع في جنوب شرق قارة آسيا.
- تنقسم إلى قسمين يفصل بينهما مسطح مائي يعرف باسم بحر الصين الجنوبي.
- العاصمة : كوالالمبور.
- المساحة : ٣٢٠ ألف كم^٢.
- العملة المحلية : رينجت.
- عدد السكان : ٢٥ مليون نسمة.
- نظام الحكم : ملكي.
- الديانة الرسمية : الإسلام.
- اللغة الرسمية : الملاوية.

بعد عام ١٩٧٠م	قبل عام ١٩٧٠م	
أصبحت ٥% فقط عام ٢٠٠٤م.	وصلت إلى أكثر من ٥٠% من السكان.	خفض معدلات الفقر
عام ٢٠١٢ م ما يوازي عشرة أمثال ما كان عليه عام ١٩٧٠ م.		متوسط الدخل
	زادت بمعدل أربعة أمثال في العقود الثلاثة الأخيرة.	قيمة الصادرات
٢,٧% عام ٢٠١٣ م ، حيث تعد ماليزيا من الدول الخالية من البطالة نسبيا بحسب المعايير الدولية التي تعتبر أي دولة خالية من البطالة إذ قلت نسبة العاطلين فيها عن ٤%.	١٠% خلال فترة الخمسينيات والستينيات من القرن العشرين.	معدل البطالة
وصل عدد الذين يعرفون القراءة والكتابة عام ٢٠٠٠ م حوالي ٩٤%.	بلغت نسبة الأمية ٥٠% من جملة السكان.	نسبة الأمية

مجالات التنمية في ماليزيا

١. في مجال التنمية البشرية :

تقوم فكرة التنمية في ماليزيا على ((التنمية البشرية تقود إلى المساواة في الدخل)) .

١. مجال التعليم.

نجحت في تأسيس نظام تعليمي قوي ساعدها على تلبية احتياجات سوق العمل ورفع مهارات القوى العاملة التي أصبحت من المزايا التفضيلية للاقتصاد الماليزي وذلك من خلال ..

١. الأهمية بالتعليم والبحث العلمي حيث خصصت اعتمادات مالية كبيرة في مجالات العلوم والتكنولوجيا، فارتفعت نفقات التعليم من ٧ مليارات رينجيت عام ٢٠٠٠م إلى ٥٥ مليار رينجيت ماليزي عام ٢٠١٤م (الدولار - رينجيت) قد أنفق هذا المبلغ على بناء مدارس جديدة وتجهيزاتها.

٢. تأسيس معاهد تدريب المعلمين و التدريب الصناعي.

٣. الانفتاح على النظم التعليمية المتطورة (مثل النظم البريطانية والأمريكية).

٤. استخدام التقنيات الحديثة والاتجاه نحو إقامة العديد من المدارس الذكية.

٥. دعم المنح التعليمية، حيث أرسلت العديد من أبنائها للدراسة في اليابان وغيرها من البلدان المتقدمة وإلى الأزهر الشريف لدراسة العلوم الشرعية.

٦. استخدام خبرات أجنبية في كافة مستويات التعليم.

٢. مجال الرعاية الصحية والاجتماعية.

١. إنشاء العديد من المساكن للفقراء وتقديم لهم قروض بدون فوائد لشراء مساكن.

٢. دعم الأدوية التي يستهلكها الفقراء رعاية الأمهات والأطفال صحياً.

٣. توفير مرافق البنية الأساسية في المناطق النائية الفقيرة (النقل والاتصالات).

٤. توفير فرص عمل للفقراء ودعم مشروعات موجهة لتطوير الريف والزراعة.

ب. في مجال التنمية الاقتصادية

ركزت ماليزيا على التنمية الصناعية للخروج من دائرة الفقر، فمرت بمراحل مختلفة تحولت خلالها من دولة زراعية بدائية مصدرة للمواد الخام إلى دولة متقدمة تحتل المرتبة التاسعة عالمياً بين الدول المصدرة للصناعات التكنولوجية العالية، حيث وصل حجم التجارة الخارجية لماليزيا إلى نحو ٢١٤.٢ مليار دولار عام ٢٠١٣م وبذلك استطاعت ماليزيا أن تحقق طفرة في الصادرات التي اتجهت لأغلب دول العالم بما فيها أكثر دول العالم تقدماً.

التجربة البرازيلية

البرازيل في سطور



• العاصمة ، برازيليا.

• العملة المحلية ، الريال البرازيلي.

• نظام الحكم ، جمهورية / دستورية / فيدرالية.

• الديانة الرسمية ، المسيحية.

• اللغة الرسمية ، البرتغالية.

في ثمانينات القرن العشرين

واجهت البرازيل مثلها مثل أغلب دول العالم الثالث أزمة ديون ملاحنة ونتيجة لذلك حاولت الخروج من هذه الاستدانة ، لكن لم يكن ذلك بشكل علمي مدروس ، كما أنها غالت في الاقتراض من الخارج لتنفيذ مشروعاتها التنموية ، مما خلف ديونا اقتصادية كبيرة شكلت عبئا على الأجيال اللاحقة.

عام ١٩٩٥ م .. فقد ارتفع الدين الخارجي للبرازيل إلى ٢٥٠ مليار دولار ، مما أدى إلى أزمة انعدام الثقة في الاقتصاد البرازيلي سواء من الجهات الدولية المانحة أو المستثمرين سواء المحليين أو الأجانب وبالتالي ،

- زادت مشكلات الفقر.
- ارتفعت معدلات البطالة.
- تردي أحوال التعليم.
- انتشار الجريمة.
- تفاقم مشكلات الجوع والبطالة والفقر والتفاوت الشديد في الدخل.
- أصبحت البرازيل من أكثر دول العالم مديونية لتوفير المتطلبات الأساسية للسكان وقد أشرفت البرازيل على الإفلاس لعدم قدرتها على سداد ديونها الخارجية.

خلال العقدين الماضيين نجحت البرازيل في تحقيق استقراراً اقتصادياً ، تجلى بعض مظاهره في انخفاض معدلات التضخم ، تحقيق نمو اقتصادي مرتفع وانخفاض نسبة الدين إلى إجمالي الناتج المحلي ، فضلاً عن الحد من التفاوت في الدخل وانحسار نسبي للفقر.

مع نهاية عام ٢٠١١ م وأعلنت البرازيل رسمياً أنها أصبحت سادس أكبر اقتصاد في العالم ، متقدمة بذلك على بريطانيا.

١. مبدأ المكاشفة ..

لإعلام مواطنيها بالموقف المالي بكل صراحة وذلك للبدء في تطبيق سياسة للتقشف باعتبارها الطريق الأول والأمثل لحل مشكلاتها الاقتصادية. ونفذت البرازيل برنامجًا للتقشف وفقا لخطّة صندوق النقد الدولي بهدف سد عجز الموازنة والقضاء على أزمة الثقة وقد أدى برنامج التقشف إلى خفض عجز الموازنة وساهم ذلك بقوة في القضاء على انعدام الثقة في الاقتصاد البرازيلي وبناء عليه تلقت البرازيل نحو ٢٠٠ مليار دولار استثمارات مباشرة من ٢٠٠٤ وحتى ٢٠١١ : مما أدى إلى أن أكثر من نصف سكان البرازيل قد زاد دخلهم خلال السنوات العشر الأخيرة بنسبة ٦٨٪.

٢. دعم الطبقات الفقيرة ..

وصل عدد المستفيدين من الدعم إلى نحو ١١ مليون أسرة، وهو ما يعادل حوالي ٢٢٪ من الشعب البرازيلي لتتمكن من العيش بشكل أفضل والحصول على الطعام واقتناء بعض السلع المعمرة لأول مرة في حياتهم.

٣. ربطت خطط التنمية الصحية والاجتماعية بالتعليم ..

فأصبح الالتحاق بالتعليم والالتزام بالحصول على الأمصال واللقاحات للأطفال بشكل منتظم شرطاً أساسياً لحصول الأسر الفقيرة على الدعم.

٤. العدالة التوزيع في الثروة ..

حيث وضعت الحكومات البرازيلية المتعاقبة خططاً إستراتيجية لمحاربة الفقر الحد من التفاوت في الدخل ، مع مراعاة حماية حقوق المستثمرين ورجال الأعمال المحليين والأجانب مما يؤدي إلى انتعاش الأسواق وزيادة فرص العمل.

مجالات الصناعة ..

خطت البرازيل خطوات واسعة في السنوات الأخيرة في تنمية وتطوير قطاع الصناعة فقامت بما يلي ..

- التركيز على سياسة ((التصنيع بدلا من الاعتماد على الاستيراد)) .
- الاهتمام بالصناعات التقنية المتقدمة ، فشهدت البلاد تطورا واضحا في صناعة السيارات والطائرات وتمتلك البرازيل الآن شركة من أكبر شركات تصنيع الطائرات التجارية في العالم .
- الاهتمام بتنمية الصناعات البسيطة القائمة على المواد الخام الزراعية و الحيوانية مثل الصناعات الغذائية والجلدية والنسجية .

مجالات الزراعة ..

تحسين سبل و وسائل الإنتاج الزراعي و التوسع في بعض الزراعات مثل .. محصول البن وبعض أنواع الفواكه .

مجالات السياحة ..

ابتكرت البرازيل نوعا خاصا من السياحة يعرف بـ سياحة المهرجانات ، فالبرازيل دولة تمتلك تراثا شعبيا شديدا الخصوصية في الاحتفال عن طريق المهرجانات الجماهيرية التي تشهد حالة من الاحتفال الجماعي في الشوارع برقصات السامبا و الموسيقى والألوان و الاستعراضات المبهرة ، التي نجحت في جذب خمسة ملايين سائحا سنويا ، مما أسهم في إنعاش اقتصاد الدولة و حقق مزيدا من النمو .

العوامل التي ساعدت على التنمية في كل من ماليزيا و البرازيل

الاستقرار السياسي ..

ماليزيا

- قائد ماليزيا خمسة رؤساء وزارة فقط خلال خمسين عاما وهو ما يشير إلى حالة الاستقرار النسبي الذي عاشتها ماليزيا .

• كان التدخل الحكومي دورا مهما في زيادة الدخول الحقيقية للأفراد من السلع والخدمات ومعالجة التفاوت في الدخل النقدي بين جميع فئات المجتمع.

البرازيل

إقرار البرازيل للنظام الفيدرالي وتحويلها إلى النظام الديمقراطي وترسيخ دولة المؤسسات والقانون ؛ شكل الأساس الصلب الذي قام عليه الاقتصاد البرازيلي. •• وفر استقرار السياسات الاقتصادية في البرازيل بيئة مواتية لنمو المدخرات المحلية وجذب الاستثمارات الأجنبية.

٢. الاندماج في كتلات اقتصادية ..

ماليزيا

شاركت في منتدى التعاون الاقتصادي لدول آسيا والمحيط الهادي أبيك APEC لتشجيع التجارة الحرة والتعاون الاقتصادي في منطقة آسيا ودول المحيط الهادي.

البرازيل

لم تكتف البرازيل بالعمل على استخدام السياسات الاقتصادية الداخلية للنهوض بالاقتصاد البرازيلي ، وإنما أيضا خطت خطوات متميزة على مستوى السياسات الاقتصادية الخارجية من خلال تجمعات اقتصادية

١. البركسور - MERCOSUR :

رابع أكبر قوة اقتصادية في العالم بعد الاتحاد الأوروبي وتجمع دول جنوب شرق آسيا والتكتل الاقتصادي لدول أمريكا الشمالية.

٢. البريكس - BRICS :

شكلته البرازيل مع روسيا والصين والهند في ٢٠٠٩م ثم انضمت لهم جنوب أفريقيا في ٢٠١٠م ؛ يضم هذا التجمع خمس دول تعد صاحبة أكبر اقتصاديات على مستوى الدول النامية.

ماليزيا

حرصت حكومتها على التأييد الشعبي وتعميق الشعور من بأن المواطن هو المستهدف من عملية التنمية وأن تقدم البلاد يقوم كفرد عليته كفرد قبل كل شيء.

البرازيل

قامت التجربة البرازيلية بإرادة شعبية حقيقية ووعي جماهيري بأهمية التنمية ، فالشعب البرازيلي بطبقاته الفقيرة هو من تحمل أعباء سياسات التقشف حتى تعافى الاقتصاد البرازيلي .

٤. التعايش السلمي ..

بعد التعايش السلمي أحد عناصر نجاح التجربة الماليزية وذلك من خلال ..

١. الاعتراف بالتنوع العرقي والديني.
٢. الإقرار بوجود اختلافات حقيقية في مستويات الدخل والتعليم بين فئات المجتمع.
٣. التوافق على ضرورة علاج هذه الاختلافات بشكل هادئ وواقعي وتدرجي.
٤. حفظ حقوق الجميع والمشاركة في المسؤولية.

مراجعة على الدرس الثالث

١ عرف ما يلي

٢. النظام الفيدرالي.

١. المدرسة الذكورية.

٢ أكمل ما يلي

١. تحتل ماليزيا المركز عالميا بين الدول المصدرة للصناعات التكنولوجية.
٢. بلغ حجم التجارة الخارجية الماليزية مليار دولار سنويا عام ٢٠١٣م.
٣. وصلت نسبة المستفيدين من الدعم البرازيلي نحو % من الشعب البرازيلي.
٤. شهدت البرازيل تطورا كبيرا في صناعة و
٥. ابتكرت البرازيل نوعا خاصا من السياحة يعرف بالسياحة

٣ بم تفسر

١. تحقيق ماليزيا لنجاح كبير في معدلات التنمية البشرية؟
٢. اهتمام ماليزيا بالتعليم؟
٣. نجاح دولة ماليزيا في تحقيق التنمية؟
٤. أهمية التأييد الشعبي لتحقيق التنمية؟
٥. تحقيق البرازيل لنجاح كبير في السنوات الأخيرة؟

٤ ما النتائج المترتبة على

١. وضع دولة ماليزيا الفقراء في أولويات اهتمامها في مجال التنمية الصحية والتعليمية؟
٢. ارتفاع الدين الخارجي للبرازيل من عام ١٩٩٥م ليصل إلى ٢٥٠ مليار دولار؟
٣. كثرة الاستثمارات المباشرة التي تلقتها البرازيل في الفترة من ٢٠٠٤م حتى ٢٠١١م؟

مستقبل التنمية في الوطن العربي

1. الامكانيات التنموية في الوطن العربي

أ. الإمكانيات الطبيعية والاقتصادية ..

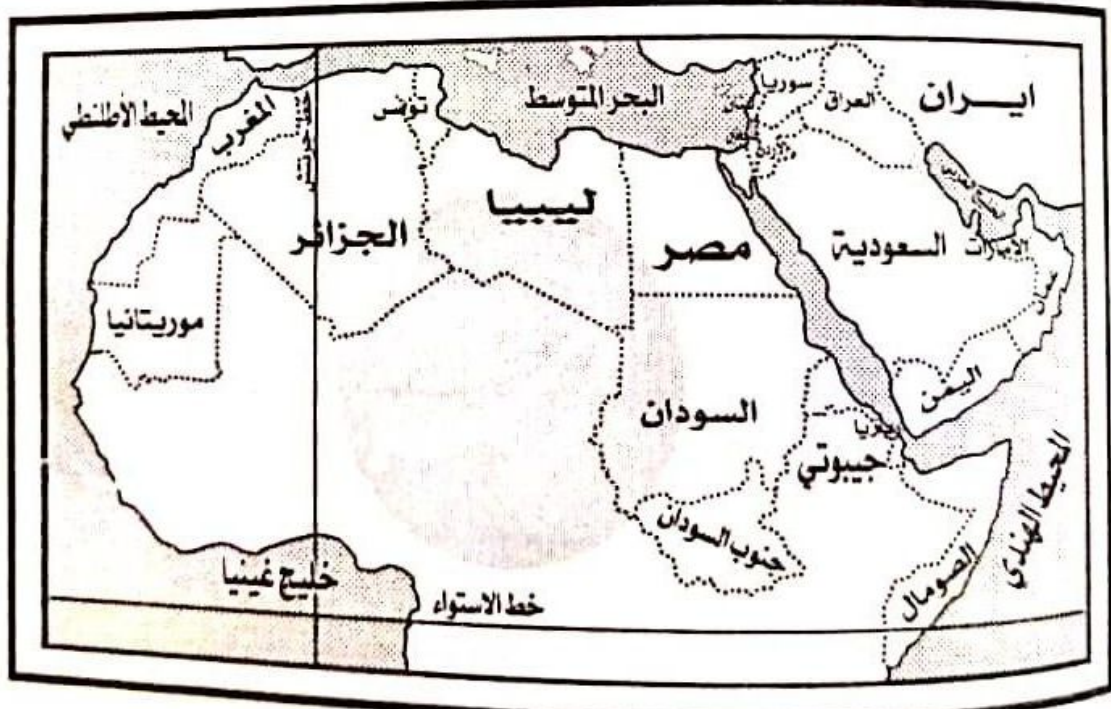
موقع الوطن العربي المتميز ومساحته

تبلغ مساحة الوطن العربي نحو : ١٣ مليون كم^٢ مما أدى إلى تنوع المناخ في الوطن العربي بالإضافة إلى تنوع موارده الطبيعية والاقتصادية.

التكامل الاقتصادي



العمل العربي المشترك لخلق مجتمع واحد له مقومات وغايات اقتصادية واحدة لا يحول دون تنقل الأشخاص والعمالة والسلع ورؤوس الأموال.



١. الموقع الفلكي

٣٠ ٢٧ شمالا.

٢ جنوبا

١٧ غربا.

٦٠ شرقا

يمتد الوطن العربي بين ..

• دائرتي عرض

• خطي طول

• نتائج الموقع الفلكي للوطن العربي :

مما أدى إلى تنوع الأقاليم المناخية والنباتية في الوطن العربي.

٢. الموقع الجغرافي

• شمالا ، البحر المتوسط في شمال أفريقيا ، جبال طوروس و الحافة الجنوبية لهضبة الأناضول.

• جنوبا ، الصحراء الكبرى الأفريقية و نطاق السافانا ، المحيط الهندي.

• شرقا : الخليج العربي ، جبال زاغروس المطلّة على سهول نهرا دجلة و الفرات.

• غربا : المحيط الأطلنطي.

• أهم المسطحات المائية التي يتحكم بها الوطن العربي :

• المسطحات المائية : البحر المتوسط ، البحر الأحمر ، الخليج العربي.

• الممرات المائية : مضيق هرمز ، مضيق باب المندب ، مضيق هرمز ، قناة السويس.

• نتائج الموقع الجغرافي :

١. جعل الوطن العربي يربط بين قارات العالم القديم (آسيا ، أفريقيا ، أوروبا) بمواردها المتنوعة.

٢. جعل الوطن العربي يتحكم في أهم المسطحات المائية العالمية و الممرات البحرية التجارية في العالم.

مراجعة دورية

ما نتائج ، الموقع الفلكي للوطن العربي؟

أكمل ، حدد الوطن العربي جنوبا و

يمتد ، تنوع الأقاليم المناخية و النباتية في الوطن العربي؟

ما نتائج ، الموقع الجغرافي للوطن العربي؟

ما هي ، أهم الممرات المائية التي يتحكم بها الوطن العربي؟

أكمل ، يمتد الوطن العربي بين دائرتي عرض و

يملك الوطن العربي العديد من الموارد الطبيعية (النباتية والحيوانية و المعدنية) .. وذلك بسبب ..

تنوع أشكال السطح والتي تكونت عبر العصور و الأزمنة الجيولوجية المختلفة ما بين سهول و هضاب و جبال و منخفضات.

أكتسب تنوع الموارد الطبيعية الوطن العربي أهمية اقتصادية كبرى على المستويين المحلي و العالمي و يتضح ذلك فيما يلي :

1. الموارد الزراعية و الحيوانية

يحتل الوطن العربي مكانة في :

إنتاج و تصدير بعض المنتجات الزراعية اللازمة للصناعة كالقطن و الصمغ العربي و الزيتون و زيته و التمور و الفواكه.

امتلاك ثروة حيوانية يمكن أن تسهم إذا ما أحسن تنميتها و استغلال منتجاتها بطرق علمية في سد الاحتياجات العربية و تصدير ما يفيض منها للخارج.

2. الموارد المعدنية و مصادر الطاقة

تنتمي معظم أراضي الوطن العربي لتكوينات الزمن الأركي حيث الصخور النارية و المتحولة الغنية بالمعادن الفلزية و الأحجار الكريمة ؛ لذلك ينتج الوطن العربي :

- بعض المعادن مثل : الحديد و المنجنيز و الرصاص و الزنك.

- بعض الأملاح مثل : البوتاس و غيره.

تحتوي تكوينات عصر الكريتاسي الأعلى و الميوسين على الفوسفات.

تحتوي صخور الزمن الثالث (الجوراسي ، الكريتاسي) مصائد البترول.

امتلاكه إمكانات هائلة في مجال الاستفادة مستقبلاً من الطاقة الشمسية و طاقة الرياح.

- أهميته الكبيرة في مجال الصناعات التقليدية التي تعمل علي تشجيع السياحة.
- صناعات التحف والأواني المعدنية والنحاسية والفضية وغيرها.
- فضلا عن قيام الصناعات المعدنية المختلفة.

٢. الإمكانيات البشرية ..

يملك الوطن العربي قوى بشرية كبيرة إذا أحسن تدريبها وتأهيلها يمكن أن تؤهله ليحتل مكانة متقدمة في العالم خاصة وأن أكثر من ثلث هذه القوى من الشباب التي تبني بسواعدهم الأمر.

• كيف يصبح الوطن العربي قوة اقتصادية مؤثرة عالميا ..



١. تضافر الجهود والعزيمة على استغلال الثروات الهائلة.
٢. وجود الحس الوطني العربي القومي والإيمان بالكيان العربي الواحد.
٣. سيادة الثقة بين العرب ونبد الخلافات والصراعات.

مراجعة دورية

١. أكمل : تتركز مكامن البترول في الزمن

٢. عرف : التكامل الاقتصادي.

٣. أيد صحة ما يلي : يملك الوطن العربي العديد من الموارد الطبيعية ؟

٤. اشرح : تنوع التركيب المعدني في الوطن العربي ؟

٥. كيف : يصبح الوطن العربي قوة اقتصادية مؤثرة عالميا ؟

٦. أكمل : تتركز تكوينات الفوسفات في

٧. ضع علامة أو ، معظم أراضي الوطن العربي تنتمي لتكوينات الزمن الثالث.

٨. أيد بالأدلة الجغرافية ، اكتسب تنوع الموارد الطبيعية الوطن العربي أهمية اقتصادية كبرى على المستويين المحلي والعالمي ؟

صالة الإنتاج العربي

تظهر ضآلة حجم الإنتاج العربي بوضوح عند مقارنة الإنتاج العربي بإنتاج الدول المتقدمة كالولايات المتحدة الأمريكية حيث يبلغ الناتج الإجمالي لها نحو ستة أضعاف الناتج المحلي للوطن العربي.

قلة حجم التجارة الخارجية

لا تتجاوز ٨% من مجموع التجارة الدولية وهي نسبة متواضعة مما يعرض مصير التنمية في الدول العربية لمزيد من المخاطر في المستقبل.

ضعف التجارة العربية البينية

حيث لا يزيد عن ١٠% من إجمالي حجم التجارة الخارجية العربية وبالمقارنة فإن التجارة البينية للمجموعة الأوربية تمثل ٧٠% من إجمالي التجارة الخارجية للمجموعة عام ٢٠١٢ م.

تبعية الاقتصاديات العربية للخارج

يرجع ذلك إلى الإفراط في استيراد مكونات التكنولوجيا الحديثة من الخارج.

تباين المسافات الاقتصادية الفاصلة بين الأسواق العربية

بسبب نقص وسائل المواصلات في الدول العربية التي جعلت التكلفة الاقتصادية لقطع المسافات المكانية باهظة وأكثر منها بين البلد العربي والبلدان الأجنبية. ومثال ذلك:

البضاعة التي قيمتها ألف دولار يتكلف نقلها من العراق للسودان ١٦٩٧ دولار مقابل الدولارين العراق وإيطاليا.

محدودية التركيب السلي للتجارة الخارجية للدول العربية

لا تنتج الدول العربية إلا سلعا معظمها للتصدير مثل النفط والغاز الطبيعي، ومن حيث التركيب السلي للاستيراد فإن معظم الواردات استهلاكية وتشكل أكثر من ٤٨% من مجمل الواردات وتشمل المواد الغذائية والمشروبات، في حين تبلغ الواردات من السلع الإنتاجية (الآلات والمعدات) نحو ٣٤% من مجمل الواردات.

حيث تنتشر الصناعات الإستخراجية بشكل واضح و انخفاض مكانة الصناعة التحويلية في هيكل الإنتاج القومي لأغلب الدول العربية.

٨. نقص المعرفة والتكنولوجيا ..

بلغت نسبة الأمية بالوطن العربي نحو ٢٤,٥% من إجمالي سكان الوطن العربي ٢٠١٢ م ، كما أن نوعية التعليم تحتاج إلى مزيد من التطوير مع دعم البحث العلمي ونشر التكنولوجيا ، على الرغم أن لدينا قدرات تعليمية كبيرة و الدليل أن كثير من الباحثين و العلماء العرب حققوا نجاحات عالمية في الدول الغربية.

٩. عدم الاستقرار السياسي ..

١٠. مشكلة الفقر والمرض ..

١١. النمو السكاني المتزايد ..

نتائج التحديات التي تواجه التنمية بالدول العربية :

١. مزيد من التبعية للخارج.
٢. مزيد من تفاوت الدخل بين سكان الوطن العربي.
٣. ارتفاع أسعار المواد الأساسية و الخدمات.
٤. ارتفاع معدلات التضخم و البطالة.
٥. تراجع الأداء الاقتصادي العام.
٦. ضعف الاستثمار و الادخار.
٧. عجز الإنتاج الزراعي على سد الفجوة الغذائية.
٨. محدودية التفاعل و التكامل بين الأقطار العربية.
٩. استمرار هجرة العقول و الأموال العربية إلى الخارج.

مراجعة دورية

١. برهن على صحة ما يلي : التجارة البينية العربية ضعيفة.
٢. فسّر : تباين المسافات الاقتصادية بين الدول العربية؟
٣. أيد صحة ما يلي : تواجه التنمية العربية نقص المعرفة و التكنولوجيا؟
٤. فسّر : تبعية الاقتصادات العربية للخارج؟

الجهود العربية لتحقيق التنمية



شهدت الدول العربية خلال العقود الأربعة الماضية محاولات للتعاون الاقتصادي بين الدول العربية والتنمية وذلك بقيام منظمات واتحادات عربية متنوعة متخصصة في مختلف البلاد العربية إلى جانب قيام الصناديق والمؤسسات التمويلية العربية والتي كان لها عدة أهداف ..

أهداف محاولات التعاون الاقتصادي العربي :

١. رفع معدلات التنمية الاقتصادية.
٢. زيادة الشراكة بين اقتصاديات الدول العربية.
٣. تقليل اعتماد الدول العربية المفرض على العالم الخارجي.
٤. تقليص الفوارق الاقتصادية بين الدول العربية.
٥. تنويع الصادرات وتقليص هيمنة قطاع النفط على مجمل الصادرات.
٦. زيادة التوافق بين مختلف السياسات الاقتصادية لتحقيق الوحدة الاقتصادية.

المنظمات التابعة لجامعة الدول العربية ومهتمة بالتنمية في الوطن العربي :

المنظمات المهتمة بالتنمية البشرية	المنظمات المهتمة بالتنمية الاقتصادية
١. المجلس العربي للاختصاصات الصحية.	١. منظمة الأقطار العربية المصدرة للنفط.
٢. منظمة المرأة العربية.	٢. المنظمة العربية للتنمية الصناعية والتعدين.
٣. المنظمة العربية للتنمية الإدارية.	٣. مجلس الوحدة الاقتصادية العربية.
٤. المنظمة العربية للتربية والثقافة والعلوم.	٤. المركز العربي لدراسات المناطق الجافة والأراضي القاحلة.

مراجعة دورية

ما نتائج التحديات التي تواجه التنمية في الوطن العربي؟

أذكر: أهم المنظمات العربية المهتمة بالتنمية البشرية؟

ما هي: مشكلات التنمية في الوطن العربي؟

أذكر: أهداف محاولات التعاون الاقتصادي العربي؟

ما تحقق من إشباع الحاجات الأساسية للغالبية العظمى للسكان مازال منخفضا.
ما حققته مؤسسات التعاون الاقتصادي أدنى من المستهدف حيث توضح المؤشرات غياب التكامل الاقتصادي العربي.
التنمية الاقتصادية في الدول العربية تنمية منفردة وتتم في ظل التبعية الاقتصادية للغرب.

مستقبل التنمية في وطننا العربي

1. تصميم إستراتيجية عربية قائمة على رؤى قومية ، يستفاد فيها من المحاولات التكاملية السابقة سواء على صعيد جامعة الدول العربية أو بشكل ثنائي.
2. ضرورة اندماج الاقتصاديات العربية تحت مظلة كيانات اقتصادية قوية تمكنها من مواجهة التحديات العالمية والاهتمام بالمشروعات العربية التكاملية المشتركة من حيث التمويل والتسويق.
3. وضع خطة شاملة وواضحة لتطوير تكنولوجيا المعلومات والبحث العلمي ، من خلال التوسع في إقامة المؤسسات البحثية المتخصصة ودعمها ماديا و سن قوانين رعاية الباحثين .
4. تحييد العمل الاقتصادي العربي المشترك عن الخلافات العربية وعدم ربط تلك البرامج بالتغيرات والتطورات السياسية التي تشهدها المنطقة.
5. الاستفادة من التجارب التكاملية العالمية التي خاضتها الدول الأخرى.
6. استثمار إمكانات الدول العربية .. من أراضي خصبة ، عمالة ، رأس مال لسد الفجوة الاقتصادية.
7. إعداد أيدي عاملة وطنية وفنية مدربة.
8. عقد اتفاقيات اقتصادية جديدة مع الدول الأفريقية والأوربية والتكتلات الاقتصادية الأخرى.
9. العمل على التنسيق بين المنظمات والاتحادات العربية من خلال خطط واضحة و متفق عليها.

مراجعه على الدرس الرابع

عرف ما يلي

١. التكامل الاقتصادي.

أكمل ما يلي

١. معظم صادرات الوطن العربي من و.....
٢. معظم واردات الوطن العربي واردات تشكل أكثر من% من إجمالي الواردات العربية.
٣. يعتمد الوطن العربي على قطاع بشكل كبير.
٤. من المنظمات المهمة بالتنمية الاقتصادية و..... و.....
٥. من أهداف محاولات التعاون العربي و..... و.....

بم تفسر

١. التنمية في الوطن العربي تواجه العديد من التحديات؟
٢. تبعية الاقتصادات العربية للخارج؟
٣. تباين المسافات الاقتصادية الفاصلة بين الأسواق العربية؟

مراجعة عامة على

جغرافية التنمية الاقتصادية

ماهية التنمية الاقتصادية

النمو الاقتصادي	حدوث زيادة في إجمالي الناتج المحلي مما يؤدي إلى زيادة مستمرة في متوسط نصيب الفرد من الدخل الحقيقي
التنمية الاقتصادية	عملية متعددة الأبعاد تتضمن إحداث تغييرات جذرية في الهياكل الاقتصادية والاجتماعية والسياسية والإدارية، بمقتضاها يتم الانتقال من التأخر إلى التقدم.
استراتيجية التنمية الاقتصادية	تلك الخطط والوسائل والطرق التي يجب أن تتبعها أي دولة للوصول إلى التنمية المنشودة.
الميزان التجاري	هو الفرق بين قيمة الصادرات والواردات للدولة.

التفسيرات الجغرافية

اهتمام دول العالم بتحقيق التنمية الاقتصادية؟

التنمية الاقتصادية تشكل عنصرا أساسيا في خطط أي دولة (فهي محرك تطور اقتصادي).

الموارد الطبيعية أهم مقومات التنمية الاقتصادية؟

أي دولة بالموارد الطبيعية يساعد على إعداد برامج التنمية.

للموارد البشرية دورا بارزا في خطط التنمية الاقتصادية؟

أساس التنمية الاقتصادية في أي مجتمع والعامل المحفز على استثمار الموارد الزراعية - المعدنية -) بما تمتلكه من معارف ومهارات.

أهمية وضع خطط استراتيجية للتنمية الاقتصادية؟ لأنها تهدف إلى:

تحسين الأوضاع الاقتصادية والاجتماعية للسكان.
الحفاظ على البيئة وصيانتها لأجيال القادمة.

اهتمام دول العالم بتطوير التعليم و البحث العلمي؟ لأن

٥. التعليم استثمار له مردودة الاقتصادية والاجتماعي لا يقل أهمية عن الاستثمار في رأس المال
٦. التعليم يعد بناءا لاقتصاد المعرفة و دفعا لعجلة التنمية الاقتصادية.

أهمية مشروعات البنية التحتية في تحقيق التنمية الاقتصادية؟

٦. جذب الاستثمارات العربية والأجنبية من أجل تنفيذ المشروعات الاقتصادية التي تتيح فرصا عديدة لخفض نسبة البطالة و رفع مستوى المعيشة و زيادة الدخل القومي.

تهتم دول العالم باعطاء أولوية لبرامج تنظيم الأسرة؟

٧. يعد النمو السكاني عاملا المتزايد معوقا للتنمية الاقتصادية ؛ لذلك تهتم الدول باعطاء أولوية لبرامج تنظيم الأسرة ؛ حيث يتطلب النمو السكاني المتزايد .. الغذاء والكساء والماوى ونفقات التعليم.

تشجيع الصادرات يساعد على تحقيق التنمية الاقتصادية؟

٨. لأن زيادة الصادرات إلى ..
١. زيادة الإنتاج.
٢. توفير السيولة من العملة الصعبة اللازمة للاستيراد من الخارج.

يؤدي تصدير المواد الخام دون تصنيع إلى آثار اقتصادية سلبية على الدولة؟

- لأن تصدير المواد الخام يؤدي إلى :
- ١. إهدار مكتسبات الأجيال القادمة وعدم إنشاء الصناعات وزيادة معدل البطالة.
- ٢. فقد مبالغ طائلة نتيجة الفرق بين سعر المادة الخام وسعرها بعد التصنيع (بالقيمة المضافة).

انتشار ظاهرة العشوائيات؟

١٠. بسبب هجرة السكان من الريف إلى المدن.

النتائج الجغرافية

تركز السياسات الاقتصادية الحديثة على الاقتصاد الأخضر؛

٢. التقليل من المخاطر البيئية.

١. تحسين رفاهية الإنسان.

الأدلة الجغرافية

النمو السكاني سلاح ذو حدين؟

• حد سلبي: يعد النمو السكاني عاملا معوقا للتنمية الاقتصادية؛ لذلك تهتم

الدول بإعطاء أولوية لبرامج تنظيم الأسرة؛ حيث يتطلب النمو السكاني المتزايد..

الغذاء والكساء والماوى ونفقات التعليم.

• حد ايجابي: يرى بعض الاقتصاديين.. أن النمو السكاني المتزايد ميزة؛ فهو

عامل المحفز على استغلال ثروات وموارد التنمية.. مثل الصين التي غزت العالم

بمنتجاتها الصناعية.

٢. تؤثر التنمية الاجتماعية تأثيرا كبيرا على اقتصاديات أي مجتمع؟

لأن تنمية وتطوير المناطق الريفية وعدم تهملها ضرورة، حتى لا تصبح مناطق

طرد سكاني من خلال تيارات الهجرة المستمرة من الريف إلى المدينة.

٣. التنمية الاقتصادية عنصرا أساسيا في خطط أي دولة؟

لهي بمثابة محرك للتطور الاقتصادي.

الحمولة الرعوية	هي متوسط عدد الحيوانات في وحدة مساحة معينة خلال مدة زمنية محددة والتي يمكن من خلالها الحصول على أعلى إنتاج حيواني.
إدارة الموارد الرعوية	هي علم استغلال المراعي للحصول على أعلى وأفضل المنتجات والخدمات (أعلى مردود اقتصادي) دون التأثير السلبي على هذه الموارد
المراعي الطبيعية	الغطاء النباتي الطبيعي الذي يشمل أنواع متعدد من الحشائش والشجيرات التي تفي بمتطلبات الحيوانات.
المراعي الاصطناعية	مراعي يقوم الإنسان بزراعتها باستخدام نظم ري وتسمى بالمراعي المروية.
الأمن الغذائي	توافر الغذاء لكل فرد من الشعب في أي فترة بكمية ونوعية كافية تضمن له حياة صحية سليمة ونشطة.

التفسيرات الجغرافية

١ تزايد واردات الوطن العربي من المحاصيل الزراعية؟

بسبب .. زيادة معدل النمو السكاني والاستهلاك وتدهور الأراضي الزراعية وتناقصها مما أدى إلى اتساع الفجوة بين الإنتاج والاستهلاك المحلي.

٢ استخدام تقنيات الاستشعار من بعد في تنمية وإدارة الموارد الزراعية؟

تساعد على ..

١. حصر الأراضي الزراعية وتقدير إنتاجيتها.
٢. مراقبة الأراضي الزراعية من احتمالية تعرضها للكوارث الطبيعية.
٣. اتخاذ الإجراءات الوقائية في الوقت المناسب.

٢. تساعد على خفض معدلات انبعاث الكربون والغازات الدفيئة بنسبة ٦٤٪.

٤. اتجاه أوغندا لزراعة المحاصيل العضوية؟

١. تحسين سبل عيش السكان.
٢. حماية البيئة من التلوث.

٥. فقر المراعي الطبيعية في الوطن العربي؟

بسبب وقوع معظم مساحته في المناطق الجافة وشبه الجافة (تشهد سقوط مطر غير منتظم).

٦. تعد الأغنام والماعز أكثر الحيوانات انتشارا في الوطن العربي؟

١. مطالبها الغذائية القليلة.
٢. قدرتها على تسلق المرتفعات.

٧. تقتصر تربية الجاموس في الوطن العربي على مصر والعراق؟

١. لا يتحمل الجفاف حيث يحتاج إلى مجار مائية.
٢. لا يتحمل البرودة الشديدة.

٨. تناقص إنتاج الوطن العربي من اللحوم؟

قلّة مساحة المراعي وتعرضها للتدهور والاستنزاف وقلّة الإنتاجية.

٩. استيراد الوطن العربي لكميات كبيرة من اللحوم

١. ارتفاع مستوى المعيشة في الدول العربية.
٢. زيادة الطلب على اللحوم بسبب زيادة السكان.

١٠. أهمية الإنتاج السمكي عالميا وعربيا؟

عالميا :

١. توفير الغذاء البروتيني للإنسان ؛ يحصل الإنسان منها على ١٤٪ من احتياجاته من البروتين الحيواني.
٢. تحقيق الأمن الغذائي على مستوى العالم.

عربيا :

١. تعد موردا مهما بالنسبة للموارد الغذائية العربية.
 ٢. تعتمد عليها بعض الدول العربية في ..
- سد الفجوة الغذائية خاصة في مجال البروتينات الحيوانية.
- توفير فرص العمل. - تحقيق عائدات من النقد الأجنبي نتيجة تصدير الفائض.

الناتج الجغرافية

١ ارتفاع أسعار النفط عاليا بالنسبة لإنتاج الغذاء؟

اتجاه كثير من شركات إنتاج الغذاء لتحويل مساحات واسعة من إنتاج المحاصيل الحقلية إلى إنتاج محاصيل تنتج الوقود الحيوي .. كقصب السكر والذرة وفول الصويا.

٢ الهجرة من الريف إلى المدن على الإنتاج الزراعي؟

على قلة العمالة الزراعية وبالتالي انكماش المساحة المزروعة.

الأدلة الجغرافية

١ ارتفاع أسعار النفط عاليا بالنسبة لإنتاج الغذاء؟

اتجاه كثير من شركات إنتاج الغذاء لتحويل مساحات واسعة من إنتاج المحاصيل الحقلية إلى إنتاج محاصيل تنتج الوقود الحيوي .. كقصب السكر والذرة وفول الصويا.

٢ الهجرة من الريف إلى المدن على الإنتاج الزراعي؟

على قلة العمالة الزراعية وبالتالي انكماش المساحة المزروعة.

٣ بعد استخدام التقنيات الحديثة من الأساليب الهامة إدارة الموارد الرعوية؟
نظم المعلومات الجغرافية والاستشعار من بعد وذلك في مراقبة،

المناطق الرعوية خاصة في المناطق الجافة وشبه الجافة.
الدورة الفصلية والسنوية للنباتات في المناطق الرعوية.
خطة الرعي وتقدير الحمولة الرعوية.

نقاط هامة على الفصل

٢.٦ مليار هكتار عام ٢٠١١ م.	مساحة الأراضي الزراعية في العالم.
٤٧٠ مليون هكتار (٢٧ %).	مساحة الأراضي الزراعية بالوطن العربي.
مصر ، المغرب.	وفي الدول العربية إنتاجا للجبوب الغذائية.
المغرب ، مصر.	وفي الدول العربية إنتاجا للبقوليات.
مصر ، السودان ، المغرب.	وفي الدول العربية إنتاجا لمحاصيل السكر.
مصر ، المغرب.	وفي الدول العربية إنتاجا للفاكهة.
سوريا ، مصر.	وفي الدول العربية إنتاجا للألياف النسيجية.
٣٩%	مراعي الطبيعية في نصف الكرة الأرضية الشمالي.
٦١%	مراعي الطبيعية في نصف الكرة الأرضية الجنوبي.
٣٢%	مساحة المراعي الطبيعية في الوطن العربي.
المغرب.	ول دولة عربية سنت قوانين للرعاة.
المغرب.	بإتة اعتمدت النهج التشاركي بين القطاع العام والخاص.
الأغنام والماعز.	كثرت الحيوانات انتشارا في الوطن العربي.
الجاموس.	قل الحيوانات انتشارا في الوطن العربي.
الصومال ، السودان.	أولى الدول العربية تربية للأبل.
السودان ، الصومال.	أولى الدول العربية المنتجة للحوم.
مصر ، السودان ، السعودية.	أولى الدول العربية تربية للألبان.
المغرب ، موريتانيا.	أولى الدول العربية في الصيد البحري.
مصر ، الإمارات.	أولى الدول العربية في الصيد من المزارع السمكية.
مصر ، المغرب ، موريتانيا.	أولى الدول العربية في الإنتاج السمكي.
الخضر والفاكهة.	أكثر السلع العربية تداولاً في الأسواق العالمية.
الأسماك.	ثان أكثر السلع العربية تداولاً في الأسواق العالمية.
المغرب ، موريتانيا ، اليمن ، عمان.	أكثر الدول العربية المصدرة للأسماك.

جغرافية التنمية الاقتصادية

١ التفسيرات الجغرافية

اعتبار القطاع الصناعي هو قاطرة التنمية؟

١. يتمتع بروابط قوية مع القطاعات الاقتصادية الأخرى مثل الزراعة والخدمات.
٢. لديه إمكانيات كبيرة لتوفير فرص كثيرة للعمال.
٣. وسيلة مهمة لنقل التكنولوجيا و جذب الاستثمارات الأجنبية.

٢ شهد الإنتاج الصناعي العالي تحولا تدريجيا من البلدان المتقدمة إلى النامية؟

للاستفادة من:

١. توفر المادة الخام والعمالة الرخيصة.
٢. البنية الأساسية الجيدة.
٣. النفقات الاجتماعية الأقل.
٤. الأسواق الكبيرة في بعض الدول.

٣ اهتمام الدول النامية بالصناعة؟

١. معظم الدول النامية دولاً زراعية والتصنيع ضرورياً ومكملاً للقطاع الزراعي.
٢. تقليل الاستيراد من الخارج وتشجيع الصناعات الوطنية وتحقيق فائض يسع بالتصدير.
٣. زيادة القدرة الصناعية للدولة يعمل على زيادة قوتها العسكرية.
٤. القطاع الصناعي القدرة على استيعاب العمالة وبالتالي تخفيف البطالة.

٤ ضعف مساهمة قطاع الصناعات التحويلية في الناتج المحلي الإجمالي بالدول العربية؟

١. تنافس الصناعة العربية فيما بينها وعدم وجود تكامل بينها.
٢. صغر حجم الأسواق العربية لانخفاض المستوى المعيشي وارتفاع أسعار السلع المحلية.

١. نقص الاستثمارات البشرية المؤهلة من الخبرات الفنية و التخصصات الحديثة.
٢. عدم توافر البنية التحتية الصناعية.
٣. الإهمال النسبي للبحث العلمي في المنشآت الصناعية بالعديد من الأقطار العربية.
٤. غياب الاستثمارات التنموية الصناعية التكاملية بين الدول العربية.

٥ أهمية صناعة السياحة؟

١. أهم مصادر الدخل القومي للعديد من دول العالم.
٢. أهم مكونات الصادرات الخدمية ذات التأثير الكبير في ميزان المدفوعات.
٣. مصدر هام للعملات الأجنبية.

٦ اقليم اوربا السياحي اكبر الاقاليم الجاذبة للسياحة في العالم؟

- ارتفاع أعداد السائحين بين الدول الأوروبية بعضها مع بعض.
- سهولة الحصول على تأشيرة الدخول إلى الإقليم.
- ارتفاع مستوى دخل المواطن الأوربي و تعليمه و ثقافته.

٧ انخفاض أعداد السائحين الوافدين لإقليم الشرق الأوسط عام ٢٠١٣م؟

بسبب .. عدم الاستقرار الأمني و السياسي في كثير من دول الإقليم.

٨ تأسيس الدول العربية منظمة السياحة العربية؟

١. هدف .. وضع الخطط و السياسات التنموية للسياحة العربية مع إلغاء التأشيرات المسبقة.
٢. ترجمة قرارات المجلس الوزاري العربي للسياحة إلى سياسات و خطط للنهوض بصناعة السياحة عربيا.

٩ اهتمام الدول العربية بالتنمية السياحية المستدامة؟

بهدف ...

١. زيادة مستويات الدخل و تحسين ميزان المدفوعات بالدولة.

٢. تعميق العلاقات السياسية بين الحكومات في الدول السياحية.
٣. حماية البيئة وزيادة الاهتمام بالموارد الطبيعية والموروثات الثقافية للمجتمع.
٤. تحقيق العدالة على مستوى الجيل الواحد وكذلك بين الأجيال المختلفة.
٥. توفير فرص جديدة للاستثمار وبالتالي فرص عمل مما يسهم في الارتفاع بالمستويات المعيشية.
٦. تحسين البنية الأساسية والخدمات العامة في المجتمعات المستقبلية للسائحين.
٧. توفير أسواق جديدة للمنتجات المحلية.

١٠ اهتمام دول العالم بالتخطيط السياحي؟

لكونه منهجا علميا لتنظيم وإدارة النشاط السياحي.

٢ النتائج المترتبة على

١ استمرار تصدير الدول للمواد الخام إلى الخارج؟

١. إهدار مكتسبات الأجيال القادمة وحرمان الدولة من إنشاء العديد من الصناعات وبالتالي زيادة معدل البطالة.
٢. فقد مبالغ طائلة نتيجة الفرق بين سعر المادة الخام وسعرها بعد التصنيع.

٢ تركيز السياسات الحديثة على الاقتصاد الأخضر؟

- أدى ذلك إلى .. - تحسين مستوى رفاة الإنسان.
- التقليل من كلاً من .. مخاطر البيئة ، ندرة الموارد.

٣ التنمية السياحية في غانا؟

١. توفير فرص للعمال.
٢. خلق سوق جديد للسياحة.
٢. زيادة الدخل عن طريق فرض رسوم دخول إلى الآثار والأماكن المحمية؛ كذلك من بيع التحف والتذكارات المحلية.

١ الممارسات التجارية للدول المتقدمة من معوقات الصناعة الخارجية في الدول النامية؟

حيث أنها تتبع أسلوب حماية المنتجات عن طريق فرض التعريفات الجمركية على واردات الدول النامية.

٢ يؤثر التخطيط الصناعي على التنمية الصناعية بالدولة؟

حيث أن التخطيط الصناعي أسلوب علمي منظم لتوزيع الموارد وتوجيه النشاط الصناعي.

٣ نجحت السعودية في إقامة مجمعات صناعية تنافس بها المجمعات الصناعية العالمية؟

حيث انتهجت إستراتيجية إقامة مجمعات صناعية ضخمة تعتمد على الصناعات الأساسية المرتبطة بإنتاج البترول وفي هذا الإطار أقيم مجمعان صناعيان هما ..
١. مجمع الجبيل الصناعي.
٢. مجمع ينبع الصناعي.

٤ تجربة غانا إحدى التجارب التي يمكن الاقتداء بها في مجال التنمية السياحية المستدامة؟

حيث اهتمت بوضع استراتيجيات سياحية لاستثمار المناطق التراثية من خلال ..
١. تحديد مشروعات التنمية السياحية ذات الأولوية في التنفيذ.
٢. إعداد دراسات الجدوى المختلفة لها.
٣. تدريب العاملين في القطاع السياحي.
٤. تبني برنامج لصيانة الأماكن التاريخية كالقلاع والحصون وطريق العبيد.
٥. إعداد برنامج لحماية الحياة البرية عن طريق إنشاء منتزهات قومية (منتزه كاكور).

رواية عامة على

جغرافية التنمية البشرية

التعريفات

التعريفات	المصطلح
هو الحد الأدنى من الدخل الذي يحتاجه الفرد أو الأسرة حتى يمكنه إشباع حاجاته الأساسية.	خط الفقر
الدخل الذي يقل عن دولار يوميا.	فقر اقتصادي
حالة تتصف بالحرمان الشديد من حاجات الإنسان الأساسية.	فقر متعدد الأبعاد
كل شخص قادر على العمل وراغب فيه و يبحث عنه	العاطل
مجموع ما ينفق على الصحة من ميزانية الحكومة والقروض و صناديق التأمينات الصحية والاجتماعية.	الإنفاق العام على الصحة
دليل يصدره البرنامج الإنمائي العالمي للأمم المتحدة ويتضمن ثلاث أبعاد وأربعة مؤشرات.	دليل التنمية البشرية
عدد السنوات التي يتوقع أن يعيشها المولود إذا ظلت معدلات الوفاة عن ولادته على حالاتها.	متوسط العمر
مجموع الإنفاق العام على التعليم من الحساب الجاري ومن رأس المال.	الإنفاق العام على التعليم
السكان البالغين 15 سنة فأكثر وغي قادرين على قراءة و كتابة جمل بسيطة في أي لغة.	الأمية
تقسيم الدولة إلى مقاطعات لها استقلال ذاتي عدا المالية والدفاع	النظام الفيدرالي
الفرق بين قيمة المنتج النهائي ومستلزمات إنتاجه (المواد الخام مصادر الطاقة الأجور).	القيمة المضافة
العمل العربي المشترك في المجال الاقتصادي لخلق مجتمع واحد.	لتكامل الاقتصادي

١. اهتمام دول العالم بالتعليم كجزء من التنمية البشرية؟
لأن التعليم يعمل على بناء القيادات والكفاءات التي تحتاجها التنمية.

٢. الاهتمام بمجالي الصحة والتعليم؟
لأن الصحة تعمل على ..

- رفع متوسط الأعمار.
- انخفاض معدلات وفيات الأطفال.
- توفير مياه الشرب النقية والمرافق الصحية.
- رعاية الأمومة والطفولة والمعاقين.
- الصحة الوقائية والخدمات العلاجية.

لأن التعليم يعمل على ..

إعداد إنسان قادر التفكير الإبداعي ومواجهة مشكلات الحياة.

٣. اهتمام الدول بمحاربة الفقر وتوفير دخل مناسب للفرد؟

لأن ارتفاع دخل الفرد يؤثر بشكل غير مباشر في ..

١. مستوى التنمية البشرية.
٢. الجانب الصحي.
٣. مستوى التعليم.

٤. أهمية المؤشرات الثلاثة (التعليم والصحة والدخل) بالنسبة للتنمية البشرية؟

- لأنها تهدف إلى ..
- زيادة الدخل القومي.
- تحدد مستوى التنمية البشرية للدول.
- تؤثر وتتأثر بعضها البعض.

٥. أهمية مؤشرات التنمية البشرية؟

لأنه يتم من خلالها ..

١. تشخيص وتحديد المشكلات للوقوف على الوضع الراهن تمهيدا لحلها.
٢. قياس مقدار استفادة المجتمع من خطط التنمية.
٣. معرفة مدى تقدم أو تأخر المجتمعات.

- ١. الوقوف على مدى توفر .. صحة ، تعليم ، دخل ...
- ٢. متابعة وتقييم الخطط اللازمة لتحقيق الأهداف قصيرة وطويلة الأجل.

٦ شمولية تعريف الفقر من منظور تنموي من المنظور الاقتصادي؟

لأن الفقر الاقتصادي يقصد به الدخل الذي يقل دولارين في اليوم للضرد ؛ بينما يقصد بالفقر متعدد الأبعاد بأنه حالة تتصف بالحرمان الشديد من الحاجات الأساسية.

٧ ارتفاع معدل الفقر في مصر؟

بسبب انخفاض الدخل القومي ، الزيادة السكانية ، انخفاض معدل النمو الاقتصادي.

٨ ارتفاع معدل الفقر الاقتصادي في مصر عام ٢٠١٣م؟

بسبب .. تحسن الرعاية الصحية والتي أدت إلى انخفاض معدلات الوفيات.

٩ قصور دليل التنمية البشرية؟

- ١. مؤشر توقع الحياة عند الميلاد قد لا يعبر بالضرورة عن سلامة الصحة البدنية و التنسية للأفراد.
- ٢. معدل أمية البالغين لا يعكس مستوى التعليم ومدى مساهمته في إكساب الأفراد المعرفة.
- ٣. نصيب الضرد من الناتج القومي لا يعكس العدالة في التوزيع.

١٠ اهتمام ماليزيا بالتعليم؟

لتأسيس نظام تعليمي قوي يساعدها على تلبية احتياجات سوق العمل ورفع مهارات القوى العاملة.

١١ تحقيق البرازيل لنجاح كبير في السنوات الأخيرة في تنمية وتطوير قطاع الصناعة؟

بسبب ..

- ١. التركيز على سياسة ((التصنيع بدلاً من الاعتماد على الاستيراد)) .
- ٢. الاهتمام بالصناعات المتقدمة ، مثل .. السيارات والطائرات وتمتلك البرازيل شركة من أكبر شركات تصنيع الطائرات التجارية في العالم.

٣. الاهتمام بتنمية الصناعات البسيطة القائمة على المواد الخام الزراعية والحيوانية مثل الصناعات الغذائية والجلدية والنسيجية.

١٧) نجاح ماليزيا و البرازيل في تحقيق التنمية؟

١. الاستقرار السياسي والاقتصادي.
٢. الاندماج في التكتلات الاقتصادية.
٣. المشاركة الشعبية.
٤. التعايش السلمي.

١٨) أهمية التأييد الشعبي لتحقيق التنمية؟

لأن التأييد الشعبي أحد عوامل النجاح في عملية التنمية و ظهر ذلك في ..
 - تجربة ماليزيا .. حرصت حكومتها على التأييد الشعبي و تعميق الشعور من بأن المواطن هو المستهدف من عملية التنمية و أن تقدم البلاد يقوم كفرد عليه كفرد قبل كل شيء.

- تجربة البرازيل .. قامت التجربة البرازيلية بإرادة شعبية حقيقية ووعي جماهيري بأهمية التنمية ، فالشعب البرازيلي بطبقاته الفقيرة هو من تحمل أعباء سياسات التقشف حتى تعافى الاقتصاد البرازيلي.

١٩) للتكامل الاقتصادي أهمية كبيرة للوطن العربي؟

لأن التكامل الاقتصادي يعد الوسيلة الأساسية التي بها يستطيع الوطن تحقيق التنمية و مواجهة و التحديات الاقتصادية (داخليا و خارجيا) .
 التخلص من التبعية و القيود الخارجية.

٢٥) يمتلك الوطن العربي العديد من الموارد الطبيعية (النباتية - المعدنية - الزراعية) .

بسبب .. تنوع أشكال السطح الوطن العربي التي تكونت عبر العصور و الأزمنة الجيولوجية المختلفة ما بين سهول و هضاب و جبال و منخفضات.

٢٦) تواجه التنمية في الوطن العربي العديد من التحديات؟

بسبب :

١. ضآلة الإنتاج العربي ..
٢. قلة حجم التجارة الخارجية ..
٣. ضعف التجارة العربية البينية ..

٤. تبعية الاقتصاديات العربية للخارج ..
٥. تباين المسافات الاقتصادية الفاصلة بين الأسواق العربية ..
٦. معدودية التركيب السلي للتجارة الخارجية للدول العربية ..
٧. التركيز على القطاع الزراعي التقليدي وضعف استقلال الموارد الطبيعية ..
٨. نقص المعرفة والتكنولوجيا ..
٩. عدم الاستقرار السياسي ..
١٠. مشكلة الفقر والمرض ..
١١. النمو السكاني المتزايد ..

النتائج المطرزة على

١ تبعية الاقتصاديات العربية للخارج؟

بسبب ... الإفراط في استيراد مكونات التكنولوجيا الحديثة من الخارج.

٢ تباين المسافات الفاصلة بين الأسواق العربية؟

بسبب نقص وسائل المواصلات في الدول العربية التي جعلت التكلفة الاقتصادية لقطع المسافات المكانية باهظة وأكثر منها بين البلد العربي والبلدان الأجنبية.

٣ للتكامل الاقتصادي أهمية كبيرة للوطن العربي؟

لان التكامل الاقتصادي العربي يعد وسيلة مهمة يستطيع الوطن العربي من خلالها ..

١. تحقيق التنمية ومواجهة التحديات الاقتصادية (داخليا و خارجيا).
٢. التخلص من التبعية والقيود الخارجية.

٤ ارتفاع الدين الداخلي للبرازيل الى ٢٥٠ مليار دولار؟

- زادت مشكلات الفقر.
- ارتفعت معدلات البطالة.
- تدهور أحوال التعليم.
- انتشار الجريمة.
- تفاقم مشكلات الجوع والبطالة والفقر والتفاوت الشديد في الدخل.

٥) مكثرة الاستثمارات المباشرة التي تلقنها البرازيل ؟
زاد دخل نصف سكان البرازيل خلال السنوات العشر الأخيرة بنسبة ٦٨٪.

٦) تميز الاقتصاد الماليزي و البرازيلي بالاستقرار؟
أدى ذلك إلى .. ١. توفر بيئة مناسبة لنمو المدخرات المحلية.
٢. جذب الاستثمارات الأجنبية.

٧) الموقع الجغرافي للوطن العربي؟
١. جعل الوطن العربي يربط بين قارات العالم القديم (آسيا ، أفريقيا ، أوروبا)
بمواردها المتنوعة.
٢. جعل الوطن العربي يتحكم في أهم المسطحات المائية العالمية والممرات
البحرية التجارية في العالم.

٨) تنوع الموارد المعدنية و الموارد الزراعية بالوطن العربي؟
ترتب على ذلك .. اكتساب الوطن العربي أهمية اقتصادية على المستويين المحلي
و العالمي.

٤ أيد بالأدلة صحة ما يلي

١) تطور مفهوم التنمية البشرية؟

حيث لم تعد التنمية البشرية مجرد زيادة في دخل الفرد وإنما اتسع مفهومها ليشمل
- الاهتمام بالمستوى التعليمي والصحي والسياسي والثقافي.
- التأكيد على تمكين المرأة اقتصاديا وسياسيا وثقافيا.

٢) تعد الصحة من أبعاد التنمية البشرية؟

حيث تهتم ب ..

- رفع متوسط الأعمار
- توفير مياة الشرب النقية والمرافق الصحية.
- رعاية الأمومة والطفولة والمعاقين. - الصحة الوقائية والخدمات العلاجية.
- انخفاض معدلات وفيات الأطفال.

- حيث بدأت الدول بوضع استراتيجيات للتنمية البشرية تتركز حول المحاور التالية
١. القضاء على الأمية.
 ٢. تطوير أهداف و خطط التعليم.
 ٣. الاهتمام بالتدريب وإعادة التأهيل واستخدام أحدث الوسائل التكنولوجية.
 ٤. تطوير نظم و شروط و قوانين العمل و التعاقد.
 ٥. تحسين ظروف بيئة العمل.
 ٦. توسيع شبكة التغطية للتأمين الصحي والاجتماعي ليشمل أغلبية فئات المجتمع.
 ٧. توفير مصادر التمويل لمشروعات الرعاية الصحية والصحة الوقائية.

٣ توجد علاقة وثيقة بين التنمية البشرية و حقوق الإنسان؟

أصبحت التنمية البشرية حق أساسي من حقوق الإنسان وهذا ما أكدت عليه المواثيق الدولية (إعلان الحق في التنمية) مثل الجمعية العامة للأمم المتحدة عام ١٩٨٦م

٤ العنصر البشري هو سر نهضة دول جنوب شرق آسيا؟

سر تقدم دول جنوب شرق آسيا اعتمادها على العنصر البشري كسبيل لتحقيق التنمية و الدليل على ذلك عندما تعرضت تلك البلدان لأزمة مالية كبرى استطاعت أن تسترد قوتها الاقتصادية وهو ما أرجعه الاقتصاديون للثروة البشرية.

٥ حققت ماليزيا نجاحا ملحوظا في مجال التنمية البشرية والاقتصادية؟

- في مجال التعليم .. قامت بتأسيس نظام تعليمي قوي ساعدها على تلبية احتياجات سوق العمل و رفع مهارات القوى العاملة.
- في مجال الرعاية الصحية والاجتماعية .. حيث وضعت الحكومة الماليزية الفقراء في أولويات اهتمامها بدعم معظم الأدوية وإنشاء مساكن وتوفير المرافق للبنية الأساسية و توفير فرص العمل.
- في مجال التنمية الاقتصادية .. تحولت من دولة زراعية بدائية إلى دولة متقدمة تحتل المرتبة التاسعة عالميا بين الدول المصدرة للتكنولوجيا العالمية.

٦. انشاء العديد من المساكن للفقراء و تقديم قروض بدون فوائد لشراء مساكن قليلة التكلفة.
٢. دعم معظم الأدوية التي يستهلكها الفقراء و تقديم خدمات مجانية في رعاية الأمهات و الأطفال.
٣. توفير مرافق البنية الأساسية في المناطق النائية الفقيرة ، بما في ذلك مرافق النقل و الاتصالات .
٤. توفير فرص عمل للفقراء و تقديم اعتمادات مالية لصالح مشروعات موجهة لتطوير الريف و الزراعة.

٦. نجحت البرازيل في العقدين الماضيين أن تحقق استقرارا اقتصاديا؟

حيث ظهر ذلك من خلال .. انخفاض معدلات التضخم ، تحقيق نمو اقتصادي مرتفع و انخفاض نسبة الديون إلى إجمالي الناتج المحلي ، فضلا عن الحد من التفاوت في الدخل و تراجع الفقر.

- مع نهاية عام ٢٠١١ م و أعلنت البرازيل رسمياً أنها أصبحت سادس أكبر اقتصاد في العالم ، متقدمة بذلك على بريطانيا.

٧. ربطت البرازيل خطط تنميتها الصحية و الاجتماعية بالتعليم؟

حيث أصبح الالتحاق بالتعليم و الالتزام بالحصول على الأمصال و اللقاحات للأطفال بشكل منتظم شرطاً أساسياً لحصول الأسر الفقيرة على الدعم.

٨. اهتمام الاقتصاد البرازيلي بتحقيق العدالة الاجتماعية في توزيع الثروة؟

حيث وضعت الحكومات البرازيلية المتعاقبة خططا إستراتيجية لمحاربة الفقر و الحد من التفاوت في الدخل ، مع مراعاة حماية حقوق المستثمرين و رجال الأعمال المحليين و الأجانب مما يؤدي إلى انتعاش الأسواق و زيادة فرص العمل.

٩. تمتلك البرازيل مقومات الجذب السياحي؟

١. ابتكرت سياحة المهرجانات.
٢. تنظيمها كأس العالم ٢٠١٤م.
٣. امتلاكها طبيعة خلابة و منها شلالات إجوازا.

٦. انشاء العديد من المساكن للفقراء و تقديم قروض بدون فوائد لشراء مساكن قليلة التكلفة.
٢. دعم معظم الأدوية التي يستهلكها الفقراء و تقديم خدمات مجانية في رعاية الأمهات و الأطفال.
٣. توفير مرافق البنية الأساسية في المناطق النائية الفقيرة ، بما في ذلك مرافق النقل و الاتصالات .
٤. توفير فرص عمل للفقراء و تقديم اعتمادات مالية لصالح مشروعات موجهة لتطوير الريف و الزراعة.

٦. نجحت البرازيل في العقدين الماضيين أن تحقق استقرارا اقتصاديا؟

- حيث ظهر ذلك من خلال .. انخفاض معدلات التضخم ، تحقيق نمو اقتصادي مرتفع و انخفاض نسبة الديون إلى إجمالي الناتج المحلي ، فضلا عن الحد من التفاوت في الدخل و تراجع الفقر.
- مع نهاية عام ٢٠١١ م و أعلنت البرازيل رسمياً أنها أصبحت سادس أكبر اقتصاد في العالم ، متقدمة بذلك على بريطانيا.

٧. ربطت البرازيل خطط تنميتها الصحية و الاجتماعية بالتعليم؟

- حيث أصبح الالتحاق بالتعليم و الالتزام بالحصول على الأمصال و اللقاحات للأطفال بشكل منتظم شرطاً أساسياً لحصول الأسر الفقيرة على الدعم.

٨. اهتمام الاقتصاد البرازيلي بتحقيق العدالة الاجتماعية في توزيع الثروة؟

- حيث وضعت الحكومات البرازيلية المتعاقبة خططا إستراتيجية لمحاربة الفقر و الحد من التفاوت في الدخل ، مع مراعاة حماية حقوق المستثمرين و رجال الأعمال المحليين و الأجانب مما يؤدي إلى انتعاش الأسواق و زيادة فرص العمل.

٩. تمتلك البرازيل مقومات الجذب السياحي؟

١. ابتكرت سياحة المهرجانات.
٢. تنظيمها كأس العالم ٢٠١٤م.
٣. امتلاكها طبيعة خلابة و منها شلالات إجوازا.

نجحت البرازيل في انعاش اقتصادها من خلال سياحة المهرجانات؟

البنكرت البرازيل نوعا خاصا من السياحة يعرف بـسياحة المهرجانات ، فالبرازيل دولة تمتلك تراثا شعبيا شديدا خصوصا في الاحتفال عن طريق المهرجانات الجماهيرية التي تشهد حالة من الاحتفال الجماعي في الشوارع برقصات السامبا و الموسيقى والألوان والاستعراضات المبهرة ، التي نجحت في جذب خمسة ملايين سائحا سنويا.

بعد التعايش السلمي أحد عناصر نجاح التجربة الماليزية؟

وذلك من خلال ..

١. إقرار بالتنوع العرقي والديني.
٢. الإقرار بوجود اختلافات حقيقية في مستويات الدخل والتعليم بين فئات المجتمع.
٣. التوافق على ضرورة علاج هذه الاختلافات بشكل هادئ وواقعي وتدرجي.
٤. حفظ حقوق الجميع والمشاركة في المسؤولية.

يملك الوطن العربي العديد من الثروات المعدنية ومصادر الطاقة؟

ينتج الوطن العربي :

- بعض المعادن مثل : الحديد والمنجنيز والرصاص والزنك.
- بعض الأملاح مثل : البوتاس وغيره.

للصناعات التقليدية أهمية كبيرة؟

تعمل على تشجيع السياحة ، كصناعات التحف والأواني المعدنية والنحاسية و الفضية وغيرها.

٥ نقاط هامة على الوحدة

١. ساد مفهوم التنمية البشرية منذ العقد الأخير من القرن العشرين.
٢. تركز التنمية البشرية على ثلاثة أبعاد متداخلة .. هي : التعليم والصحة و الدخل.
٣. ارتفاع متوسط دخل الفرد يؤثر بشكل غير مباشر في ..
٤. مستوى التنمية البشرية ، الجانب الصحي ، مستوى التعليم.
٥. أصبحت التنمية البشرية حق أساسي من حقوق الإنسان وهذا ما أكدت عليه المواثيق الدولية (إعلان الحق في التنمية) مثل الجمعية العامة للأمم المتحدة عام ١٩٨٦م.
٦. وضعت الأمم المتحدة ١٨٠ مؤشراً للتنمية البشرية وتم اختزالها في ١٩ مؤشراً.
٧. أولى الدول إنفاقاً على الصحة .. الولايات المتحدة الأمريكية وكوبا.
٨. أدنى الدول إنفاقاً على الصحة .. غينيا.
٩. أكثر الدول العربية ارتفاعاً في متوسط العمر المتوقع : الإمارات.
١٠. أقل الدول العربية في متوسط العمر المتوقع : الصومال.
١١. أولى دول العالم إنفاقاً على التعليم ... كوبا وأيسلندا.
١٢. أدنى الدول إنفاقاً على التعليم ... جمهورية أفريقيا الوسطى.
١٣. يتضمن دليل التنمية ثلاثة أبعاد وهي الصحة والتعليم والدخل : ويقاس مستوى هذه الأبعاد بأربعة مؤشرات.
١٤. تحتل ماليزيا المرتبة التاسعة عالمياً بين الدول المصدرة للصناعات التكنولوجية العالية.
١٥. ابتكرت البرازيل نوعاً خاصاً من السياحة يعرف بـ «سياحة المهرجانات».
١٦. الميركسور : رابع أكبر قوة اقتصادية في العالم بعد الاتحاد الأوروبي.
١٧. البريكس : شكلته البرازيل مع روسيا والصين والهند في ٢٠٠٩م ثم انضمت لهم جنوب أفريقيا في ٢٠١٠م.

امتحانات الفصل الدراسي الثاني

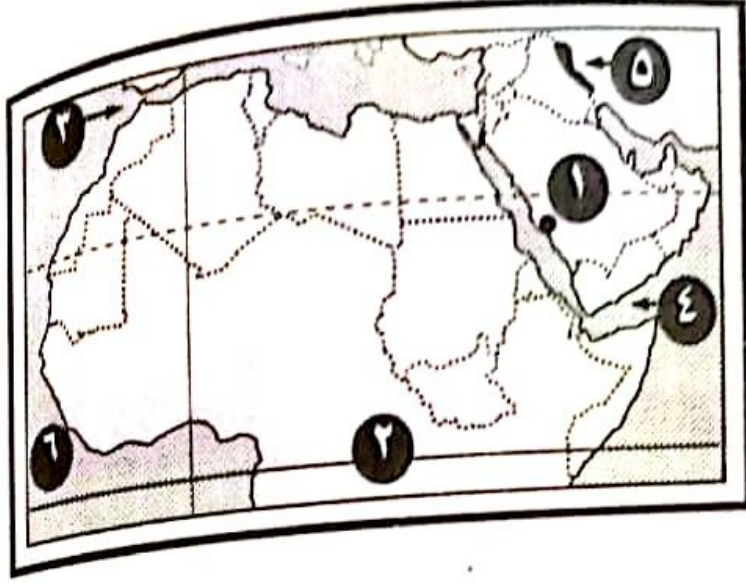
الفصل الدراسي : الثاني .
المادة : جغرافيا .
الزمن : ساعة ونصف .

٢٠١٦ / ٢٠١٧ م
١٤٣٧ / ١٤٣٨ هـ

الأزهـر الشريف .
محافظة القاهرة .

السؤال الأول

أ) امامك خريطة صماء للوطن العربي ، اكتب مدلول الأرقام التي عليها :



- ١- مدينة بها مقر المنظمة العربية للسياحة :
- ٢- دائرة عرض رئيسية :
- ٢- مضيق
- ٤- خليج
- ٥- جبال تحد الوطن العربي من جهة الشرق :
- ٦- المحيط

ب) ما المقصود بـ ... ؟

٢- دليل التنمية البشرية .

١- التعايش السلمي .

السؤال الثاني

أ) اختر الإجابة الصحيحة مما بين القوسين فيما يلي :

١- شكّلت البرازيل مع روسيا والصين والهند مجموعة اقتصادية يُطلق عليها:

(البريكس - الميركسور - الأيدمو - اليونيدو)

٢- من أولى الدول العربية في استقطاب السياح لها :

(مصر والإمارات - ليبيا والسودان - الجزائر والمغرب - لبنان وسوريا)

٣- من الدول ذات التنمية البشرية المرتفعة :

(مصر والصين - ماليزيا ولبنان - كينيا واثيوبيا - كوريا واليابان)

٤- جبال تحدد الوطن العربي من جهة الشمال ،
(طوروس - زاغروس - البحر الأحمر - أطلس)

(ب) بم تفسر ... ؟

- ١- تأتي أوروبا في مقدمة الأقاليم السياحية جذباً للسائحين .
- ٢- ارتفاع معدل الفقر الاقتصادي في مصر .
- ٣- ازدياد أهمية موقع الوطن العربي استراتيجياً في السلم والحرب .

السؤال الثالث

(أ) اعمل بكلمة مناسبة :

- ١- أولى دول العالم إنفاقاً على الصحة ، وأقل دول العالم إنفاقاً
- ٢- من الأنماط السياحية الجديدة التي تجذب السياح : سياحة و.....
- ٣- تركز التنمية البشرية على ثلاثة أبعاد متداخلة منها : و.....

(ب) ما الفرق بين كل من : الفقر الاقتصادي ، والفقر متعدد الأبعاد ؟

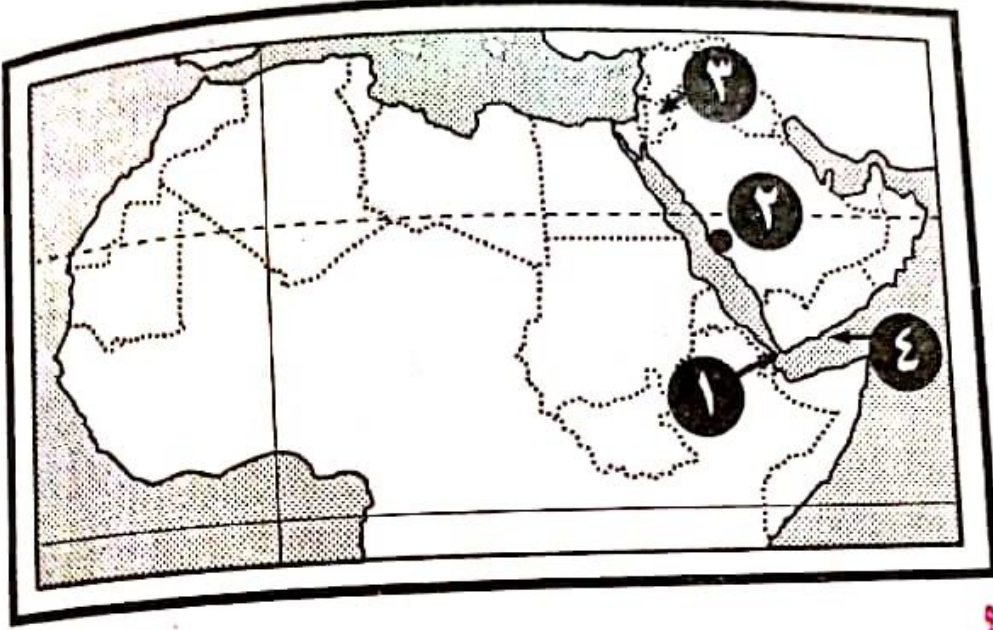
السؤال الرابع

ضع علامة (✓) أمام العبارة الصحيحة ، وعلامة (×) أمام العبارة الخطأ مع تصويب الخطأ:

- ١- تعتبر (مصر) من الدول ذات التنمية البشرية المتوسطة . ()
- ٢- فلسفة التنمية البشرية في (ماليزيا) تقوم على فكرة المساواة في الدخل . ()
- ٣- الاستقرار السياسي والاقتصادي له أكبر الأثر في التنمية في كل من ماليزيا والبرازيل . ()
- ٤- يشغل الوطن العربي حوالي ٤٠ خط طول ، و٦٦ دائرة عرضية . ()
- ٥- ازدادت أعداد السائحين الوافدين لإقليم الشرق الأوسط السياحي عام ٢٠١٢م . ()
- ٦- يعتبر (الميركسون) أكبر تكتل اقتصادي في أمريكا الشمالية . ()
- ٧- (الفتة ، والدين ، والتاريخ المشترك) من أهم مقومات التنمية في الوطن العربي . ()

السؤال الأول

أ) أمامك خريطة صماء للوطن العربي ، اكتب مدلول الأرقام الموقعة عليها :



- ١- مضيق
- ٢- مقر المنظمة العربية للسياحة مدينة
- ٣- دولة بها تنمية بشرية متوسطة دولة
- ٤- خليج

ب) ما أبعاد التنمية البشرية ؟

السؤال الثاني

اختر الإجابة الصحيحة مما بين القوسين :

- ١- تعد (مصر والصين) من الدول ذات التنمية البشرية
(المرتفعة جداً - المرتفعة - المتوسطة - المنخفضة)
- ٢- من الدول ذات التنمية البشرية المرتفعة :
(كينيا - ماليزيا - الصومال - زامبيا)
- ٣- من مقومات الجذب السياحي في البرازيل :
(سياحة المهرجانات - تنظيم كأس العالم - رقصات السامبا - الطبيعة - كل ما سبق)
- ٤- من أبعاد التنمية البشرية :
(الزراعة والصناعة - التعليم والصحة - التجارة والسياحة)

التوفير (ماليزيا) لفرص عمل للفقراء | كان أحد مجالات التنمية في

الرعاية الصحية والاجتماعية - التنمية الاقتصادية)
(التعليم

السؤال الثالث

علامة (✓) أمام العبارة الصحيحة ، وعلامة (x) أمام العبارة الخطأ :

من مؤشرات التنمية البشرية: معدل الإلمام بالقراءة والكتابة لدى

()

بالقرب .

قارة أوروبا أكبر الأقاليم السياحية جذباً للسياح في عام ٢٠٠٢م . ()

اتبعت (البرازيل) سياسة التثقف باعتبارها الطريق الأفضل لحل

()

شكالاتها الاقتصادية.

فشلت (ماليزيا) في تأسيس نظام تعليمي يساعدها على تلبية احتياجات

()

سوق العمل .

انخفاض عدد السائحين الوافدين لإقليم الشرق الأوسط السياحي عام

()

٢٠١٢م مقارنة بعام ٢٠١٠م .

السؤال الرابع

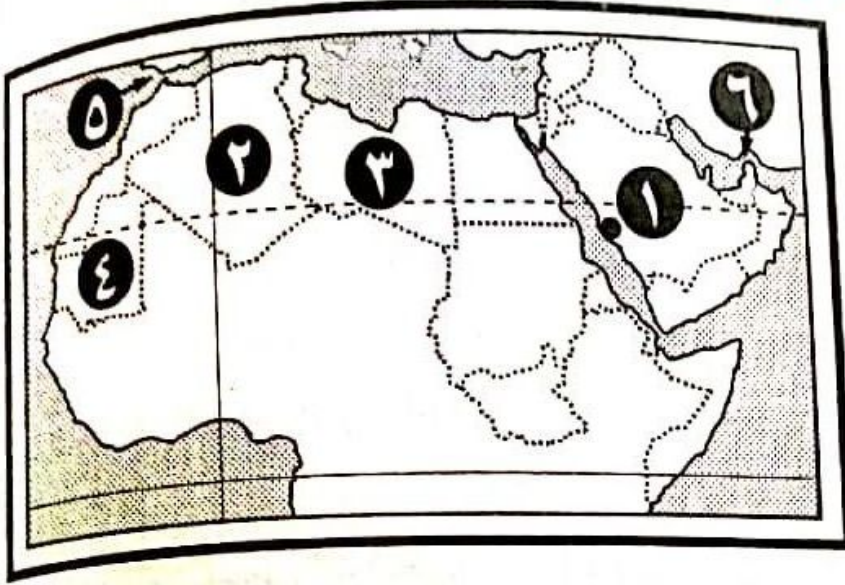
ما المقصود بكل من ... ؟

(أ) التخطيط السياحي .

(ب) دليل التنمية البشرية .

السؤال الأول

أ) امامك خريطة سماء للوطن العربي ، اكتب مدلول الأرقام التالية :



- ١- دولة بها المنظمة العربية للسياحة :
- ٢- دولة ذات تنمية بشرية مرتفعة :
- ٣- دولة ذات دخل مرتفع :
- ٤- أقل الدول في متوسط العمر: دولة.....
- ٥- مضيق
- ٦- مضيق

ب) وضح العلاقة بين كل من ... :

- ١- الاستقرار السياسي للدولة ، والنشاط السياحي .
- ٢- الدخل ، وتحقيق التنمية البشرية .

السؤال الثاني

بم تفسر...؟

- ١- انخفاض عدد السائحين الوافدين لإقليم الشرق الأوسط عام ٢٠١٣م؟
- ٢- ارتفاع معدل الفقر الاقتصادي في مصر عام ٢٠١٣م؟
- ٣- اهتمام دول العالم بالتخطيط السياحي؟
- ٤- ساد مفهوم التنمية البشرية منذ العقد الأخير من القرن العشرين؟
- ٥- تبعية الاقتصاديات العربية للخارج؟

بدر الإجابة الصحيحة مما بين القوسين :-

.....أحد مكونات الصادرات الخدمية .

(الصناعة - الزراعة - السياحة - الرعي)

.....يوجد مقر المنظمة العربية للسياحة في مدينة

(القاهرة - دبي - الرياض - جدة)

.....أكثر دول العالم إنفاقاً على الصحة : الولايات المتحدة الأمريكية و

(مصر - غينيا - كوبا - أفريقيا الوسطى)

.....تحتل (ماليزيا) المرتبة عالمياً بين الدول المُصدرة للتكنولوجيا .

(السابعة - الثامنة - التاسعة - العاشرة)

.....ابتكرت دولة سياحة المهرجانات .

(ماليزيا - البرازيل - الهند - الصين)

السؤال الرابع

ما المقصود بالمصطلحات الآتية ... ؟

١- التنمية السياحية المستدامة .

٢- التنمية البشرية .

٣- البريكس .

٤- التكامل الاقتصادي العربي .

٥- الفقر الاقتصادي .

الفصل الدراسي : الثاني.
المادة : جغرافيا.
الزمن : ساعة ونصف.

٢٠١٧ / ٢٠١٨ م
١٤٣٨ / ١٤٣٩ هـ

الأزهـر الشريف.
محافظة المنيا.

السؤال الأول

(أ) أمامك خريطة (ماليزيا) ، وضع مدلول الأرقام :-



- ١- مضيق
- ٢- العاصمة
- ٣- المحيط
- ٤- بحر

(ب) ما النتائج المترتبة على ؟

- ١- تحسّن الرعاية الصحية بالوطن العربي؟
- ٢- إفراط الدول العربية

في استيراد مكونات التكنولوجيا من الخارج؟
٢- ارتفاع الدين الخارجي للبرازيل عام ١٩٥٥م؟

السؤال الثاني

(أ) بم تفسر ... ؟

- ١- أهمية صناعة السياحة؟
- ٢- ارتفاع معدل الفقر الاقتصادي بمصر؟
- ٣- أهمية تكوينات الصخور النارية والمتحولة بالوطن العربي.

(ب) وضح العلاقة بين ..

- ١- التعليم ، والمجال الصحي .
- ٢- سياحة المهرجانات ، و أعداد السائحين بالبرازيل.

(وضع المقصود بما يأتي :

(الفقر الاقتصادي - دليل التنمية البشرية - البريكس)

(ب) اختر الإجابة الصحيحة مما بين القوسين :-

١- من دول التنمية البشرية المنخفضة :

(مصر - الأردن - إثيوبيا)

٢- عدد المنظمات التابعة لجامعة الدول العربية : منظمات .

(٦ - ٧ - ٨)

٣- مقر منظمة السياحة العربية :

(القاهرة - تونس - جدة)

٤- أولى دول العالم إنفاقا على الصحة

(اليابان - فرنسا - الولايات المتحدة)

السؤال الرابع

أجب عن الأسئلة التالية :

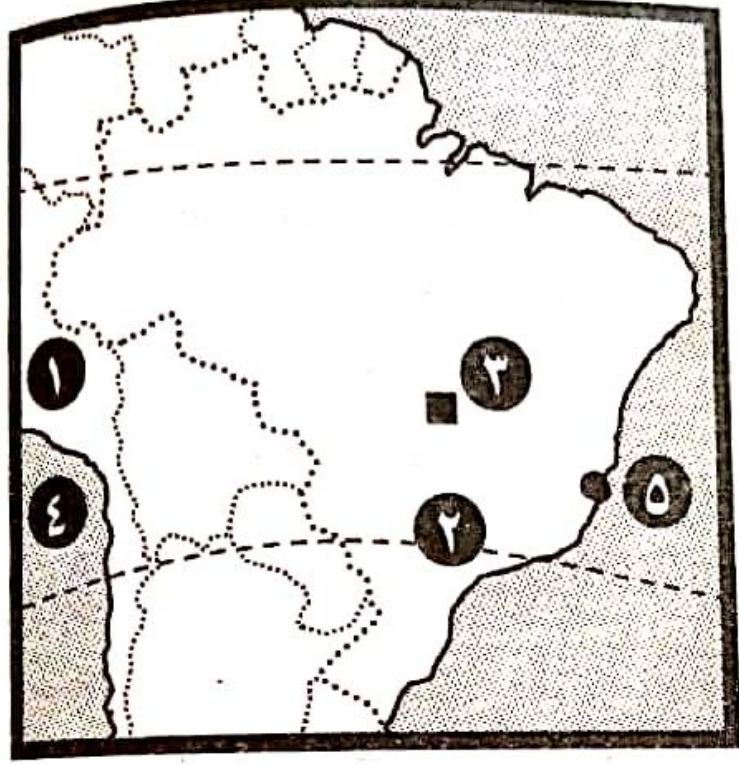
١. ماهي مقترحاتك : للحد من الفقر في الدول العربية؟

٢. كيف : يمكن تحقيق الشراكة والتعاون الدولي لتحقيق التنمية؟

٣. ماذا يحدث إذا : زادت واردات دولة ما من السلع والخدمات؟

السؤال الأول

(أ) أمامك خريطة صماء لدولة (البرازيل)، اكتب مدلول الأرقام التي عليها :



- ١- دولة
- ٢- دائرة عرض
- ٣- العاصمة
- ٤- المحيط
- ٥- مدينة

(ب) أكدنا معظم الدراسات على أن الاستثمار في الموارد البشرية يؤدي إلى زيادة الإنتاج ، وإحداث تنمية اقتصادية .
يتبعها تنمية بشرية) .
في ضوء هذه العبارة ، وضح :

- ١- المقصود بالتنمية البشرية -
- ٢- أبعاد ومؤشرات دليل التنمية البشرية -

السؤال الثاني

أدبم تفسر...؟

- ١- أهمية التخطيط للتنمية السياحية؟
- ٢- تعثر التنمية في الوطن العربي؟
- ٣- تبحث كثير من الدول النامية في أسباب ارتفاع مستويات التنمية الاقتصادية والبشرية في الدول المتقدمة؟

ب- ضع علامة (✓) أمام العبارة الصحيحة ، وعلامة (x) أمام العبارة الخطأ مع ذكر السبب:

- ١- تتباين المسافات الفاصلة بين الأسواق العربية - ()
- ٢- تمتلك (البرازيل) مقومات الجذب السياحي - ()

السؤال الثاني :-
اكتب المقصود بالمصطلحات الآتية :-

- 1- متوسط العمر عند الميلاد.
- 2- ميزان المدفوعات.
- 3- المدرسة الذكوية.

ب) قارن بين كل مما يأتي :

- 1- الفقر الاقتصادي ، والفقر متعدد الأبعاد.
- 2- سياحة المغامرات ، وسياحة الرياضيات البحرية.

السؤال الرابع

ا) اثبت بالأدلة الجغرافية ما يلي :-

- 1- تنوع الأقاليم المناخية والنباتية في الوطن العربي.
- 2- أبعاد التنمية البشرية مترابطة ومتداخلة.
- 3- نقص المعرفة و التكنولوجيا من تحديات وعقبات التنمية في الوطن العربي.

ب) ما العلاقة بين كل مما يأتي ... ؟

- 1- تنوع صخور الوطن العربي ، والموارد المعدنية.
- 2- الاستقرار السياسي والاقتصادي و (التنمية) في ماليزيا.

6

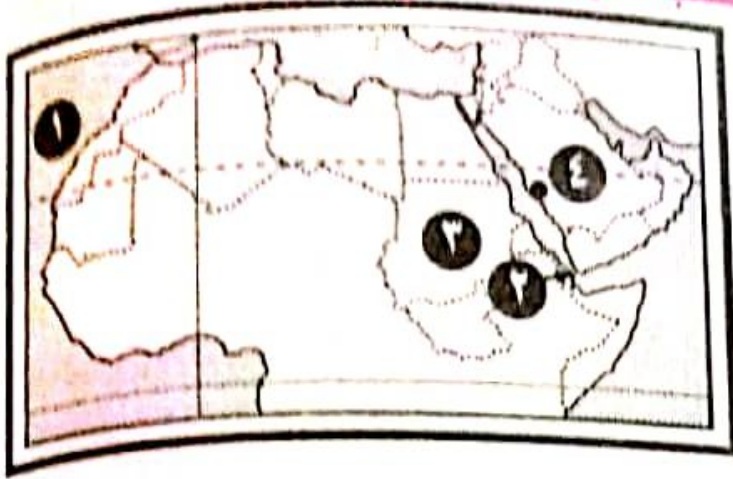
الأزهر الشريف.	٢٠١٧ / ٢٠١٨ م	الفصل الدراسي : الثاني.
محافظة سوهاج.	١٤٢٨ / ١٤٢٩ هـ	المادة : جغرافيا.
		الزمن : ساعة ونصف.

السؤال الأول

ا) اكتب المقصود بكل من ... ؟

- 1- ميزان المدفوعات .
- 2- خط الفقر .
- 3- التكامل الاقتصادي العربي .

ب) امامك خريطة صماء للوطن العربي . اكتب مدلول الأرقام التي عليها :



- ١- المحيط
- ٢- مضيق
- ٣- دولة عربية
- ٤- مدينة بها مقر المنظمة العربية للسياحة

السؤال الثاني

أ) اختر الإجابة الصحيحة من بين القوسين :-

- ١- أولى الدول العربية للجذب السياحي
(مصر والأردن - الأردن وسوريا - مصر والسعودية - تونس واليمن)
- ٢- تعد دولة من الدول ذات التنمية البشرية المتوسطة .
(كينيا - الصين - البرازيل - كوريا الجنوبية)
- ٣- توفير (ماليزيا) لفرص عمل للفقراء كان أحد مجالات التنمية في مجال
- (التعليم - الرعاية الصحية والاجتماعية - تنمية الموارد البيئية - التنمية الاقتصادية)
- ٤- يمتد الوطن العربي في نحو درجة عرضية.
(٣٠° - ٤٠° - ٥٠° - ٦٠°)

ب) أثبت بالأدلة صحة كل عبارة من العبارات التالية :-

- ١- تتنوع أنماط السياحة في الوطن العربي .
- ٢- للتنمية البشرية أهداف عديدة .

السؤال الثالث

أ) ضع علامة (✓) أمام العبارة الصحيحة ، وعلامة (x) أمام العبارة الخاطئة :

- ١- ساد مفهوم (التنمية البشرية) منذ العقد الأخير من القرن التاسع عشر . ()
- ٢- يكمن سر نهضة دول جنوب شرق آسيا في اعتمادها على العنصر البشري . ()
- ٣- اتبعت (البرازيل) سياسة التثقف باعتبارها الطريق الأفضل لحل مشكلاتها الاقتصادية . ()

٤- التنمية الحالية في الدول العربية تتم في ظل الشعبية الاقتصادية للخارج . ()
 (ب) بم تفسر ... ؟

- ١- ارتفاع معدل الفقر الاقتصادي في مصر عام ٢٠١٣ م .
- ٢- تباين المسافات الفاصلة بين الأسواق العربية .
- ٣- يأتي إقليم أوروبا السياحي في مقدمة الأقاليم السياحية جذبا للسائحين .

السؤال الرابع

(أ) ما النتائج المترتبة على ... ؟

- ١- التنمية السياحية المستدامة في (غانا) .
- ٢- تميز الأداء الاقتصادي لـ (ماليزيا والبرازيل) بالاستقرار .
- ٣- اتساع مساحة الوطن العربي .

(ب) ماذا يحدث إذا ... ؟

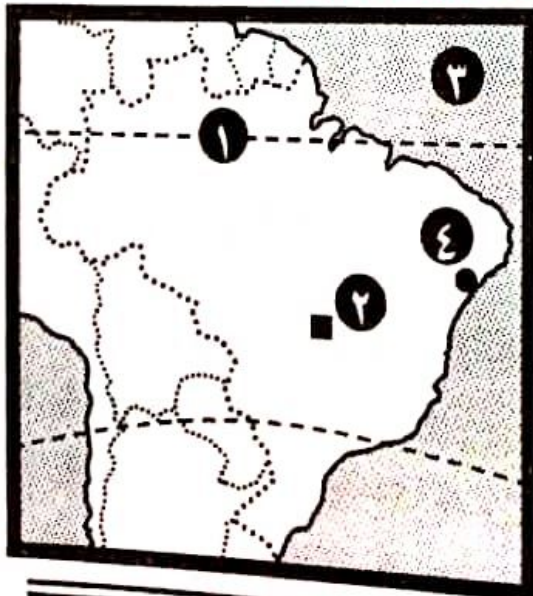
- ١- تحوّل الوطن العربي إلى كتل اقتصادي بالنسبة لقطاع السياحة .
- ٢- اهتمت دول العالم النامي بتحسين أوضاعها الصحية والتعليمية .



الأزهر الشريف. محافظة القليوبية.	٢٠١٧ / ٢٠١٨ م ١٤٣٨ / ١٤٣٩ هـ	الفصل الدراسي: الثاني. المادة: جغرافيا. الزمن: ساعة ونصف.
-------------------------------------	---------------------------------	---

السؤال الأول

(أ) أمامك خريطة صماء لدولة (البرازيل) ، اكتب ما تدل عليه الأرقام الآتية :-



- ١- دائرة عرض
- ٢- العاصمة
- ٣- المحيط
- ٤- مدينة

(ب) ما المقصود بكل من ... :

- ١- المدرسة الذكية .
- ٢- فقر متعدد الأبعاد .
- ٣- التنمية السياحية المستدامة .

السؤال الثاني

- أ) اختر الإجابة الصحيحة مما بين القوسين فيما يأتي :-
- 1- يوجد مقر المنظمة العربية للسياحة في مدينة
(الرياض - جدة - القاهرة - دبي)
 - 2- ابتكرت دولة نوعاً خاصاً من السياحة يُعرف بـ (سياحة المهرجانات).
(ماليزيا - الصين - البرازيل - الهند)
 - 3- أولى دول العالم إنفاقاً على التعليم : دولتي
(الإمارات و السعودية - كوبا و أيسلندا - روسيا و اليابان - نيجيريا و غانا)

ب) دُل على صحة العبارتين الآتيتين :

- 1- للتكامل الاقتصادي أهمية كبيرة في الوطن العربي .
- 2- توجد علاقة وطيدة بين التنمية البشرية وحقوق الإنسان .

السؤال الثالث

أ. ضع علامة (✓) أمام العبارة الصحيحة ، وعلامة (×) أمام العبارة الخطأ مع ذكر السبب:

- 1- ركزت (ماليزيا) على التنمية الصناعية للخروج من دائرة الفقر. ()
- 2- تعد (الصحة) من أبعاد التنمية البشرية. ()
- 3- انخفاض متوسط العمر المتوقع عند الميلاد في الدول العربية. ()

ب) ما العلاقة بين كل من ... ؟

- 1- الموقع الجغرافي للوطن العربي ، ومستقبل التنمية .
- 2- الاهتمام بالتعليم ، وتحقيق التنمية البشرية .

السؤال الرابع

أ) بم تفسر ... ؟

- 1- انخفاض أعداد السائحين لإقليم الشرق الأوسط السياحي .
- 2- اهتمام (ماليزيا) بالتعليم .
- 3- تباين المسافات الفاصلة بين الأسواق العربية .

- ١- ارتفاع الدين الخارجي للبرازيل من عام ١٩٩٥ م .
- ٢- التنمية السياحية المستدامة في (غانا) .

٨

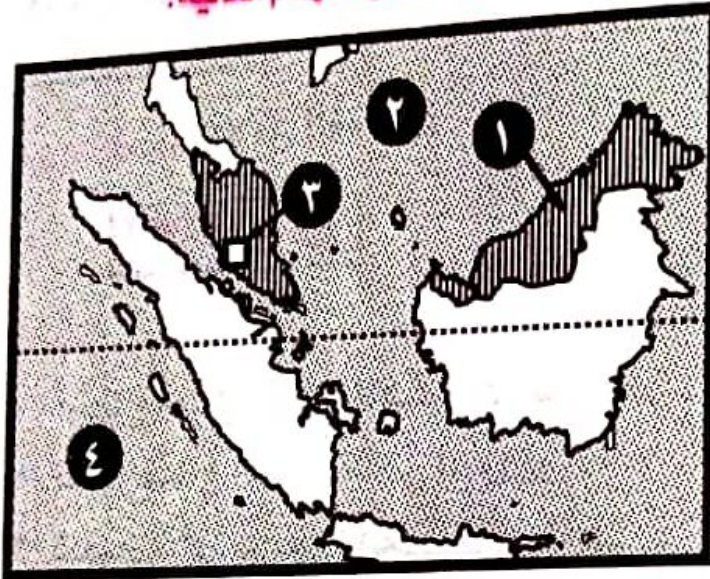
الفصل الدراسي : الثاني .
المادة : جغرافيا .
الزمن : ساعة ونصف .

٢٠١٧ / ٢٠١٨ م
١٤٣٨ / ١٤٣٩ هـ

الأزهـر الشريف .
محافظة أسيوط .

السؤال الأول

١) أمامك خريطة صماء انقلها إلى ورقة الإجابة ، ثم اكتب مدلول الأرقام التالية :



- ١- اسم الدولة
- ٢- البحر
- ٣- العاصمة
- ٤- المحيط

بد ((توجه التنمية بالوطن العربي
عدداً من التحديات والعقبات)) في
ضوء هذه العبارة وضّح :

(تحديات التنمية في الوطن العربي) . [يكتفى بثلاثة فقط]

السؤال الثاني

١. اكتب ما تشير إليه العبارات الآتية :

- ١- هو حالة الحرمان الشديد من حاجات الإنسان الأساسية .
- ٢- تكتل اقتصادي لدول أمريكا الجنوبية ، ورابع قوة اقتصادية على مستوى العالم .
- ٣- هو بطل الازدهار الماليزي وخاصة الاقتصادي ، ورئيس وزرائها في الفترة من عام ١٩٨١م حتى عام ٢٠٠٣م .
- ٤- عملية إعداد وتوجيه واستثمار للموارد البشرية في كافة القطاعات (الصحة والتعليم وغيرها) .

٥- دليل يصدره البرنامج الإنمائي للأمم المتحدة ، ويتضمن الدخل والصحة و
التعليم.

السؤال الثالث

أ. اكمل ما يأتي :

- ١- أعلى دول العالم إنفاقاً على الصحة ، وأدناها
- ٢- تأتي في مقدمة الأقاليم السياحية في العالم جذباً
للسائحين .
- ٣- (مصر والصين) من الدول ذات التنمية البشرية
- ٤- من المنظمات العربية المهتمة بالتنمية الاقتصادية : منظمة
.....

ب. ما المقصود بالأمن الغذائي؟

السؤال الرابع

أ. بم تفسر ... ؟

- ١- ارتفاع معدل الفقر الاقتصادي في مصر .
- ٢- تطور قطاع الصناعة في البرازيل .
- ٣- تبعية الاقتصادات العربية للخارج .

ب. ما النتائج المترتبة على ؟

- ١- الاهتمام بالتعليم في الدول النامية .
- ٢- التعايش السلمي في (ماليزيا) .