

# المرشد


للثالث

للمراجعة النهائية  
وامتحانات البوكليت

القسم الأدبي

الصف الثالث الثانوي الأزهرى

3



إعداد  
أ. عاصم مطاوع

الجغرافيا السياسية



## مدخل لدراسة علم الجغرافيا السياسية



### بم تفسر

1

- 1 شهدت الخريطة السياسية للعالم تغيراً مستمراً عبر التاريخ؟
- 2 استفادة أوروبا من تطور الجغرافيا السياسية؟
- 3 ساعدت الجغرافيا السياسية على تحقيق الاستقرار العالمي؟
- 4 للفلاسفة اليونانيون إسهامات عظيمة في الجغرافيا السياسية؟
- 5 للمسلمين إسهامات عظيمة في الجغرافيا السياسية؟
- 6 جاء الميلاد الحقيقي للجغرافيا السياسية على يد (راتزل)؟
- 7 هناك تشابه واضح بين أفكار كلا من (بن خلدون) و (راتزل)؟
- 8 يعد الهدف الخارجي هو الأكثر تعبيراً عن أفكار (رودلف كيلين)؟
- 9 تشابهت آراء (بن خلدون) و (كيلين)؟
- 10 حدث خلط بين مفهوم الجغرافيا السياسية و الجيوبولتيك قبل الحرب العالمية الأولى حتى الثانية؟
- 11 تتسم الجيوبولتيك بالتطور والحركة على العكس من الجغرافيا السياسية؟
- 12 اتساع وتعدد مجالات الجغرافيا السياسية؟
- 13 للجغرافيا السياسية دور هام في التحليل السياسي للقوة؟
- 14 تميز سياسة النظام العالمي الجديد بالشمولية؟
- 15 ترتبط الجغرافيا السياسية بمختلف العلوم؟
- 16 أهمية الجغرافيا السياسية للجيولوجيين؟
- 17 أهمية الجغرافيا السياسية للعسكريين؟
- 18 أهمية الجغرافيا السياسية للسياسيين؟
- 19 تعد نظم المعلومات الجغرافية إضافة هائلة للجغرافيا السياسية؟
- 20 كان للتطور المعرفي و التكنولوجيا دور في تطور الجغرافيا السياسية؟
- 21 ساهمت الخرائط الإلكترونية في تطور الجغرافيا؟
- 22 أهمية الاستشعار من بعد بالنسبة للجغرافيا السياسية؟
- 23 تعد نظم المعلومات الجغرافية إضافة هائلة للجغرافيا السياسية؟

ش.ع دور اول ٢٠١٧

أزهر ٢٠١٨م

ش.ع دور اول ٢٠١٧ / ٢٠١٩

أزهر دور اول ٢٠١٨





أيد صحة أو خطأ العبارات التالية

- 1 شهدت الخريطة السياسية العالمية تغيرات مستمرة على مر التاريخ؟
- 2 كان للجغرافيا السياسية دور مهم في حل المشكلات السياسية؟
- 3 تتعدد أهداف الجغرافيا السياسية؟
- 4 لم يتأثر الشرق الأوسط بدراسة الجغرافيا السياسية في حل الأزمات؟
- 5 كان للعلماء المسلمين إسهامات عظيمة في مجال الجغرافيا السياسية؟
- 6 اعتبر راتزل أن الحدود السياسية كثيراً ما تؤدي إلى قيام الحروب بين الدول؟
- 7 اعتبر كيلين أن البعد الاجتماعي من أهم عوامل نمو الدولة عضوياً؟
- 8 العلاقة بين الجغرافيا السياسية وفروع الجغرافيا الأخرى علاقة اعتمادية؟
- 9 اتساع وتعدد مجالات الجغرافيا السياسية؟
- 10 تأثرت الجغرافيا السياسية بالاستشعار من بُعد تأثيراً واضحاً؟

ما النتائج المترتبة على

- 1 التغيرات التي طرأت على الخريطة السياسية العالمية؟
- 2 آراء ابن خلدون بالنسبة للجغرافيا السياسية؟
- 3 تقسيم الاتحاد السوفيتي بالنسبة للجغرافيا السياسية؟
- 4 ظهور علم الجيوبلوتيك؟
- 5 سيطرة الدول المتقدمة على موارد العالم الثالث؟
- 6 استخدام الاستشعار من بُعد في الجغرافيا السياسية؟
- 7 تطوّر وسائل النقل الجوي و الأقمار الصناعية بالنسبة للجغرافيا السياسية؟
- 8 تطوّر وسائل الاتصال وتكنولوجيا المعلومات بالنسبة للجغرافيا السياسية؟

اختر الإجابة الصحيحة مما يلي

- 1 السمة الغالبة على خريطة العالم هي التغير المستمر وأكد ذلك كل من.....
- أرسطو و راتزل.
- أرسطو و كيلين.
- ابن خلدون و راتزل.
- أرسطو و ابن خلدون.



1 وجه الشبه بين دراسة مفهوم الجغرافيا السياسية عند تحديد قوة الدولة السياسية و علاقتها الدولية هو.....

○ التوسعات في المجال الحيوي.

○ الأمن الغذائي و المائي.

○ فض المنازعات بين الأفراد و التوسع في إنتاج الأسلحة الحديثة.

○ المشاركة الفعالة في هيئة الأمم المتحدة.

2 العلم الذي يهتم بدراسة الموقع و التضاريس و المناخ و السكان لتحديد قوة الدولة أو ضعفها الجغرافيا .....

○ البشرية.

○ الإقليمية.

○ الطبيعية.

○ السياسية.

3 تناول مؤلف مقدمة التاريخ تطور الحياة السياسية في العالم العربي فبدأت بظاهرة .....

○ الأقاليم.

○ القرى.

○ البدو.

○ المدن.

4 قامت دولة بالتقدم في العمران و المواصلات و البنية التحتية يمثل ذلك عند ابن خلدون في دورة حياة الدولة المرحلت .....

○ الأولى.

○ الثانية.

○ الثالثة.

○ الرابعة.

5 العالم الجغرافي الذي وضع الإطار العام للدولة الذي عرف بدورة حياة الدولة.

أزهر - دور أول - 2022

○ ابن خلدون.

○ أرسطو.

○ كيلين.

○ سيجفريد.

6 من المقومات البشرية في الدولة .....

○ الغابات.

○ استخراج المعادن.

○ توافر البترول.

○ التربة الزراعية.

7 تهتم القوى الرأسمالية بالهيمنة و السيطرة على ما تمتلكه دول العالم الثالث من .....

○ تقنية تكنولوجية.

○ مقدرات فكرية.

○ الميكنة الزراعية.

○ أنظمه إدارية.

8 تابعت منظمة البيئة العالمية الأحداث الناتجة عن حرائق الغابات في الولايات المتحدة الأمريكية من خلال .....

○ نظم المعلومات.

○ تكنولوجيا المعلومات.

○ التصوير الفضائي.

○ الاستشعار عن بعد.

9 "تعد مشكلة تغير مجرى الأنهار الدولية أحد المشكلات المياه" .. في ضوء العبارة السابقة أجب

يمكن التنبؤ بهذه المشكلة باستخدام .....

○ نظم المعلومات.

○ تكنولوجيا المعلومات.

○ المرئيات الفضائية.

○ المسح الميداني.





- ١١ إذا أرادت أجهزة الدولة حصر ظاهرة الزحف العمراني حديثا يتم ذلك من خلال .....  
○ المرئيات الفضائية.  
○ نظم المعلومات الجغرافية.  
○ أجهزة تحديد المواقع.  
○ تكنولوجيا المعلومات.
- ١٢ مقدرات و موارد الدولة هي ملك للأجيال القادمة في ضوء العبارة السابقة أجب ، كان الدافع وراء ظهور نظام العولمة .....  
○ استغلال الموارد الاقتصادية للدول النامية.  
○ خفض معدلات الرفاهية لدول العالم الثالث.  
○ زيادة نسبة الفقر في الدول العربية.  
○ حل قضايا الأمن المائي و الغذائي.
- ١٣ من أهداف الجغرافيا السياسية دراسة الوحدات السياسية من حيث .....  
○ المقومات الطبيعية.  
○ الحدود السياسية.  
○ المقومات البشرية.  
○ الخصائص الجغرافية.
- ١٤ القاسم المشترك بين مجالات الجغرافيا السياسية قديما و حديثا دراسة .....  
○ التحليل السياسي للقوة.  
○ النظام العالمي.  
○ الدولة.  
○ الوحدات السياسية.
- ١٥ من المقومات الطبيعية ذات التأثير على قوة و ضعف الدولة على مسرح السياسة العالمي .....  
○ صيد الأسماك.  
○ الزيادة الطبيعية.  
○ البحث عن الغاز الطبيعي.  
○ المراعي.
- ١٦ دولة توافرت بها الموارد الطبيعية و البشرية تستطيع أن تحقق لشعبها .....  
○ حدود طبيعية جيدة.  
○ الوحدة مع الدول  
○ التوسع على حساب الجيران.  
○ الوحدة بين أطيافه.
- ١٧ تقدم المرئيات الفضائية المعلومات الجغرافيا السياسية في مجال .....  
○ الأمن الغذائي.  
○ ردع الأعداء.  
○ التكنولوجيا.  
○ الحدود الخطية بين الدول.
- ١٨ يتم متابعة السفن العملاقة المحملة بالبترول المارة في قناة السويس الجديدة من خلال .....  
○ التصوير الجوي  
○ المرئيات الفضائية.  
○ التصوير الفضائي.  
○ الاستشعار عن بعد.





- ١ نظم المعلومات إضافة هائلة للجغرافيا السياسية لتوفير بيانات عن .....
- الحدود السياسية.
- الممرات الملاحية.
- مناطق النزاع بين الدول.
- الكثافة السكانية.
- ٢ من المجالات التي تهتم بها الجغرافيا السياسية في الاستشعار عن بعد .....
- بيانات تفصيلية.
- بيانات ممتلكات الدولة الطبيعية.
- بيانات دائرة عرض ٢٢ درجة شمالا بين مصر و السودان.
- استخدامات الأراضي.
- ٣ إذا تحقق التوازن بين الموارد الطبيعية و البشرية من خلاله نحدد قوة أو ضعف الدولة طبقا لآراء ..
- أرسطو.
- ابن خلدون.
- كلين.
- راتزل.
- ٤ خرجت المفاهيم الاستعمارية للعالم أواخر القرن ١٩ من القارة .....
- الإفريقية.
- الأوربية.
- الأمريكية.
- الآسيوية.
- ٥ وفق مفاهيم القرن ١٩ عن الجغرافيا السياسية تشكلت الخريطة السياسية بفعل .....
- الاندماج.
- الصراع.
- التمكك.
- التحالفات.
- ٦ من القوى العالمية الجديدة التي ظهرت في العالم .....
- كوريا الجنوبية.
- الصين.
- الهند.
- روسيا الاتحادية.
- ٧ تؤثر قوة الدولة السياسية في .....
- العلاقات الدولية.
- القدرة على توفير البيانات والمعلومات.
- النظام العالمي.
- سرعة تدفق المعلومات.
- ٨ القوى الفاعلة في النظام العالمي الجديد هي .....
- الدول المتقدمة.
- دول شرق آسيا.
- العالم الثالث.
- السوق الأوربية المشتركة.
- ٩ ظهرت العولمة في الربع .....
- الأول.
- الثالث.
- الثاني.
- الرابع.
- ١٠ تعد منظمة التجارة العالمية منظمة .....
- سياسية.
- بيئية.
- اقتصادية.
- اجتماعية.



عرف ما يلي

ش.ع - دور اول ٢٠١٨

ش.ع - دور اول ٢٠١٨

- ١ الجغرافيا السياسية.
- ٢ الدولة المثالية (الخماسية) من وجهة نظر أرسطو.
- ٣ دورة حياة الدولة.
- ٤ العولمة.
- ٥ الجيوبولوتيك (من وجهة نظر كيلين).
- ٦ الاستشعار من بُعد.
- ٧ نظم المعلومات الجغرافية.
- ٨ نظام تحديد المواقع العالمي.

وضح ما يلي

ش.ع دور اول ٢٠١٨

- ١ أهداف الجغرافيا السياسية.
- ٢ إضافات (ابن خلدون) في الجغرافيا السياسية في مقدمته الشهيرة.
- ٣ العلاقة بين علم الجغرافيا السياسية والاستشعار من بُعد.
- ٤ العلاقة بين التحليل السياسي للقوة والجغرافيا السياسية.
- ٥ ارتباط الجغرافيا السياسية بالعلوم الأخرى.

ش.ع دور ثان ٢٠١٦

ش.ع دور ثان ٢٠١٧

قارن بين

- ١ الجغرافيا السياسية ، و الجيوبولوتيك.
- ٢ إسهامات العلماء في الجغرافيا السياسية قديماً و حديثاً.
- ٣ دور أرسطو و بن خلدون في تطوير الجغرافيا السياسية.
- ٤ أوجه الشبه بين آراء راتزل و كيلين.
- ٥ الهدف الداخلي و الهدف الخارجي في الجيوبولوتيك عند كيلين.
- ٦ مجالات دراسة الجغرافيا السياسية قديماً و حديثاً.
- ٧ نماذج من التجمعات الإقليمية و الدولية.



أسب الآراء السالفة لاسحابها

صاحب	الراي
	١. أشهر من كتب في الجغرافيا السياسية قديماً.
	٢. تناولت مؤلفاته الدولة المثالية.
	٣. ركز على القبيلة و المدينة في دراسته.
	٤. ناقش موقع الدولة الجغرافي وتأثير المناخ عليه.
	٥. أضاف كثيراً للفكر الجغرافي في مقدمته.
	٦. وضع الإطار العام للدولة الذي عرف بـ (دورة حياة الدولة).
	٧. جاء الميلاد الحقيقي للجغرافيا السياسية على يديه.
	٨. وضع أول مؤلف علمي في الجغرافيا السياسية.
	٩. أول من استخدم مصطلح (الجيوبولوتيك).
	١٠. تركزت آراؤه حول نمو الدول عضوياً.
	١١. تحقيق التوازن بين الموارد الطبيعية والبشرية يحدد عناصر قوة أو ضعف الدولة.

ضع علامة (✓) أو (×) فيما يلي مع ذكر السبب في العالين

- ١ الجغرافيا السياسية هي العلم الذي يهتم بدراسة الخريطة السياسية العالمية ، و هو أحد فروع الجغرافيا الطبيعية. ( )
- ٢ كان للجغرافيا السياسية دور مهم في حل المشكلات السياسية. ( )
- ٣ ركز (أرسطو) على دراسة القبيلة و المدينة. ش.ع دورثان ٢٠١٦ ( )
- ٤ ذكر (ابن خلدون) أن دورة حياة الدولة تمر بثلاث مراحل. ( )
- ٥ حدّد (ابن خلدون) عناصر قوة الدولة في خمسة موضوعات. ( )
- ٦ يعد العالم (كارل هوسهوفر) أول من استخدم مصطلح (الجيوبولوتيك). ( )
- ٧ ظهر علم الجيوبولوتيك في بدايته في جنوب أوروبا. ( )
- ٨ يتشابه رأي ابن خلدون مع فردريك راتزل في اعتبار أن الدولة كائن حي. ( )



- ١ ( ) [ ] اعتبر (راتزل) أن الدولة كائن حي ينمو ويتوسع.
- ٢ ( ) [ ] إسرائيل من الدول التي استغلّت مفاهيم الجغرافيا السياسية لـ (راتزل) بصورة خاطئة.
- ٣ ( ) [ ] كان الاهتمام الرئيسي للجغرافيا السياسية يتمثل في دراسة المنظمات.
- ٤ ( ) [ ] الجيوبولوتيك تعترف بحدود الدولة القائمة.
- ٥ ( ) [ ] هناك علاقة بين الجيوبولوتيك والاستقرار العالمي.
- ٦ ( ) [ ] تعد الدولة أحد مجالات دراسة الجغرافيا السياسية.
- ٧ ( ) [ ] لا تختلف اهتمامات الجغرافيا السياسية ومجالاتها قديماً عن الوقت الحاضر. **زمر ٢٠١٦**
- ٨ ( ) [ ] نُظِم (الاستشعار من بُعد) تساعد متخذي القرار في اتخاذ القرارات السياسية الحكيمة.
- ٩ ( ) [ ] استفادت الجغرافيا السياسية من تطور وسائل الاتصالات وتكنولوجيا المعلومات.
- ١٠ ( ) [ ] جاء الميلاد الحقيقي للجغرافيا السياسية على يد راتزل. **ش.ع - ثان - ٢٠١٦**

## عزيزي الطالب

تم إصدار سلسلة

المرشد في المراجعة النهائية

وتحتوي على:

**أولاً** أسئلة متنوعة للمراجعة على أجزاء المنهج بدون إجابة  
لتدريب الطالب عليها.

**ثانياً** نماذج الامتحانات (البوكليت).



تتلد الدائرة ذات الرمز الدال على الإجابة الصحيحة فيما يلي ..

- ظهور الجيوبولوتيك على يد.....  
○ أرسطو، ○ بن خلدون، ○ راتزل، ○ كيلين.

أكتب مقالة صواب أو خطأ أمام العبارات التالية

يعتبر بن خلدون هو المؤسس الحقيقي للجغرافيا السياسية.

ما المقصود بـ

الجغرافيا السياسية.

أقرأ ثم أجب

الجغرافيا السياسية علم ينتمي للجغرافيا البشرية ويهتم بدراسة الخريطة السياسية العالمية. في ضوء العبارة السابقة : أجب عما يلي ..

- أ- فسر : حدث خلط بين مفهوم الجغرافيا السياسية والجيوبولوتيك؟  
ب- أذكر : أمثلة للدور الذي لعبته الجغرافيا السياسية لحل المشكلات السياسية؟

تتلد الدائرة ذات الرمز الدال على الإجابة الصحيحة فيما يلي ..

تنظر ..... للدولت ككائن حي.

- الجغرافيا السياسية، ○ الدولت ككائن حي، ○ الجيوبولوتيك، ○ النظام العالمي، ○ العلاقات الدولية.

تتلد الدائرة ذات الرمز الدال على الإجابة الصحيحة فيما يلي ..

يتميز النظام العالمي الجديد بـ ..

- العالمية، ○ التكاملية، ○ الاستدامة، ○ الشمولية.

أقرأ ثم أجب

أثر التطور التكنولوجي الذي شهده العالم في تطور علم الجغرافيا السياسية. في ضوء هذه العبارة وضح :  
أثر استخدام الاستشعار من بعد في الجغرافيا السياسية؟

حدد ..

أهم عناصر الدولت الخماسية من وجهة نظر أرسطو؟





ضع علامة [X] أو [✓] فيما يلي:

أزهر - دور أول - ٢٠١٨

ظهر مصطلح الجيوبلوتيك لأول مرة على يد راتزل.

أزهر - دور أول - ٢٠٢٢

أكتب المصطلح الجغرافي الدال على العبارة التالية:

ترسم تصوراً لما يجب أن تكون عليه الدولة في المستقبل.

١١ وضع:

ث.ع - دور أول - ٢٠١٨

ارتباط الجغرافيا السياسية بالعلوم الأخرى؟

١٢ ظل الدائرة ذات الرمز الدال على الإجابة الصحيحة فيما يلي ..

استقادت أوروبا في النصف الأول من القرن العشرين من دراسة الجغرافيا السياسية في .....

○ تقوية علاقتها الخارجية.

○ دعم وتطوير اقتصادها.

○ رسم الخريطة السياسية الحديثة لها.

○ تطوير قدرتها العسكرية.

١٣ ما المقصود بـ:

العولمة.

١٤ يم تفسر:

ث.ع - دور أول - ٢٠١٧ / ٢٠١٩

أهمية الاستشعار من بعد بالنسبة للجغرافيا السياسية؟

١٥ أذكر وجه الشبه والاختلاف بين:

الخريطة السياسية و الجيوبلوتيك.

١٦ ما النتائج المترتبة على:

تطور وسائل الاتصالات السلكية واللاسلكية على الجغرافيا السياسية؟

١٧ دلل على صحة ما يلي:

اتسعت وتعددت مجالات دراسة الجغرافيا السياسية.

١٨ أكتب كلمة صواب أو خطأ أمام العبارات التالية : مع ذكر السبب ..

تدرس الجغرافيا السياسية عددا من المجالات الفرعية المرتبطة بالنظام العالمي الجديد

( ) .

١٩ ما العلاقة بين:

التحليل السياسي للقوة والجغرافيا السياسية.

٢٠ حدد:

أهم أهداف دراسة الجغرافيا السياسية؟

٢١ أيد صحة أو خطأ ما يلي ..

للجغرافيا السياسية أهمية كبيرة بالنسبة للسياسيين والعسكريين.



أكتب مقالة صواب أو خطأ أمام العبارات التالية ، مع ذكر السبب ..

ذكر (ابن خلدون) أن دورة حياة الدولة تمر بخمس مراحل.

فكر في مقل مما يلي :

الهدف الداخلي والهدف الخارجي في الجيوبلوتيك عند كليلين.

منا يحدث ؟

لم يكن هناك ارتباط بين الجغرافيا السياسية وفروع الجغرافيا الأخرى؟

بم تفسر .

ساهمت الخرائط الإلكترونية في تطور الجغرافيا؟

نقل المفردة ذات الرمز الدال على الإجابة الصحيحة فيما يلي ..

استقادت مصر من دراسة الاستعمار من بعد في ..

○ تحديد مواردها الطبيعية.

○ تطوير وسائل الاتصالات.

○ تأمين قناة السويس.

○ رسم خرائط حديثة.

أيد صحة أو خطأ العبارة التالية :

دراسة الجغرافيا السياسية تعود بالنفع على الدولة سلماً و حرباً؟

نقل المفردة ذات الرمز الدال على الإجابة الصحيحة فيما يلي ..

السمة الغالبة على خريطة العالم هي التغير المستمر وأكد ذلك كل من ..

○ أرسطو و راتزل.

○ أرسطو و كليلين.

○ ابن خلدون و راتزل.

○ أرسطو و ابن خلدون.



## الدولة في الجغرافيا السياسية



### الدولة .. تعريفها وأنواعها.

#### الفصل الأول

#### 1

#### أكمل ما يلي بكلمات مناسبة

الدولة وحدة سياسية تحكمها ..... تسيطر على شئونها المختلفة.

..... جماعة من البشر يعيشون على رقعة من الأرض لفترة زمنية طويلة.

☐ تتكوّن الدولة من عدة عناصر ؛ هي: ..... و ..... و .....

من الضرورة توفر ..... و ..... لقيام الأمة.

قد تتكون الأمة من عدة دول مثل .....

تشابه الأمة والدولة في عناصر التكوين من ..... و .....

الدولة الوحديّة بها حكومة قوية تسيطر على .....

☐ تعد دولة ..... و ..... مثلاً للدولة الوحديّة المجزأة.

ينقسم نظام الحكم في الدولة المركبة إلى ..... و .....

ينقسم نظام الحكم في الدول الاتحادية إلى قسمين هما ..... و .....

☐ النموذج المثالي للدولة الوحديّة ينطبق على دولة .....

تتميز الدولة ذات النظام ..... بحكومة واحدة ومجلس نيابي واحد.

تعد ..... دولة وحدوية رغم كبر مساحتها.

تستمد بلدية بكين في الصين جميع قراراتها من السلطة .....

تعتبر دولة ..... دولة مجزأة بالرغم من أنها دولة مركزية.

١٦ من الدول الأوربية الوحديّة المجزأة .....

١٧ من الدول الآسيوية الوحديّة المجزأة .....

١٨ المختص بالبعثات الدبلوماسية في الدولة الفيدرالية السلطة .....

١٩ الوظائف السيادية من اختصاص ..... في النظام الفيدرالي.

٢٠ أشهر الدول الفيدرالية في قارة أمريكا الأنجلوسكسونية .....





- ١ الدولة ..... عبارة عن انضمام دولتين أو أكثر في اتحاد ينظمه معاهدة.
- ٢ من أمثلة الدول الفيدرالية الأسبانية .....
- ٣ تعد الدول ..... أهل أنواع الدول شيوعاً على الخريطة السياسية الدولية.
- ٤ هي النظام الكونفيدراتي تختص ..... بالوظائف السيادية.
- ٥ لَمَّا الاتحاد السوفيتي سابقاً من أمثلة الدول .....
- ٦ تحولت دولة ..... إلى دولة فيدرالية بعد أن كانت دولة كونفيدراتية.
- ٧ نقلت (تركيا) عاصمتها من استانبول إلى .....
- ٨ من العواصم الساحلية الأفريقية ..... و .....
- ٩ تقع العاصمة الروسية (موسكو) وسط الأطلية .....
- ١٠ لَمَّا من العواصم المُستحدثة : .....
- ١١ تُمثل ..... حلقة اتصال بين الدولة و العالم الخارجي.
- ١٢ نقلت (اليابان) عاصمتها من ..... إلى .....
- ١٣ اختيرت (روما) عاصمة لإيطاليا على أساس .....
- ١٤ تعد منطقة شمال شرق أفغانستان ذات ثقل .....
- ١٥ نقلت نيجيريا عاصمتها من مدينة ..... على المحيط الأطلنطي إلى مدينة ..... في الداخل.
- ١٦ اختيرت مدريد عاصمة لدولة ..... بسبب موقعها المتوسط.
- ١٧ من العواصم الساحلية في قارة آسيا .....
- ١٨ تقع العاصمة اليابانية في جزيرة .....
- ١٩ يعد إقليم البحيرات العظمى بين الولايات المتحدة الأمريكية و كندا منطقة قلب ذات أهمية .....

ش.ع دور أول ٢٠١٦

ش.ع دور أول ٢٠١٨

ش.ع دور أول ٢٠١٧

## ٢ بم تفسر

- ١ أهمية الحكومة و على رأسها الحاكم؟
- ٢ تتشابه الأمة مع الدولة جغرافياً ، بينما يختلفان ديموغرافياً و سيادياً؟
- ٣ الكثير من عناصر الأمة ليس ضرورياً للدولة؟
- ٤ الحكومات ميزان الاستقرار؟
- ٥ تحتاج نشأة الأمم لوقت طويل؟

ش.ع - دور أول - ٢٠٢٠



1 ينطبق مفهوم (الأمّة) على الوطن العربي؟

2 يستخدم لفظ الأمّة للدلالة على الدول الإسلامية رغم تعدد اللغات بها؟

3 تسمى الدولة الوحيدة بالدولة المركزية؟

4 تمثل العاصمة مركز القوة والسلطة في الدولة؟

5 الدولة الوحيدة دولة ذات شكل مندمج؟

6 الحكومات ذات النظام المركزي غالباً صغيرة المساحة؟

7 هناك أوجه شبه بين الدولة الفيدرالية والكونفيدرالية؟

8 تتمتع الدولة الفيدرالية بدستور واحد؟

9 يختلف النظام الفيدرالي والكونفيدرالي في السلطة المركزية؟

10 الدولة الكونفيدرالية أقل أنواع الدول شيوعاً وأكثرها هشاشة؟

11 يتم اختيار عاصمة الدولة بناءً على عدة عوامل؟

12 تحاول الدولة أن تكون عاصمتها محصنة وبعيدة عن الحدود؟

13 اختيار (مديد) عاصمة لأسبانيا؟

14 اختيار (القاهرة) عاصمة لمصر، و (أوكشوط) عاصمة لموريتانيا؟

15 اختيار (أنقرة) عاصمة لتركيا بدلاً من (اسطنبول)؟

16 اختيار الرومان لمدينة (الإسكندرية) عاصمة لمصر قديماً؟

17 اختيار (موسكو) عاصمة لروسيا الاتحادية؟

18 نقل اليابان عاصمتها من (كيوتو) الداخلية إلى (طوكيو) الساحلية؟

19 تشذ (اليابان) عن مبادئ اختيار العاصمة؟

20 اختيار (كيوتو) عاصمة لليابان قديماً؟

أهر - دورايل - ٢٠١٩

أهر - دورايل - ٢٠٢٠

ت.ع - دورايل - ٢٠١٩

3

ضع علامة (✓) أو (x) فيما يلي مع ذكر السبب في الحالاتين

1 الأمم : جماعة من البشر تعيش على رقعة من الأرض و يرتبطون روابط مشتركة. ( )

2 يوجد أوجه تشابه بين الأمّة والدولة. ( )

3 قد توجد الأمّة في عدة دول كما في الأمّة العربية. ( )

4 الأمّة لا يمكن أن تتحول إلى دولة. ( )

5 تتشابه الأمّة مع الدولة جغرافياً بينما يختلفان ديموغرافياً وسيادياً. ( )



- ( )
- ( ) يتطلب قيام الدولة تواهر أركان محددة.
- ( ) الدولة تتطلب سلطة حاكمة وهي المكون الأساسي لسيادة الدولة.
- ( ) تتعدد أنواع الدول وتختلف أشكال الحكم فيها.
- ( ) الدول المركزية لا تقع ضمن فئات الدول ذات المساحة العملاقة.
- ( ) الولايات والأقاليم في الدولة الوحيدة تستمد قراراتها السيادية من السلطة محلية.
- ( ) الدولة الوحيدة غالباً كبيرة المساحة مثل ، الصين.
- ( ) (فرنسا) من الدول التي تحتوي على أكثر من نواة.
- ( ) (الهند وأستراليا والبرازيل) من الدول التي تنقسم بها سلطات الحكم.
- ( ) تتشابه الأمة مع الدولة الوحيدة في بعض الخصائص وتختلف في بعضها.
- ( ) تنقسم الدولة المركزية بتباين في اللغة والدين والعادات والتقاليد والتاريخ.
- ( ) (الفلبين) دولة وحيدة متعددة النواة.
- ( ) (مصر) دولة وحيدة.
- ( )   تختص الحكومة المركزية في النظام الفيدرالي بالأمور المتعلقة بالسيادة دون حكومات الأقاليم.
- ( )
- ( ) تجتمع دول الاتحاد الأوربي في تمثيل دبلوماسي واحد.
- ( ) قد تتعرض الدولة لتحويلات سياسية عبر التاريخ.
- ( )  تم اختيار كثير من العواصم على ضوء سهولة الاتصال مع باقي مناطق الدولة.
- ( ) خالفت (اليابان) مبدأ الحماية والدفاع في اختيار عاصمتها.
- ( ) تُعد العاصمة ضابط إيقاع لكل أجزاء الدولة.
- ( ) تحاول الدول أن تكون عاصمتها بعيدة عن الحدود.

زهر - ٢٠٢١



- ١ أي مما يلي من خصائص سلطة الحكومة المركزية في استراليا .....
  - تقديم الخدمات الصحية.
  - حل المشكلات السياسية.
  - الشؤون التعليمية.
  - الشؤون الاجتماعية.
- ٢ تتفق كلا من اليابان والصين وفرنسا في .....
  - الترابط الجغرافي.
  - محدودية المساحة.
  - متعددة النواة.
  - التجانس الديموغرافي.
- ٣ الهند والبرازيل من الدول الفيدرالية بسبب .....
  - التضاريس.
  - الأمور السيادية.
  - العادات والتقاليد.
  - شكل الدولة.
- ٤ النموذج الحقيقي المثالي للدولة الوحدية المركزية يكون في العالم .....
  - القديم النامي.
  - الحديث النامي.
  - الحديث المتقدم.
  - القديم المتقدم.
- ٥ اختيار العاصمة الروسية موسكو يتطابق عليه ....
  - البعد التاريخي.
  - البعد السياسي.
  - البعد الديموغرافي.
  - البعد الاقتصادي.
- ٦ القاسم المشترك بين الدولة الفيدرالية والاتحاد الكونفيدرالي .....
  - المصهور.
  - التصنيف.
  - القوة.
  - الانتشار.
- ٧ عامل الاختلاف بين الدولة الفيدرالية والاتحاد الكونفيدرالي .....
  - تقسيم السلطة.
  - الأمور السيادية.
  - التكوين.
  - التمثيل الدبلوماسي.
- ٨ من السمات التي يتسم بها الاتحاد الكونفيدرالي .....
  - القوة.
  - التعاون.
  - الانتشار.
  - الاندماج.
- ٩ قرار تعطيل الدراسة في الدول التي تتبع النظام الوحدوي بسبب جائحة كورونا من اختصاص .....
  - السلطة المركزية.
  - السلطة المحلية.
  - السلطة القضائية.
  - سلطة المحافظين.
- ١٠ إجراء امتحان شهادة الثانوية العامة في الدول ذات النظام الفيدرالي من اختصاص .....
  - السلطة المركزية.
  - السلطة المحلية.
  - السلطة القضائية.
  - سلطة المحافظين.



- 11 من أكثر الأحداث التي غيرت شكل الخريطة السياسية العالمية في أواخر القرن العشرين تلك التي حدثت في .....
- القديم النامي.  
○ الحديث المتقدم.  
○ الحديث النامي.  
○ القديم المتقدم.
- 12 صلاحية السلطة المحلية في النظام المركزي .....
- مطلقة.  
○ محدودة.  
○ منعدمة.  
○ مشروطة.
- 13 عند إنشاء عاصمة جديدة للدولة يجب مراعاة .....
- تطرفها على الحدود.  
○ خلوها من الأنشطة السياسية.  
○ خلوها من المطارات الدولية.  
○ إقامة المراكز البحثية بها.
- 14 ينطبق على الوطن العربي مفهوم الأمة ويرجع ذلك إلى .....
- تعدد الأنظمة السياسية.  
○ اللسان الواحد.  
○ تنوع مظاهر السطح.  
○ سياسته الخارجية.
- 15 تصنف سويسرا من ضمن العالم .....
- القديم النامي.  
○ القديم المتقدم.  
○ الحديث النامي.  
○ الحديث المتقدم.
- 16 قرار إعلان الحرب في الاتحاد الكونفيدرالي من اختصاص .....
- السلطة المركزية.  
○ حكومات الأقاليم.  
○ السلطة القضائية.  
○ السلطة المشتركة العليا.
- 17 الفارق بين الأمة والدولة في .....
- الأرض.  
○ السكان.  
○ التاريخ المشترك.  
○ النظام السياسي.
- 18 الركن الأساسي لقيام الأمة والدولة يتمثل في .....
- المساحة.  
○ المناخ.  
○ الموارد الطبيعية.  
○ النبات الطبيعي.
- 19 من الروابط الطبيعية المشتركة بين أفراد الأمة .....
- اللغة والدين.  
○ الأصل العرقي.  
○ العادات والتقاليد.  
○ تاريخ مشترك.
- 20 الاتحاد الأوربي أكبر قوي اقتصادية في العالم ويمكن انهياره في أي وقت بسبب .....
- تعدد النظم السياسية والإدارية.  
○ تعدد الدول المتقدمة.  
○ عدم وضع قوانين للعقوبات.  
○ فرض الدول القوية الهيمنة.
- 21 خالفت دولة اليابان النظام السياسي والإداري المركزي في .....
- قلة عدد السكان.  
○ المساحة الكبيرة.  
○ عدم اتصال أراضيها جغرافيا.  
○ اختلاف العرق.





- ١٤ تعرضت تركيا لتدخل الدول الأوروبية بسبب الملاحمة الدولية في المضائق التركية فقررت نقل العاصمة إلى الداخل .. في ضوء العبارة السابقة أجب
- ١٥ تم اختيار مد أنقرة عاصمة لها لتمتعها بخصائص ..
- سياسية وعسكرية. ○ سياسية و بشرية.
- عسكرية و بشرية. ○ إستراتيجية و بشرية.
- ١٦ لنظام السياسي و الإداري في إقليم مرسيليا الفرنسي يتبع الدولة ..
- الاتحادية. ○ اللامركزية. ○ الوحدوية. ○ الفيدرالية.
- ١٧ تم اختيار القاهرة عاصمة لمصر لأنها تملك ..
- الحضارة الفرعونية. ○ طرق المواصلات. ○ أكبر تجمع سكاني. ○ الريادة التاريخية.
- ١٨ دولة تريد التمسك بعلمها و عملتها و دستورها يكون النظام السياسي و الإداري المناسب لها الدولة ..
- الفيدرالية. ○ الكونفدرالية. ○ الوحدوية. ○ الاتحادية المركبة.
- ١٩ دولة تقع في أقصى جنوب شرق خريطة العالم السياسية لا تستطيع تحويل نظامها السياسي ...
- الولايات المتحدة ○ الهند. ○ البرازيل. ○ أستراليا.
- ٢٠ مدينة إيطالية ذات حدود إدارية و مقر لمنظمات و سفارات دولية ..
- روما. ○ سان مارينو. ○ بالريمو. ○ ميلانو.
- ٢١ تم اختيار الخرطوم عاصمة للسودان لوقوعها على مسطح مائي ..
- دولي. ○ بحيري. ○ بحري. ○ محلي.

5

### دلل جغرافيا على صحة العبارات التالية

- ١ [ ] الأمة : مجموعة من السكان تجمعهم خصائص مشتركة.
- ٢ [ ] الكثير من عناصر الأمة ليس ضرورياً للدولة.
- ٣ [ ] تتميز الدولة الوحدوية بعدة صفات.
- ٤ [ ] يوجد في الدولة مواقع لا تقل أهمية عن العاصمة.
- ٥ [ ] يتم اختيار العاصمة بناءً على عدة عوامل.
- ٦ [ ] يرتبط قيام الدولة بمجموعة شروط وأركان هامة؟

زهر - دور اول - ٢٠٢٠

زهر - دور اول - ٢٠٢١



6

### مزايا السيادة

- الدولة الوحيدة
- الدولة القيد والية
- الدولة الكونفيدرالية
- العاصمة
- العواصم القديمة
- العواصم المستحدثة
- قلب الدولة

7

### حد حسب رأيك عند

- ما المقصود بالدولة ، و شروط قيامها.
- ما هي الخصائص المشتركة التي تجمع الأمم.
- حدد سمات الدولة الوحيدة.
- حدد أهم سمات العاصمة.
- ما الأثر الناتج عن تمييز مدينة (أنقرة) بالعمق الجغرافي.

شرح دور اول 2019

- أنكر أسباب اختيار كل العواصم التالية : مدريد ، برازيليا ، الرياض ، نيودلهي ، موسكو طوكيو.

8

### قارن بين كلامي

- [ ] الأمة ، الدولة
- الدولة القيد والية ، الكونفيدرالية من حيث : المفهوم ، الأمثلة.
- الدولة القيد والية ، الدولة الكونفيدرالية من حيث : الأمور السيادية.
- الدولة الوحيدة ، الدولة القيد والية من حيث : الخصائص والأمثلة.
- العاصمة القديمة ، العاصمة المستحدثة.

شرح دور اول 2019



- ١ الدول ذات الموقع المتطرفة و ليس لها اتصالاً برياً بباقي دول العالم.
- ٢ المدينة التي تستقر فيها الحكومة ، و رئاستها ، و سلطاتها الثلاث.
- ٣ عواصم نقلتها الحكومة من مكانها لمكان آخر.
- ٤ منطقة تشكل أهمية و ثقلاً اقتصادياً أو سياسياً أو سكانياً.
- ٥ دولة تتكوّن من حكومة واحدة و مجلس نيابي واحد.
- ٦ دولة تعد النموذج المثالي للدولة الوحدويّة.
- ٧ من الدول المجرّاة إلى عدة جزر.
- ٨ انضمام دولتين أو أكثر في اتحاد لتحقيق غايات مشتركة.

## عزيزي الطالب

تم إصدار سلسلة

المرشد في المراجعة النهائية

وتحتوي على:

أولاً أسئلة متنوعة للمراجعة على أجزاء المنهج بدون إجابة لتدريب الطالب عليها.

ثانياً نماذج الامتحانات (البوكليت).



## المقومات الطبيعية لقوة الدولة.

1

كل ما يلي بكمات مناسبة

١ تُصنّف الدول وفقاً للموقع بالنسبة لليابس والماء إلى ..... و..... .

٢ تتوقف أهمية الموقع البحري للدول على ..... و..... .

٣ من الدول التي تشرف على البحر بواجهة واحدة....

البحر اول ٢٠١١

٤ الدول ..... هي التي تقع داخل اليابس وليس لها اتصال مباشر بالبحر،

مثل: ..... و..... .

٥ من الدول الأوربية الحبيسة ..... و..... .

٦ تعتبر ..... دولة داخلية رغم أن لها حدوداً بحيرية على بحيرة فيكتوريا.

٧ تشرف دولتا ..... و..... على جبهتين بحيريتين.

٨ من الدول الحبيسة: دولة ..... في قارة أفريقيا ، ودولة ..... في قارة آسيا.

ش.ع دودا اول ٢٠١٧ / أزهـر ٢٠١٨

٩ من الدول الآسيوية كثيرة الجيران .....

١٠ زاد الأثر الإيجابي لتعدد الدول المجاورة على دول .....

١١ من نماذج المواقع الإستراتيجية في مصر ..... ، والممرات ..... التي تعد بوابة التحكم في سيناء.

١٢ تعد دولة ..... دولة هامشية لا تتأثر بالمشكلات الدولية.

١٣ تشرف كل من دولة ..... ودولة ..... على مضيق جبل طارق.

١٤ من الدول الأوربية ذات المواقع الإستراتيجية .....

١٥ تشرف (اليمن و جيبوتي) على مضيق .....

١٦ تتحكم دول ..... و..... و..... في مضيق (ملقا).

١٧ تعد دولة ..... أصغر دول العالم على وجه الإطلاق.

١٨ دولة ..... مندمجة ذات بروز في أفريقيا.

١٩ تمتد دولة ..... بشكل طولي ، ودولة ..... بشكل عرضي.

٢٠ تعتبر ..... دولة برية مُجزأة.

٢١ تعتبر ..... دولة عربية برية مُجزأة.





- ١١ دولتا برينتا بحريتا مجزأة ، حيث تقع جزرها في البحر المتوسط.
- ١٢ هي الشكل ..... تكون فيه الدولة غير مترابطة جغرافيا.
- ١٣ من الدول المحتواة في قارة أوروبا ..... و.....
- ١٤ سيطرت العراق على ..... بسهولة ١٩٩٠م.
- ١٥ سيطرة ألمانيا على ..... و..... أثناء الحرب العالمية الثانية نظرا لصغر مساحتهما.
- ١٦ الشكل ..... تكون فيه الدولة غير مترابطة جغرافيا.
- ١٧ **الزهر. دور اول. ٢٠٢١**
- ١٨ تعتمد روسيا الاتحادية في الدفاع عن نفسها على نظرية .....
- ١٩ من الدول ذات التضاريس المتنوعة .....
- ٢٠ من الدول التي يغلب عليها الطابع السهلي ..... و.....
- ٢١ من الدول متنوعة التضاريس في قارة أفريقيا .....
- ٢٢ من الدول التي يغلب عليها الطابع الجبلي ..... و.....
- ٢٣ تعد ..... من أقدم المناطق المعمورة على خريطة العالم.
- ٢٤ تعد ..... أكثر ظاهرات سطح الأرض تأثيرا في الكيان السياسي للدولت.
- ٢٥ كلما زادت ..... السهول كلما كان لذلك آثارا ايجابية على قوة الدولة.
- ٢٦ تشكل جبال ..... حدوداً طبيعية إسبانيا وفرنسا.
- ٢٧ تشكل جبال ..... حدوداً طبيعية شيلي و الأرجنتين.
- ٢٨ تشكل جبال ..... حدوداً طبيعية الهند والصين.
- ٢٩ تشكل ..... حدوداً طبيعية بين مصر وليبيا.
- ٣٠ ترجع أهمية جبال ..... الاقتصادية أنها مناطق للسياحة الشتوية ، بينما جبال ..... للسياحة الصيفية.
- ٣١ يزيد المناخ ..... من فاعلية النشاط البشري.
- ٣٢ يسهم التنوع المناخي للدولة في الاقتراب من .....
- ٣٣ من الدول التي أسهم تنوعها المناخي في الاكتفاء الذاتي .....
- ٣٤ تقل فاعلية النشاط البشري في شمال قارة .....
- ٣٥ تعتبر الغابات مصدراً هاماً لـ ..... و.....
- ٣٦ يختلف شكل الحشائش حسب .....
- ٣٧ تتميز دولتي ..... و ..... بزيادة إنتاج الألبان والأصواف واللحوم.



1. أهمية موقع الدولة بالنسبة لدوائر العرض؟
2. لماذا أهمية الموقع البحري للدولة؟
3. أوجدنا دولة حبيسة رغم موقعها على سطح مائي؟
4. اختلاف الدول البحرية من حيث إشرافها على المسطحات المائية؟
5. تسمى الدول الحبيسة للمرور بأراضي دول أخرى؟
6. تعدد الدول المجاورة سلاح ذو حدين؟
7. المواقع الاستراتيجية تكتسب أهمية بالغة للدولة؟
8. للمواقع المركزية آثار إيجابية وأخرى سلبية؟
9. تختلف أهمية الموقع البحري لروسيا الاتحادية من ساحل الآخر.
10. احتلال ألمانيا لهولندا بسهولة أثناء الحرب العالمية الثانية؟
11. أهمية مساحة الدولة لا تقاس بالكيلومترات المربعة؟
12. المساحة الصغيرة للدولة لها آثارها السلبية على قوة الدولة؟
13. يعد شكل الدولة ميزة مهمة في قوتها؟
14. شكل الدولة المندمج يؤثر على قوتها؟
15. حسن الإدارة الداخلية للدولة ذات الشكل المندمج؟
16. قدرة الحكومة على السيطرة على الدولة ذات الشكل المندمج؟
17. الولايات المتحدة الأمريكية دولة مجزأة برياً؟
18. تعتبر إيطاليا دولة برية - بحرية مجزأة؟
19. الدولة المحتواة تعاني من مشكلات عدة؟
20. لا تملك الدولة المحتواة إرادتها السياسية أو الاقتصادية؟
21. تختلف الدولة الحبيسة عن الدولة الجيبية؟
22. التضاريس لها دور إيجابي وآخر سلبي على قوة الدولة؟
23. تفضل الأمم عادة أن تنشأ في المناطق المرتفعة؟
24. سعي إقليم كتالونيا للانفصال عن أسبانيا؟
25. نجاح الملك مينا قديما في تأسيس وحدة حضارية وثقافية في مصر؟

زهر - أول - ٢٠١٦ م

زهر - دور اول - ٢٠٢١ م

شع - أول - ٢٠١٨ م

شع - أول - ٢٠١٦ م





الجزء الأول ٢٠١٣

الجزء الثاني ٢٠١٤

- ١ يسهم التقدم العلمي والتكنولوجيا في التقليل من الأثر السلبي للمناخ؟
- ٢ يسهم التنوع المناخي للدول في الاقتراب من درجة الاكتفاء الذاتي؟
- ٣ تتأثر الأنشطة البشرية في (شمال روسيا) بنوع المناخ؟
- ٤ تمثل الغابات مورداً هاماً من الموارد الطبيعية للدول؟
- ٥ اختلاف أنماط الحشائش من مكان لآخر؟
- ٦ تساعد هجرة الحشائش على نمو وتطور اقتصاديات بعض الدول؟
- ٧ نمو الاقتصاد الرعوي في ككل من استراليا والأرجنتين؟

3

ضع علامة (✓) أو (×) فيما يلي مع ذكر السبب في العاشر

- ١ خطوط الطول أكثر أهمية من دوائر العرض بالنسبة لقوة الدولة. ( )
- ٢ تتنوع الدول البحرية من حيث إشرافها على المسطحات المائية. ( )
- ٣ وقوع الدولة داخل اليابس له تأثير إيجابي على قوتها. ( )
- ٤ يوجد تشابه كبير في الموقع البحري بين مصر والسعودية. ( )
- ٥ تمتلك الدول الهامشية مزايا تفوق الدول المركزية. ( )
- ٦ قارة أمريكا الشمالية أكثر القارات التي يوجد بها دول حبيسة. ( )
- ٧ كثرة عدد الدول المجاورة للدولة سلاح ذو حدين. ( )
- ٨ تحرص الدولة المحتواة على الاحتفاظ بعلاقات جيدة مع جيرانها. ( )
- ٩ المواقع الإستراتيجية ذات أهمية كبيرة للدولة سلباً ويجاباً. ( )
- ١٠ المساحة الكبيرة للدولة ليس لها آثار سلبية. ( )
- ١١ الشكل الشريطي لدولة شيلي يمثل بعداً ديموغرافياً. ( )
- ١٢ تقاس مساحة الدولة بالكيلو متر المربع فقط. ( )
- ١٣ الدول صغيرة المساحة يسهل اختراقها في بعض الأحيان. ( )
- ١٤ للمرتفعات أثر إيجابي وآخر سلبي على قوة (أسبانيا). ( )
- ١٥ يعتبر المناخ المعتدل مورداً مهماً من موارد الدولة. ( )
- ١٦ تعد الغابات من العناصر التي تحقق للدولة أهدافاً سياسية واقتصادية. ( )
- ١٧ معظم شمال أفريقيا منطقة خالية من السكان. ( )
- ١٨ للحشائش دور هام في قوة الدولة عبر العصور. ( )

زهر - دوراويل - ٢٠٢٢

ش.ع دوراويل ٢٠١٦



اختر الإجابة الصحيحة مما يلي

١ « تتعدد أشكال الدولة من حيث الموقع الجغرافي » في ضوء العبارة أجب -

- يتمثل وجه الارتباط بين الدول البحرية و الدول الحبيسة في .....
- اليابس و الماء.
  - الأهمية المركزية.
  - الدول المجاورة.
  - الأهمية الإستراتيجية.

٢ على خريطة العالم تعددت أشكال الدول لكل منها مزاياه و عيوبه و يعتبر من المقومات الطبيعية لقوة الدولة أو ضعفها ؛ من خلال العبارة السابقة أجب ...

- الدولة التي تقع في الطرف الشمالي الشرقي لإفريقيا تتخذ شكلا .....
- شريطي.
  - ذو بروز.
  - مندمج.
  - بري مجزا.

٣ الدول التي يتوافر فيها هذه الغابات الاستوائية تؤثر على قوتها من الناحية .....

- البيئية و العسكرية.
- الاقتصادية و السياسية.
- العسكرية و الاقتصادية.
- السياسية و البيئية.

٤ البعد المكاني لإقليم كتالونيا في إسبانيا أقصى .....

- شمال شرق.
- شمال غرب.
- جنوب شرق.
- جنوب غرب.

٥ إذا أرادت دولة تعزيز وحدتها الوطنية لابد أن يكون لديها .....

- سهول.
- جبال.
- تنوع مناخي.
- تكنولوجيا.

٦ في عدوان ١٩٦٧م على مصر قامت بتهجير سكان مدن القناة إلى محافظات مصر الداخلية لمقاومة العدو من خلال الاستفادة من .....

- العمق العسكري.
- الخداع الاستراتيجي.
- العمق الجغرافي.
- الجبهة الداخلية.

٧ يرجع التجانس السكاني في دولة هولندا إلى عدة عوامل منها ...

- المساحة الكبيرة.
- الشكل المستطيل.
- الموقع البحري.
- استواء السطح.

أزهر - دور اول - ٢٠٢٢

٨ الدولة الأكثر تعرضا للسيول و الأعاصير .....

- روسيا الاتحادية.
- الصين.
- الولايات المتحدة.
- البحرين.





- ١٠ انفصل إقليم كتالونيا عن إسبانيا بسبب المظهر .....  
○ التضاريسي. ○ السياسي. ○ الأمني. ○ الاقتصادي.
- ١١ من الدول التي تتعرض للأخطار الطبيعية نتيجة المساحة .....  
○ روسيا و هولندا. ○ إيران و الولايات المتحدة.  
○ البحرين و بلجيكا. ○ الصين و روسيا الاتحادية.
- ١٢ القاسم المشترك بين موقع مصر وموقع تونس أنها مواقع .....  
○ فلكية. ○ مركزية. ○ بحرية. ○ حبيسة.
- ١٣ إذا أرادت دولة تعزيز الوحدة بين سكانها لا بد أن يكون لديها .....  
○ سهولة الاتصال. ○ جبال للحماية. ○ تنوع مناخي ○ التقدم التكنولوجي.
- ١٤ تعد الغابات موردا هاما للدخل القومي يزيد من قوة دولة .....  
○ السويد. ○ قطر. ○ السعودية. ○ مصر.
- ١٥ تقترب دولة الصين في كثره عدد الدول المجاورة من دولة .....  
○ اليابان. ○ الولايات المتحدة. ○ السودان. ○ روسيا الاتحادية.
- ١٦ في شمال قارة أوربا المناخ يحد من فاعلية الأنشطة البشرية خاصة في دولتي .....  
○ السويد و النرويج. ○ إيطاليا و النمسا. ○ هولندا و بلجيكا. ○ إسبانيا و البرتغال.
- ١٧ من المقومات الطبيعية التي تؤثر على الوحدة الوطنية .....  
○ الموقع الفلكي. ○ الموقع الجغرافي.  
○ شكل الدولة. ○ الموقع بالنسبة لليابس و الماء.
- ١٨ دولة تستطيع التواصل الحضاري مع دول العالم دون أي عوائق .....  
○ سويسرا. ○ أوزندا. ○ الكاميرون. ○ بوليفيا.
- ١٩ مسطح مائي تشرف عليه دولة إيران .....  
○ خليج العقبة. ○ خليج عمان. ○ خليج سرت. ○ خليج عدن.
- ٢٠ أكثر القارات التي بها دول حبيسة تقع في العالم .....  
○ الجديد. ○ القديم. ○ المتقدم. ○ العربي.
- ٢١ من الدول التي تشرف على خليج عدن دولتي .....  
○ عمان و اليمن. ○ اريتريا و اليمن.  
○ الصومال و جنوب السودان. ○ الصومال و اليمن.



- ١١ من القارات التي يتوافر بها منتجات الألبان و الأصواف على خريطة العالم .....
- أمريكا الشمالية و أستراليا.  
○ آسيا و أوروبا.  
○ أمريكا الجنوبية و أستراليا.  
○ آسيا و أستراليا.

- ١٢ الشكل الشريطي لدولة شيلي يمثل بعداً .....
- تنظيمها.  
○ ديموغرافياً.  
○ مورفولوجياً.  
○ عسكرياً.

- ١٣ من الدول التي لا تعاني من التعقيد في التركيب اللغوي .....
- العراق.  
○ سويسرا.  
○ إيطاليا.  
○ فرنسا.

- ١٤ تختلف أهمية نهر النيل لمصر عن أهمية نهر الدانوب للنمسا بسبب موقع مصر .....
- المركزي.  
○ البحري.  
○ الضلعي.  
○ الهامشي.

- ١٥ يتميز ساحل البحر المتوسط بأنه أكثر أهمية لمصر مقارنةً بساحل البحر الأحمر بسبب .....
- استقامة الساحل.  
○ طول الساحل.  
○ احده الظهير الساحلي.  
○ زيادة الشعب المرجانية.

- ١٦ تتشابه دولة مصر مع دولة المغرب في .....
- الموقع الاستراتيجي.  
○ شكل الدولة.  
○ عدد الدول المجاورة.  
○ مساحة الدولة.

- ١٧ للخريطة الموجودة أمامك ؛ يصعب اعتبار بنجلاديش دولة محتواة بسبب .....

- الموقع البحري.  
○ كثرة عدد الدول المجاورة.  
○ كبر مساحتها.  
○ شكلها الشريطي.

- ١٨ طبقاً لما درست تعتبر ليسوتو أضعف من سوازيلاند كدولة حبيسة بسبب .....

- عدم تنوع المناخ.  
○ قلة عدد الدول المجاورة.  
○ صغر مساحتها.  
○ كثرة الجبال.

- ١٩ تزداد فاعلية الولايات المتحدة الأمريكية في مواجهة نتائج الكوارث الطبيعية بسبب .....

- المساحة الكبيرة.  
○ نوع المناخ.  
○ تنوع التضاريس.  
○ كثرة السكان.

- ٢٠ يمكن تصنيف دولة ليسوتو على أنها .....

- حبيسة و مركزية.  
○ محتواة و شريطية.  
○ مندمجة و حبيسة.  
○ بحرية و مندمجة.







5

أثر جغرافيا على صحة البنية التحتية

أزهر اول ٢٠٢٠

شع ٥ وراول ٢٠١٧

- ١ الدولت البحرية أفضل موقعا من الدولت الحبيسة؟
- ٢ يمثل اتساع المساحة في بعض الأحيان تحديات كبيرة.
- ٣ للمساحة الكبيرة آثار ايجابية على قوة الدولت.
- ٤ قوة الدولت لا تقاس بالكيلومترات المربعة فقط.
- ٥ يعد الشكل المنتظم من أكثر الأشكال أهمية للدولت في الجغرافيا السياسية.
- ٦ الشكل المجزا للدولت له عدة أنماط.
- ٧ الطابع السهلي له آثار ايجابية على الدولت.
- ٨ تعد المناطق المرتفعة في الدولت من مناطق الضعف.
- ٩ تعد المرتفعات مناطق سياحية في كثير من الدول.
- ١٠ للطابع السهلي آثار ايجابية وأخرى سلبية.
- ١١ للمساحة الكبيرة أثر في قوة الدولت.
- ١٢ توجد عدة عوامل مؤثرة في قوة أهمية مساحة الدولت.
- ١٣ المناطق المرتفعة تكسب الدولت العديد من الجوانب الإيجابية.
- ١٤ يؤدي المناخ المتطرف (الحار و البارد) إلى الحد من فاعلية الأنشطة البشرية.

6

عرف المفاهيم التالية

- ١ المواقع الاستراتيجية.
- ٢ المواقع المركزية.
- ٣ المواقع الهامشية.

- ٤ الدولت الحبيسة.
- ٥ الدولت الجيبية.
- ٦ النبات الطبيعي.

7

أجب حسب ما يطلب منك

أزهر دورايل ٢٠٢٠

- ١ ما هي العوامل المؤثرة في موقع الدولت البحري؟
- ٢ عدد ، مزايا و عيوب المواقع المركزية؟
- ٣ الطابع السهلي له آثار ايجابية على الدولت ، وضح؟





١ حدد ، مزايا الشكل المندمج للدولة؟

٢ ما هي ، أنواع قلب الدولة حسب الأهمية؟

٣ ما العلاقة بين مساحة الدولة ، و السيطرة عليها خلال الحرب؟

٤ حدد العلاقة بين ، مساحة الدولة ، و خطط التنمية؟

٥ ما الفرق بين ، الدولة الحبيسة ، و الدولة الجيبية؟

٦ صنّف الدول التالية من حيث الشكل ،

أمصر ، البحرين ، الولايات المتحدة ، شيلي ، الكنفو ، بلجيكا

٧ ما الأثر الناتج عن شكل دولة (ليسوتو) على سياستها الخارجية؟

٨ ما العلاقة بين : مساحة الدولة و السيطرة عليها خلال الحرب.

ش.ع دور اول - ٢٠١٩

ش.ع دور اول - ٢٠١٨

ش.ع دور اول - ٢٠١٨

ش.ع دور اول - ٢٠١٩

ش.ع - دور اول - ٢٠١٦

### ٨ قارن بين كلام من

١ الدولة البحرية ، و الدولة الحبيسة.

٢ المناطق السهلية، و المناطق المرتفعة للدولة من حيث ، الآثار السلبية و الإيجابية.

٣ مزايا ، و عيوب الدولة ذات الشكل المستطيل.

٤ الآثار السلبية ، و الإيجابية للدول ذات المساحة الكبيرة.

٥ الآثار السلبية ، و الإيجابية للدول ذات المساحة الصغيرة.

### ٩ اكتب ما تدل عليه العبارات التالية

١ دولة تتكوّن من حكومة واحدة و مجلس نيابي واحد.

٢ دولة تعد النموذج المثالي للدولة الوحيدة.

٣ من الدول المُجزأة إلى عدة جزر.

٤ انضمام دولتين أو أكثر في اتحاد لتحقيق غايات مشتركة.

٥ دولة مُجزأة برياً.

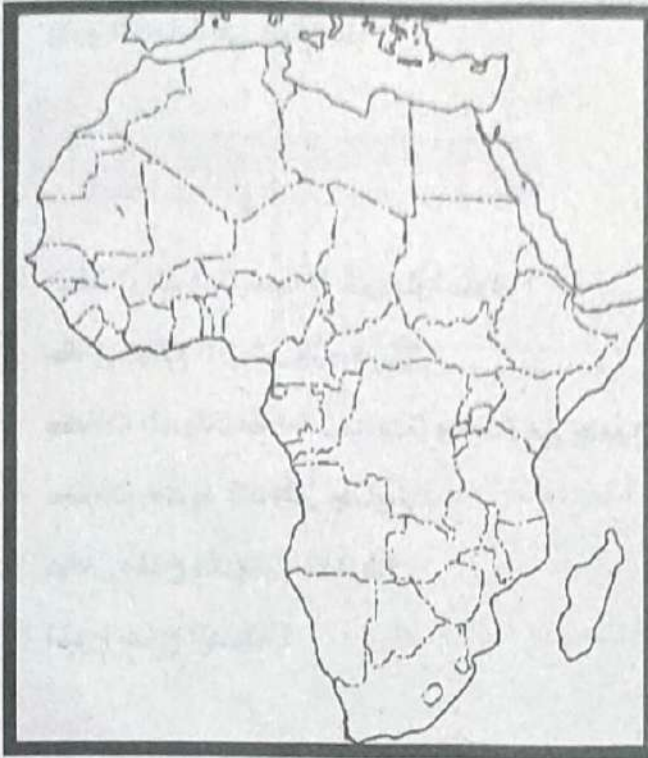
٦ أقدم المناطق المعمورة على خريطة العالم.





10

### أقرئه اجيب



- امامك خريطة صفاء لقارة افريقيا .. حدد عليها ما يلي :
- ١ ممر استراتيجي لدولة مركزية.
  - ٢ ممر استراتيجي بين دولة جزرية ودولة بحرية.
  - ٣ مضيق عربي خالص.
  - ٤ دولة حبيسة.
  - ٥ دولة مُندمجة - مركزية.
  - ٦ دولة مُندمجة ذات بروز.
  - ٧ دولة مُحْتَوَاة.
  - ٨ دولة جزرية.

11

### ما النتائج المترتبة على كلاً من

- ١ وقوع الدولة داخل اليابس وعدم اتصالها بأي مسطح مائي مفتوح؟
- ٢ اشتراك حدود الدولة مع عدد كبير من الدول؟
- ٣ إحاطة الدولة بدولة أخرى من جميع الجهات؟
- ٤ المساحة الكبيرة للدولة؟
- ٥ الشكل المستطيل للدولة؟
- ٦ التقدم العملي وتأثيره على مناخ الدولة؟
- ٧ التقدم العلمي والتكنولوجي ، وتأثيره على مناخ الدولة؟
- ٨ اعتدال مناخ دول حوض البحر المتوسط؟
- ٩ قسوة المناخ شمال روسيا ، و شمال كندا؟
- ١٠ ارتفاع نسبة هتة صغار السن (دون الخامسة عشر) في الدول النامية؟
- ١١ التغير في مكونات وعناصر قوة الدولة نتيجة التطورات التكنولوجية؟
- ١٢ وجود نظام نقل مُتطور داخل الدولة؟

ش.ع ٢٠١٧

زهر - دور اول - ٢٠٢١



عزولاً

- 1. تحقيق الاكتفاء الذاتي للقمح على قوة الدولة؟
- 2. نقص إنتاج الغذاء في الدول النامية؟
- 3. وفرة الغابات في دولة ما؟

12

أسئلة مستوحاة

- 1. اتخذت الدولة شكلاً شريطياً طويلاً؟
- 2. كان موقع الدولة مركزياً؟
- 3. كانت الدولة محاطة بدولة واحدة من جميع الجهات؟
- 4. كانت حدود الدولة جبليّة؟
- 5. كان مناخ الدولة متطرفاً؟
- 6. تنوع مناخ الدولة؟

13

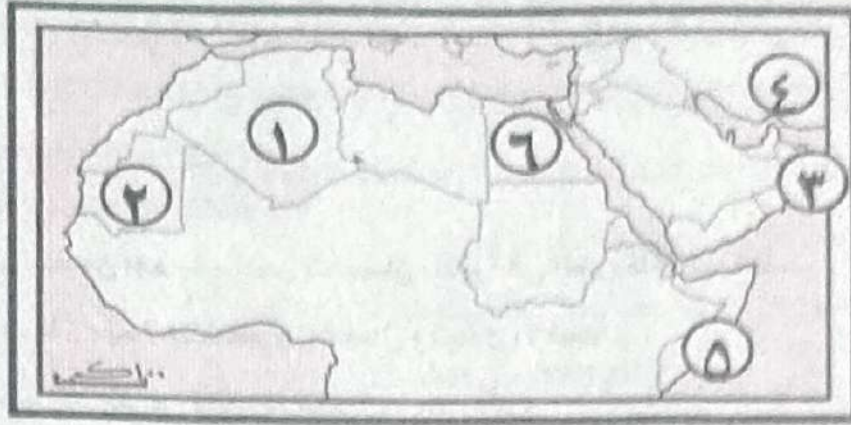
أسئلة مستوحاة

1. تختلف الدول من حيث شكلها العام، ويمكن تقسيمها إلى أنواع مختلفة من حيث الشكل

في ضوء ما سبق .. وضح ..

- أ) ما وجه الاختلاف بين الدولة الفيدرالية و الكونفيدرالية؟
- ب) ما أنواع الدول من حيث الشكل ؟ مع ضرب أمثلة لكل نوع؟
- ج) ما هي مميزات الشكل المندمج (المنتظم)؟





١. اكتب ما تدل عليه الأرقام:

١. دولة وحدوية .....
٢. دولة مجزأة برياً بحرياً .....
٣. دولة شريطية .....
٤. دولة ذات عاصمة بحرية .....
٥. مضيق .....
٦. دولة ذات موقع استراتيجي .....

ب) حدد على الخريطة:

١. دولة ذات جبهة بحرية واحدة؟
٢. ممر بحري يقع في العالم القديم النامي؟
٣. دولة عربية تكاد تكون حبيسة ( جبهة بحرية ضيقة )؟
٤. دولة عربية اختيرت عاصمتها بشكل خاطئ؟
٥. أصغر دولة عربية مساحتاً؟
٦. دولة عربية متعددة الجيران؟

٧. أماك خريطة توضح الأذرع المائية الهامة بالوطن العربي استخرج منها:



١. ممر استراتيجي هام.
٢. دولة مركزية.
٣. دولة مستطيلة طولية.
٤. ممر استراتيجي عربي خالص.
٥. منطقة ثقل ديني.
٦. دولة عربية مجزأة برياً.



## الفصل الثالث المقومات البشرية لقوة الدولة

1

أكمل ما يلي بكلمات مناسبة

- 1 يعد ..... و ..... من أهم خصائص السكان تأثيراً في الخريطة السياسية.
- 2 تعد ..... وسيلة مهمة للتفاهم والاتصال وتبادل الأفكار.
- 3 من الدول التي تمنع استخدام الأقليات للفتها .....
- 4 من الدول القزمية في عدد السكان ..... و .....
- 5 يعد ..... و ..... من أهم خصائص السكان تأثيراً في الخريطة السياسية.
- 6 يعد ..... عاملاً مهماً من عوامل تجانس الدولة.
- 7 ظهر تأثير التكنولوجيا على الدول في السنوات الأخيرة من القرن .....
- 8 يعد الإنتاج ..... من أهم متطلبات الأمن القومي.
- 9 تقدم الصناعة أصبح حيثما توجد ..... و .....
- 10 مصطلح الدول الصناعية أصبح مرادفاً للدول .....
- 11 من دول الاكتفاء الذاتي النسبي من الغذاء ..... و .....
- 12 وزن الدولة على المستوى العالمي يتحدد على أساس ما تملكه الدولة من .....
- 13 تعتبر ..... ركيزة أساسية من ركائز اقتصاد أي دولة.
- 14 لا يمكن لأي سياسة (سواء كانت دفاعية أو هجومية) أن تكون ذات أثر إذا لم تُساندها قدرة على .....

ث.ع/أزهر دور أول ٢٠١٨

- 15 تعمل الطرق و وسائل الاتصال الجيدة على زيادة .....
- 16 يتعدّد الدفاع أو الهجوم في المجال العسكري إذا لم يكن هناك .....
- 17 وزن الدولة على المستوى العالمي يتحدد على أساس ما تملكه الدولة من ..... (أزهر - دور ثان - ٢٠١٨)

2

بم تفسر

- 1 هناك تباين بين سويسرا وسلطنة عمان في التركيب العمري وقوة الدولة؟
- 2 اعتماد دول الخليج على العمالة الأجنبية؟
- 3 للحجم السكاني الصغير عيوب كثيرة؟



- ١ لضخامة أعداد السكان في الصين مردود إيجابي على قوة الدولة؟
- ٢ الزيادة السكانية لا تعني بالضرورة زيادة قوة الدولة؟
- ٣ محدودية مشاركة المرأة في العملية الإنتاجية في الدول النامية؟
- ٤ يعد التركيب العمري أحد عوامل قوة الدولة أو ضعفها؟  
ش.ع دور ثان ٢٠١٧ / أزهر دور ثان ٢٠١٨
- ٥ للهجرة السكانية آثار إيجابية وأخرى سلبية؟
- ٦ تلجأ بعض الدول في الاعتراف بحق الأقليات في لغتهم القومية؟
- ٧ تزداد المشكلات في الدول الجاذبة للأيدي العاملة؟
- ٨ أهمية التكنولوجيا في وقتنا الحاضر؟
- ٩ تعد الجوانب الاقتصادية من أهم مقومات قوة الدولة؟
- ١٠ يعد الإنتاج الزراعي من أهم متطلبات الأمن القومي للدولة؟
- ١١ الاكتفاء الذاتي من الغذاء يعطي الدولة من الضغوط الخارجية؟  
ش.ع دور أول ٢٠١٧
- ١٢ توافر الموارد المعدنية ومصادر الطاقة من العوامل المؤثرة في قوة الدولة؟
- ١٣ البترول سلاح سياسي واقتصادي في آن واحد؟
- ١٤ تعد القوة العسكرية أحد عناصر قوة الدولة؟  
أزهر دور أول - ٢٠٢١
- ١٥ سعي الحكومة المصرية الدعوى لإقامة تجمعات صناعية كبرى حول محور قناة السويس؟
- ١٦ وسائل النقل من الأمور الضرورية للدولة العصرية؟
- ١٧ قيام الحكومة المصرية بحفر مجموعة أنفاق أسفل قناة السويس؟
- ١٨ تعدد المؤشرات الدالة على قوة الدولة؟
- ١٩ المؤشر الحقيقي لقوة الدولة ليس في عدد أفراد قوات جيشها فقط؟
- ٢٠ القوة العسكرية من عناصر قوة الدولة؟

3

ضع علامة (✓) أو (x) فيما يلي مع ذكر السبب في الحالتين

- ١ شهدت البشرية تغيرات مستمرة في الغطاء البشري على مر التاريخ. ( )
- ٢ الجزائر من الدول العربية التي تلجأ للقوى الكبرى لحمايتها لنقص المورد البشري. ( )
- ٣ تتحدد نسبة الإعالة في أي دولة وفقاً لحاجته العمل. ( )
- ٤ هناك علاقة قوية بين الإعالة وفئات الأعمار في الدولة. ( )
- ٥ يختلف أثر الدين على التجانس السكاني داخل الدولة الواحدة. ( )



## المرشد في المراجعة النهائية

- ( )
- ١ توجد علاقة بين الوزن السكاني للدولة وقوتها السياسية.
- ( )
- ٢ بعد الحجم السكاني مقياساً لقوة الدولة ووزنها السياسي.
- ( )
- ٣ يؤثر حجم السكان في قوة الدولة في مختلف المجالات.
- ( )
- ٤  تؤدي وحدة اللغة إلى ضعف وتمكك الدولة.
- ( )
- ٥  يتميز الوطن العربي ببساطة التركيب اللغوي.
- ٦  اعتماد الصناعة في الدولة (خاصة الصناعات الحربية) على خامات معدنية من داخلها على جانب كبير من الأهمية.
- ( )
- ٧ يعتمد التقدم الصناعي للدول في الوقت الحالي على وفرة المواد الخام الأولية.
- ( )
- ٨ تُعد (كندا) من الدول ذات الاكتفاء الذاتي النسبي.
- ( )
- ٩ تعتبر (اليابان) نموذجاً استطاع تحقيق التقدم من خلال التكنولوجيا.
- ( )
- ١٠ سلوك الدولة الاجتماعي يكون نابغاً من خلفيتها الاقتصادية.
- ( )
- ١١  للبترول أهمية سياسية إلى جانب أهميته الاقتصادية.
- ( )
- ١٢ تُعد القوة العسكرية من أهم عناصر قوة الدولة.
- ( )
- ١٣ تفقد الدولة قوتها العسكرية رغم الكثرة العددية بسبب نقص التدريبات.

4

### اختر الإجابة الصحيحة مما يلي

- ١ استخدمت بعض الدول في حل مشاكلها السياسية رسم حدود جديدة حسب الخصائص.....
- الإثنوغرافية. ○ الديموغرافية. ○ المورفولوجية. ○ الحيوية.
- ٢ من الدول التي تعاني من التعقيد في التركيب اللغوي.....
- سوريا. ○ سويسرا. ○ إيطاليا. ○ فرنسا.
- ٣ من المحاصيل الإستراتيجية التي تحقق الأمن القومي في البلاد.....
- الخضروات و الفاكهة. ○ محاصيل ذات طبيعة خاصة.
- الحبوب الغذائية. ○ المحاصيل السكرية.
- ٤ من الدول التي لا يوجد لديها فائض لتصدير القمح دولة.....
- الولايات المتحدة. ○ الجزائر. ○ فرنسا. ○ إنجلترا.





- ١٣ من أهم الأسلحة التي تستخدم لتحقيق أهداف سياسية واقتصادية لقوة الدولة .....
- النفط. ○ الحديد ○ المنجنيز. ○ الفحم. ○ الضخم.
- ١٤ القاسم المشترك بين صناعات تشكيل الحديد والصلب و السيارات أنهما صناعات .....
- معدنية. ○ استخراجية. ○ كيميائية. ○ الهندسية.
- ١٥ أقوى مكونات التركيب الاقتصادي و يتوقف عليه قوة الدولة أو ضعفها هو .....
- الإنتاج الزراعي. ○ الإنتاج الصناعي في الموارد المعدنية ○ النقل والاتصال.
- ١٦ تعددت عناصر القوة الاقتصادية و لكن لن تصل الدولة إلى المثالية إلا بتوافر .....
- كفاءة إنتاجية. ○ التقنيات الحديثة. ○ عقول إبداعية. ○ اكتفاء موارد.
- ١٧ من الجوانب المعنوية التي تؤثر على القوة العسكرية .....
- المعدات الحربية. ○ الخطط الاستراتيجية.
- الثكنات العسكرية. ○ الكفاءة القتالية.
- ١٨ نجحت الحكومة الماليزية في إدارة شؤون الدولة من خلال قوتها .....
- العسكرية و السياسية. ○ الاقتصادية و السياسية.
- الاجتماعية و السياسية. ○ العسكرية والاجتماعية.
- ١٩ تفقد الدولة قدرتها التنظيمية رغم الكثرة العددية بسبب عدم ملائمة القوة .....
- العسكرية. ○ الاقتصادية. ○ المورفولوجية. ○ التكنولوجية.
- ٢٠ تجد العديد من الدول تلجأ إلى التحالفات العسكرية مع الدول المتقدمة لنقص المورد اتدل العبارة السابقة على دولة .....
- النمسا. ○ الكويت. ○ سويسرا. ○ مصر.
- ٢١ هناك تباين بين ألمانيا و العراق في العنصر البشري المنتج بسبب التركيب .....
- النوعي. ○ العمري. ○ الاقتصادي. ○ اللغوي.
- ٢٢ للحفاظ على التجانس بين السكان داخل الدولة الواحدة يجب الحد من .....
- الهجرة من الريف للمدن. ○ القصور في العمل.
- الموافقة على الإجازات. ○ منح تصاريح العمل.



- ١٢ استطاعت دولة الهند حل مشاكلها السياسية و رسم حدود جديدة وفقا للخصائص .....  
 ○ المورفولوجية. ○ الديموغرافية. ○ الحضارية. ○ الاقتصادية.
- ١٣ تحتل العقول البشرية في الدول المتقدمة مكانة هامة و مسئولية عن التقدم .....  
 ○ الزراعي. ○ التجاري. ○ الصناعي. ○ الجيولوجي.
- ١٤ أكثر خصائص السكان تأثيرا على عدد الوحدات السياسية .....  
 ○ فئات العمر. ○ الهجرة. ○ الخصائص الحضارية.
- ١٥ يعتمد الاتحاد الأوربي للحفاظ على وزيه السياسي على الساحة السياسية على .....  
 ○ التصدير. ○ الإنتاج المعدني. ○ الإنتاج الصناعي. ○ الإنتاج الزراعي.
- ١٦ نجحت الحكومة المصرية في السيطرة على إدارة البلاد من خلال قوتها .....  
 ○ الاجتماعية و السياسية. ○ السياسية و العسكرية. ○ السياسية و الاقتصادية. ○ الاجتماعية و الاقتصادية.
- ١٧ القاسم المشترك في التجمعات الزراعية و الصناعية و البنيت التحتية في أي دولة الموارد .....  
 ○ الاقتصادية. ○ الزراعية. ○ البشرية. ○ الطبيعية.
- ١٨ من مقومات الدولة البشرية .....  
 ○ التركيب الزراعي. ○ التركيب الصناعي. ○ التركيب المعدني. ○ التركيب الاقتصادي.
- ١٩ تعددت عناصر القوة الاقتصادية في الولايات المتحدة الأمريكية و لم تصل إلى القمة إلا بتوافر ..  
 ○ الإنتاج. ○ التقنيات الحديثة. ○ العقول. ○ الاكتفاء الذاتي.
- ٢٠ القاسم المشترك بين صناعة الصواريخ و القنابل أنها صناعات .....  
 ○ استهلاكية. ○ هندسية. ○ معدنية. ○ إستراتيجية.





5

دلل جغرافياً على صحة أو خطأ العبارات التالية

- ١ توجد علاقة بين حجم السكان وقياس قوة الدولة.
- ٢ الحجم السكاني الصغير له مميزاته وسلبياته.
- ٣ لا يتأثر المجال العسكري في الدولة بحجم السكان.
- ٤ يعد التركيب العمري للسكان أحد عوامل قوة الدولة.
- ٥ يختلف أثر التركيب النوعي بين الدولة النامية والمتقدمة.
- ٦ يعد الحجم السكاني مقياساً لقوة الدولة ووزنها السياسي.
- ٧ الحجم الكبير للسكان له مميزاته وسلبياته.
- ٨ للهجرة السكانية آثار إيجابية وأخرى سلبية على الدول المرسلتة والدول المُستقبلتة للمهاجرين.
- ٩ تؤدي وحدة اللغة إلى قوة الدولة وتماسكها.
- ١٠ التزمت إيطاليا بميثاق الأمم المتحدة الخاص بحقوق الأقليات.
- ١١ تتميز الأقطار العربية بتعدد التركيب اللغوي.
- ١٢ تلجأ بعض الدول للاعتراف بحريّة الأقليات في لغتها القومية.
- ١٣ الموارد الزراعية من أهم الجوانب التي يجب أن تتوافر داخل الدولة.
- ١٤ تُعد الموارد الصناعية من أهم الركائز التي يعتمد عليها اقتصاد الدولة.
- ١٥ للنقل أهمية كبيرة كأحد مكونات المركب الاقتصادي بالدولة.
- ١٦ تعد وسائل النقل من الأمور الضرورية للدول العصرية.
- ١٧ ارتفاع فئة صغار السن (دون سن الخامسة عشر) في الدول النامية.

6

ما النتائج المترتبة على

- ١ قلة عدد سكان في دولة الكويت؟
- ٢ تعدد اللغات في دولة ما؟
- ٣ الهجرة الخارجية النسبة لسكان مصر؟
- ٤ نقص إنتاج الغذاء في الدول النامية؟
- ٥ الاكتفاء الذاتي للقمح على قوة الدولة؟
- ٦ وفرة الموارد المعدنية ومصادر الطاقة في دولة ما؟

ث.ع - دور أول - ٢:٣٨



- ١ وجود نظام نقل متطور ومتكامل؟
- ٢ تصنيف مصر عسكرياً كقوة عسكرية كبرى؟
- ٣ استخدام البترول كسلاح سياسي في حرب أكتوبر؟

7

### ماذا يحسد علينا؟

- ١ ارتفعت نسبة الأطفال في الدول النامية؟
- ٢ ارتفعت نسبة الشباب في دولتنا؟
- ٣ اهتمت الدول النامية بالتعليم والتكنولوجيا؟
- ٤ استطاعت دولتنا ما أن تحقق اكتفاء ذاتياً من الغذاء؟
- ٥ لم يتحقق الاكتفاء الذاتي من الغذاء الأساسي؟
- ٦ تمتعت الدولتنا بشبكة مواصلات جيدة تربط بين أجزائها؟
- ٧ اقتضت الدولتنا إلى وجود نظام متطور ومتكامل؟

شرح دور كان

8

### ما المقصود بالمقاييم التالية؟

- ١ خصائص السكان.
- ٢ التركيب النوعي للسكان.
- ٣ التركيب العمري للسكان.
- ٤ القوة التنظيمية.
- ٥ التكنولوجيا.
- ٦ المعادن الإستراتيجية.



## الفصل الرابع النظام السياسي والانتخابي في الدولة

1

### كل ما يلي بكمالات مناسبة

١. تقسم أنظمة الحكم من حيث الشكل إلى نظام ..... أو .....
٢. يُحدد ..... نظام الحكم في الدولة.
٣. الانتخابات أداة للاختيار ، وبمقتضاها يتم الاختيار على أساس .....
٤. يقوم النظام ..... على أن السلطة التنفيذية مستقلة عن السلطة التشريعية.
٥. يتولى مسؤولية الحكم في النظام البرلماني .....
٦. تتركز سلطة التشريع في النظام الرئاسي في يد .....
٧. يعين رئيس الدولة الحكومة في النظام .....
٨. تُعد دولة ..... نموذجاً للنظام البرلماني.
٩. تُعد ..... نموذجاً للنظام الرئاسي.
١٠. تُعد ..... نموذجاً للنظام شبه الرئاسي.
١١. ينتخب رئيس الوزراء في الدول ذات نظام الحكم .....
١٢. الانتخابات أداة للاختيار ، وبمقتضاها يتم الاختيار على أساس المساواة بين .....
١٣. تُعبّر الانتخابات عن مبدأ رأي .....
١٤. تنتمي المملكة المغربية للنظام السياسي .....
١٥. يمثل رئيس الجمهورية ورئيس الوزراء السلطة .....
١٦. لن ينجح النظام الانتخابي في أي دولة دون وجود .....
١٧. تعد ..... أكثر العلوم ارتباطاً بالانتخابات.
١٨. ظهرت جغرافية الانتخابات على يد .....

2

### بم تفسر

١. من الخطأ أن تُمنح جهة واحدة حق ممارسة السلطات جميعاً؟
٢. ليس هناك نظام مثالي للحكم يصلح لكل دولة؟



- 1. يختلف نظام الحكم في فرنسا عن المملكة المتحدة
- 2. النظام شبه الرئاسي نظاماً وسطاً بين النظامين البرلماني و الرئاسي
- 3. عمليات الانتخابات لها جوانب جغرافية عديدة
- 4. ظهور جغرافية الانتخابات
- 5. أهمية جغرافية الانتخابات
- 6. أهمية نظام الانتخابات

3

مواضع الاختلاف بين النظامين البرلماني والرئاسي

- 1. ( ) تختلف أنظمة الحكم وفق الشكل إلى نظام رئاسي وبرلماني وشبه رئاسي
- 2. ( ) لا يختلف النظام الرئاسي عن شبه الرئاسي
- 3. ( ) النظام شبه الرئاسي أفضل أنظمة الحكم في العالم
- 4. ( ) ليس هناك نظام حكم مثالي على مستوى العالم
- 5. ( ) في النظام شبه الرئاسي يتشكل (رئيس الجمهورية) الحكومة
- 6. ( ) عمليات الانتخابات لها جوانب جغرافية عديدة
- 7. ( ) النظام السياسي في صورته المؤسسية أو التنظيمية يعتمد على مجموعة مؤسسات تتوزع بينها
- 8. ( ) عملية صنع القرار السياسي

4

اختر الإجابة الصحيحة مما يلي

- 1. وحدة سياسية فيها نظام الحكم رئاسي .....
  - المغرب
  - السعودية
  - إنجلترا
  - البرازيل
- 2. يمثل الرئيس و مجلس الوزراء السلطة .....
  - التشريعية
  - القضائية
  - التنفيذية
  - العسكرية
- 3. أوجه الارتباط بين الجغرافيا السياسية و جغرافية الانتخابات تتمثل في دراسة القوة .....
  - الديموقراطية و المورفولوجية
  - الديموقراطية و العسكرية
  - العسكرية و السياسية
  - المورفولوجية و السياسية
- 4. القاسم المشترك في أنظمة الحكم في النظام السياسي هو .....
  - الديمقراطية
  - الدستور
  - الحكومة
  - السلطة القضائية



- ٤ يشكّل نظام الحكم في الأردن التي ينتقل الحكم فيها بين أبناء الأسرة الواحدة .....  
 ○ رئاسي. ○ شبه رئاسي. ○ جمهوري. ○ ملكي.
- ٥ دولة لديها قوة مورفولوجية و شكل نظام الحكم فيها جمهوري .....  
 ○ أوزندا. ○ السعودية. ○ الولايات المتحدة. ○ شيلي.
- ٦ القاسم المشترك بين الديمقراطية و العدالة .....  
 ○ الحيادية. ○ اتخاذ القرارات. ○ حقوق الفرد. ○ العلاقات السياسية.
- ٧ الحاكم في نظام الحكم البرلماني في دولة تركيا .....  
 ○ الملك. ○ الإمبراطور. ○ الرئيس. ○ رئيس الوزراء.
- ٨ وجه الارتباط بين رئيس الدولة والحكومة في النظام شبه الرئاسي .....  
 ○ الدعم الشعبي. ○ التحكم في الشؤون القضائية. ○ الامتثال لأحكام الدستور. ○ السيطرة على القوة العسكرية.
- ٩ السلطة التنفيذية تتكون من .....  
 ○ النواب والحكومة. ○ الرئيس و مجلس الوزراء. ○ القضاة والحكومة. ○ الرئيس و النواب.
- ١٠ لن ينجح النظام الانتخابي في أي مكان بدون .....  
 ○ القضاء. ○ السلطة. ○ الشعب. ○ الدستور.
- ١١ الفاصل في الحكم في النظام شبه الرئاسي بين .....  
 ○ الرئيس و السلطة التنفيذية. ○ القضاء و السلطة التشريعية. ○ الرئيس و السلطة القضائية. ○ السلطة التنفيذية و التشريعية.
- ١٢ إذا اختلفت القوميات و الثقافات في دولة واحدة لا نجد المثالية في .....  
 ○ نظام الحكم. ○ مؤسسات الدولة. ○ الوحدة الداخلية. ○ التقسيم الطبقي.
- ١٣ تعددت مفاهيم النظام السياسي فمنها .....  
 ○ اجتماعية و سياسية. ○ سياسية و تنظيمية. ○ اجتماعية و تنظيمية. ○ سياسية و عسكرية.
- ١٤ تعتمد أنظمة الحكم الديمقراطية على الاستقلالية و الفصل بين .....  
 ○ الأمن الداخلي و الخارجي. ○ القوانين و مطالب الشعب. ○ المؤسسات التنظيمية. ○ إدارة الموارد و المصالح العام.



5

دور جغرافيا على صعدة أو خط الميزان التالية

- 1 النظام السياسي في صورته الاجتماعية يقوم بأدوار و وظائف متعددة.
- 2 يتميز النظام شبه الرئاسي بعدة خصائص تميزه عن غيره.
- 3 النظام الانتخابي في العالم يستند إلى عدة قواعد وأسس.
- 4 عملية الانتخابات لها جوانب جغرافية كثيرة تتناولها الجغرافيا السياسية.
- 5 ارتباط الجغرافيا السياسية بالعملية الانتخابية.

الموسم ٢٠١٧

6

ما التصور بالتالي

- 1 النظام السياسي في صورته المؤسسية - التنظيمية.
- 2 النظام السياسي في صورته الاجتماعية.
- 3 النظام الانتخابي.
- 4 جغرافية الانتخابات.
- 5 الفصل بين السلطات.

ت.ع دور اول ٢٠١٩

7

اجب حسب ما يطلب منك

- 1 ما الفرق بين .. النظام السياسي في صورته المؤسسية ، و صورته الاجتماعية .
- 2 ما هي أهم مجالات دراسة جغرافية الانتخابات .
- 3 صنف أنظمة الحكم بين من حيث الشكل و تنظيم العلاقة بين السلطات الثلاث.

الموسم دور اول ٢٠١٨

8

قارن بين كلا مما يلي

- 1 خصائص النظام البرلماني ، و خصائص النظام شبه الرئاسي.
- 2 النظام السياسي في صورته الاجتماعية، و النظام السياسي في صورته المؤسسية.
- 3 النظام الرئاسي ، و النظام البرلماني.



9

كتب مبدل العبارات التالية

1 نظام اجتماعي يقوم بأدوار و وظائف متعددة استنادًا إلى سلطة أو قوة يستخدمها في إدارة موارد المجتمع.

ش.ع دور اول ٢٠١٧

2 نظام حكم فيه استقلال كامل بين السلطات الثلاث.

3 نظام حكم يكون فيه الرئيس أو الملك يسود ولا يحكم.

4 نظام حكم وسط بين النظامين الرئاسي والبرلماني.

5 مجموعة القواعد والتشريعات والقوانين التي تُنظم عملية انتخاب ممثلي الشعب.

المرور اول وثان ٢٠١٧

10

ماذا يحدث اذا

1 لم يُطبق مبدأ الفصل بين السلطات في نظام الحكم؟

2 لم ترتبط الجغرافيا السياسية بالعملية الانتخابية؟

زهر - دور ثان ٢٠١٧

ش.ع - دور اول ٢٠١٩

11

اقراء ثم اجب

1 ((أعلنت الحكومة المصرية عن نجاحها في الحصول على أول حاملة طائرات في تاريخ مصر إضافة إلى شراء

مجموعة من الغواصات المتقدمة تكنولوجياً))

في ضوء العبارة السابقة أجب عما يلي :

(أ) لماذا تهتم مصر بتحديث قواتها المسلحة رغم حالة الاستقرار النسبي في المنطقة؟

(ب) ما هي عناصر قوة مصر العسكرية؟

2 ((تتجه مصر حالياً إلى تطوير بنيتها التحتية باعتبار أنها من أهم عوامل جذب الاستثمارات الخارجية))

في ضوء ما سبق .. وضح ..

(أ) ما أهمية وسائل النقل والمواصلات في الدولة؟

(ب) أذكر المقومات التي تمتلكها مصر ، وتجعلها دولة قوية؟

(ج) كيف يؤثر التنظيم الحكومي على قوة الدولة؟

(د) من وجهة نظرك ... حدّد : كيف يمكن التصدي لظاهرة هجرة العقول ؟

زهر دور اول ٢٠١٨



# يوكليت

## على الوحدة الأولى

ظلل الدائرة ذات الرمز الدال على الإجابة الصحيحة فيما يلي ..

○ الولايات المتحدة.

من دول الاكتفاء الذاتي النسبي هي الإنتاج الغذائي .....

○ مصر. ○ كندا. ○ اسبانيا.

( ) .

أكتب كلمة صواب أو خطأ أمام العبارة التالية :

تعد العاصمة مركز القوة السلطوية.

ما المقصود به :

قلب الدولة.

ظلل الدائرة ذات الرمز الدال على الإجابة الصحيحة فيما يلي ..

تمثل تلك الصورة إحدى خطوات العملية الانتخابية، فما هي العمليات التي تجرى بعدها .....

○ تقسيم الدوائر والترشح للانتخابات.

○ إجراء الانتخابات وفرز الأصوات.

○ فرز الأصوات وتحديد الفائز.

○ الترشح للانتخابات وتحديد الفائز.

دلل على صحة العبارة التالية :

الطابع السهلي له آثار إيجابية على الدولة؟

ظلل الدائرة ذات الرمز الدال على الإجابة الصحيحة فيما يلي ..

نقلت اليابان عاصمتها من كيوتو الداخلية إلى مدينة .....

○ طوكيو.

○ ناجاساكي.

○ كيوشو.

○ هيروشيما.

أقرأ ثم أجب :

تمتلك مصر موقعا جغرافيا متميزا كان نعمته ونقمة عليها . في ضوء هذه العبارة وضح :

يختلف تأثير كثرة الدول المتجاورة بالنسبة للدول النامية عن الدول المتقدمة؟

ظلل الدائرة ذات الرمز الدال على الإجابة الصحيحة فيما يلي ..

تزداد صلاحيات السلطة التشريعية بشكل واضح في نظام الحكم.

○ الجمهوري.

○ البرلماني.

○ الرئاسي.

○ شبه الرئاسي.



٩ دُل على صحة العبارة التالية :

الاتحاد الفيدرالي يتم في شعب واحد بينما الاتحاد الكونفيدرالي يتم بين دول ذات سيادة مستقلة؟

١٠ وضع :

كيفية تصنيف نظم الحكم في دول العالم؟

١١ ظلل الدائرة ذات الرمز الدال على الإجابة الصحيحة فيما يلي ..

يقوم برلمان دولة ما بانتخاب رئيس الحكومة، الذي بدوره يشكل مجلس الوزراء وبذلك فهي دولة ذات نظام .....

○ رئاسي- ○ برلماني- ○ شبه رئاسي- ○ ملكي-

١٢ ظلل الدائرة ذات الرمز الدال على الإجابة الصحيحة فيما يلي ..

النموذج المثالي للدولتين الوحديتين المجزأة يوجد في ربع الكرة الأرضية .....

○ الشمالي الشرقي- ○ الجنوبي الشرقي-

○ الشمالي الغربي- ○ الجنوبي الغربي-

١٣ ما المقصود بـ :

النظام السياسي في صورته المؤسسية - التنظيمية-

١٤ يم تفسر :

تعد القوة العسكرية أحد عناصر قوة الدولة؟

أزهر- دور أول - ٢٠٢١

١٥ أذكر وجه الشبه والاختلاف بين :

العاصمة القديمة و العاصمة المستحدثة-

١٦ ماذا يحدث إذا :

افتقرت الدولة إلى وجود نظام متطور ومتكامل؟

ث.ع - دور ثان - ٢٠١٧

١٧ دُل على صحة العبارة التالية :

شكلت الدولة المركبة أنواعاً مختلفة من الاتحادات على مر التاريخ-

١٨ أكتب كلمة صواب أو خطأ أمام العبارة التالية : مع ذكر السبب ..

( ) -

الجبال أقدم المناطق المعمورة على سطح الأرض-

١٩ ظلل الدائرة ذات الرمز الدال على الإجابة الصحيحة فيما يلي ..

يتم من خلال الانتخابات في مصر اختيار .....

○ الرئيس و القضاة- ○ البرلمان و القضاة-

○ الرئيس و البرلمان- ○ الحكومة و البرلمان-



٢١ حدد ..

أهم عناصر القوة المورفولوجية للدول؟

٢٢ حدد ..

أهم مجالات دراسة جغرافية الانتعاشات؟

٢٣ أكتب كلمة صواب أو خطأ أمام العبارة التالية : مع ذكر السبب ..

السويد والنرويج والصومال من الدول الشريطية الممتدة من الشرق إلى الغرب،

٢٤ حدد ..

الأثر الناتج عن الاكتفاء الذاتي للقمح على قوة الدولة.

٢٥ ماذا يحدث إذا :

قلت نسبة الشباب في مجتمع ما؟

٢٦ ما العلاقة بين كلا مما يلي :

اتساع السهول و زيادة النشاط التجاري والصناعي.

٢٧ ظلل الدائرة ذات الرمز الدال على الإجابة الصحيحة فيما يلي ..

وجه الشبه بين شمال روسيا وشمال كندا ..

○ قلّت عدد السكان :

○ تركّز السكان.

○ سيطرة الروح الانفصالية.

○ تجانس السكان.

٢٨ أيد صحة أو خطأ العبارة التالية :

الصين دولة كبيرة المساحة لذلك فهي لا تندرج ضمن الدول المركزية.

٢٩ أكمل ما يلي :

بعد الإنتاج ..... من أهم متطلبات الأمن القومي.

٣٠ أكمل ما يلي :

إذا هاجرت إلى روسيا وأردت الاستثمار بها فمن الأنسب الابتعاد عن الجهة ..

٣١ أكتب كلمة صواب أو خطأ أمام العبارة التالية : مع ذكر السبب ..

تلعب اللغة دوراً كبيراً في بناء الدولة وتماسكها وقوتها السياسية.

٣٢ أيد مصداقية العبارة التالية : مع توضيح إجابتك بمثال :

في النظام البرلماني يسيطر البرلمان على مقاليد الأمور بالدولة؟

٣٣ ظلل الدائرة ذات الرمز الدال على الإجابة الصحيحة فيما يلي ..

من عناصر بناء قوة الدولة وقت السلم والحرب ..

○ الاختلاف الإثنوغرافية.

○ البعد الديموغرافي.

○ طبيعة استخدام الأرض :

○ تنوع الموارد الاقتصادية.



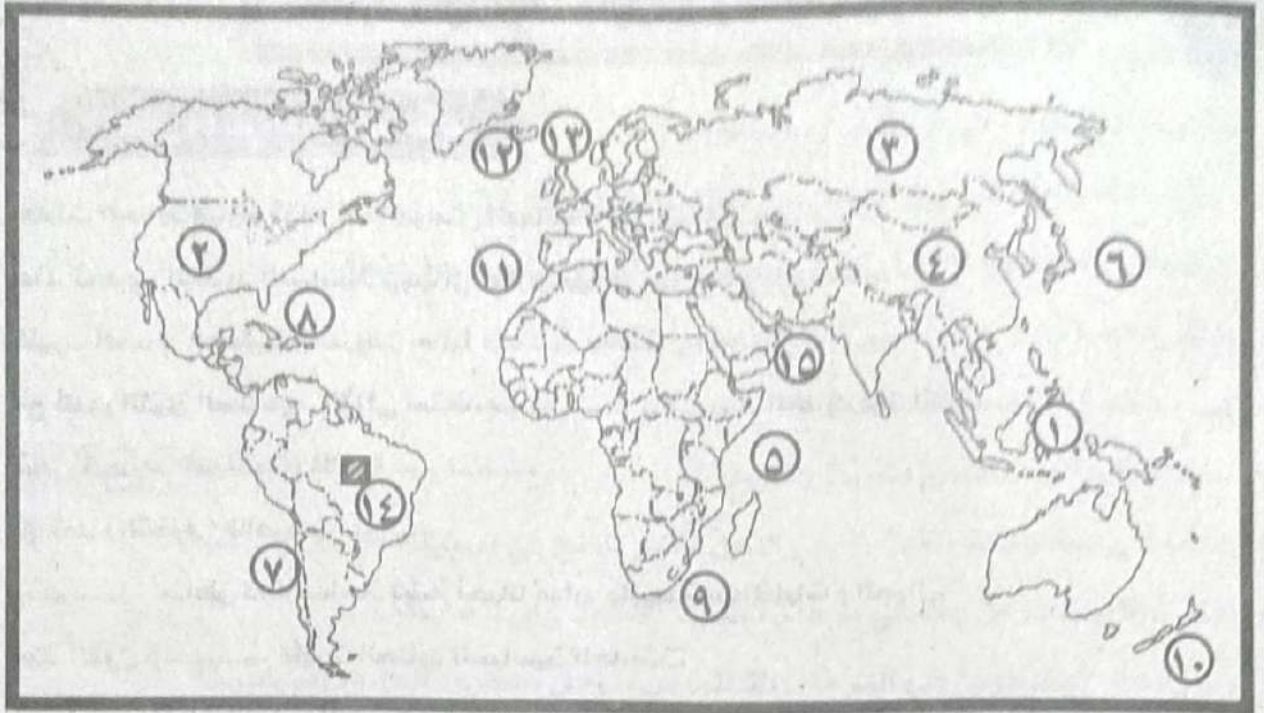
٢٣ اكتب المصطلح الجغرافي الدال على العبارة التالية:

الأساليب و الوسائل المستخدمة في عمليات الإنتاج.

٢٤ ماذا يحدث إذا:

زاد عدد سكان دولة ما مع قلت مواردها الاقتصادية؟

٢٥ وضع مدلول الأرقام على الخريطة:



- |                            |                      |                          |
|----------------------------|----------------------|--------------------------|
| ١- دولة مجزأة بحرياً.      | ٢- دولة فيدرالية.    | ٣- دولة ذات مساحة كبيرة. |
| ٤- دولة وحدوية.            | ٥- ممر استراتيجي.    | ٦- دولة وحدوية مجزأة.    |
| ٧- دولة شريطية.            | ٨- دولة بحرية مجزأة. | ٩- دولة محتواه.          |
| ١٠- دولة هامشية.           | ١١- ممر استراتيجي.   | ١٢- دولة بحرية مجزأة.    |
| ١٣- دولة ذات نظام برلماني. | ١٤- عاصمة مستحدثة.   | ١٥- دولة مجزأة برياً.    |



## المشكلات السياسية

### الفصل الأول الحدود السياسية ( مفهومها وأهميتها ووظائفها ) .

1

كل ما يلي كلمات مناسبة

- ..... كانت الحدود قديماً تقام عند هوامش الممالك على شكل .....
- ..... عند تحديد الحدود السياسية يجب أن تعترف بها ..... و .....
- ..... ظهرت الحدود الخطية المعروفة حالياً منذ .....
- ..... مع ظهور الثورة الصناعية الأولى استخدمت ..... في رسم الحدود بين الدول.
- ..... تُعد ( الحدود السياسية ) ظاهرة .....
- ..... تُعد ( التخوم ) ظاهرة .....
- ..... مناطق ذات مساحة تضم أحياناً موارد طبيعية كالغابات والجيال.
- ..... منذ القرن ..... ظهرت الحدود السياسية الحديثة.
- ..... قابلية للنقل والحركة والتغيير بل والاختفاء في حالات كثيرة ، فهي ظاهرة بشرية.
- ..... أدت العوامل الديموغرافية إلى نشأة الحدود السياسية في قارة .....
- ..... كثير من الحدود السياسية في العالم اليوم جاء تحديدها بناءً على .....
- ..... نشأت الحدود بين كل من كوريا الشمالية وكوريا الجنوبية بسبب .....
- ..... السبب الرئيسي لنشأة الحدود السياسية في آسيا.
- ..... رسمت الحدود السياسية بين البرازيل والأرجنتين بسبب .....
- ..... رسمت الحدود السياسية بين إيطاليا وسويسرا بسبب .....
- ..... الحدود السياسية بين ليبيا ومصر والسودان رسمت نتيجة .....
- ..... لا تلجأ الدول إلى تخطيط الحدود السياسية في أي منطقة إلا في حالة .....
- ..... يُستخدم الاستشعار من بعد في رسم الحدود السياسية في المرحلة .....
- ..... تُعرف المرحلة الأولى من مراحل تخطيط الحدود السياسية بمرحلة .....
- ..... يتم الاستعانة بالخرائط التفصيلية في رسم الحدود السياسية في مرحلة ..... و .....
- ..... يتم الاستعانة ب ..... و ..... في مرحلة تحديد الحدود على الخريطة.
- ..... تستخدم الأسلاك الشائكة والأسوار في مرحلة .....

زهر - دور اول - ٢٠١٧





- ١٢ تُعد ..... الوظيفة الأكثر أهمية للحدود السياسية.
- ١٣ يتم إدارة مناخ العبور في المرحلة .....
- ١٤ من متطلبات مرحلة التعيين على الطبيعة ..... و ..... و .....

2

بم

ش.ع دور ثان ٢٠١٧

ش.ع - دور أول - ٢٠١٧

ش.ع - دور ثان - ٢٠١٧

- ١ أهمية الحدود السياسية؟
- ٢ لا تصلح (التخوم) اليوم كحدود فاصلة؟
- ٣ اختفاء ظاهرة التخوم بين معظم دول العالم حالياً؟
- ٤ لا تفصل الحدود فصلاً تاماً بين شعوب تنتمي لأصول عرقية مختلفة؟
- ٥ الحدود السياسية ظاهرة غير ثابتة عكس التخوم؟
- ٦ ظهور فكرة (الحدود السياسية)؟
- ٧ الحدود السياسية ظاهرة بشرية وقانونية؟
- ٨ كان للمعاهدات المبرمة بين الدول تأثير واضح في ترسيم الحدود السياسية؟
- ٩ أهمية الاستشعار من بعد في مرحلة تحديد الحدود على الخريطة؟
- ١٠ وضوح دور الجغرافيين في المرحلة الثالثة من مراحل تخطيط الحدود السياسية؟
- ١١ تتعدد وظائف الحدود السياسية في العالم؟
- ١٢ تلعب الحدود دوراً رئيسياً في الفصل بين الدول؟
- ١٣ تسعى الدول للمحافظة على شخصيتها السياسية داخل حدودها؟
- ١٤ قيام بعض الدول بتغيير مسار حدودها السياسية؟
- ١٥ تعمل الحدود السياسية على تحقيق الحماية الاقتصادية للدول؟
- ١٦ تراقب الدول السلع والبضائع عبر الحدود السياسية؟
- ١٧ كانت الحماية والأمن الوظيفة الأكثر أهمية للحدود السياسية؟
- ١٨ الحماية والأمن أكثر وظائف الحدود السياسية أهمية؟
- ١٩ تعمل الحدود السياسية على الحماية الاقتصادية للدول؟





3

ملاحظة: اذكر في الجدول التالي

- 1  لماذا ظهرت معظم الحدود السياسية الطبيعية نتيجة إبرام المعاهدات.
- 2  زيادة عدد السكان ليس لها دور في نشأة الحدود السياسية.
- 3  أدت مساهمة التقنيات الحديثة في حماية الحدود السياسية.
- 4  أدت الحدود السياسية مناطق جغرافية لها مساحة ذات بعدى طول و عرض.
- 5  أدت مكائن الجبال والغابات بمثابة حواجز فاصلة بين الدول الأوربية.
- 6  أدت قنصل الحدود الهندسية في مناطق مبهمة السكان أو خالية من الموارد الطبيعية.
- 7  لم تؤثر الحروب على نشأة الحدود السياسية.
- 8  تعبر الحدود السياسية دوراً رئيسياً في الفصل بين الدول.
- 9  لم تؤثر زيادة عدد السكان على نشأة الحدود السياسية.
- 10  قد تنشأ الحدود السياسية نتيجة عدم رضا الدول عن المناطق الهامشية.
- 11  أدت أدت تطورات الأسلحة إلى إسقاط نظرية الحد الأمن.
- 12  تؤثر الحدود السياسية الحماية الاقتصادية للدول.

4

اختر الإجابة الصحيحة مما يلي

- 1  تقلصت مناطق التخوم الأوربية منذ بداية العصر الحديث وساعد على ذلك .....
  - توافر بعض عناصر البنية الأساسية.
  - الحروب العالمية.
  - استخدام التقنيات الحديثة.
  - حدوث تغيرات مناخية.
- 2  كانت التخوم هي قارة أوروبا قديماً مناطق .....
  - مأهولة بالسكان.
  - لها إطار قانوني.
  - خالية من الموارد.
  - غنية بالنبات الطبيعي.

3  يعتقد بعض الباحثين أن الأمة نشأت أولاً ، ثم تطورت لتصبح دولة وساعد على هذا التطور ظهور .....

- التخوم.  الحدود الخطية.  الحدود الطبيعية.  حدود الهدنة.

- 4  أصبح الحد السياسي يعتمد على دراسة أرض الواقع من أجل الإلمام بكل التفاصيل منذ .....
  - الثورة الصناعية الأولى.
  - ظهور العولمة.
  - مرحلة تعيين الحد السياسي.
  - مرحلة إدارة الحد السياسي.



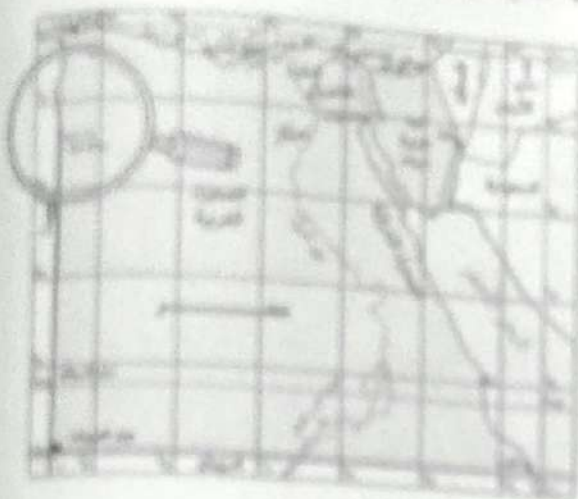


- ٦ أدت رغبة الدول في استغلال أراضيها لاختفاء .....
- الحدود الطبيعية.
- الحدود السياسية.
- التخوم.
- الحدود الخطية.
- ٧ في مرحلة إدارة الحد السياسي .....
- يمكن تعديل ما تم الاتفاق عليه.
- يتم ممارسة وظائف الحد السياسي.
- تظهر بعض المشكلات في رسم الحدود.
- تختفي كل المشكلات بين الدول المتجاورة
- ٨ توضح الصورة المقابلة أحد مراحل تخطيط الحد السياسي وهي .....
- التعريف والتخطيط.
- التحديد.
- إدارة الحد.
- التحيين.
- ٩ أثر محتوى الصورة المقابلة السلب على إحدى وظائف الحد السياسي وهي .....
- الفصل بين الدول.
- الحماية والأمن.
- الحماية الاقتصادية.
- الوظيفة السياسية والقانونية.
- ١٠ تعد محاولة منع هروب المجرمين خارج حدود الدولة من وظائف الحد السياسي وهي .....
- الفصل بين الدول.
- الحماية والأمن.
- الوظيفة السياسية والقانونية.
- الحماية الاقتصادية.
- ١١ يعد الحفاظ على صحة مواطني الدولة يدخل ضمن وظائف الحد السياسي وهي .....
- الحماية الاقتصادية.
- الفصل بين الدول.
- الحماية والأمن.
- الوظيفة السياسية والقانونية.
- ١٢ عندما ظهرت الحدود السياسية بشكل واضح في القرن الـ ١٩م كان الغرض الأساسي منها هو .
- الفصل بين الدول.
- الحماية والأمن.
- الحماية الاقتصادية.
- الوظيفة السياسية والقانونية.
- ١٣ يقوم بتحديد العقوبة على شخص أجنبي داخل دولة ما قام بارتكاب مخالفة ما .....
- القانون الدولي.
- الدولة القادر منها الشخص.
- الدولة التي حدثت بها المخالفة.
- منظمات المجتمع المدني.
- ١٤ يمكن اعتبار سور الصين العظيم أحد مراحل ترسيم الحدود السياسية وهي .....
- التحيين.
- التخطيط.
- التعريف.
- التحديد.
- ١٥ كانت التخوم قديماً بالنسبة للدول منطقة ..
- قابلة للاختفاء.
- درع واقى.
- طبيعية شرعية.
- لها إطار قانون.



## المؤشدين في المراجعة النهائية

- ١١ يدل استلزام المصريين القدماء بتحديد الواجهات الجنوبية لمصر والتي مكثت لمثل ...
- منطقتا نخوم. ○ منطقتا قلب القناري. ○ حدود سياسية. ○ منطقتا قلب ثقافي.
- ١٢ عندما تقر دولتا ما منع عرض أحد الأقاليم داخل أراضيها فإن ذلك يعبر عن إحدى وظائف الحد السياسي وهي ...
- الحماية والأمن. ○ الفصل بين الدول. ○ الحماية الاقتصادية. ○ الوظيفة السياسية والقانونية.
- ١٣ عندما تقر دولتا ما منع عرض أحد الأقاليم داخل أراضيها فإن ذلك يعبر عن إحدى وظائف الحد السياسي وهي ...
- الحماية والأمن. ○ الفصل بين الدول. ○ الحماية الاقتصادية. ○ الوظيفة السياسية والقانونية.



١٤ الجزء الموضح بالعدسة بالخرائط المقابلة يدل على أهمية ...

- استخدام المسح الميداني. ○ وجود منافذ للعبور. ○ اعتراف المجتمع الدولي. ○ دور المساحة في رسم الحدود.

١٥ لتتحقق لموس المعاهدات الخاصة بالحدود بشكل فعلي في مرحلتها ...

- التحديد. ○ التعيين. ○ التعريف. ○ التخطيط.

١٦ يصبح الحد السياسي نهائياً بين الدول بعد ...

- تحديد الموارد الأرضية. ○ اعتراف المجتمع الدولي. ○ استخدام المسح الميداني. ○ وضع معاهدة الحد.



5

نقل حدود من دولة إلى أخرى

- 1 تطور أشكال الحدود السياسية عبر العصور.
- 2 تختلف الحدود السياسية عن التطور.
- 3 [ ] مكان للمعاهدات الغير مبرمة بين الدول تأثير واضح في ترسيم الحدود السياسية.
- 4 [ ] تعدد وظائف الحدود السياسية في العالم.
- 5 [ ] لعب الحدود السياسية دوراً رئيسياً في الفصل بين الدول.
- 6 للحدود السياسية وظيفة قانونية وسياسية.
- 7 قد تنشأ الحدود السياسية نتيجة عدم رضا الدول عن المناطق الهامشية بها.
- 8 في مرحلة التعيين على الطبيعة يتم الاتفاق على نقاط التفتيش والجمارك.
- 9 [ ] تعمل الحدود السياسية على الحماية الاقتصادية للدول.
- 10 تتنوع الحدود السياسية وفقاً لعدة معايير.

6

ما مفهوم الحدود السياسية

- 1 [ ] الحدود السياسية.
- 2 [ ] التطور.

7

→

- 1 العوامل المؤثرة على نشأة الحدود السياسية.
- 2 احد ما يتأثر عليه في مرحلة إدارة الحد.
- 3 أشكال الحدود السياسية التي تتبع البحيرات.
- 4 الإجراءات التي تتخذها الدول لكي لا تتطابق مصالحها الاقتصادية.

8

قارن بين شكلاً مما يلي

- 1 [ ] الحدود السياسية ، التطور.
- 2 [ ] مرحلة التحديد ، مرحلة التعيين.



9

اكتب مدلول الأرقام التالية على الخريطة القادمة



- 1 نهر روجراند.
- 2 جزيرة جرينلاندا.
- 3 المحيط القطبي الشمالي.
- 4 منطقتان قلب اقتصادي.
- 5 خليج المكسيك.
- 6 كندا.
- 7 الأستقلا.
- 8 المحيط الهادي.
- 9 المحيط القطبي الشمالي.

10

ما النتائج المترتبة على

- 1 التوسع في مناطق النظم المجرية
- 2 لنا زيادة عدد سكان الدول، وازدهار على حدود الدول
- 3 لنا تضيق الاستعمار لمستعمراته في أفريقيا
- 4 لنا تقدم وسائل النقل بالنسبة للحدود السياسية
- 5 لنا تقسيم الاستعمار لمستعمراته بالنسبة للحدود السياسية
- 6 استخدام التكتيات الحديثة بالنسبة للحدود السياسية
- 7 لنا التطورات الحديثة على وسائل الحرب بالنسبة لتوظيف الحد الأمن
- 8 تطور وسائل الحرب في مداها وسرعتها وقابليتها التدمير
- 9 اختراع الطائرات والسوابح على وتوظيف الحد الأمن





ماذا يحدث إذا

تراجع وقررت إلغاء

- 1  لم تظهر الحدود السياسية؟
- 2  استمرت مناطق التطور كحدود تفصل بين الدول؟
- 3  لم يتم ترسيم الحدود بين الدول وخطوطها؟

# كتب المُرشد تضمن لك التفوق





## الفصل الثاني أنواع الحدود السياسية.

1

### كل ما يلي حدود طبيعية

- 1 مكافئت ..... و ..... بمكافئت التطور العاصمت بين دول قارة أوروبا.
- 2 معظم الحدود السياسية الحالية نشأت نتيجة .....
- 3 يمكن تصنيف الحدود السياسية بين الحكومات على أنها حدود .....
- 4 من متعلقات مرحلة التحيز على الطبيعة ..... و ..... و .....
- 5 الحدود الطبيعية يتم رسمها على أساس .....
- 6 [نأ] من الحدود الجبلية جبال ..... بين شيلي والأرجنتين وجبال البرانس بين ..... و .....
- 7 يشمل نهر ..... بين الولايات المتحدة الأمريكية والمكسيك.
- 8 نهر (ريوجراندا) من أمثلة الأنهار الحدودية التي تسير مع .....
- 9 نهر ..... من أمثلة الحدود النهرية التي تسير مع إحدى ضفتي النهر.
- 10 تعد الحدود ..... من أفضل أنواع الحدود السياسية.
- 11 [نأ] تتماشى الحدود بين (فرنسا وألمانيا) عبر امتداد نهر .....
- 12 يفصل نهر ..... بين (بولندا) و (كل من بيلاروسيا وأوكرانيا).
- 13 تتطابق الحدود البحرية مع ..... في البحيرات العظمى.
- 14 يشترك في بحيرة فيكتوريا حدود ..... دول.
- 15 تتماشى الحدود البحرية في بحيرة فيكتوريا بناء على .....
- 16 الحدود السياسية بين مصر و ..... تسير مع دائرة عرضي ..... شمالاً.
- 17 الحد السياسي بين (مصر والسودان) حد ..... في معظمه.
- 18 رسمت الحدود بين الهند وباكستان على أساس .....
- 19 تعد المياه ..... جزءاً من أرض الدول.
- 20 [نأ] الحد السياسي بين (مصر و ليبيا) حد ..... في معظمه.
- 21 الحدود الحثارية تتم وقتاً ل ..... و .....
- 22 من أشهر الحدود التي جرى ترسيمها على أساس التفات بعد الحرب العالمية الأولى منطقتان .....





بالتفصيل

- 1. [X] الحدود السياسية الجبلية تعتبر من أفضل الحدود السياسية
- 2. (الحدود الطبيعية) أفضل أنواع الحدود؟
- 3. تعد (الحدود السياسية) ظاهرة بشرية
- 4. ظهور الحدود الخطية في أوروبا؟
- 5. ظهور الحدود الخطية في قارة أمريكا الجنوبية؟
- 6. انتشار ظاهرة الحدود الهندسية في قارة أفريقيا؟
- 7. رسم الحدود السياسية في أوروبا بديلاً عن (التطور) في العصر الحديث؟
- 8. في مرحلة التعريف بالحدود يجب أن يكون الوسط دقيقاً وتفصيلياً؟
- 9. قيام بعض الدول بتغيير مسار حدودها السياسية؟
- 10. نشأة الخطير من الحدود الخطية في دول قارتي أفريقيا وآسيا؟
- 11. يمر لخطوط الحدود السياسية بعدة مراحل؟
- 12. تراقب الدول المصاع والبطائح عبر الحدود السياسية؟
- 13. لعب الحدود السياسية وظيفتين سياسيتين وقانونيتين؟
- 14. [X] تعتبر الجبال بمثابة خطوط دفاعية
- 15. [X] قيام بعض الدول القوية بتحديد مناطق لها وسط المحيط
- 16. أهمية المياه الإقليمية؟
- 17. يتفاوت المصاع المياه الإقليمية من دولة لأخرى؟
- 18. تباين أنواع المياه الداخلية داخل الدولة الواحدة؟
- 19. تعتبر المياه العذبة جزءاً من المياه الإقليمية؟
- 20. الملاح في المياه الملاصقة مشروطة؟
- 21. [X] أهمية المياه المعالجة و الأصبغة القارية لبعض الدول؟
- 22. [X] أهمية الحدود السياسية البحرية و المياه الإقليمية؟
- 23. لا يحق لأي دولة أن تتدخل في حرية الملاحة في المياه الإقليمية؟
- 24. [X] قيام بعض الدول القوية بتحديد مناطق لها وسط المحيط؟
- 25. [X] الحدود السياسية الجبلية تعتبر من أفضل الحدود السياسية؟

بالتفصيل  
بالتفصيل



- ١ تحول منطقة (بانكو) بعد عام ١٨٩٨ من تبعية (الولايات المتحدة الأمريكية) لتبعية (المكسيك)؟
- ٢ عدم صلاحية الأنهار كحدود سياسية؟
- ٣ يتمثل النزاع الدائر على الأنهار الدولية بين الدول في عدة حقوق؟
- ٤ ساهمت التقنيات الحديثة بدور كبير في حماية الحدود السياسية؟
- ٥ سقوط نظرية (الحد الأمن)؟
- ٦ تراقب الدول تدفق السلع والبضائع عبر حدودها السياسية؟
- ٧ في الماضي كانت الحماية والأمن الوظيفية الأكثر أهمية للحدود السياسية؟
- ٨ تظهر الحدود الهندسية بين الدول في أشكال مختلفة؟
- ٩ زادت أهمية المياه المحايدة والأرصفت القارية في الفترة الأخيرة؟
- ١٠ حدود مصر حدود فلكية؟
- ١١ يمكن اعتبار الحدود السياسية لفرنسا حدوداً مثالية؟
- ١٢ تظهر الحدود الهندسية في أشكال مختلفة؟
- ١٣ وجود كثير من المشكلات التي ترتبت على اتخاذ الأنهار كحدود سياسية دولية؟
- ١٤ للأنهار العديد من المزايا عند استخدامها كحدود سياسية؟

3

ضع علامة (✓) أو (x) فيما يلي مع ذكر السبب في العالين

- ١ تعتبر الجبال بمثابة خطوط دفاعية تستغلها الدول في التحصينات. ( )
- ٢ الحدود الجبلية لها أشكال مختلفة. ( )
- ٣ الحدود بين (بولندا) و(كلمن) (أوكرانيا وبيلاروسيا) تسير على طول نهر (بوج) مع منتصف المجرى الملاحى. ( )
- ٤ الحدود السياسية للجبال تأخذ شكلاً واحداً. ( )
- ٥ الحدود بين (شيلي و الأرجنتين) حدود طبيعية. ( )
- ٦ تفصل جبال (البرانس) بين أسبانيا و البرتغال. ( )
- ٧ تسعى الدول للمحافظة على شخصيتها السياسية داخل حدودها. ( )
- ٨ لا يمكن استخدام الأنهار كحدود سياسية بسبب عيوبها. ( )
- ٩ تأثير الأنهار الدولية المشاكل السياسية بين الدول. ( )







- ١٤١ هناك عوامل سياسية تحدت من مساهمة الرعاة منها .....
- التغييرات المناخية. ○ زيادة عدد السكان.
- ترسيم الحدود. ○ فرض الرسوم والضرائب.
- ١٤٢ ينتج عن حركة الرعاة نزاعات سياسية بعضها يرجع إلى أسباب اجتماعية واقتصادية  
كما مثل .....
- تحويل بعض الأراضي الرعوية إلى زراعية. ○ وضع الحدود السياسية في إقليم السافانا.
- تخصيص الضرائب والرسوم من الرعاة. ○ التغييرات المناخية في غرب أفريقيا.
- ١٤٣ تهمز الاتفاقيات الخاصة بحركة الرعاة بـ .....
- تقسيم الأراضي الزراعية. ○ تحويل الأراضي الزراعية لمراعي.
- زيادة المراعي الاصطناعية. ○ مراعاة تحديد الحمولة الرعوية.
- ١٤٤ تتركز معظم الاتفاقيات الخاصة بانتقال حركة الرعاة في قارة أفريقيا في الأجزاء .....
- الغربية. ○ الشمالية. ○ الشرقية. ○ الجنوبية.
- ١٤٥ تعرض غرب أفريقيا لتغيرات مناخية أدت إلى .....
- زيادة المراعي الطبيعية. ○ تناقص الإنتاج الحيواني.
- زيادة الموارد الاقتصادية. ○ تحويل المراعي لمناطق زراعية.
- ١٤٦ بملاحظة خريطة العالم السياسية نجد أن أكثر القارات تعرضا للنزاعات السياسية أفريقيا و  
آسيا .....
- أفريقيا وآسيا. ○ أفريقيا وأستراليا.
- آسيا وأمريكا الشمالية. ○ أوروبا وأمريكا الجنوبية.
- ١٤٧ أحداث التي شهدتها خريطة العالم في النصف الأول من القرن العشرين .....
- ظهور التكتلات الاقتصادية. ○ الاستقطاب العالمي.
- اتساع الرقعة الأرضية للنزاعات الدولية. ○ تزعم الولايات المتحدة الأمريكية للكتلة الغربية.
- ١٤٨ أي مما يلي يؤثر على حرية اتخاذ القرار في العديد من الدول .....
- العولمة وسندوق النقد الدولي. ○ ثورة الاتصالات الحديثة.
- الهجرة غير الشرعية. ○ الشركات متعددة الجنسيات.
- ١٤٩ من العوامل الجغرافية المؤثرة على مستقبل خريطة العالم السياسية .....
- الصراع الأيديولوجي. ○ الأنهار المحلية.
- الأنهار الدولية. ○ الهجرة الشرعية.



- ١٤ ظهور دولة ألمانيا الموحدة على خريطة العالم السياسية يعني .....  
 رسم الخريطة عقب الحرب العالمية الثانية.  
 وجود صراع أيديولوجي بين معسكر الشيوعية و الرأسمالية.  
 انتصار الشيوعية و انتهاء الرأسمالية.  
 رسم الخريطة في العقد الأخير من القرن العشرين.
- ١٥ ظهر النزاع بين ليبيا و تونس بسبب .....  
 الموارد الطبيعية.  
 التطور التكنولوجي.  
 سباق التسلح.  
 الملاحة الدولية.
- ١٦ ترتب على وجود جزر تابعة لتونس في صراعاها الاقتصادي مع ليبيا إلى .....  
 تعرج الحد البحري.  
 انحراف الحد البحري جهة الغرب.  
 انحراف الحد البحري جهة الشرق.  
 ضعف موقف تونس.
- ١٧ من المحتمل حدوث بعض المشكلات السياسية الملاحية في نهر.....  
 الراين.  
 بوج.  
 الميسيسيبي.  
 السين.
- ١٨ (( رغم أنه نهر دولي و لكنه أقرب إلى النهر المحلي )) . تتفق العبارة السابقة مع نهر .....  
 الراين.  
 النيل.  
 بوج.  
 الريبوجراند.
- ١٩ أي من الأنهار الآتية تفصل بين الدول و تجري عبر الحدود السياسية ؟  
 الراين.  
 الريبوجراند.  
 الميسيسيبي.  
 السين.
- ٢٠ تظهر مشكلات تقسيم المياه بنوعها في دولة .....  
 اليمن.  
 مصر.  
 إيطاليا.  
 تونس.
- ٢١ تتشابه مشكلات تقسيم المياه في دولتي .....  
 إيطاليا و جيبوتي.  
 ليبيا و جيبوتي.  
 إيطاليا و ليبيا.  
 اليمن و إثيوبيا.
- ٢٢ ممر مائي تتقاسمه دول الجناح العربي الأفريقي و الآسيوي .....  
 قناة السويس.  
 مضيق هرمز.  
 مضيق باب المندب.  
 مضيق صقلية.
- ٢٣ قد تظهر بعض المشكلات السياسية الناتجة عن ممارسة حرفة الصيد في بعض الأنهار مثل .....  
 الريبوجراند.  
 بوج.  
 اللوار.  
 السين.



5

دليل جغرافيا على صحة أو خطأ العبارات التالية

- 1  توجد الكثير من المشكلات التي ترتبت على اتخاذ الأنهار كحدود سياسية؟
- 2  وظيفة الحد البحري لا تقل أهمية وخطورة عن الحد البري؟
- 3  يترتب على اتخاذ الأنهار كحدود سياسية دولية كثير من المشكلات؟
- 4  زادت أهمية المياه المحايدة و الأرصفت القارية في الفترة الأخيرة؟
- 5  تمارس الدول في المياه الإقليمية سلطات جمركية و الرقابة و الإشراف؟
- 6  تظهر الحدود الهندسية بين الدول في أشكال مختلفة؟
- 7  اللغة و الدين أهم المظاهر الحضارية المستخدمة في رسم الحدود السياسية؟
- 8  هناك اختلاف كبير بين الأنهار الدولية و الأنهار المحلية.

6

ما النتائج المترتبة على

ش.ع - دوراويل ٢٠١٧

- 1  استخدام الجبال كحدود سياسية بين دولتين.
- 2  تغيير نهر (ريوجراندا) لمجرأه بين الولايات المتحدة و المكسيك.

7

ماذا يحدث إذا

ش.ع دوراويل ٢٠١٧

- 1  اتفقت حدود الدولة مع ظاهرة طبيعية؟
- 2  اتفق الحد السياسي بين دولتين مع إحدى ضفتي النهر؟
- 3  قام النهر بتغيير مجراه؟
- 4  لم يتم عقد اتفاقية خاصة بنصيب كل دولة من الثروات؟
- 5  لم تكن هناك نقاط تفتيش و جمارك و حراسة على الحدود؟
- 6  ظهرت بعض المسائل الصغيرة - كمزرعة مثلاً - أثناء ترسيم الحدود السياسية؟
- 7  لم تحكم حدود الدول بمعاهدات و اتفاقيات؟
- 8  لم تستطع الدولة السيطرة على حدودها السياسية؟





8

قارن بين كلا مما يلي

- ١ الحدود الجبلية ، و الحدود البحيرية.
- ٢ مزايا الحدود الجبلية ، و مزايا الحدود النهرية.
- ٣ الحدود الاثنوغرافية ، و الهندسية.
- ٤ الحدود في قارة افريقيا ، و هي قارة اوربا.
- ٥ جبال الانديز ، و جبال البرانس كحدود سياسية.
- ٦ المياه الداخلية ، و المياه الإقليمية.
- ٧ الأنهار المحلية ، و الأنهار الدولية .. من حيث المفهوم ، الأمثلة.

9

عرف المفاهيم التالية

- ١ المياه الإقليمية.
- ٢ المياه المحايدة.
- ٣ أعالي البحار.
- ٤ الرصيف القاري.
- ٥ الحدود الهندسية.
- ٦ المياه التكميلية أو الملاصقة.
- ٧ الحدود الحضارية (الاثنوغرافية).

10

حدد نوع الحدود السياسية التالية

١. كندا ، و الولايات المتحدة الأمريكية.
٢. فرنسا ، و أسبانيا.
٣. المكسيك ، و الولايات المتحدة الأمريكية.
٤. بولندا ، و كلا من أوكرانيا و بيلاروسيا.
٥. الهند ، و الصين.
٦. أوغندا ، و تنزانيا.
٧. السويد ، و النرويج.
٨. سوريا ، و تركيا.
٩. شيلي ، و الأرجنتين.
١٠. فرنسا ، و ألمانيا.
١١. مصر ، و السودان.
١٢. مصر ، و ليبيا.
١٣. الهند ، و باكستان.
١٤. موريتانيا ، و السنغال.
١٥. فلسطين ، و الأردن.
١٦. العراق ، و إيران .





## الفصل الثالث تطور الخريطة السياسية والمشكلات المرتبطة بها

1

### أكمل ما يلي بكلمات مناسبة

- ١ تضم خريطة العالم السياسية نحو ..... دولته.
- ٢ من أهم المتغيرات في أواخر القرن العشرين ..... و.....
- ٣ من أمثلة الدول غير كاملة العضوية بالأمم المتحدة .....
- ٤ ظهر الاستقطاب العالمي بين قوتين عظيمتين في بداية الخمسينات هما ..... و.....
- ٥ تبنت منظمة ..... سياسة الحياد بين الكتلة الشيوعية والرأسمالية.
- ٦ انقسمت (ألمانيا) بعد الحرب العالمية الثانية إلى ..... و.....
- ٧ من أنواع المشكلات التي تهدد أمن الأوطان ..... و.....
- ٨ تقع مدينة ..... في مواجهة (مضيق جبل طارق) مباشرة.
- ٩ تنازعت دولتا ..... و ..... على مدينتي (سبتة و مليلية).
- ١٠ تقع (كشمير) في ..... الهند.
- ١١ تنازعت دولتا ..... و ..... على (كشمير).
- ١٢ اشتهرت (كشمير) في فترة الاستعمار بأنها كانت مكاناً مناسباً ل.....
- ١٣ بدأت الثورة في (كشمير) ضد .....
- ١٤ من نماذج الاتفاقيات الخاصة بتنظيم حركة الرعاة : معاهدة ترسيم الحدود السياسية بين  
السعودية و .....
- ١٥ يفصل مضيق ..... بين اليمن و جيبوتي.
- ١٦ تتحكم (إيران وسلطنة عمان) في مضيق .....
- ١٧ تشرف ..... و ..... على (مضيق جبل طارق).
- ١٨ تقسم (كشمير) على أساس خط ..... إلى قسمين.
- ١٩ من الأنهار الدولية نهر .....
- ٢٠ حدث نزاع بين ليبيا و ..... عند تحديد الحدود البحرية.
- ٢١ يعد نهر ..... في (فرنسا) من أمثلة الأنهار المحلية.
- ٢٢ يتحكم في مضيق ملقا كل من ..... و ..... و .....





2

بم تفسر

- ١ انتصار الرأسمالية بزعامة الولايات المتحدة؟
- ٢  توجد عدة متغيرات تؤثر على مستقبل خريطة العالم السياسية؟
- ٣ حدوث متغيرات اجتماعية وعسكرية أثرت على مستقبل الخريطة السياسية للعالم؟
- ٤ انتهاء الصراع الأيدلوجي بين الكتلة الشيوعية والكتلة الرأسمالية؟
- ٥ شهدت خريطة العالم السياسية تغيرات سريعة في أواخر القرن العشرين؟
- ٦ أهمية الموقع الاستراتيجي لمدينة (سبتة)؟
- ٧ ظهور مشكلة (سبتة و مليلة)؟
- ٨ تمسك (إسبانيا) بالسيطرة على مدينتي (سبتة و مليلة)؟
- ٩  تزايد مشكلة (سبتة و مليلة) عام ١٩٨٥م؟
- ١٠ رفض (إسبانيا) مطالب (المغرب) بشأن سبتة و مليلة؟
- ١١ ظهور مشكلة (كشمير)؟
- ١٢ حدوث صراع مسلح بين الهند وباكستان على (كشمير) عام ١٩٤٧؟
- ١٣  حدوث النزاعات السياسية المترتبة على حركة الرعاة؟
- ١٤ ظهور المشكلات الحدودية بين شمال و جنوب السودان؟
- ١٥  توجد العديد من نماذج اتفاقيات خاصة بتنظيم حركة الرعاة؟

ش.ع - دور أول ٢٠١٧ / ٢٠١٩

ش.ع - دور أول ٢٠١٨

أزهر - دور أول ٢٠١٨

3

ضع علامة (✓) أو (x) فيما يلي مع ذكر السبب في الحالتين

- ١ تأثرت الخريطة السياسية العالمية بالحربين العالميتين. ( )
- ٢  ظهر الاستقطاب العالمي على أشده في بداية التسعينات بين كتلتين تنازعتا السيادة على خريطة العالم. ( )
- ٣  لثورة الاتصالات الحديثة أثر على مستقبل الخريطة السياسية. ( )
- ٤ شهدت الخريطة السياسية العالمية تغيرات سريعة في أواخر القرن العشرين. ( )
- ٥ ترك الاستعمار الكثير من المشكلات المزمنة التي تهدد أمن الدول. ( )
- ٦ للاستعمار علاقة قوية بمشكلة (سبتة و مليلة). ( )





## المرشد في المراجعة النهائية

٧. لم تتدخل الأمم المتحدة لحل مشكلة (كشمير). ( )
٨. أثار رسم الحدود السياسية في منطقة السافانا العديد من المشكلات السياسية. ( )
٩. التغيرات المناخية أحد أسباب النزاعات السياسية المرتبطة بحركة الرعاة. ( )

4

### دلل جغرافياً على صحة أو خطأ العبارات التالية

١. هناك تباين في المشكلات الحدودية على خريطة العالم السياسية.
٢. كان هناك تباين في النزاع على خريطة العلم السياسية في نهاية ثمانينات القرن العشرين.
٣. تفاقم مشكلة سبتة ومليلة في نهاية القرن العشرين.
٤. هناك خطأ وقع فيه حكام المغرب بشأن سبتة ومليلة.
٥. شهدت الخريطة السياسية العالمية تغيرات سريعة في أواخر القرن العشرين.
٦. توجد عدة متغيرات تؤثر على مستقبل الخريطة السياسية العالمية.
٧. ما زالت (أسبانيا) متمسكة بمدينةتي (سبتة ومليلة).
٨. رسمت الحدود السياسية بين (الهند وباكستان) على أساس ديني.
٩. كان الاستعمار البريطاني سبباً في حدوث مشكلة (كشمير).
١٠. لعبت الأمم المتحدة دوراً بارزاً في مشكلة (كشمير).
١١. هناك تباين واضح في دور الأمم المتحدة في حل مشكلة سبتة ومليلة ومشكلة كشمير.
١٢. حدوث النزاعات السياسية المترتبة على حركة القبائل الرعوية بين الوحدات السياسية.
١٣. توجد العديد من الاتفاقيات الخاصة بتنظيم حركة الرعاة.

5

### ما النتائج المترتبة على

١. التغيرات السريعة التي شهدها العالم أوائل القرن العشرين؟
٢. الحرب العالمية الأولى والثانية على الخريطة السياسية العالمية؟
٣. ظهور العولمة والشركات متعددة الجنسيات؟
٤. تأسيس البنك الدولي وصندوق النقد الدولي على سياسات الدول؟
٥. عرض مشكلة (سبتة ومليلة) على الأمم المتحدة عام ١٩٧٥م؟
٦. رسم الحدود السياسية في منطقة السافانا؟
٧. التغيرات المناخية التي شهدتها دول غرب أفريقيا في سبعينات وثمانينات القرن العشرين؟

ث.ع - دور أول ٢٠١٨

أ.زهر - دور أول ٢٠١٦





6

ماذا يحدث اذا

- ١ لم تتأثر خريطة العالم السياسية في أواخر القرن العشرين بالتغيرات السياسية. ش.ع دور اول ٢٠١٩
- ٢ لم تظهر فكرة الاستقطاب العالمي في منتصف القرن العشرين.
- ٣ لم يحدث انهيار الاتحاد السوفيتي السابق.
- ٤ لم تتدخل الأمم المتحدة لحل مشكلة (كشمير).
- ٥ لم يتم ترسيم الحدود السياسية في إقليم ساهاانا.
- ٦ لم تشهد دول غرب أفريقيا تغيرات مناخية.

زهر - دور ثان ٢٠١٨

7

قارن بين كلا مما يلي

- ١ الكتلة الشرقية ، و الغربية.
- ٢ العالم قبل ، و بعد الحرب العالمية الثانية.
- ٣ ( سبتة و مليلة ) من حيث الموقع و الأهمية.
- ٤ موقف ( الهند و باكستان ) من إقليم (كشمير).

8

عرف المصطلح التالي

- ١ المشكلات السياسية.
- ٢ الإكواس.

9

سئلة متنوعة

ش.ع دور اول و ثان ٢٠١٦

١ ما العلاقة بين النمو السكاني و حرفة الرعي؟

٢ (( مشكلة "كشمير" من أهم المشكلات الحدودية على مستوى العالم ))

في ضوء ما سبق ... أجب عما يأتي ..

(أ) حدّد أطراف المشكلة . (ب) اذكر جهود الأمم المتحدة في حل هذه المشكلة.

(ج) وضّح أوجه الشبه والاختلاف بين : مشكلة سبتة و مليلة ، و كشمير.





## (( عانت المملكة المغربية كغيرها من

### دول العالم الثالث من مخنة الاستعمار ))

في ضوء العبارة السابقة .. اوضح

١. الحجج الواهية التي ادعتها (اسبانيا) لرفض استقلال (سبتة ومليلية).

٢. المشكلات التي تركها الاستعمار لتهدد أمن الأوطان.

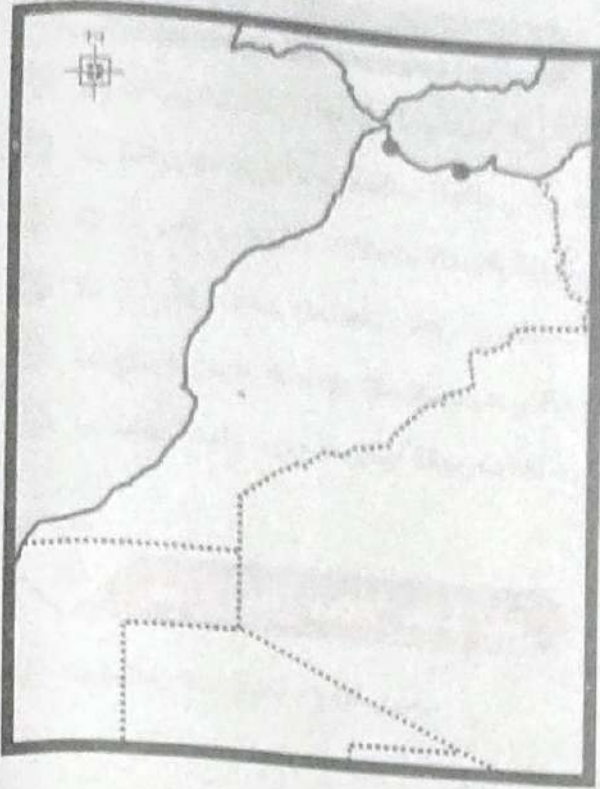
٣. استخراج من الخريطة الموضحة ..

أ. دولة كبيرة المساحة.

ب. دولة مستطيلة طولياً.

ج. دولة لم تطبق المعايير الصحيحة في اختيار العاصمة.

د. دولة يسعى إقليم بها للانفصال لموقعه.







## مشكلات اقتصادية ذات بعد سياسي

### الفصل الرابع

1

أكمل العبارات التالية بكلمات مناسبة

- ١ ساعدت الجزائر التونسية ..... و ..... على تغيير قرار محكمة العدل في النزاع مع ليبيا.
- ٢ اعتمدت محكمة العدل الدولية في حكمها في الصراع بين ليبيا وتونس على ..... و .....
- ٣ يعد مضيق ..... مضيقاً عربياً خالصاً.
- ٤ يتحكم في مضيق صقلية دولتي تونس و .....
- ٥ يعد مضيق ..... مضيقاً فاصلاً بين العالم القديم النامي والقديم المتقدم.
- ٦ يعد ..... من الأنهار المحلية في الولايات المتحدة.
- ٧ يعد نهر ..... في فرنسا من أهم الأنهار المحلية.
- ٨ يعد نهر ..... من أهم الأنهار المحلية في البرازيل.
- ٩ يساهم ..... بـ ١٠% من التجارة الدولية.
- ١٠ تعد ..... هي العمود الفقري للقوى المحركة في العالم.
- ١١ يساهم ..... بنحو ٤٧% من التجارة الدولية للطاقة.
- ١٢ تعد أزمة الطاقة في المقام الأول هي أزمة .....
- ١٣ لعب ..... دوراً في مسار الحرب العالمية الثانية.
- ١٤ اندفعت الجيوش الألمانية أثناء الحرب العالمية الثانية نحو ..... أملاً في الحصول على البترول.
- ١٥ تعتبر ..... مؤسسة نقدية دولية تأسست عام ١٩٤٤م لتنظيم القضايا النقدية العالمية.
- ١٦ تهدف منظمة ..... إلى تحسين كفاءة الإنتاج و العناية بالريف.
- ١٧ ..... جهاز تابع للأمم المتحدة يهدف إلى تطوير التعاون الدولي.

2

بم تفسر

- ١ النزاع بين ليبيا وتونس عند تحديد الحدود السياسية؟
- ٢ حدوث مشكلات المياه بين بعض الدول؟
- ٣ تعد الموارد الطبيعية مجالاً للصراع بين الدول؟

ش.ع دور أول ٢٠١٧



## المُرشد في المراجعة النهائية



ش.ع دور اول ٢٠١٦

ش.ع دور اول ٢٠١٧

زهر دور اول ٢٠١٨

- ١ [ ] النزاع على الأنهار الدولية؟
- ٢ [ ] حدوث مشكلات المياه بين بعض الدول؟
- ٣ [ ] أهمية مصادر الطاقة؟
- ٤ [ ] مصادر الطاقة لها دور بارز في الصراعات الدولية خاصة منذ الحرب العالمية الثانية؟
- ٥ [ ] أهمية البترول و الغاز الطبيعي في التجارة الدولية؟
- ٦ [ ] الضخم (محدود الأثر السياسي عكس البترول و الغاز الطبيعي)؟
- ٧ [ ] لعب البترول دوراً كبيراً في مسار الحرب العالمية الثانية؟
- ٨ [ ] استعانت الحكومة المصرية في عام ٢٠١٥م بصندوق النقد الدولي؟
- ٩ [ ] توجد مؤسسات دولية تهتم بالتعاون الدولي لمواجهة المشكلات الاقتصادية؟

ش.ع دور اول ٢٠١٩

### 3

#### املأ على صحة أو خطأ العبارات التالية

- ١ [ ] النزاع بين (ليبيا وتونس) قائم على مشكلات تقسيم المياه.
- ٢ [ ] تُعد أزمة الطاقة أزمة فحم في المقام الأول.
- ٣ [ ] لعبت (مصادر الطاقة) دوراً بارزاً في الصراعات الدولية أثناء الحرب العالمية الثانية.
- ٤ [ ] يتمثل النزاع الدائر على الأنهار الدولية في عدة حقوق.
- ٥ [ ] توجد مؤسسات دولية تهتم بالتعاون الدولي لمواجهة المشكلات الاقتصادية.
- ٦ [ ] من مشكلات تقسيم المياه النزاع بين ليبيا وتونس حول الرصيف البحري.
- ٧ [ ] يُعد نهر المسيسيبي نهراً دولياً.
- ٨ [ ] الموارد الطبيعية موزعة بشكل منتظم على خريطة العالم.
- ٩ [ ] كان للبترول دور واضح في الحرب العالمية الثانية.
- ١٠ [ ] تهدف منظمة (الفاو) إلى تنمية الصناعة في الدول النامية.

### 4

#### ما النتائج المترتبة على

- ١ [ ] حكم محكمة العدل الدولية بجعل الحد البحري بين (ليبيا وتونس) يسير بزاوية ٥٢ درجة.
- ٢ [ ] مساهمة البترول و الغاز الطبيعي بنسبة كبيرة في التجارة الدولية؟
- ٣ [ ] محدودية الإنتاج العالمي للنفط؟



5

ماذا يحدث إذا

1. لم يظهر البترول و الغاز الطبيعي في مياه الرصيف البحري الليبي.
2. لم تغير محكمة العدل الدولية حكمها في قضية النزاع بين ليبيا وتونس.
3. انحازت محكمة العدل الدولية لدولة ليبيا في نزاعها مع تونس.
4. تعاون العالم من أجل مواجهة المشكلات الاقتصادية.

شأن دور اول ٢٠١٩

6

تأريخ كلامي

1. مطالب ليبيا ، مطالب تونس .. بشأن الرصيف القاري.
2. منظمة الفاو ، صندوق النقد الدولي من حيث دور كل منهما.
3. البنك الدولي للإنشاء والتعمير ، منظمة التجارة العالمية.

7

اسئلة متنوعة

1. وضع :

زهر دور اول ٢٠١٨

1. العلاقة بين : أزمة الطاقة و العلاقات الدولية.
2. العلاقة بين : مصادر الطاقة و الصراعات الدولية.

2. (( كان الرصيف القاري بين ليبيا وتونس سبباً في

تدويل النزاع بين الجانبين ))

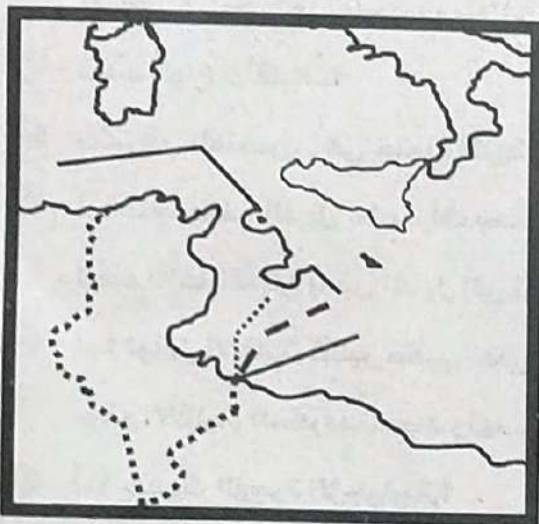
في ضوء العبارة وضع

1. ما هي أسباب الصراع بين ليبيا وتونس؟
2. ما هو دور الاستعمار في الصراع بين ليبيا وتونس؟
3. حدد حكم محكمة العدل في تلك القضية؟
4. وضع على الخريطة المرفقة ما يلي :

- دولة جزيرية.

- دولة مجزأة برياً بحرياً.

- خط الحدود بين ليبيا وتونس وفقاً لحكم محكمة العدل.





## الفصل الخامس مشكلات اجتماعية ذات بُعد سياسي

1

### كل عبارة استرنا بكهة استرنا

- 1  تُعد الأقليات الروسية نموذجاً للأقليات .....
- 2 توجد أقليات ..... داخل (البوسنة و الهرسك).
- 3  توجد أقليات ..... على أطراف (تركيا و إيران).
- 4  تعتبر الأقليات ..... أقل أنواع الأقليات انتشاراً على مستوى العالم.
- 5 تُعد ..... أهم عناصر تكوين القوميات.
- 6 تُعد ..... الوعاء الثقافي للأمم.
- 7 يُعدّ الزواج اقلية عرقية في .....
- 8 عملت الأمم المتحدة على حماية حقوق الأقليات بإصدار ..... خاصة المادة رقم .....
- 9 تهتم الدول بحماية حقوق الأقليات من خلال إصدار .....
- 10 حصلت الأقلية الزنجية على حقوقها في دولة ..... عام ١٩٩٤م.

2

### بم تفسر

- 1 لم يُعدّ هناك شعب واحد ذو سلالة نقيّة؟
- 2 تعدّد أنواع الأقليات؟
- 3 التفرقة العنصرية في جنوب أفريقيا تختلف عن نظيرتها في الولايات المتحدة؟ **زهر ٢٠١٦**
- 4  تلجأ بعض الدول للاعتراف بحقوق الأقليات في استخدام لغتهم القومية؟
- 5 لجوء الأقليات في بعض الدول إلى تعلم لغة الأغلبية؟
- 6  لوطن الأقلية تأثير كبير على الدولة؟
- 7 موقع الأقلية الكردية مصدر تهديد للعراق؟
- 8  حدوث الهجرة الإجبارية؟
- 9 يُعتبر تدفق المهاجرين غير الشرعيين على الدولة مصدر تهديد اقتصادي وسياسي؟
- 10 تهجير أهالي النوبة من أراضيهم بجنوب أسوان؟



- ١١ لم تقتصر الهجرة غير الشرعية على الدول النامية فقط؟
- ١٢ تعاني بعض الدول الأوروبية من الهجرة غير الشرعية؟

3

### دلل على صحة أو خطأ العبارات التالية

- ١ لا يوجد في الوقت الحالي شعب ذو سلالة نقيّة.
- ٢ تهتم الدول والمنظمات بحقوق الأقليات في العالم.
- ٣ (روسيا الاتحادية) أساسها القومية الصربية.
- ٤ الأقليات العرقية أقل أنواع الأقليات انتشاراً.
- ٥ تلجأ بعض الدول للاعتراف بحريّة الأقليات في استخدام لغتها القومية.
- ٦ قد تؤثر الخصائص القومية للأقليات على التماسك السياسي للدولة.
- ٧ تختلف التفرقة العنصرية في (جنوب أفريقيا) عن الولايات المتحدة.
- ٨ يختلف تأثير الأقليات حسب انتشارها أو تركيزها الجغرافي.
- ٩ التوزيع الجغرافي للأقلية يؤثر على استقرار الدولة.
- ١٠ لوطن الأقلية تأثير كبير على الدولة.
- ١١ يعد الدين من السمات الحضارية المستخدمة في ترسيم الحدود بين الدول.
- ١٢ تعد الصراعات الدولية السبب الأكثر تأثيراً في الهجرة الإجبارية.
- ١٣ حدوث الهجرة الإجبارية.
- ١٤ تم تهجير أهالي النوبة بسبب الكوارث الطبيعية.
- ١٥ التوزيع الجغرافي للأقليات يؤثر على استقرار الدولة.
- ١٦ الهجرة غير الشرعية لها مخاطر صحية وسياسية.
- ١٧ تشهد دول الخليج العربي حالياً هجرة غير شرعية.

4

### ما النتائج المترتبة على

- ١ تفكك (الاتحاد السوفيتي ويوغسلافيا) على الأقليات؟
- ٢ تمركز الأقليات في مكان ما في الدولة.
- ٣ وجود وطن للأقلية على أطراف الدولة.
- ٤ الهجرة غير الشرعية اجتماعياً واقتصادياً.

ش.ع ٢٠١٨



5

ماذا يحدث إذا

- 1 لم تحصل الاقلية على نفس حقوق الاغلبية.
- 2 لنا كائنات الاقلية مركزة جغرافياً في مكان ما في الدولة.
- 3 كان وطن الاقلية على اطراف الدولة.
- 4 لم يشهد العالم حركة السكان منذ فجر التاريخ.
- 5 كان للاقلية وطن تاريخي أصبح ضمن الدولة الجديدة.
- 6 لم تهتم الدول والمنظمات الدولية بحقوق الاقليات.

ش.ع دور اول ٢٠١٨

ش.ع دور ثان

6

تدر بر كلاً من

- 1 الاقلية القومية والاقلية الدينية.
- 2 التفرقة العنصرية في كل من الولايات المتحدة الأمريكية و جنوب أفريقيا.

7

اسئلة متنوعة

(( الهجرة ظاهرة قديمة ، لكنها زادت وتعددت أشكالها في نهاية القرن العشرين ))

في ضوء ما سبق ... وضح ..

- 1) ما هي أسباب و دوافع الهجرة غير الشرعية ؟
- 2) ما هي مخاطر الهجرة غير الشرعية على المستوى الاقتصادي والصحي ؟
- 3) ما نتائج الهجرة غير الشرعية ؟

ش.ع ٢٠١٨

8

عرف ما يلي

- 1 الاقليات.
- 2 الإعلان العالمي لحقوق الانسان.
- 3 التفرقة العنصرية.
- 4 وطن الاقلية.
- 5 الهجرة الاجبارية.
- 6 الهجرة غير الشرعية.



٦ ظلل الدائرة ذات الرمز الدال على الإجابة الصحيحة فيما يلي ..

كان ظهور الحدود الخطية في القرن الـ ١٧ الميلادي مصاحبا لـ .....

- الثورة الصناعية.
- النهضة الأوربية الحديثة.
- الدولة القومية الحديثة.
- الحرب الأهلية الأمريكية.

٧ اكتب كلمة صواب أو خطأ أمام العبارة التالية :

تحدثت ألمانيا الشرقية والغربية في دولة واحدة أوائل القرن العشرين.

أزهر - أول - ٢٠٢٢

٨ ما المقصود بـ :

المشكلات السياسية.

٩ ظلل الدائرة ذات الرمز الدال على الإجابة الصحيحة فيما يلي ..

ظهرت مناطق التخوم كمناطق غير ممسوحة في .....

- الثورة الصناعية.
- العصور القديمة والوسطى.
- الدولة القومية.
- ما قبل التاريخ.

١٠ ماذا يحدث إذا :

لم تتأثر خريطة العالم السياسية في أواخر القرن العشرين بالتغيرات المناخية.

ث.ع - أول - ٢٠١٩

١١ ظلل الدائرة ذات الرمز الدال على الإجابة الصحيحة فيما يلي ..

من الدول المستفيدة في الصراع على الأرض القارية .....

- ليبيا.
- المكسيك.
- تونس.
- الولايات المتحدة.

١٢ أقرأ ثم أجب :

تحدث أرسطو في كتابه السياسية أن الحدود المحصنة ضرورة لاستقرار الدولة.

في ضوء هذه العبارة وضح :

حدد أهمية الحدود الطبيعية مع ذكر مثالين لتلك الحدود.

١٣ أكمل ما يلي :

من الدول غير كاملة العضوية بالأمم المتحدة ..... و .....

١٤ بم تفسر :

تمسك إسبانيا بالسيطرة على سبتة ومليلية؟

ث.ع - دور أول - ٢٠١٧ / ٢٠١٩



١٢ وضع :

يمكن اعتبارها القارة الأكثر تأثيراً في خلق المشكلات التي هددت أمن الأوطان.  
 ○ أفريقيا.  
 ○ أوروبا.  
 ○ أمريكا الجنوبية.  
 ○ آسيا.

ازهر - دور اول - ٢٠٢٢

١٣ أذكر وجه الشبه بين :

مشكلة سبتة ومليلة و كشمير.

١٤ ظلل الدائرة ذات الرمز الدال على الإجابة الصحيحة فيما يلي ..

الأقلية القومية تنتشر في .....  
 ○ شرق أوروبا.  
 ○ جنوب غرب آسيا.  
 ○ غرب أمريكا الجنوبية.  
 ○ شرق أوروبا.

١٥ ما المقصود بـ :

المياه التكميلية.

١٦ بم تفسر :

اختلاف مشكلة الأقليات المتفرقة العنصرية في جنوب أفريقيا عن الولايات المتحدة؟

١٧ أذكر وجه الشبه والاختلاف بين :

تعد من نتائج السياسات الاستعمارية التي أحدثت مشكلات سياسية ناتجة عن حركة الرعاة.  
 ○ تناقص مساحة المراعي.  
 ○ زيادة مساحة الأراضي الزراعية.  
 ○ تحصيل الرسوم والضرائب.  
 ○ تشجيع هجرة الرعاة إلى المدن.

ازهر - دور اول - ٢٠٢٢

١٨ ما النتائج المترتبة على :

تفكك الاتحاد السوفيتي بالنسبة للأقليات؟

١٩ دلل على صحة أو خطأ ما يلي :

لم تتأثر العلاقات الدولية بالطاقت.

٢٠ أكتب كلمة صواب أو خطأ أمام العبارة التالية : مع ذكر السبب ..

يعد نهر بوج نهراً مثيراً للمشكلات الدولية في شرق أوروبا.

( )

٢١ ما العلاقة بين :

وطن الأقلية واستقرار الدولة؟

٢٢ حدد :

أهم عناصر القوة المورفولوجية للدولة؟

٢٣ حدد :

أنواع المناطق المائية بالترتيب من جهة الدولة إلى الخارج باتجاه البحر؟



٢١ اكتب كلمة صواب أو خطأ أمام العبارة التالية : مع ذكر السبب ..  
تأثير الضحى محدود في مجال الجغرافيا السياسية.

( )

٢٢ بم تفسر :

تختلف الحدود البحرية في بحيرة فيكتوريا عن البحيرات العظمى؟

٢٤ ماذا يحدث إذا :

ماذا يحدث إذا : انحازت محكمة العدل الدولية لدولة ليبيا في نزاعها مع تونس؟

ش.ع- دور اول- ٢٠١٩

٢٥ ما العلاقة بين كلا مما يلي :

الإعلان العالمي لحقوق الإنسان و استقرار الدولة؟

٢٦ ظلل الدائرة ذات الرمز الدال على الإجابة الصحيحة فيما يلي ..

تعد ..... الوعاء الثقافي للأمم.

○ الدين. ○ الإثنوغرافيا.

○ الديموغرافيا. ○ اللغة.

٢٧ أيد صحة أو خطأ العبارة التالية:

كان للعولمة والشركات متعددة الجنسيات إيجابيات بعيدة المدى على الدول.

٢٨ أكمل ما يلي :

يفصل جبال ..... بين السويد والنرويج.

٢٩ أكمل ما يلي :

طالب مجلس الأمن من اسبانيا والمغرب تسوية الخلافات ( سبتة ومليلة ) عن طريق .....

٣٠ ظلل الدائرة ذات الرمز الدال على الإجابة الصحيحة فيما يلي ..

من الأنهار التي لا تخضع لاتفاقيتي باريس وبرشلونة.

○ النيل. ○ الراين. ○ الفستولا. ○ السين.

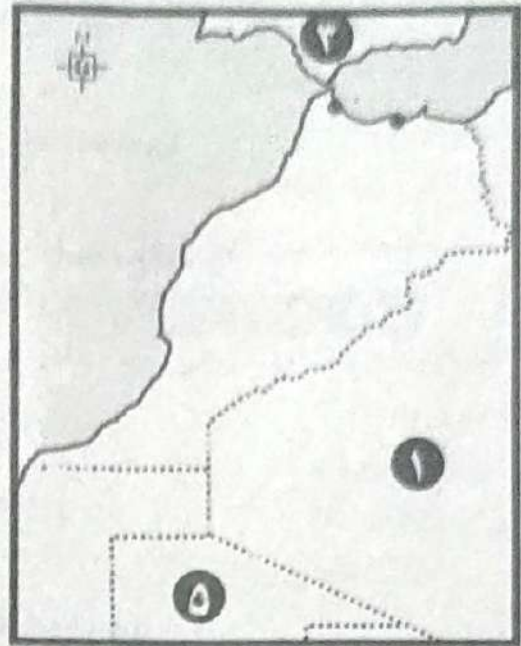
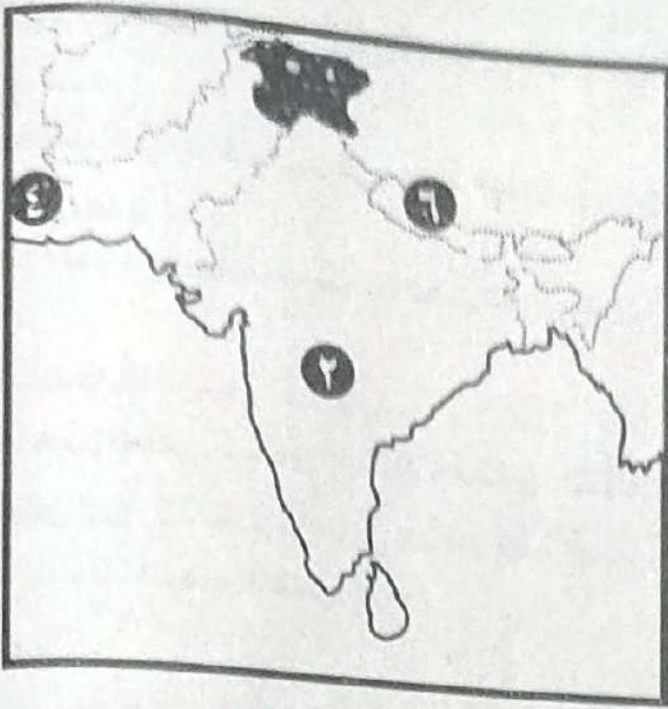
أزهر- دور اول- ٢٠٢٢

٣١ أيد مصداقية العبارة التالية : مع توضيح إجابتك بمثال :

من الدول السباقت لعقد اتفاقيات تنظيم حركة الرعاة دول شرق أفريقيا.



وضح مدلول الأرقام على الخريطة :



أمامك خريطةتان لدولتين إحداهما أفريقية و الأخرى آسيوية ؛ وضح عليها

١. دولة تشتهر بإنتاج مصادر الطاقة ( الغاز الطبيعي ) .
٢. دولة بها أقلية دينية .
٣. دولة بها أقلية تقع على أطرافها تسعى للانفصال .
٤. دولة تمثل الساحل الشرقي للخليج العربي .
٥. دولة تتميز باتساع مياهها الإقليمية .
٦. الحدود الطبيعية الجنوبية للصين .



## التكتلات الاقتصادية و الاحلاف العسكرية

### الفصل الأول

## التكتلات الاقتصادية

1

اختر الإجابة الصحيحة مما بين القوسين

- 1 (الثكثل) درجة من درجات التكامل بين مجموعة من الدول المتجانسة .....  
(جغرافياً - ثقافياً - اجتماعياً - جميع ما سبق)
- 2 بقاء التكتلات الاقتصادية مرهون ببقاء .....  
(الدول الأعضاء - منظمة التجارة العالمية - الأمم المتحدة - البنك الدولي)
- 3 يعود تشكيل التكتلات الاقتصادية إلى بداية القرن ..... م .  
(١٧ - ١٨ - ١٩ - ٢٠)
- 4 من مراحل تحقيق التكامل الاقتصادي ، تنسيق السياسات .....  
(الاجتماعية - الثقافية - الدينية - الاقتصادية)
- 5 ..... يعني تحديد تعريف موحدة على السلع المستوردة من خارج التكتل.  
(السوق المشتركة - الوحدة الاقتصادية - الاتحاد الجمركي - الحواجز الجمركية)
- 6 ..... يتم بها تنسيق السياسات المالية و النقدية بين الدول الأعضاء.  
(الاتحاد الجمركي - الحواجز الجمركية - السوق المشتركة - الوحدة الاقتصادية)
- 7 يعد ..... أهم المقومات الجغرافية التي تساعد على قيام التكتلات الاقتصادية.  
(الاتصال الأرضي - المستوى التكنولوجي - العادات و التقاليد - البنية الأساسية)
- 8 تم توقيع معاهدة ..... عام ١٩٩١ م ، و بمقتضاها تحوّلت السوق المشتركة إلى الاتحاد الأوروبي.  
(روما - كوبنهاجن - برشلونته - ماستريخت)
- 9 السوق المشتركة لدول شرق و جنوب أفريقيا تسمى .....  
(النافتا - الكوميسا - الفاو - النافتو)
- 10 التكتل الاقتصادي الذي يضم دول آسيا و المحيط الهادي يُسمى .....  
(مُنْتدى التعاون الاقتصادي - مُنْتدى التعاون السياسي - الاتحاد الاقتصادي الآسيوي - مُنْتدى التعاون العسكري)



## المرشد في المراجعة النهائية

- ١١ يُطلق على منظمة التجارة الحرة لأمريكا الشمالية اسم .....
- (الكوميكون - الكوميسا - الأبيك - الناфта)
- ١٢   يقوم الاتحاد الأوروبي على ركيزتين هما، .....
- (القوة الاقتصادية والسياسية - سيادة القانون وتحقيق الديمقراطية - سيادة الحكومة وتحقيق العدالة - سيادة الدولة وتحقيق التكافؤ)
- ١٣ وضع مجلس الاتحاد الأوروبي عام ١٩٩٢ شروطاً ..... للانضمام إليه.
- (اقتصادية - تشريعية - سياسية - جميع ما سبق)
- ١٤  يمثل ..... قمة أجهزة الاتحاد الأوروبي.
- (المجلس الأوروبي - مجلس الاتحاد الأوروبي - البرلمان الأوروبي - المفوضية الأوروبية)
- ١٥ ..... هو الجهاز التنفيذي للاتحاد الأوروبي.
- (البرلمان الأوروبي - المفوضية الأوروبية - المجلس الأوروبي - مجلس الاتحاد الأوروبي)
- ١٦ يُعد ..... جهة إصدار القرار داخل الاتحاد الأوروبي.
- (مجلس الاتحاد الأوروبي - البرلمان الأوروبي - المفوضية الأوروبية - المجلس الأوروبي)
- ١٧  اتخذ مجلس التعاون لدول الخليج العربي من مدينة ..... مقراً له.
- (أبوظبي - عمان - مكة - الرياض)
- ١٨ يتكوّن ..... من وزراء خارجية الدول الأعضاء في مجلس التعاون الخليجي.
- (المجلس الأعلى - الأمانة العامة - المجلس الوزاري - المفوضية العربية)
- ١٩ يُعرف اتحاد دول شرق و جنوب أفريقيا باسم .....
- (الاتحاد الإفريقي - الكوميسا - الكوميكون - الوحدة الإفريقية)
- ٢٠ بلغ عدد أعضاء اتحاد دول الكوميسا ..... دولة.
- (٢١ - ٢٢ - ٢٣ - ٢٤)
- ٢١ تم الاتفاق على اختيار مدينة ..... مقراً للكوميسا.
- (أديس أبابا - برازفيل - مقديشو - لوساكا)
- ٢٢ بلغ عدد الدول التي طبقت التعريضة الصفريّة ..... دولة.
- (١١ - ١٢ - ١٣ - ١٤)
- ٢٣ يوجد مقر مفوضية الكوميسا في مدينة .....
- (جيبوتي - أغادير - ملاوي - أبوجا)





### بم تفسر

- ١ [ ] أهمية التكتلات الاقتصادية؟
- ٢ يمر تكوين التكتلات الاقتصادية بعدة مراحل؟
- ٣ تشغل التكتلات الاقتصادية حيزاً مكانياً على خريطة العالم؟
- ٤ توافر حجم سكاني مناسب ضرورة لقيام التكتلات الاقتصادية؟
- ٥ تلعب الخصائص الثقافية دوراً في قيام التكتلات الاقتصادية؟
- ٦ [ ] أهمية تشابه العادات و التقاليد في قيام التكتلات الاقتصادية؟
- ٧ [ ] المقومات العسكرية من مقومات نجاح و استمرار التكتلات؟
- ٨ [ ] المقومات العسكرية ليست شرطاً لقيام التكتلات الاقتصادية؟
- ٩ عنصر البنية الأساسية يعد شريان التكتلات الاقتصادية؟
- ١٠ الموارد الاقتصادية الأولية تعد عامل أساسي في قيام التكتلات الاقتصادية؟
- ١١ أهمية وجود مستوى تكنولوجي متقارب بين دول التكتل؟
- ١٢ تنوع الموارد الاقتصادية عامل أساس لنجاح التكتلات الاقتصادية؟ ش.ع دور أول ٢٠١٩
- ١٣ الاتحاد الأوروبي أكبر تكتل اقتصادي عالمي؟
- ١٤ [ ] وضع الاتحاد الأوروبي شروط (كوبنهاجن)؟
- ١٥ [ ] يعتبر المجلس الأوروبي قمة أجهزة الاتحاد الأوروبي؟ ش.ع دور أول ٢٠١٨
- ١٦ تنوع المظاهر الطبيعية للاتحاد الأوروبي؟
- ١٧ [ ] أهمية المفوضية الأوروبية؟
- ١٨ [ ] إنشاء مجلس التعاون لدول الخليج العربي؟
- ١٩ [ ] أهمية المجلس الأعلى لدول الخليج العربي؟
- ٢٠ تنوع الموارد الاقتصادية عنصر لا يتوفر في مجلس التعاون لدول الخليج العربي؟
- ٢١ إنشاء مجلس أعمال الكوميسا؟
- ٢٢ أهمية التجارة الحرة بين دول تجمع الكوميسا؟
- ٢٣ أهمية انضمام مصر للكوميسا؟





تعاليم / اولا / المادي مع اهم السبب في المادي

- 1 ( ) التكتلات الاقتصادية ظاهرة حديثة عهد الانسان.
- 2 ( ) اختلاف النظم السياسية يساعد على نجاح التكتلات الاقتصادية.
- 3 ( ) لذا تقارب المستوى التكنولوجي بين الدول اساس لقيام التكتلات الاقتصادية
- 4 ( ) لا توجد علاقة بين الحجم السكاني للدول والتكامل الاقتصادي الذي يضمها.
- 5 ( ) لذا التكامل الاقتصادي بين الدول يقوم بطبيعته على التنوع.
- 6 ( ) التكامل الاقتصادي يقوم على التشابه لا التنوع.
- 7 ( ) هناك فترتين في مراحل تكوين التكتلات.
- 8 ( ) سارعت دول العالم للانضمام للتكتلات الاقتصادية بعد الحرب العالمية الاولى.
- 9 ( ) الوحدة الاقتصادية هي الغاية القصوى لأي تكامل اقتصادي.
- 10 ( ) لذا القوة العسكرية اساس نجاح و استمرار أي كتلة اقتصادية.
- 11 ( ) الاتصال الأرضي عنصر هام لقيام كتلات اقتصادية كبرى.
- 12 ( ) التكامل الاقتصادي يقوم على تشابه الموارد لا تنوعها.
- 13 ( ) من الموانع المادية للتكتلات الاقتصادية عدم توفر الموارد الطبيعية.
- 14 ( ) يسمى الاتحاد الأوروبي لأن يكون على قمتا الهرم الاقتصادي العالمي.
- 15 ( ) يتأهل الاتحاد الأوروبي قارة أوروبا بالكامل.
- 16 ( ) من عوامل نجاح الاتحاد الأوروبي تشابه مظاهر السطح به.
- 17 ( ) أصبح الانضمام للاتحاد الأوروبي ليس له شروط. (ث.ع = 2016)
- 18 ( ) هناك شروط عسكرية لانضمام للاتحاد الأوروبي.
- 19 ( ) لذا تعد الموظفين الأوروبيين الجهاز التنفيذي للاتحاد الأوروبي.
- 20 ( ) الموظفين الأوروبيين لها الحق في تقديم اقتراحات بمشروعات قوانين إلى البرلمان.
- 21 ( ) الموظفين الأوروبيين تقوم بالإشراف على الاتفاقيات بالاشتراك مع محكمة العدل.
- 22 ( ) ينطبق على دول مجلس التعاون لدول الخليج العربي مفهوم الدولة الكونفدرالية.
- 23 ( ) ساعد التنوع الثقافي على نجاح مجلس التعاون لدول الخليج العربي.
- 24 ( ) هيئتاً تسوية المنازعات في مجلس التعاون لدول الخليج العربي في حالة انعقاد دائم.
- 25 ( ) لمجلس التعاون لدول الخليج العربي أنشطة اقتصادية وعسكرية.





## المرشد في المراجعة النهائية

- ٢٦ تعتبر الأمانة العامة الهيئة المركزية الثابتة لمجلس التعاون لدول الخليج. ( )
- ٢٧ تحول مجلس التعاون الخليجي لمجلس التعاون لدول الخليج بعد اتفاقية ماستريخت. ( )
- ٢٨ شهد الوطن العربي بجناحيه قيام تكتلات اقتصادية. ( )
- ٢٩ الكوميسا منتدى تعاون اقتصادي لدول جنوب شرق آسيا. ( )

4

### دلل على صحة أو خطأ العبارات التالية

- ١ ليست بالضرورة أن تكون أهداف التكتلات الاقتصادية أهدافا اقتصادية فقط ، بل قد تكون سياسية.
- ٢ من أهداف قيام التكتلات الاقتصادية ، تخفيف أثر الصدمات الخارجية.
- ٣  تكوين التكتلات الاقتصادية يمر بعدة مراحل.
- ٤  تتعدد المقومات التي ساعدت على قيام التكتلات الاقتصادية.
- ٥  يعد تشكيل التكتلات الاقتصادية ظاهرة حديثة.
- ٦  التكامل الاقتصادي يقوم على التشابه لا التنوع.
- ٧  توجد علاقة بين الحجم السكاني للدول و التكتل الاقتصادي.
- ٨  تقارب المستوى التكنولوجي بين الدول أساس قيام التكتلات و استمرارها.
- ٩ التكتلات الاقتصادية تكاد تغطي خريطة العالم السياسية.
- ١٠ القوة العسكرية أساس نجاح و استمرار التكتلات الاقتصادية و استمرارها.
- ١١  تبنى الاتحاد الأوربي عدة شروط.
- ١٢  يحدد البرلمان الأوربي أولويات و اتجاهات السياسة العامة للاتحاد الأوربي.
- ١٣  تعد (المفوضية الأوروبية) الجهاز التنفيذي للاتحاد الأوربي.
- ١٤  يتمتع سكان (مجلس التعاون) بخصائص مشتركة.
- ١٥  حققت مسيرة مجلس التعاون الخليجي حصيلة من الإنجازات.
- ١٦ في مرحلة التجارة الحرة بالكوميسا تحتفظ كل دولة بتعريف جمركية عامة لتطبيقها على السلع المستوردة من خارج التكتل.
- ١٧ في مرحلة التجارة التفضيلية بالكوميسا يتم إقرار التعريف الصفرية.
- ١٨ من المتوقع أن يتم إصدار عملة موحدة باتحاد الكوميسا في مرحلة السوق المشتركة.





### 5

#### ما النتائج المترتبة على

- 1 زيادة حجم السكان بالنسبة لدول أعضاء التكتلات الاقتصادية؟
- 2 التكامل الذي تسعى إليه التكتلات الاقتصادية؟
- 3 تباين المستوى الاقتصادي و السياسي بين دول أوروبا؟
- 4 وضع شروط كوينهاجن؟
- 5 توقيع اتفاقية ماستريخت؟
- 6 تشابه الخصائص الطبيعية و البشرية لدول الخليج العربي؟
- 7 إنشاء اتحاد غرف مجلس التعاون لدول الخليج العربي؟
- 8 قيام مجلس التعاون لدول الخليج العربي؟
- 9 إنشاء وكالة الاستثمار الإقليمية للكوميسا؟
- 10 إنشاء مفضية المنافسة بالكوميسا عام ٢٠٠٨م؟

### 6

#### ماذا يحدث إذا

- 1 أصبح المستوى التكنولوجي بين دول التكتل غير متقاربا؟
- 2 أزيلت الحواجز الجمركية بين الدول العربية؟
- 3 وجود حجم سكاني مناسب بالدول التي يضمها التكتل الاقتصادي؟
- 4 اختلفت النظم السياسية للدول الأعضاء في التكتل الاقتصادي؟
- 5 لم توجد قوة عسكرية لدى الدول أعضاء التكتل الاقتصادي؟
- 6 لم يكن هناك تنوع في الموارد بالنسبة لدول التكتل الاقتصادي؟
- 7 استفادت الدول العربية من تجربة الاتحاد الأوربي كأهم التكتلات الاقتصادية في العالم؟
- 8 لم يتم إنشاء مجلس أعمال الكوميسا؟

### 7

#### قارن بين كلاهما يلي

- 1 المقومات البشرية و الاقتصادية لقيام التكتلات الاقتصادية.
- 2 الاتحاد الأوربي و مجلس التعاون الخليج العربي؛ من حيث .. أهم المؤسسات.
- 3 البرلمان الأوربي للاتحاد الأوربي و المجلس الوزاري لمجلس التعاون.



- ١ اختصاصات مجلس الاتحاد الأوربي و البرلمان الأوربي.
- ٢ الشروط التشريعية و التشريعية لإعلان كويتها جن.
- ٣ اختصاصات المجلس الأعلى و المجلس الوزاري لمجلس التعاون الخليجي.

### ٨ ما العلاقة بين كلا يلي

- ١ العمالة و التكتلات الاقتصادية.
- ٢ حجم السكان و التكتلات الاقتصادية.
- ٣ المقومات الطبيعية و التكتلات الاقتصادية.
- ٤ توفر البنية الأساسية و التكتلات الاقتصادية.
- ٥ النظم السياسية و نشأة التكتلات الاقتصادية.
- ٦ الخصائص الثقافية للدول و قيام التكتلات الاقتصادية.
- ٧ البرلمان الأوربي و المجلس الأوربي.
- ٨ البرلمان الأوربي و المفوضية الأوربية.
- ٩ مجلس الاتحاد الأوربي و البرلمان الأوربي.
- ١٠ مصر و مجلس أعمال الكوميسا.

### ٩ وضع ما يلي

- ١ الأهداف التي أنشأت من أجلها السوق المشتركة لدول شرق جنوب أفريقيا.
- ٢ أوجه الاختلاف بين : مرحلة التجارة التفضيلية و التجارة الحرة لتعزيز التكامل الاقتصادي بين دول الكوميسا.
- ٣ أوجه الاختلاف بين : وكالة الاستثمار الإقليمية للكوميسا و مفوضية المنافسة للكوميسا من حيث : الأهداف.



## الفصل الثاني الأتحلاف العسكرية

1

### اختر الإجابة الصحيحة مما بين القوسين

- 1 من الأتحلاف العسكرية التي ما زالت قائمة حتى اليوم .....  
( حلف وارسو - الحلف المركزي - حلف جنوب شرق آسيا - حلف الناتو )
- 2 لم توقع ..... ميثاق حلف ( وارسو ) ، ولكنها تعهدت بدعم الأعضاء .  
( رومانيا - الاتحاد السوفيتي - الصين - إسبانيا )
- 3 أنشئ حلف ( الناتو ) بموجب ميثاق تم توقيعه عام ١٩٤٩ م في .....  
( لندن - باريس - نيويورك - واشنطن )
- 4 تعد مدينة ..... مقر حلف شمال الأطلسي .  
( برلين - بروكسيل - واشنطن - روما )
- 5 من نشاطات حلف ( الناتو ) ، التدخل في ..... لتخفيف أثر الزلازل عام ٢٠٠٦ م .  
( البوسنة - مقدونيا - باكستان - العراق )
- 6 تم توقيع ميثاق حلف ( وارسو ) في عاصمة دولة .....  
( الاتحاد السوفيتي - المجر - بولندا - بلغاريا )
- 7 انسحبت ..... من حلف وارسو عام ١٩٦٨ م .  
( تشيكوسلوفاكيا - ألبانيا - سويسرا - مقدونيا )
- 8 أعلنت ..... حل حلف وارسو رسمياً عام ١٩٩١ م .  
( روسيا - بولندا - المجر - رومانيا )
- 9 كانت دولة ..... سبباً رئيسياً لإنشاء حلف الناتو و حلف وارسو .  
( فرنسا - هولندا - ألمانيا - بلجيكا )

2

### بم تفسر

- 1 تجأت كثير من دول العالم لتكوين أتحلاف عسكرية؟
- 2 انتشار الأتحلاف العسكرية ، و اتساع نطاق الدول المشاركة فيها؟
- 3 حتمية ظهور حلف شمال الأطلسي ( الناتو )؟



## المرشد في المراجعة النهائية

- ١ اتجاه زعماء حلف (شمال الأطلنطي) إلى إعادة النظر في إستراتيجية الحلف؟
- ٢ نشأة حلف وارسو عام ١٩٥٥م
- ٣ انسحاب البانيا من حلف وارسو عام ١٩٦٨م
- ٤ انهيار حلف (وارسو) ١٩٩١م
- ٥ ضعف دور هيئة الأمم المتحدة حالياً؟
- ٦ ظهور النزعة الانفصالية في الجمهوريات السوفيتية؟
- ٧ أهمية قيام حلف عسكري مشترك يضم كل الدول العربية؟

3

ضع علامة (✓) أو (×) فيما يلي مع ذكر السبب في الجوابين

- ١ للأحلاف العسكرية مردود اقتصادي على الدول المشاركة. ( )
- ٢ زاد انتشار الأحلاف العسكرية في العصر الحديث. ( )
- ٣ يقع مقر حلف الناتو في دولة ذات مساحة كبيرة. ( )
- ٤ انضمت دول عدم الانحياز إلى حلف شمال الأطلنطي. ( )
- ٥ انضمت بعد دول الكتلة الشيوعية إلى حلف شمال الأطلنطي. ( )
- ٦ أدى ضعف حلف (شمال الأطلنطي) إلى إضعاف هيئة الأمم المتحدة. ( )
- ٧ نجحت سياسة (جورباتشوف) في إيجاد نظام أكثر تطوراً. ( )
- ٨ لحلف شمال الأطلسي عدة جهود في حفظ السلام العالمي. ( )
- ٩ كان لحلف شمال الأطلنطي آثار على الدول النامية. ( )
- ١٠ تساعد الأحلاف العسكرية على تنمية المصالح المشتركة بين دول العالم. ( )

4

دل على صحة أو خطأ العبارات التالية

- ١ (الأحلاف العسكرية) ظاهرة حديثة. ( )
- ٢ لحلف (الناتو) أثر دولي وإقليمي. ( )
- ٣ (ردع الأعداء) من أهم أهداف الأحلاف العسكرية. ( )
- ٤ كان حلف (الناتو) وحلف (وارسو) سبباً في إضعاف هيئة الأمم المتحدة. ( )
- ٥ حلف (وارسو) قاصراً على الدول الأعضاء فقط. ( )
- ٦ يضم حلف (الناتو) دول أوروبا الشرقية والولايات المتحدة الأمريكية. ( )

أزهر دورقان ٢٠١٦



- ١ لنا حلف (شمال الأطلسي) جهود عدة في مجال حفظ السلام العالمي.
- ٢ انسحبت (اليانها) من حلف (وارسو) رسمياً عام ١٩٦٨ م.
- ٣ لنا كان لـ (جورباتشوف) سياساً جديدة عندما تولى السلطة.

5

ما النتائج المترتبة على

- ١ لنا انهيار الاتحاد السوفيتي؟
- ٢ انضمام ألمانيا الغربية لحلف الناتو عام ١٩٥٥ م؟
- ٣ حلف الناتو أثر دولي واقليمي؟
- ٤ سقوط سوريلين وتوحيد الألمانين؟
- ٥ لنا اتهامك الولايات المتحدة و الاتحاد السوفيتي في سياساً سباق التسلح؟
- ٦ تولى جورباتشوف السلطة في الاتحاد السوفيتي؟

6

ماذا يحدث إذا

- ١ ظل الاتحاد السوفيتي متمسكاً؟
- ٢ تمسكت الولايات المتحدة الأمريكية إلى ولايات متناحرة؟
- ٣ استطاعت الدول الإسلامية تكوين حلف عسكري؟
- ٤ انسحبت الولايات المتحدة من حلف الناتو؟
- ٥ استمر حلف وارسو حتى اليوم؟

7

قارن بين كلا مما يلي

- ١ أهداف التكتلات الاقتصادية ، وأهداف الأحلاف العسكرية.
- ٢ حلف شمال الأطلسي و حلف وارسو من حيث :  
النشأة - المقر - أمثلة لأهم الدول الأعضاء.

8

ما الغلطة بين كلا مما يلي

- ١ حصار الاتحاد السوفيتي لبرلين و حلف الناتو.
- ٢ حلف وارسو و حلف الناتو.





٢ الصين و حلف وارسو.

٤ زيادة القوة و نشأة الأحلاف العسكرية.

٥ تفكك الاتحاد السوفيتي و حلف وارسو.

ش.ع - دور اول ٢٠١٩

٦ إلغاء الهيكل العسكري لحلف ( وارسو ) ، و إستراتيجية حلف ( الناتو ) .

٧ إصلاحات ( جورباتشوف ) ، و حلف ( وارسو ) .

9

### وضع مايلي

١ أهداف الأحلاف العسكرية.

٢ أثر سياسة التسلح المنفرد التي تتبعها بعض الدول.

٣ الأحلاف العسكرية التي حُلّت ، و الأحلاف العسكرية التي مازالت قائمة.

أزهر - دور ثان ٢٠١٦ / ٢٠١٨

٤ التأثير الإقليمي و الدولي لحلف ( شمال الأطلسي ) .

٥ أسباب نشأة حلف ( شمال الأطلسي ) .

٦ كان عام ٢٠٠٦م هو عام الإنجازات لحلف شمال الأطلسي.

٧ أسباب انهيار حلف ( وارسو ) .

٨ أثر تشديد ( الاتحاد السوفيتي ) حصاره على مدينة ( برلين ) عام ١٩٤٨م.

### حدد على الخريطة

١ دولة شاركت في الحلف المركزي.

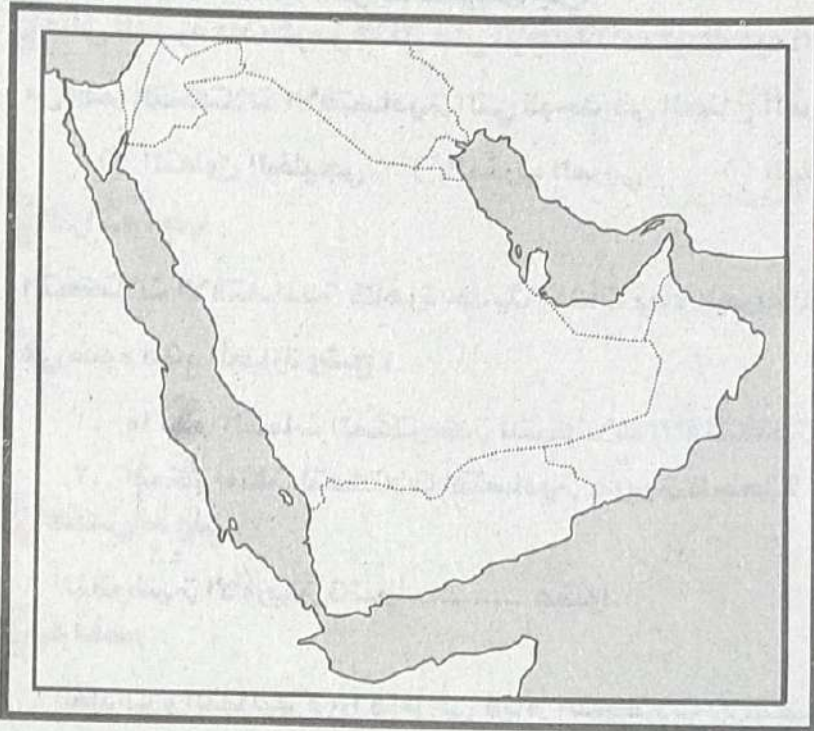
٢ دولة قزمية المساحة.

٣ دولة تحدث بها هجرة إجبارية.

٤ دولة مجزأة برياً.

٥ دولة كانت سبباً في فشل إقامة

سوق عربية مشتركة.





# يوكليت

على الوحدة الثالثة

١ ظلل الدائرة ذات الرمز الدال على الإجابة الصحيحة فيما يلي ..

يرجع تشكيل التكتلات الاقتصادية إلى بدايات القرن .....

١٧ ○ ٨ ○

١٩ ○ ٢٠ ○

٢ أكتب كلمة صواب أو خطأ أمام العبارة التالية :

ليس بالضرورة توافر حجم سكاني مناسب لقيام التكتلات.

٣ أكتب المصطلح الجغرافي الدال على ما يلي :

زهر - دور أول - ٢٠٢٢

معاهدة تحول بموجبها السوق الأوروبي إلى الاتحاد الأوربي

٤ ظلل الدائرة ذات الرمز الدال على الإجابة الصحيحة فيما يلي ..

يطلق على الاتحاد الاقتصادي لدول أمريكا الشمالية .....

○ الأبيك. ○ النافتا. ○ الكوميسا. ○ المريكسور.

٥ دلل على صحة العبارة التالية :

عدم احترام إيطاليا لشروط كوبنهاجن؟

٦ ظلل الدائرة ذات الرمز الدال على الإجابة الصحيحة فيما يلي ..

من أهم التكتلات الاقتصادية التي توجد في الجناح العربي الأفريقي .....

○ التعاون الخليجي. ○ المغرب العربي. ○ الهلال الخصيب. ○ القرن الأفريقي

٧ اقرأ ثم أجب :

التكتلات الاقتصادية ظاهرة حديثة نشأت بعد الحرب العالمية الثانية.

في ضوء هذه العبارة وضح :

١. ما أهم السمات المشتركة للتكتلات الاقتصادية الناجحة؟

٢. أذكر أمثلة لتكتلات اقتصادية عربية ناجحة؟

٨ أكمل ما يلي :

المفوضية الأوروبية تضم .....

٩ بم تفسر :

للعادات والتقاليد دوراً هاماً في قيام التكتلات الاقتصادية؟





١٢. وضح :

جهود حلف شمال الاطلسي في حفظ السلام العالمي.

١١ اذكر وجه الشبه بين :

البرلمان الأوربي و المجلس الوزاري العربي.

١٢ ظلل الدائرة ذات الرمز الدال على الإجابة الصحيحة فيما يلي ..

من مراحل تكوين التكتلات الاقتصادية تنسيق السياسات .....

○ المالية

○ الاقتصادية.

○ كل ما سبق.

○ النقدية.

١٣ ما المقصود بـ :

شروط كوبنهاجن.

١٤ بم تفسر :

اتجاه معظم دول العالم لتكوين تكتلات اقتصادية؟

١٥ ما الفرق بين :

مهام المجلس الاوربي و الموضوية الأوربية .. في الاتحاد الأوربي.

١٦ ما النتائج المترتبة على :

قيام مجلس التعاون لدول الخليج العربي؟

١٧ دلل على صحة أو خطأ ما يلي :

القوة الاقتصادية لا بد من وجود قوة عسكرية تحميها.

١٨ أكتب كلمة صواب أو خطأ أمام العبارة التالية : مع ذكر السبب ..

أعلنت بولندا رسميا عام ١٩٩١ م حل حلف وارسو.

١٩ ما العلاقة بين كلا مما يلي :

الجغرافيا كحيز مكاني و التكتلات الاقتصادية؟

٢٠ ماذا يحدث إذا :

تكون في الوطن العربي تحلف عسكري مشترك؟

٢١ حدد ..

خطوات إقامة تكتل اقتصادي عربي ( بالترتيب )؟





## المرشد في المراجعة النهائية

٢٣ أكتب كلمة صواب أو خطأ أمام العبارة التالية ؛ مع ذكر السبب ..

( )

الكومبوسا هي منتدى التعاون الاقتصادي لدول جنوب شرق آسيا.

٢٤ بم تفسر :

حتمية ظهور حلف الناتو؟

٢٥ ماذا يحدث إذا :

ظل الاتحاد السوفيتي متمسكاً؟

٢٦ ما العلاقة بين كلاهما يلي :

إزالة الحواجز الجمركية و التكتلات الاقتصادية؟

٢٧ ظلل الدائرة ذات الرمز الدال على الإجابة الصحيحة فيما يلي ..

أقدم مؤسسات مجلس التعاون لدول الخليج العربي ..

- قوات درع الجزيرة.
- الاتحاد الجمركي.
- اتحاد غرف مجلس التعاون.
- البنك المركزي الخليجي.

٢٨ أيد صحة أو خطأ العبارة التالية :

جاء إنشاء حلف وارسو كرد فعل لأحداث عالميت.

٢٩ أكمل ما يلي :

كان تولي ..... رئاسة الاتحاد السوفيتي نذيراً بانتهاء حلف وارسو.

٣٠ أكمل ما يلي :

كانت دولته ..... سبباً في إنشاء حلف وارسو و حلف الناتو.

٣١ أكتب كلمة صواب أو خطأ أمام العبارة التالية ؛ مع ذكر السبب ..

لا يتمتع سكان دول مجلس التعاون لدول الخليج بخصائص مشتركة مما يهدد استمراره.

٣٢ أيد مصداقية العبارة التالية ؛ مع توضيح إجابتك بمثال :

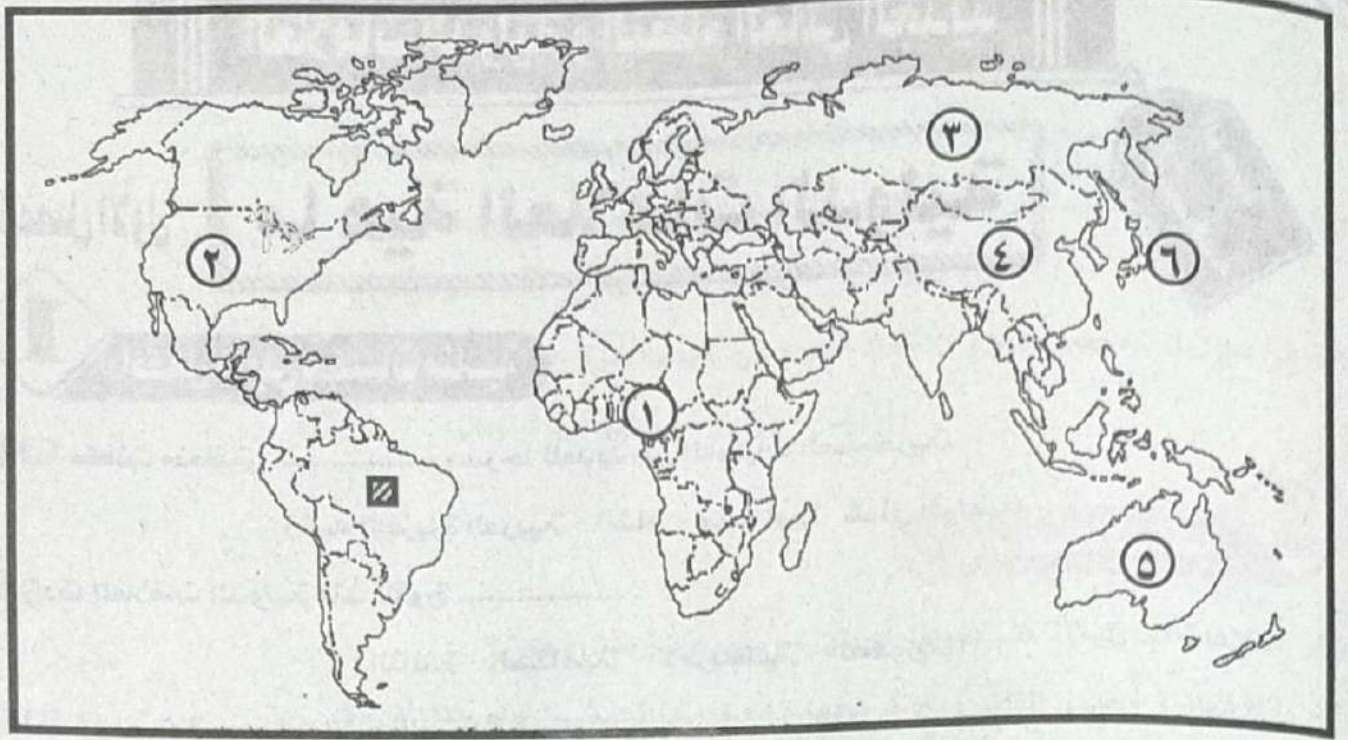
الأحلاف العسكرية ظاهرة قديمة.

٣٣ ظلل الدائرة ذات الرمز الدال على الإجابة الصحيحة فيما يلي ..

يعد ..... الجهاز التنفيذي للاتحاد الأوربي.

- المجلس الأوربي.
- البرلمان الأوربي.
- مجلس الاتحاد الأوربي.
- المفوضية الأوربييت.





أمامك خريطتان لدولتين إحداهما أفريقية والأخرى آسيوية : وضع عليها :

١. دولة تشتهر بإنتاج مصادر الطاقة ( الغاز الطبيعي ) .

٢. دولة نشأت بها فكرة إقامة حلف الناتو .

٣. دولة أسست حلف عسكري مناهض لحلف الناتو .

٤. دولة رفضت التوقيع على حلف وارسو .

٥. دولة عضو في منتدى الأبيك .

٦. دولة ذات موقع متطرف .



العلاقات الدولية و النظام العالمي الجديد

ما هية العلاقات الدولية

الفصل الأول

1. تحليل ما يلي بمصطلحات مناسبة

1. لنا صفات منطلق ..... مسرعا لتعريف من العمليات العسكرية: (تلك الجزيرة العربية - الشام - وسط أوروبا - شمال أفريقيا)
2. ردت العلاقات الدولية منذ الثورة ..... (الفاشية - الصناعات - الأمريكية - الكورية)
3. لنا ثم تخرج ميثاق الأمم المتحدة في مؤتمر ..... (نيويورك - سان فرانسيسكو - شيكاغو - لوس أنجلوس)
4. ظهرت (مجلس الأمم) كمنهج مؤتمر ..... عام 1919م في باريس. (الأمم - سان فرانسيسكو - فرساي - الصلح)
5. من تقدم المعاهدات التي عقدها الأمم رئيس الثاني كانت مع ..... (الخانن - خاتو - كليوباترا - أميس).
6. فتلعبت العلاقات الدولية في الوقت الحالي مثل التمثيل ..... (السياسي - الاقتصادي - العسكري - كل ما سبق).
7. هناك هي عدة طرق وأساليب لحل النزاعات الدولية سلمياً ..... (المفاوضات - التحكيم - الوساطة - كل ما سبق).
8. صراع مسلح بين دولتين أو أكثر تنشأ لتحقيق مصالح وطنية من وجهة نظر الدولتين ..... (القوة - الحرب - الأحلاف العسكرية - المنازعات).
9. فكرة المنظمة العالمية أن العلاقات بين الدول تكون ..... (أكثر سلماً - أعمق أمناً - أشمل تعاوناً - جميع ما سبق)
10. نجحت مصر في حل مشكلتها طابا إلى ..... (التحكيم - المساعي الحميدة - الوساطة - الحروب)





- ١١ تم إنشاء عصبة الأمم بعد الحرب .....
- ( العالمية الأولى - العالمية الثانية - الباردة - جميع ما سبق )
- ١٢ ..... هي منظمة عالمية سبب إنشائها عدم تكرار الحروب.
- ( عصبة الأمم - الأمم المتحدة - الكوميكون - جامعة الدول العربية ) .
- ١٣ الوزن ..... لأي دولة محصلة مقوماتها الطبيعية والبشرية.
- ( الاقتصادي - السياسي - الثقافي - التكنولوجي )
- ١٤ في مجال المواجهة ، قام ( الاتحاد السوفيتي ) بمحاصرة مدينة .....  
( باريس - برلين - ميلانو - برشلوننة )

## 2

### بم تفسر

- ١ العلاقات الدولية تتأثر بعوامل كثيرة ومتنوعة ومتشابكة؟
- ٢ قيام (رئيس الثاني) بعقد معاهدة مع ملك الحيتيين عام ١٢٧٨ ق.م؟
- ٣ تشعبت العلاقات الدولية بين دول العالم في الوقت الحاضر؟
- ٤ العلاقات الدولية في تزايد مستمر؟
- ٥ مرور تطور العلاقات الدولية بعدة مراحل؟
- ٦ أهمية الوزن الاقتصادي للصين؟
- ٧ احتلال الصين مقعداً دائماً في مجلس الأمن؟
- ٨ فشل و انهيار عصبة الأمم؟
- ٩ نشوب الحروب بين الدول في كثير من الأحيان؟
- ١٠ نشأة الأمم المتحدة عام ١٩٤٥م؟
- ١١ يؤخذ على الأمم المتحدة عدة اعتبارات؟
- ١٢ القوة و الوزن السياسي للدول على المسرح العالمي وجهان لعملة واحدة؟
- ١٣ تضاول الدور الذي تلعبه حركة عدم الانحياز في العلاقات الدولية؟
- ١٤ للمنظمات الدولية أهداف مشروعها؟
- ١٥ هناك عدة طرق وأساليب لحل النزاعات الدولية سلمياً؟

ث.ع دورتان ٢٠١٧

ث.ع دور أول ٢٠١٩

ث.ع - دورتان - ٢٠١٧





### 3

ضع علامة (✓) أو (×) فيما يلي مع ذكر السبب في العاليتين

- 1  عقدَ الملك (رئيس الثالث) معاهدة مع خاتو سبل ملك الحيثيين عام ١٢٧٨ ق.م. ( )
- 2  انحصرت العلاقات السياسية الدولية وقلت بعد الثورة الصناعية. ( )
- 3  تشعبت العلاقات الدولية بين دول العالم في الوقت الحالي. ( )
- 4  يعد (موقع الدولة) أحد العوامل المؤثرة في علاقاتها الدولية. ( )
- 5  أصبحت (الصين) ذات ثقل سياسي وتخشاها القوى الكبرى. ( )
- 6  لا يؤثر عدد السكان في العلاقات السياسية الدولية. ( )
- 7  كان من أبرز نتائج الحرب العالمية الأولى ، نشأة عصبة الأمم. ( )
- 8  تم اختيار مدينة (واشنطن) لكي تكون مقراً دائماً للأمم المتحدة. ( )
- 9  ليس هناك وسيلة لحل المنازعات بين الدول إلا الحرب المسلحة. ( )
- 10  يعد (التحكيم) أحد الطرق التي اتبعتها الدول لحل النزاعات سلمياً. ( )
- 11  أصبحت (الصين) ذات ثقل سياسي ، وتخشاها الدول الكبرى. ( )
- 12  تعتبر (المساعي الحميدة) من أهم وسائل حل المنازعات وقت السلم. ( )

### 4

دلل جغرافياً على صحة أو خطأ العبارات التالية

- 1  مرّت تطور العلاقات الدولية بعدة مراحل. ( )
- 2  تتأثر العلاقات الدولية سلباً وإيجاباً بعدة عوامل. ( )
- 3  تشعبت العلاقات بين دول العالم في الوقت الحاضر. ( )
- 4  هناك عدّة طرق وأساليب لحلّ النزاعات بطرق سلمية. ( )
- 5  كان لانتشار الحروب أثره في إنشاء المنظمات الدولية. ( )
- 6  تلعب قوة الدولة في المجال العسكري دوراً مؤثراً في العلاقات الدولية. ( )
- 7  تضافر العديد من العوامل أدى إلى فشل عصبة الأمم. ( )
- 8  رغم الجهود التي تبذلها هيئة الأمم المتحدة إلا أنه يؤخذ عليها عدّة اعتبارات. ( )

ث.ع دور اول ٢٠١٩

ث.ع دور اول ٢٠١٨





## 5 عرف ما يلي

- ١ العلاقات الدولية.
- ٢ عصبة الأمم.
- ٣ الحرب.
- ٤ الأمم المتحدة.

## 6 وضح ما يلي

- ١ أمثلة للعلاقات الدولية التي تمت في العصور القديمة والوسطى.
  - ٢ الأهداف التي تم الاتفاق عليها في مؤتمر (سان فرانسيسكو).
  - ٣ النقد الموجّه للجهود التي تبذلها الهيئة العامة للأمم المتحدة.
  - ٤ أهداف ومهام الأمم المتحدة.
- زهر دور أول ٢٠١٩  
ش.ع دور أول ٢٠١٩

## 7 قارن بين كلا من

- ١ العلاقات الدولية قديماً ، و حديثاً.
- ٢ طبيعة العلاقات الدولية في السلم ، و الحرب.
- ٣ العلاقات الدولية و ما يترتب عليها في وقت السلم ، و وقت الحرب.
- ٤ عصبة الأمم ، و الأمم المتحدة .. من حيث أسباب النشأة.

## 8 ما العلاقة بين كلا من

- ١ العلاقات الدولية ، و الثورة الصناعية.
- ٢ العلاقات الدولية ، و مساحة الدولة.
- ٣ حجم سكان (الصين) ، و علاقاتها الدولية.
- ٤ الحروب ، و نشأة المنظمات الدولية.
- ٥ منظمة الأمم المتحدة و النواحي الإنسانية.
- ٦ الثورة الصناعية على العلاقات الدولية؟





## الفصل الثاني النظام العالمي الجديد

1

### أختر الأجابة الصحيحة مما بين القوسين

- ١  للنظام العالمي الجديد عدة أهداف مُعلنة منها .....  
(نشر قيم الديمقراطية - نشر الثقافة الغربية - احترام عُصبة الأمم - حماية الدول المتقدمة للنامية)
- ٢  يُطلق اسم ..... على الثورة الصناعية الثالثة.  
(الثورة المعلوماتية - العولمة - الكوميسا - النافتا)
- ٣  تُعد دول أفريقيا مَطمَعًا للدول المتقدمة بسبب توافر المواد الخام التي تدخل في الصناعات التكنولوجية مثل: .....  
(الخامات الزراعية كالقطن-الخامات المعدنية كاليورانيوم- مصادر الطاقة كالبتترول-الخامات المعدنية كالذهب)
- ٤  في مجال المواجهة؛ قام (الاتحاد السوفيتي) بمحاصرة مدينة .....  
(باريس - برلين - ميلانو - برشلونته)
- ٥  أول مَنْ طرح فكرة النظام العالمي الجديد؛ الرئيس الأمريكي .....  
(ويلسون - كلينتون - كارتر - ترومان)

2

### بم تفسر

- ١  توجد مُتغيرات أدت إلى الإعلان عن ضرورة إقامة نظام عالمي جديد؟
- ٢  كان ظهور النظام العالمي الجديد آثاره السلبية على دول العالم المتقدم والنامي؟
- ٣  حتمية ظهور النظام العالمي الجديد؟
- ٤  لم يكن النظام العالمي الجديد ثمرة اتفاق؟
- ٥  قيام النظام العالمي الجديد على مجموعة من المبادئ؟
- ٦  يتميز النظام العالمي الجديد بعدة خصائص؟
- ٧  أهمية الثورة الصناعية السوفيتي سابقاً؟
- ٨  الصراع الرأهن في النظام العالمي الثالثة؟
- ٩  سقوط وانهايارالاتحاد الجديد حول (التكنولوجيا)؟



- ١٠ ظهور سياسية التقارب والانفتاح على أساس المصالح المشتركة بين الولايات المتحدة والاتحاد السوفيتي؟
- ١١ الصراع بين الدول المتقدمة على المواد الخام المستخدمة بالصناعات التكنولوجية المتطورة؟
- ١٢ اعتمد النظام العالمي الجديد على مبدأ المشروعية الدولية؟

3

ضع علامة (✓) أو (×) فيما يلي مع ذكر السبب في العالين

- ١ أعلن (جورباتشوف) عن مجموعة من المبادئ الحاكمة للعلاقات بين الولايات المتحدة والاتحاد السوفيتي بنهاية الحرب الباردة. ( )
- ٢ اهتمت الدول الغربية في النظام العالمي للدول النامية بدلاً من دول أوروبا الشرقية. ( )
- ٣ توظيف التكنولوجيا من أجل الوصول إلى أعلى معدلات الإنتاج من أبرز مظاهر تأثير النظام العالمي الجديد على الدول المتقدمة و النامية. ( )
- ٤ سقوط (الاتحاد السوفيتي) جرس إنذار للدول النامية. ( )
- ٥ يعاني العالم حالياً من احتكار مطلق للسلاح والمال والتكنولوجيا من دول الغرب الرأسمالية على حساب الدول النامية. ( )
- ٦ الصراع الخفي في النظام العالمي الجديد حول المال. ( )
- ٧ يعد الرئيس الأمريكي ويلسون أول من طرح فكرة نظام عالمي جديد. ( )
- ٨ تقوم العلاقات الدولية على مبدأ توازن المصالح بدلاً من توازن القوى. ( )

4

دل جغرافياً على صحة أو خطأ العبارات التالية

- ١ النظام العالمي الجديد ليس وليد الأحداث السياسية العالمية الحالية. ( )
- ٢ اختلفت السيادة الوطنية للدول داخل النظام العالمي الجديد. ( )
- ٣ توجد خلفية تاريخية للنظام العالمي الجديد. ( )
- ٤ سقط التوازن الدولي في النظام العالمي الجديد. ( )
- ٥ لم يكن النظام العالمي الجديد ثمرة اتفاق بين الدول ، وإنما فرضته الظروف بعد الحرب الباردة. ( )
- ٦ للنظام العالمي الجديد العديد من المتغيرات. ( )
- ٧ هناك العديد من الأهداف المعلنة في النظام العالمي الجديد. ( )
- ٨ يتميز النظام العالمي الجديد بعدة خصائص. ( )



5

عرف ما يلي

- 1 النظام العالمي الجديد.
- 2 الثورة الصناعية الثالثة.

ش.ع دور أول ٢٠١٩

6

وضح ما يلي

- 1 المبادئ الحاكمة التي أعلنها (جورباتشوف) كمبادئ حاكمة بين الولايات المتحدة الأمريكية والاتحاد السوفيتي.
- 2 كيفية الاستفادة من إيجابيات العولمة ، وتجنب سلبياتها.

7

قارن بين كلام من

تأثير النظام العالمي الجديد على الدول النامية ، والمتقدمة.

8

ما العلاقة بين كلام من

- 1 الرئيس (جورباتشوف) ، و النظام العالمي الجديد؟
- 2 الولايات المتحدة الأمريكية ، و النظام العالمي الجديد؟

9

ما النتائج المترتبة على

- 1 انفراد (الولايات المتحدة الأمريكية) بقيادة العالم؟
- 2 سقوط (الاتحاد السوفيتي) على النظام العالمي الجديد؟
- 3 النظام العالمي الجديد بالنسبة للدول النامية و المتقدمة؟
- 4 احتكار دول الغرب الرأسمالية لسلح و المال و التكنولوجيا؟
- 5 إعلان (ترامب) نقل السفارة الأمريكية بإسرائيل إلى (القدس)؟
- 6 الثورة الصناعية الثالثة.
- 7 تحرير التجارة العالمية في السنوات الأخيرة.
- 8 التطورات و التغييرات التي حدثت على الساحة الدولية في السنوات الأخيرة.





ماذا يحدث إذا

- 1 تعاون العالم من أجل مواجهة المشكلات الاقتصادية.
- 2 انهارت القوة الاقتصادية لأمريكا ، وأثر ذلك على النظام العالمي الجديد.
- 3 اتحدت الدول العربية في كتل واحد ، وأثر ذلك على النظام العالمي الجديد.
- 4 استمر دور حركة الحياء الإيجابي و عدم الانحياز.
- 5 حصلت دول العالم النامي على السلاح و التكنولوجيا ذاتياً.

ماذا يحدث إذا

1 (( كان للأحداث المتسارعة على خريطة العالم دور رئيسي في إقامة نظام عالمي جديد ))

في ضوء ما سبق ... وضّح ..

- أ) ما المقصود بالنظام العالمي الجديد؟
- ب) ما هي أبرز متغيرات النظام العالمي الجديد؟
- ج) ما الآثار السلبية و الإيجابية للنظام العالمي الجديد (من وجهة نظرك)؟
- د) ما العلاقة بين إعادة البناء الاقتصادي لجورباتشوف، و المبادئ الحاكمة؟

2 (( هناك العديد من المشكلات التي تهدد أمن الأوطان و تدفعها للاندماج و التكتل ))

في ضوء ما سبق ... وضّح ..

- أ) أهم المشكلات التي تواجه الأوطان.
- ب) المبادئ الحاكمة للنظام العالمي الجديد.
- ج) هل ظهر مبدأ نزع الصفة الأيدلوجية في النظام العالمي الجديد؟

3 (( قال الرئيس الأمريكي جورج بوش الأب : إن ما يتعرض للخطر ليس بلدا صغيرا فحسب بل فكرة حيوية هي فكرة النظام العالمي الجديد ))

في ضوء ما سبق ... وضّح ..

- أ) ظهرت منطقة الشرق الأوسط في النظام العالمي الجديد كقوة عظمى ؛ ما رأيك.
- ب) لماذا ؛ تعاظم دور الشركات متعددة الجنسيات في النظام العالمي الجديد.
- ج) ما هو ؛ دور النظام العالمي الجديد في ثورات الربيع العربي؟



توقعات



العمر شد







١. **يم تفسر .. اختلفت مجالات الجغرافيا السياسية قديماً عن مجالات الجغرافيا السياسية حديثاً؟**
- أ. مجالات الجغرافيا السياسية قديماً ، الوحدات السياسية - العلاقات السياسية - المشكلات السياسية.
- ب. مجالات الجغرافيا السياسية حديثاً ، الدولة - التحليل السياسي للقوة - سياسة النظام العالمي.

٢. **يم تفسر .. التحليل السياسي للقوة أهم مجالات الجغرافيا السياسية حديثاً؟**
- يرتكز دور الجغرافيا السياسية على دراسة الأبعاد الجغرافية للصراع بين القوى المتنافسة على مسرح السياسة العالمية من خلال الاعتماد على نظريات نمو وتطور الدول وتوسعها على حساب غيرها كأساس لبقائها.

٣. **يم تفسر .. تتصف سياسة النظام العالمي بالشمولية؟**
- أ. يشمل التكتلات الاقتصادية مثل، السوق الأوروبية المشتركة و منظمة التجارة العالمية.
- ب. الأحلاف العسكرية.
- ج. ظاهرة العولمة التي ظهرت منذ التسعينيات من القرن العشرين.
- د. الأمن المائي والغذائي.
- هـ. المنظمات الدولية والإقليمية (الأمم المتحدة - جامعة الدول العربية).
- و. قضايا الطاقة.
- ز. آثار التدخلات العسكرية.

٤. **ما العلاقة بين تطور وسائل النقل الجوي والأقمار الصناعية؟**
- تطور وسائل النقل الجوي والأقمار الصناعية وأجهزة تحديد المواقع أدت لتوفير معلومات أكثر دقة عن...
١. الحدود السياسية بين الدول.
٢. الممرات الملاحية والمياه الإقليمية.
٣. مناطق النزاعات بين الدول.

٥. **ما العلاقة بين تقنيات الاستشعار عن بعد والجغرافيا السياسية؟**
- توفير مرئيات فضائية حديثة ودقيقة عن الدول (نشأتها ونموها وتطورها).
- توفير بيانات ومعلومات رقمية عن استخدامات الأراضي والثروات.
- تساعد متخذي القرار في اتخاذ القرارات السياسية الحكيمة.

٦. **شخصيات هامة ..**

١. **أرسطو .. أشهر من كتب في الجغرافيا السياسية - تناولت مؤلفاته الدولة المثالية وحدد أهم عناصر قوة أو ضعف الدول (عدد السكان - الموارد الاقتصادية - العلاقة بينهما) - اهتم بموقع الدولة الجغرافي وتأثير المناخ عليها - ناقش موضوع الحدود السياسية المحصنة.**



## المرشد في المراجعة النهائية

٢. ابن خلدون .. أبرز المفكرين المسلمين - أضاف للفكر الجغرافي (مقدمة التاريخ) - ركز على أهم ظاهرتين سياسيتين هما، القبيلة والمدينة - وضع الإطار العام لدورة حياة الدولة.
٣. فردريك راتزل .. جغرافي ألماني جاء على يديه الميلاد الحقيقي للجغرافيا السياسية ، حيث ... وضع أول مؤلف علمي عن الجغرافيا السياسية حمل اسمها الحالي - اعتبر أن الدولة كائن - ذكر أن الخريطة السياسية للعالم تشكلت نتيجة الصراعات بين الكائنات الحيّة - أثرت أفكاره كثيراً في التوسع الاستعماري لـ (ألمانيا).
٤. رودلف كيلين .. سويدي - أول من استخدم مصطلح (الجيوبولتيك) تركزت آراؤه حول نمو الدول عضوياً - اعتبر أن الأرض بمثابة جسم الدولة والعاصمة قلبها - اعتبر أن القوة في حياة الدولة هي أكثر أهمية من سيادة القانون .
- تعريف رودلف كيلين للجيوبولتيك .. دراسة الدولة كعضو جغرافي ، وأن الدولة تستخدم قوتها لتحقيق ...
١. هدف داخلي .. تحقيق الوحدة والانسجام بين أبناء شعبها.
  ٢. هدف خارجي .. حصول الدولة على حدود سياسية طبيعية - (الأكثر تعبيراً).

### ٧ ما الفرق بين الجغرافيا السياسية و الجيوبولتيك ؟

الجيوبولتيك	الجغرافيا السياسية
ترسم تصوراً لما يجب أن تكون عليه الدولة .	تدرس الكيان القائم للدولة كما هو فعلاً .
تتسم بالتطور والحركة .	تميل إلى الثبات .

### ٨ ما أوجه الشبه والاختلاف بين .. الأمة والدولة ؟

أوجه الاختلاف	أوجه الشبه
١. السُلطة : الأمة لا تتطلب سلطة حاكمة ، وهي المكوّن الأساسي للدولة .	عناصر التكويني من أرض وشعب .
٢. الدول : الأمة يمكن أن تعيش في أكثر من دولة ، لكل منها سلطاتها الخاصة بها .	
٣. اللغة والعادات والتقاليد : من عناصر الأمة الضرورية ، ولكنها غير ضرورية للدولة ؛ مثل .. الولايات المتحدة الأمريكية وسويسرا .	





## المُرشد في المراجعة النهائية

٩. بم تفسر .. موقع الدولة بالنسبة لدوائر العرض أهم من خطوط الطول؟

- تحديد الملامح العامة لمناخ الدولة.
- يؤثر في نشاط السكان.
- تحديد الظروف المناخية.

١٠. بم تفسر .. كثرة الدول المجاورة سلاح ذو حدين؟

- تحقيق التعاون ، و زيادة قوتها مثل، دول غرب أوروبا.
- مشكلات عديدة مع الجيران مثل، السودان.

١١. أهمية الدولة لا تقاس بالكيلومترات المربعة فقط؟

- حجم الموارد و تنوعها.
- عدد السكان و تناسبهم مع الموارد.
- النظم الاقتصادية والسياسية في الدولة.
- قدرة السكان على استغلال الموارد.
- سهولة الاتصال بكافة أرجاء الدولة.

١٢. ما هي مميزات الشكل المنتظم (المدمج)؟

- قدرة الحكومة على الاتصال و السيطرة على أجزاء الدولة.
- حُسن الإدارة الداخلية للدولة.
- يقلل من الاحتكاك و النزاع على الحدود.
- توفر لجيشها حرية الحركة.

١٣. بم تفسر .. موقع دولة أفغانستان (أي دولة حبيسة) يسبب لها مشاكل؟

- لأن دولة (أفغانستان) من الدول الحبيسة ، و عليها المرور في أراضي الدول المجاورة.

١٤. بم تفسر: الشكل السطيل من الشمال إلى الجنوب له مزايا و عيوب (النرويج - شيلي)؟

- مزايا : تنوع المناخ والإنتاج في الدولة .
- عيوب : مشاكل سياسية فيما يتعلق بالاتصال بين أجزاء الدولة أو الدفاع عنها .

١٥. بم تفسر .. يؤثر المناخ في تحديد أهمية الدولة ووزنها السياسي؟

- يؤثر المناخ في العديد من الأنشطة البشرية و الاقتصادية ، حيث يعتبر مورداً من موارد الدولة ، كما أنه يساعد في تقدمها و تطورها.
- المناخ المعتدل يزيد من فاعلية الأنشطة البشرية و قوة الدولة ، كما في حوض البحر المتوسط.
- المناخ المتطرف يحد من فاعلية الأنشطة البشرية ، و يجعلها مناطق خالية أو قليلة من السكان مثل: شمال روسيا و كندا بفضل البرودة ، أو الصحارى الحارة في شمال أفريقيا.





## المُرشد في المراجعة النهائية

### ١٦ ما النتائج المترتبة على الشكل المحتوى ؟

١. تتبع الدولة المحاطة في سياستها الداخلية والخارجية.
٢. يضعف قوتها السياسية والاقتصادية والعسكرية.
٢. عليها أن تحافظ على علاقات ودية مع الدول المحيطة.

### ١٧ ما النتائج المترتبة على التنوع المناخي في الدولة ؟

١. الاقتراب من درجة الاكتفاء الذاتي.
٢. التنوع في الإنتاج الزراعي.
٢. تنوع الأنشطة الاقتصادية.
٤. التكامل بين اقاليم الدولة وتعزيز وحدتها الوطنية.

### ١٨ بم تفسر: أسهم التقدم العلمي والتكنولوجي في الحد من أثر المناخ السلبي على الدولة ؟

١. التقدم في وسائل النقل والمواصلات.
٢. وسائل التكييف.
٣. الزراعة الحديثة في البيوت البلاستيكية.

### ١٩ بم تفسر .. تختلف دول العالم من حيث المظهر التضاريسي السائد في أراضيها؟

- دول يغلب على أراضيها الطابع السهلي (هولندا - الدنمارك - ألمانيا).
- دول يغلب على أراضيها الطابع الجبلي (سويسرا - اليابان).

### ٢٠ بم تفسر .. تفضل بعض الأمم عادة أن تنشأ في مناطق مرتفعة؟

- مناطق محمية.
- تكشف ما حولها من مناطق مجاورة.
- تبسط نفوذها على السهول المجاورة.

### ٢١ بم تفسر .. تشير الأنهار الدولية التي تشترك فيها أكثر من دولة مشاكل سياسية بين الدول ؟

- حق اقتسام المياه.
- حق الملاحة الدولية.
- دول يمثل أحد الأنهار طرق اتصالها بالخارج .. الراين ، الدانوب .

### ٢٢ بم تفسر .. لمرات سيناء الجبلية أهمية كبيرة ؟

- توجد إلى الشرق من قناة السويس ، وتمثل خط الدفاع الأمامي عنها.
- تمثل أهمية إستراتيجية كبرى " خط المضائق " .





المناطق السهلية	المناطق المرتفعة للدولة	أوجه المقارنة
١. تنوع الإنتاج الزراعي و وفرتة ... كالمناطق السهلية لنهر النيل في مصر. ٢. تطور العمران والأنشطة الصناعية والتجارية، نظراً لسهولة النقل والمواصلات وانشاء البنية التحتية.	١. تمنح الجبال الدولة مزيداً من القوة؛ لأنها تشكل موقعاً إستراتيجياً في المراقبة و الدفاع. ٢. تشكل الجبال حدوداً طبيعية واضحة بين كثير من الدول، كجبال البرانس بين إسبانيا وفرنسا. ٣. تمثل المناطق الجبلية في كثير من الدول أهمية اقتصادية (مناطق سياحية)؛ إما للاصطياف مثل: جبال بلاد الشام؛ أو مناطق للتزلج على الثلوج شتاءً مثل: جبال الألب في أوروبا. ٤. توجد بها الثروات المعدنية التي تعد أساس الصناعة.	المزايا
تجعل الدولة مكشوفة (غير منيعت) أثناء تعرضها للاحتلال.	١. صعوبة الاتصال بين أجزاء الدولة. ٢. إعاقة تحقيق التنمية الشاملة. ٣. تعزيز روح الانفصال لبعض الأقليات مثل .. إقليم كتالونيا في إسبانيا.	العيوب

### ٢٤ ما العلاقة بين .. حجم سكان الدولة ، وقوة ووزنها السياسي؟

الدول العظمى في العالم و التي تتمتع بالعضوية الدائمة في مجلس الأمن ذات حجم سكاني كبير مثل: ( أمريكا ، الصين ، بريطانيا، فرنسا ، روسيا ) حيث أن كثرة عدد السكان مع توافر مقومات أخرى أصبحت تؤدي دوراً مهماً في العالم.

### ٢٥ ما رأيك في .. استخدام الدول العربية للبترول كسلاح؟

يعد البترول مورداً اقتصادياً يمكن الدول العربية المنتجة أن تستخدمه كسلاح لتحقيق الأهداف السياسية و الاقتصادية للأمم العربية.





## المرشد في المراجعة النهائية

٢٦ **بم تفسر .. توجد صعوبة كبيرة في هزيمة الدول التي تتسم بالكثافة السكانية العالية؟**

حتى لو تمكنت دولة قليلة السكان من هزيمة دولة أكبر منها سكاناً فمن الصعب السيطرة عليها و احتلالها ، لأن احتلال أراضى كثيفة السكان يستلزم أعداداً كبيرة من القوات العسكرية وهو غير متاح في الدول قليلة السكان.

٢٧ **بم تفسر .. يعد التركيب العمري للسكان أحد عوامل قوة الدولة؟**

أ. الدول النامية ترتفع فيها نسبة الأطفال دون سن الخامسة ، مما يؤدي لارتفاع نسبة الإعالة .  
ب. الدول النامية ترتفع فيها نسبة الشباب الذين يشكلون أساس القوى العاملة و لكن بأجور منخفضة.

٢٨ **بم تفسر .. تلعب اللغة دوراً مهماً في بناء الدولة وقوتها السياسية؟**

أ. وحدة اللغة تؤدي إلى قوة الدولة وتماسكها .  
ب. تعدد اللغات يؤدي إلى ضعف الدولة و تضككها ، خاصة إذا كانت الدول تضم أقليات لغوية ذات نزعة انفصالية.  
ج. هناك بعض الدول يوجد فيها أكثر من لغة رسمية مثل سويسرا ، ولم يؤثر ذلك على قوة الدولة و تماسكها.  
د. تمتاز الأقطار العربية ببساطة التركيب اللغوي ، حيث أن جميع السكان يتحدثون اللغة العربية وهو عامل مهم في توحيد الشعوب العربية.

٢٩ **بم تفسر .. تعد الجوانب الاقتصادية من أهم مقومات الدولة؟**

أ. وزن الدولة على المستوى العالمي يتحدد في المقام الأول بناء على ما تملكه من موارد اقتصادية وقدرة السكان على استقلال الموارد.  
ب. سلوك الدولة السياسي تابع من خلفيتها الاقتصادية.

٣٠ **بم تفسر .. تعتبر الصناعة ركيزة أساسية من ركائز اقتصاد أي دولة؟**

أ. كل قوى كبرى عالمية هي قوى صناعية و لا يمكن لأي سياسة سواء دفاعية أو هجومية أن تكون ذات أثر إذا لم تساندها قدرة على تصنيع الآلات الحربية.  
ب. تعتبر الصناعات الإستراتيجية هي التي تعطى للدولة أهمية خاصة كصناعة صهر المعادن و الصناعات الهندسية و الصواريخ.  
ج. مصطلح (الدول الصناعية) أصبح مرادفاً للدول المتقدمة و مرادفاً للدول الغنية.  
د. الدول غير الصناعية تتميز بضعف اقتصادها و انخفاض مستوى معيشة سكانها.





## المرشد في المراجعة النهائية

٣١ ما النتائج المترتبة على .. وجود نظام نقل متطور ومتكامل؟

أ. نجاح خطط التنمية.

ب. سهولة سيطرة الحكومة على جميع أنحاء الدولة.

ج. يعطى للجيش سهولة الحركة وقت الحرب.

٣٢ ما العلاقة بين .. مساحة الدولة وقوتها؟

كلما زادت مساحة الدولة زاد احتمال قدرتها على الاكتفاء الذاتي من الغذاء ، فإذا اكتفت الدولة غذائياً أصبحت ميزة كبرى مثل: الصين ؛ كما يُعد توفر المواد الخام اللازمة للإنتاج الصناعي و العسكري أمراً مهماً في تحديد قوة الدول الضخمة جداً.

٣٣ ما العلاقة بين .. شكل الدولة وقوتها؟

- يُعد شكل الدولة ميزة مهمة لأراضي الدولة ، حيث يؤثر على :

أ. سهولة الإدارة الداخلية والتماسك الاجتماعي.

ب. يقلل أو يزيد من النزاعات مع الدول الأخرى بسبب الحدود و طولها وإمكانات الاتصال.

٣٤ المؤشر الحقيقي للقوة العسكرية ليس عدد أفراد جيشها فقط .. دكل .

أ. نوعية المقاتل و درجة تعلمه وإخلاصه و دواقعه .

ب. امتلاك الدولة جهاز مخابرات حربية ذو كفاءة عالية .

٣٥ ما هي وظائف النظام السياسي في صورته الاجتماعية؟

أ. إدارة موارد المجتمع.

ب. تحقيق الأمن الداخلي و الخارجي.

ج. تحقيق أكبر قدر من المصالح العامة.

د. الحد من التناقضات الاجتماعية.

٣٦ بم تفسر .. من الخطأ أن تمنح جهة واحدة حق ممارسة جميع السلطات؟

لأن ذلك يؤدي إلى .. تجاوزات تضر بمصالح الأفراد .

٣٧ بم تفسر .. ليس هناك نظام حكم مثالي لكل المجتمعات؟

لكل نظام مميزاته و عيوبه و المجتمعات تختلف حضارياً و ثقافياً و جغرافياً ؛ لكن الأهم مبدأ الفصل بين السلطات.

٣٨ ما هي شروط الانتخابات؟

تعبّر عن رأي الأغلبية.





## المرشد في المراجعة النهائية

٣٩ ما هي مكونات ومقومات عملية النظام الانتخابي؟

- أ. تقسيم الدوائر.  
ب. الترشح للانتخابات.  
ج. فرز الأصوات.  
د. تحديد الفائزين.

٤٠ بم تفسر .. الحدود السياسية ظاهرة بشرية؟

لأن الإنسان قام بتخطيطها تبعاً لمصالحه الاقتصادية والعسكرية والسياسية

٤١ بم تفسر .. الحدود قلماً تفصل فصلاً تاماً بين الشعوب؟

بسبب الاختلاط و التداخل بين سكان الدول المتجاورة كالحدود بين الدول العربية.

٤٢ ما النتائج المترتبة على .. زيادة عدد السكان بالنسبة للحدود السياسية؟

- أ. التوسع في مناطق التخوم المجاورة.  
ب. التقدم في وسائل النقل والمواصلات.  
ج. التقاء الدول مع بعضها.  
د. نشأة الحدود السياسية.  
مثال: قامت قارة أوروبا بإزالة الغابات ، فأنكشفت الأرض و رسمت الحدود الخطية للفصل بين الدول بدلا من التخوم.

٤٣ ما النتائج المترتبة على .. تصفية الاستعمار لمستعمراته؟

نشأة الكثير من الحدود الخطية خاصة في المستعمرات الأوربية في أفريقيا وآسيا وأمريكا الجنوبية .

٤٤ قارن بين المرحلة الثانية ، المرحلة الثالثة من مراحل الحدود السياسية؟

" المرحلة الثانية " ( التحديد )

- يتم في هذه المرحلة تحديد الحد ، حيث تستعين اللجنة الجغرافية بالخرائط التفصيلية والصور الجوية والمرئيات الفضائية .

- تظهر في هذه المرحلة المسائل الصغيرة كمزرعة ، مما يؤدي لتغيير مسار الحد عدة مئات قليلة من الأمتار .

" المرحلة الثالثة " ( التعيين )

- في هذه المرحلة يتم تعيين خط الحد على الطبيعة وتحقيقه على الخريطة ، حيث يستعان بعدة أشياء

.....

- أ. نصوص المعاهدة .  
ب. المعلومات التي جمعها الجغرافيون .  
ج. الخرائط التفصيلية .  
- تستخدم طرق مختلفة في توضيح الحد مثل: الأسلاك الشائكة وأعمدة حجرية أو الأسمنت أو الأسوار .





٤٥ ما هي الأمور التي يتم الاتفاق عليها في مرحلة إدارة الحد ؟  
أ. منافذ عبور الحد. ب. نقاط التفطيش و الجمارك و الحراسة. ج. لجان فض المنازعات.

٤٦ ما هي وظائف الحدود السياسية ؟

أ. الفصل بين الدول.  
ب. الحماية و الأمن.  
ج. الحماية الاقتصادية.  
د. الوظيفة القانونية للحد.

٤٧ بم تفسر .. تعد الحماية و الأمن الوظيفة الأكثر أهمية للحدود السياسية ؟

أ. الغرض الأساسي من إقامة الحدود هو الأمن و الحماية من الاعتداءات المفاجئة.  
ب. تتركز الدفاعات العسكرية على طول الحدود منعاً لأخطار الغزو و التهريب.

٤٨ بم تفسر .. أسقطت التقنيات الحديثة وظيفة الحد الأمن ؟

بسبب التطورات الحديثة التي طرأت على وسائل الحرب خاصة في مداها و سرعتها و فاعلية تدميرها و تخطيها للعقبات خاصة العقبات الطبيعية كالجبال .

٤٩ بم تفسر .. تقوم الحدود السياسية بوظيفة الحماية الاقتصادية ؟

أ. تعيين حدودها بدقة حتى لا تحدث منازعات بين الدول.  
ب. عقد اتفاقيات خاصة بنصيب كل دولة من الثروات على الحدود كالبتروول و الغاز الطبيعي و المعادن .  
ج. تراقب الدول تدفق السلع و البضائع في الاتجاهين.  
د. تحاول منع تهريب السلع.  
هـ. تحدد الدول الرسوم الجمركية على السلع المستوردة.  
و. حماية المواطنين من خلال فحص المنتجات المستوردة.

٥٠ بم تفسر .. تقوم الحدود السياسية بالوظيفة السياسية و القانونية ؟

أ. منع دخول الأشخاص غير المرغوب فيهم أيد لوجياً.  
ب. منع عبور الصحف و المجالات و الكتب التي تضر بسلامة الوطن.  
ج. الحد السياسي يحدد القوانين التي سيخضع لها كل فرد من الأفراد داخل حدود الدولة ، وإن لم يكن من مواطنيها.





## المُرشد في المراجعة النهائية

٥١ ما هي : مميزات الجبال كحدود .

- ظاهرة دائمة ومرئية وصرة ، قليلة السكان ، ويقتصر عبورها على ممرات معينة.
- عامل فصل يعرقل حركة الانتقال على جانبيها.
- خطوط دفاعية تستغلها الدول في إقامة تحصينات عليها ضد أي غزو خارجي.

٥٢ قارن بين : شكل الحدود السياسية على الجبال ، شكل الحدود السياسية على الأنهار ، شكل الحدود على البحيرات؟

أ. شكل الحدود السياسية على الجبال

- يمتد مع خط تقسيم المياه ، وهو أفضل الحدود السياسية في المناطق الجبلية .
- عند أقدم الجبال ،
- على طول منحدراته .

ب. شكل الحدود السياسية على الأنهار

- خط المنتصف (الوسط) مثل: نهر ريو جراند بين أمريكا و المكسيك.
- خط العمق الملاحي مثل: نهر الراين بين فرنسا وألمانيا .
- إحدى ضفتي النهر مثل: نهر بوج - منطقة شط العرب .

ج. شكل الحدود السياسية على البحيرات

- مع الخط الأوسط ، مثل: البحيرات العظمى بين كندا وأمريكا .
- تسير وفقا لاتفاقيات محددة ، كما في بحيرة فيكتوريا .

٥٣ تكلم عن أنواع المناطق المائية.

١. المياه الداخلية: تضم كل الأشكال المائية المتصلة بالبحر ، وتقع فوق يابس الدولة ، وهي جزء من أرض الدولة ، لأنها محاطة بيابس الدولة ، ولا تعتبر جزءً من المياه الإقليمية .
٢. المياه الإقليمية: نطاق من المياه البحرية تحدد حافته الخارجية من جهة البحر وتمثل الحد السياسي البحري للدولة وتمارس عليها الدولة سيادتها تماما وتخضع السفن لقوانين الدولة .
٣. المياه التكميلية أو الملاصقة: تمتد من نهاية المياه الإقليمية إلى مسافة محددة في اتجاه البحر ، وتمارس الدولة سلطات جمركية وإجراءات خاصة بالرقابة لتحقيق الأمن والسلامة لها .
٤. المياه المحايدة: منطقة تلي المياه التكميلية تجاه البحر وتدعى بعض الدول سيادتها وتمنع ممارستها العمليات العسكرية الأجنبية ، وحددت بعض الدول القوية لنفسها مناطق في وسط المحيط لتجرى فيها تجاريتها النووية.





٥. أعالي البحار (المياه الدولية) ، مناطق بحرية مفتوحة للجميع بدون قيود ولا تدعي دولة ملكيتها.
٦. الرصيف القاري : امتداد لليابس تحت مياه البحر ، ويمتد من خط الساحل حتى عمق ١٠٠ قامة ، و للدولة حق استكشاف الموارد ، و ظهرت قيمته بعد اكتشاف البترول أمام سواحل بعض الدول.

### ٥٤ بم تفسر - شهدت خريطة العالم السياسية تغيرات في القرن العشرين؟

- أ. التغيرات في أوائل القرن العشرين - نتجت عن الحرب العالمية الأولى والثانية تغيرات ، حيث اختفت دول وظهرت دول وعدلت حدود دول واختفت إمبراطوريات وحل محلها قوى عظمى ، وانقسمت ألمانيا إلى ألمانيا الشرقية والغربية .
- ب. التغيرات في النصف الثاني من القرن العشرين - هي بداية الخمسينات ظهر التنافس بين قوتين تنازعتا السيادة على خريطة العالم ، الكتلة الشيوعية بزعامة الاتحاد السوفيتي ، والكتلة الرأسمالية بزعامة الولايات المتحدة الأمريكية ، وبينهما مجموعة دول عدم الانحياز.
- ج. التغيرات في أواخر القرن العشرين - انهيار الكتلة الشيوعية بزعامة الاتحاد السوفيتي ، وانفراط عقد حلفها العسكري (وارسو) - تفتت الاتحاد السوفيتي إلى دول - انفراط عقد دولة يوغسلافيا واتحاد الألمانيتين - انتصار الرأسمالية بزعامة الولايات المتحدة الأمريكية.

### ٥٥ ما هي التغيرات التي تؤثر على مستقبل خريطة العالم السياسية؟

١. انتهاء الصراع الأيديولوجي بين الكتلة الشيوعية والرأسمالية بانهيار الاتحاد السوفيتي.
٢. سياسة الاحتواء و توسع حلف (الناطو) شرقاً على حساب حلف (وارسو).
٣. العولمة و ظهور الشركات متعددة الجنسيات ، مما هدد السيادة القومية للدول.
٤. البنك الدولي و صندوق النقد الدولي وقد خله في سياسات الدول وأثر ذلك على استقرارها وسيادتها.
٥. سباق التسلح في الشرق الأوسط.
٦. ثورة الاتصالات الحديثة وأثرها في نشر الوعي بين الشعوب.
٧. قضية اللاجئين والهجرة غير الشرعية.
٨. الصراع على المياه.





## المُرشد في المراجعة النهائية

٥٦) **بم تفسر ..** كان للاستعمار دور كبير في مشكلة (سبتة ومليلة) ؟

احتلت (أسبانيا) سبتة عام ١٤١٥ م ، ومليلة عام ١٤٥٩ م ، ثم وقعت المغرب فريسة للاستعمار الفرنسي حتى استقلت عام ١٩٥٦ م ، مع بقاء (سبتة ومليلة) في يد الأسبان.

٥٧) **بم تفسر ..** تمسك الأسبان بمدينتي (سبتة ومليلة) ؟

١. التقادم .. أي أنه منذ القدم وأسبانيا تسيطر على (سبتة ومليلة) ، حيث أن نسبة الأسبان بهما تصل إلى ٦٠% .

٢. المدينتان غير مسجلتين ضمن الأراضي غير المستقلة لدى الأمم المتحدة عام ١٩٤٧ م.

٣. الموقع الجغرافي المتميز للمدينتين.

٥٨) **بم تفسر ..** للاستعمار دور كبير في مشكلة (كشمير) ؟

١. قامت بريطانيا عام ١٩٤٧ م بتقسيم الهند إلى قسمين ، (الهند) وتضم الأغلبية الهندوسية ، و(باكستان) وتضم الأغلبية المسلمة ؛ ثم قسمت باكستان إلى (شرقية) و(غربية) .

٢. رغم أن الديانة السائدة في (كشمير) هي الإسلام ، إلا أن السلطة الحاكمة هندوسية .

٥٩) **ما موقف الأمم المتحدة من مشكلتي (سبتة ومليلة) و (كشمير) ؟**

أ. مشكلة سبتة ومليلة (طالب مجلس الأمن من أسبانيا والمغرب تسوية الخلافات عن طريق الحوار) .

ب. مشكلة كشمير ، (وقف إطلاق النار - تجريد كشمير من السلاح - استفتاء لتقرير المصير) .

٦٠) **ما هي .. أسباب النزاعات السياسية بين الرعاة على الحدود ؟**

١. زيادة عدد السكان حيث حوّلت بعض الدول جزءاً من أراضيها الرعوية إلى الزراعة ، وبالتالي تقلصت المراعى وأصبح هناك نزاعات بين الرعاة والمزارعين داخل دول عديدة في أفريقيا .

٢. آثار رسم الحدود في (إقليم السافانا) العديد من المشاكل السياسية (غرب السودان) .

٣. تحصيل الضرائب و الرسوم من الرعاة الناتجة عن ترسيم الحدود .

٤. التغيرات المناخية التي شهدتها دول غرب أفريقيا - وما حدث من هلاك ملايين الحيوانات وهجرة السكان إلى المدن أو حرقها الزراعة ، وكل ذلك أدى لوجود مشاكل سياسية .

٦١) **اذكر .. بعض من نماذج لاتفاقيات خاصة بتنظيم حركة الرعاة.**

أ. موريتانيا و السنغال ١٩٨١ م.

ب. بوركينافاسو و النيجر عام ٢٠٠٣ م.



- ج. السعودية و اليمن لتعميم حركة الرعي في نطاق ٢٠ كم على الجانبين.  
 د. دول غرب أفريقيا (الإيكواس) [١٦] دولة ١٩٩٨م.  
 هـ. اللجنة العليا للتعاون بين موريتانيا و مالي.

٦١) **بم تفسر .. وظيفة الحد المائي لا تقل أهمية وخطورة عن الحد البري ؟**

- لأن الحد البحري يقوم بعدة وظائف للدولة ، منها ...  
 أ. حماية حدودها البحرية من السفن المشبوهة.  
 ب. منع تهريب البضائع.  
 ج. استغلال المصايد و الثروات في مياهها الإقليمية.  
 د. وقاية الدولة من أي أوبئة أو أمراض تدخل إليها من السفن القادمة.  
 هـ. استقرار حدود الدولة البرية والبحرية من العوامل المؤثرة في سلوك الدولة و استقرارها.  
 و. تحديد المياه الإقليمية ضمن للدولة حقوقاً مختلفة اقتصادياً أو عسكرياً.  
 ز. الحد البحري يكون النزاع عليه مع كل دول العالم و ليس دولة واحدة و يجب تحديده بكل دقة.

٦٢) **بم تفسر .. زادت أهمية الأرصفة القارية في الفترة الأخيرة ؟**

- نتيجة اكتشاف العديد من الثروات المدفونة في قاع المسطحات المائية مثل: (المصايد - البترول والغاز الطبيعي)، كما في (بحر الشمال - خليج المكسيك - الخليج العربي - شرق البحر المتوسط).

٦٣) **تكلم عن .. مشكلة الرصيف البحري بين ليبيا و تونس.**

- ظهرت مشكلة الرصيف البحري بين (ليبيا و تونس) بعد ظهور حقول الغاز و البترول.  
 - طالبت (ليبيا) أن يتجه الحد البحري إلى الشمال مباشرة في مياه هذا الرصيف.  
 - طالبت (تونس) بحد بحري ينحرف شرقاً بزاوية مقدارها ٤٥ درجة تقريباً.  
 - أصدرت محكمة العدل الدولية حكمها بأن يسير الحد البحري بين الدولتين بزاوية ٣٦ درجة ، ثم عدل بزاوية ٥٢ درجة ؛ لوجود الجزر التونسية و تغير اتجاه خط الساحل.  
 - بهذا الحكم أصبحت لتونس حقوق أساسية في حقول الغاز الطبيعي و البترول في هذه المنطقة.

٦٤) **دلل على صحة العبارة الآتية ... لعبت مصادر الطاقة دوراً بارزاً في الصراعات الدولية ..**

- لعب البترول منذ الحرب العالمية الثانية دوراً بارزاً في مسار الحرب و في اتجاه القوات المتصارعة ، حيث اندفعت الجيوش الألمانية نحو القوقاز أملاً في الحصول على بترول تلك البلاد ، خاصة أن مصادر الطاقة هي العمود الفقري للقوى المحركة في العالم.



٦٥ دتل على صحة العبارة الآتية.. أزمة الطاقة هي أزمة بتروول في المقام الأول

ظهرت الآثار الدولية للطاقة في المجالات التالية :

- العلاقات الدولية بين الدول الغربية و بعضها.
- العلاقات بين الدول الغربية و الدول النامية ، حيث رفعت من شأن دول العالم الثالث.
- الصراع العالمي على مصادر الطاقة وراء الكثير من الأزمات الدولية ، كما في منطقة الشرق الأوسط.

٦٦ يم تفسر .. ظهرت الكثير من المؤسسات الدولية المهتمة بالتعاون الدولي ؟

١. صندوق النقد الدولي ، مؤسسة نقدية دولية هدفها تنظيم القضايا النقدية الدولية.
٢. البنك الدولي للإنشاء و التعمير ، مساعدة الدول على تمويل استثماراتها لأغراض إنتاجية.
٣. مركز التجارة الدولي ، تطوير التعاون الدولي.
٤. منظمة الأمم المتحدة للتنمية الصناعية ، تهدف للتنمية الصناعية في الدول النامية.
٥. منظمة الأغذية و الزراعة " الفاو " ، رفع مستوى التغذية و تحسين كفاءة الإنتاج و العناية بالريف.

٦٧ أكمل العبارات الآتية ..

١. (مقدونيا و صربيا) يوجد بهما أقليات ..... ، بينما (البوسنة و الهرسك) بهما أقليات .....
٢. تركيا و إيران بهما أقليات .....
١. (مقدونيا و صربيا) يوجد بهما أقليات ألبانية ، بينما (البوسنة و الهرسك) بهما أقليات صربية ، و

كرواتية

٢. تركيا و إيران بهما أقليات كردية.

٦٨ يم تفسر .. ظهور حركة الأقليات ؟

- لأن حركة السكان منذ فجر التاريخ عبر الأوطان و الأقاليم و القارات أدت إلى اختلاط السكان ، و لم يعد هناك شعب نقي ، حيث اكتسب دماء جديدة و عناصر جنسية و قومية و ثقافية و افدة على هذا الشعب.

٦٩ يم تفسر ... الولايات المتحدة الأمريكية متحف لغوي ؟

- حيث وفد إليها من كافة أرجاء العالم سكان ينحدرون من أعراق مختلفة يتحدثون لغات مختلفة .



قارن بين .. الأقليات الدينية ، والأقليات العرقية.

الأقليات العرقية	الأقليات الدينية
" نتيجة حركة السكان على خريطة العالم منذ فجر التاريخ وإلى الآن.. انتشار الأعراق الأساسية في العالم ( القوقازية - المغولية - الزنجية) في كل قارات العالم .. ولا يمثل العرق أو السلالة مشكلة سياسية إلا حينما تظهر مشكلة التمييز العنصري بين أفراد وشعب كالزنج والبيض.	من أمثلتها " الأقليات المسلمة في دول أوروبا وأمريكا الشمالية والجنوبية - الأقليات المسيحية في العالم العربي - كل أتباع الديانات السماوية في دول مثل، الصين و اليابان و كوريا و الهند.

٢١ اهتمام كل العالم بمشكلة الأقليات ... "دليل" -

- اهتمت منظمة الأمم المتحدة عام ١٩٤٥م والإعلان العالمي لحقوق الإنسان بقضية التمييز بين البشر.
- ب. اتفاقية منظمة العمل الدولية - إعلان اليونسكو بشأن التمييز العنصري.
- ج. نص المادة ٢٧ من إعلان حقوق الإنسان.
- د. اهتمت الدول الأوروبية بمسألة الأقليات كما جاء في إعلان عام ١٩٩٢م.

٢٢ يم تفسر .. " تعد قضية التفرقة العنصرية من أيسح صور التمييز" ؟

- بسبب العرق أو اللون أو الدين ، كما كان يحدث في الولايات المتحدة الأمريكية.

٢٣ قارن بين .. التفرقة العنصرية في جنوب أفريقيا والولايات المتحدة ؟

أوجه المقارنة	في الولايات المتحدة لأمريكية	في جنوب أفريقيا
أطراف المشكلة	الزنج و البيض (مهاجرون).	الزنج هم الوطنيون أصحاب الأرض ، بينما البيض مهاجرون.
الأقلية و الأغلبية	الزنج هم الأقلية ، بينما البيض هم الأغلبية.	الزنج هم الأغلبية ، بينما البيض هم الأقلية.
نتائج الصراع	حصلت الأقلية الزنجية على حقوقها المدنية عام ١٩٦٨م بعد صراع طويل.	حصلت الأغلبية السوداء على حقوقها من عام ١٩٩٤م.



٧٤) ماذا يحدث إذا .. كانت الأقلية مركزاً جغرافياً في مكان ما؟

١. خطر على استقرار الدولة.
٢. فرصة لظهور الانفصال عن الدولة.
٣. تثير قلقاً سياسياً.

٧٥) ما العلاقة بين .. حجم الأقلية وقوتها الاقتصادية؟

- يتوقف أثر القلاقل السياسية التي تثيرها الأقلية على حجمها من مجموع السكان وقوتهم الاقتصادية ، فالبيض في اتحاد جنوب إفريقيا أقلية و لكنهم يسيطرون على حوالي ثلاثة أرباع اقتصاد الدولة ، وكذلك الألمان قبل الحرب العالمية الثانية بالنسبة لمنطقة الإلزاس و اللورين كانت تابعة فرنسا .

٧٦) دلت .. الهجرة الغير شرعية ظاهرة لا تقتصر على الدول النامية؟

- تحدث أيضاً في الدول المتقدمة ، كما حدث في أوروبا في الستينات حيث كان أصل هؤلاء المهاجرين من أسبانيا والبرتغال ودول المغرب العربي ، حيث كانت أوروبا بحاجة ماسة إلى مزيد من العمالة .

٧٦) كيف : تتعامل الدول مع الأقليات؟؟

- تلجأ بعض الدول للاعتراف بحرية الأقليات في لغتها القومية خوفاً من مطالبته تلك الأقليات بالاستقلال .. مثال .. الأكراد في شمال العراق .  
- بعض الدول تمنع استخدام الأقليات للغاتها .  
مثل إيطاليا ؛ حيث ترفض استخدام الأقلية النمساوية لغتها وتلزمها باستخدام اللغة الإيطالية في جميع مجالات الحياة .

٧٧) يم تفسر ... للهجرة دور في الصراعات السياسية المعاصرة؟

- أ. الصراع بين اليهود و الفلسطينيين .
- ب. مشكلة التفرقة العنصرية .
- ج. الاضطهاد الديني ، كما يحدث في جنوب شرق آسيا مع المسلمين .
- د. الاضطرابات السياسية التي تشهدها بعض الدول الأوربية .

٧٨) ما العلاقة بين : الإعلان العالمي لحقوق الإنسان و استقرار الدولة؟

اهتمت منذ عام ١٩٤٥ م و الإعلان العالمي لحقوق الإنسان الصادر عام ١٩٤٨ م .. بقضية التمييز بين البشر و بحقوقهم المدنية و السياسية و الاقتصادية و الاجتماعية و الثقافية .  
• تضمن الإعلان العالمي لحقوق الإنسان كافة الضمانات الدولية للأفراد و الذي اعتمد بقرار الجمعية العامة للأمم المتحدة المؤرخ في ١٨ / ١٢ / ١٩٩٢ م و خاصة نص المادة ٢٧ من الإعلان .



٧٩ ما العلاقة بين كل من.. حجم السكان والتكتلات الاقتصادية؟

١. الحجم السكاني المناسب يعني ضمان سوق بين دول التكتل تشجع على قيام الأنشطة الاقتصادية.
٢. وجود حجم من العمالة يكون قادراً على استغلال موارد الدول في التكتل لاسيما لو كانت العمالة على درجة عالية من المهارة.

٨٠ ما العلاقة بين .. التكنولوجيا والتكتل الاقتصادي؟

وجود مستوى تكنولوجي متقارب بين دول التكتل يساعد على أن تُعمر الفائدة كل الدول الأعضاء.

٨١ ما العلاقة بين .. العادات والتقاليد وقيام التكتلات الاقتصادية؟

- تشابه العادات والتقاليد يشجع على قيام التكتل واستمراره ، حيث أن التناظر الثقافي لا يساعد على قيام التكتلات الاقتصادية.

٨٢ ما العلاقة بين .. الموارد الاقتصادية وقيام التكتل الاقتصادي؟

- الموارد الاقتصادية عامل أساسي لنجاح التكتلات الاقتصادية ، ولا بد من تنوع الموارد ؛ لأن التكامل بطبيعته يقوم على التنوع لا التشابه ، وعدم توافر موارد طبيعية يكون حافزاً لبعض الدول لدخولها في التكامل مع غيرها من الدول التي تتوفر فيها هذه الموارد.

٨٣ ما العلاقة بين .. المقومات العسكرية وقيام التكتلات الاقتصادية؟

المقومات العسكرية ليست شرطاً لقيام التكتلات الاقتصادية و لكن وجود قوة عسكرية يُعد من مقومات نجاح أي تكتل ؛ لأن التكتل الاقتصادي يواجه منافسة من بقية التكتلات وأي قوة اقتصادية لا بد من وجود قوة عسكرية.

٨٤ تكلم عن أهداف قيام التكتلات الاقتصادية.

١. الحصول على مزايا الإنتاج الكبير.
٢. تنويع الإنتاج بطريقة اقتصادية.
٣. تخفيف أثر الصدمات الخارجية.
٤. رفع مستوى رفاهية المواطنين.
٥. تسهيل عملية التنمية الاقتصادية.
٦. تيسير الاستفادة من مهارات الأيدي العاملة.

٨٥ ما الفرق بين كل من - النافتا ، الأبيك -؟

(النافتا) : منظمة التجارة الحرة لأمريكا الشمالية .  
(الأبيك) منتدى التعاون الاقتصادي لدول آسيا ، و يضم معظم دول آسيا و الباسفيك .



٤٦ بم تقصر ... للتكاملات الاقتصادية أهمية كبيرة ؟

١. الحصول على مزايا الإنتاج الكبير وتحقيق التكامل بين الدول الأعضاء.
٢. تيسير الاستفادة من المراكز البحثية ومهارات الفنيين والأيدي العاملة بصورة أفضل.
٣. تسهيل عمليات التنمية الاقتصادية وإقامة مشروعات مشتركة.
٤. تنويع الإنتاج بطرق اقتصادية.
٥. رفع مستوى رفاهية المواطنين.
٦. تخفيف أثر الصدمات الخارجية .. بتقليل الاعتماد على الخارج .

٤٧ مقارنات هامة جداً.

مجلس التعاون لدول الخليج	الاتحاد الأوروبي	أوجه المقارنة
<ol style="list-style-type: none"> <li>١. تحقيق التكامل بين الدول الأعضاء.</li> <li>٢. توثيق الروابط بين الشعوب.</li> <li>٣. إنشاء مراكز بحوث علمية.</li> <li>٤. عمل مشاريع مشتركة وتشجيع القطاع الخاص.</li> </ol>	<ol style="list-style-type: none"> <li>١. تحقيق التكامل الاقتصادي.</li> <li>٢. تحقيق الرفاهية لشعوب أوروبا</li> <li>٣. تقوية دور أوروبا في العالم .</li> <li>٤. السعي نحو الوحدة الأوروبية .</li> <li>٥. حرية التنقل بين الدول الأعضاء .</li> </ol>	الأهداف
<ol style="list-style-type: none"> <li>١. المجلس الأعلى.</li> <li>٢. المجلس الوزاري.</li> <li>٣. الأمانة العامة.</li> </ol>	<ol style="list-style-type: none"> <li>١. المجلس الأوروبي .</li> <li>٢. البرلمان الأوروبي .</li> <li>٣. مجلس الاتحاد الأوروبي .</li> <li>٤. المفوضية الأوروبية .</li> </ol>	المؤسسات
٤٦ مليون نسمة.	٥٠٠ مليون نسمة (ألمانيا الأكبر ، و مالطة الأقل).	السكان
٢.٤ مليون كم٢.	٤٢ % من مساحة أوروبا .	المساحة

٤٨ ما أهم الإنجازات التي حققها مجلس التعاون لدول الخليج العربي؟

- ١ - قوات درع الجزيرة : تأسست عام ١٩٨٢م " بم تقصر .. ؟"
- نظراً للأخطار التي كانت محيطة آنذاك بدول الخليج العربي وأهمها الحرب العراقية الإيرانية ، و الهدف من إنشاء هذه القوات هو حماية أمن الدول الأعضاء.



٢. اتحاد صرف دول مجلس التعاون ، أقدم مؤسسات المجلس ، ويهدف لإنشاء سوق خليجية مشتركة.
٣. مشروع العملة الموحدة ، كان من المقرر أن تصدر تلك العملة عام ٢٠١٠م.
٤. الاتحاد الجمركي ، أحد وسائل توحيد الأنظمة الجمركية في الدول الأعضاء.
٥. مجالات أخرى للتعاون ، " تطوير التعليم - المدن - الهيئة البحرية في الخليج العربي " .

### ٨٩ حدد : أهداف الكوميسا؟

١. تحقيق التنمية المطردة للدول الأعضاء وزيادة حجم الإنتاج.
٢. تحقيق التنمية المشتركة في كل مجالات النشاط الاقتصادي.

### ٩٠ ما العلاقة بين : مصر و وكالة الاستثمارات الإقليمية للكوميسا؟

يقع المقر الرئيسي لوكالة الاستثمارات الإقليمية للكوميسا في مصر تحت مظلة الهيئة العامة للاستثمارات والمناطق الحرة.

### ٩١ ما العلاقة بين : مصر و مجلس أعمال الكوميسا؟

مصر عضو في مجلس أعمال الكوميسا من خلال جمعية سيدات الأعمال المصريين.

### ٩٢ بم تفسر : الأحلاف العسكرية لها بعد اقتصادي؟

لأن الأحلاف العسكرية تهدف إلى حماية المصالح المشتركة وتنمية التعاون الاقتصادي والاجتماعي بين الدول الأعضاء.

### ٩٣ أيد صحة أو خطأ العبارة الآتية : " الأحلاف العسكرية ظاهرة حديثة "

- العبارة خطأ ، حيث أن الأحلاف العسكرية ظاهرة قديمة ، فقد شهد العالم على مر العصور صوراً مختلفة من الأحلاف العسكرية ، وأصبحت أحد المعالم الرئيسية لتوازن القوى المعاصرة خاصة بعد زيادة الصراعات بعد الحرب العالمية الثانية .

### ٩٤ ما النتائج التي ترقبت على .. سياسة الرئيس السوفييتي الأسبق (جورباتشوف)؟

١. فشلت في إيجاد نظام أكثر تطوراً.
٢. انتقلت عدوى الإصلاح لدول أوروبا الشرقية.
٣. بدأت النزعة الانفصالية تظهر بين الجمهوريات السوفيتية ودول حلف وارسو.
٤. أعلنت روسيا عام ١٩٩١م حل الحلف رسمياً.





٩٥) ما النتائج المترتبة على .. انهيار الاتحاد السوفيتي و حلف (وارسو) بالنسبة لحلف الناتو؟

- ١- بدأ زعماء حلف (الناتو) يعيدون النظر في إستراتيجية الحلف ، وذلك عن طريق:
  - ١- السعي نحو توسيع الحلف شرقا .
  - ٢- ربط مستقبل الأمن الأوروبي بالدور الذي يقوم به الحلف في الأزمات الكبرى داخل أوروبا .
  - ٣- إيجاد دور له في الأزمات الأوروبية وفي الشرق الأوسط كالتدخل العسكري في ليبيا .

٩٦) لحلف شمال الأطلسي أثر دولي واقليمي ... دأل -

- ١- زيادة حدة الحرب الباردة ، حيث أنشأ الاتحاد السوفيتي حلف (وارسو) لمواجهة حلف (الناتو).
- ٢- انهماك الحلفين في سياسة سباق التسلح ، مما أدى إلى إرهاب اقتصاد الدولتين.
- ٣- إضعاف هيئة الأمر المتحدة بسبب التنافس بين القوى الكبرى و عدم قدرتها على تحقيق السلام.

٩٧) بم تفسر... توسع حلف شمال الأطلسي شرقا من عام ١٩٩١م؟

بسبب : سقوط الاتحاد السوفيتي و حل حلف وارسو.

٩٨) بم تفسر... لحلف شمال الأطلسي مجهودات كبيرة في حفظ السلام العالمي؟

- ١- نشر قوات حفظ سلام في البوسنة و الهرسك عام ١٩٩٥م.
- ٢- نشر قوات حفظ سلام في مقدونيا ٢٠٠١م.
- ٣- التخفيف من آثار الزلزال في باكستان ٢٠٠٦م.
- ٤- إغاثة المتضررين من إعصار كاترينا ٢٠٠٦م.

٩٩) لمنظمة الأمم المتحدة دور في حل النزاعات الدولية من (الناحية السياسية - الإنسانية) .. دأل

- من الناحية السياسية :

- ١- مساندة حركات التحرر في العالم ، مثل: تونس و الجزائر.
- ٢- حل العديد من النزاعات الطويلة عن طريق إرسال قوات متعددة الجنسيات ، كما في أفغانستان والعراق.
- ٣- إرسال مراقبين دوليين في مناطق التوتر ، مثل: الشرق الأوسط و وسط الهند.
- ٤- إرسال قوات حفظ سلام ، كما في البوسنة و كرواتيا.

- من الناحية الإنسانية :

- ١- تقديم مساعدات للاجئين ، مثل: فلسطين و البوسنة و الهرسك.
- ٢- تقديم إغاثات في مناطق الكوارث الطبيعية.
- ٣- دعم حقوق الإنسان.





دُل على صحة العبارة الآتية.. تطورت العلاقات الدولية عبر الزمن؟

١٠٧

١. قديماً ،
  - معاهدة عقدها (رئيس الثاني) مع (خاتو سبل) ملك الحيثيين لتنظيم مبادئ الحرب و السلم عام ١٢٧٨ ق.م.
  - علاقات الفرس و الروم مع الممالك الخاضعة لكل منهما ، خاصة في منطقة الشام.
  - علاقات الدول الإسلامية المتعددة مع جيرانها أو القوى المعاصرة لها.
٢. حديثاً ، زادت العلاقات الدولية بين الدول ، و زاد اعتماد بعضها على البعض منذ الثورة الصناعية و نقلت العلاقات من جوارئى أفاق أوسع شملت العالم بأسره و من مجرد الحرب و السلم إلى مجالات أخرى متعددة.
٣. حالياً ؛ تشعبت العلاقات الدولية بين دول العالم ، و الدليل على ذلك البعثات الدبلوماسية.

بِم تفسر .. نشأة الحروب بين الدول؟

١٠٨

لأسباب : اقتصادية ، اجتماعية ، دينية ، أيديولوجية ، سياسية.

ما هي الخطوات التي يتم اتخاذها لحل النزاعات الدولية بالطرق السلمية؟

١. المفاوضات.
٢. الوساطة " طرف ثالث".
٣. المساعي الحميدة " دولة صديقة لأحد الطرفين".
٤. التوفيق " إحالة النزاع للجنة محايدة".
٥. التحكيم: أسلوب قانوني و حكمه ملزم للطرفين ، كما في (طابا).

ما النتائج المترتبة على .. إعلان الرئيس السوفيتي (جورباتشوف) استقالته من الاتحاد السوفيتي؟

١٠٩

١. ظهور نظام دولي جديد ، أصبحت السيادة والزعامتة فيه للولايات المتحدة الأمريكية ، وفقد العالم التوازن الدولي.
٢. تغير شكل العلاقات الدولية ؛ كما حدث في سبتمبر عام ٢٠٠١م.
٣. ظهور (الصين) كقوة اقتصادية في المجال العالمي و صعود نجم (الهند).
٤. سقوط جدار برلين و عودة ألمانيا الموحدة كقوة اقتصادية في أوربا.
٥. توسيع الاتحاد الأوربي و حلف الناتو شرقاً على حساب المعسكر الشرقي.

ما العلاقة بين .. العلاقات الدولية وموقع الدولة؟

١١٠

- العلاقات الدولية لدول هامشية مثل: (نيوزلاند و استراليا) تختلف بالطبع عن دولة مركزية ذات موقع استراتيجي على خريطة العالم مثل (مصر).





١٥٥ ما العلاقة بين العلاقات الدولية ومساحة الدولة؟

- دولة ذات مساحة عملاقة كـ (روسيا الاتحادية) بكل ما تحمله المساحة من إمكانيات تختلف في علاقتها الدولية عن دولة قزمية المساحة.

١٥٦ ما العلاقة بين .. العلاقات الدولية و حجم السكان؟

- دولة بوزن (الصين) السكاني احتلت مقعداً دائماً في مجلس الأمن بعد الحرب العالمية الثانية ، والذي يعد أهم أجهزة الأمم المتحدة ، ولم تكن (الصين) ذات ثقل اقتصادي أو عسكري إلا أن حجم سكانها ربع سكان العالم ، واستطاعت (الصين) بحجمها السكاني أن تكون لاعباً أساسياً على مسرح العلاقات الدولية تخشاهما القوى الكبرى وتتسابق في إقامة علاقات معها.

١٥٧ ما العلاقة بين .. قوة الدولة عسكرياً و العلاقات الدولية؟

- تلعب قوة الدولة في المجال العسكري دوراً مؤثراً في العلاقات الدولية ، حيث ما زالت (روسيا الاتحادية) الوريث الأكبر للاتحاد السوفيتي ، حيث تلعب دوراً مؤثراً في كثير من الأحداث العالمية مثل، (أوكرانيا و سوريا) و تلك القوة والوزن السياسي للدول على المسرح الدولي وجهان لعملة واحدة.

١٥٨ ما هي الخلفية التاريخية للنظام الدولي العالمي الجديد؟

- الرئيس الأمريكي (ويلسون) هو أول من طرح فكرة نظام عالمي جديد خلال الحرب العالمية الأولى ، ووضع [١٤] مبدأً.  
- ظهر مفهوم النظام العالمي الجديد للمرة الأولى في خطاب (جورياتشوف) عندما أعلن عن بدء حقبة جديدة بالتعاون مع الغرب ونهاية الحرب الباردة .  
- عُرف مصطلح (النظام الدولي العالمي الجديد) عام ١٩٩٠م خلال خطاب الرئيس الأمريكي (جورج بوش الأب) وقت أزمة الخليج ، وقال: إن ما يتعرض للخطر ليس بلداً صغيراً فحسب بل فكرة حيوية هي النظام العالمي الجديد.

١٥٩ تكلم عن النظام العالمي الجديد من حيث: (المبادئ، الخصائص، الأهداف، الأسس، متغيراته)

أولاً :- المبادئ الحاكمة للنظام العالمي الجديد

١- نزع السلاح. ٢- إحلال توازن المصالح بدلاً من توازن القوى.

٣- نزع الصفة الأيدلوجية عن العلاقات الدولية.

٤- تخطي الحواجز والصراعات تحقيقاً لمصالح البشرية.





## المرشد في المراجعة النهائية

### ثانياً - خصائص النظام العالمي الجديد

١. الثورة الهائلة في وسائل الاتصال.
٢. تحرير التجارة العالمية.
٣. تنويع الإنتاج بطريقة اقتصادية.
٤. بروز ظاهرة الاعتماد الدولي المتبادل.
٥. تدويل المشاكل والقضايا التي يواجهها العالم.

### ثالثاً - أهداف النظام العالمي الجديد

١. المحافظة على الاستقرار العالمي واحترام دور الأمم المتحدة.
٢. احترام سيادة كل دولة وعدم المساس بوحدةها الوطنية.
٣. نشر قيم الديمقراطية واحترام حقوق الإنسان وحق الشعوب في تقرير مصيرها.

### رابعاً - أسس قيام النظام العالمي الجديد :

١. الاعتماد المتبادل أصبح القانون الأساسي للعلاقات الدولية.
٢. لم يعد التناقض بين الرأسمالية والاشتراكية ، بل حل محلّه التناقض بين الشمال الصناعي والجنوب النامي.
٣. صارت العلاقات الدولية محكومة بمبدأ توازن المصالح بدلاً من توازن القوى.
٤. اعتمد النظام الجديد على مبدأ "المشروعية الدولية" كأداة فعالة لحل كثير من المشكلات خاصة فيما يتعلق بالأمن والسلم الدوليين.
٥. لا يصبح الحل العسكري إلا حلاً نهائياً بعد استنفاد الحلول الأخرى.
٦. غياب الأيدولوجية السياسية عن مسرح الأحداث مع انهيار النظام الشيوعي.

### ١٠٩ ما النتائج الترتيبية على .. الاحتكار الطلق للسلاح والثال والتكنولوجيا من قِبل دول الغرب

#### الرأسمالية :

- تحويل كثير من المساعدات الاقتصادية والمالية والتكنولوجية لصالح العلاقات الجديدة بين شرق و غرب أوروبا على حساب الدول النامية ، و لم تعد في سلم أولويات الدول الغربية المتقدمة.

### ١١٠ يم تفسر ... الصراع الراهن حول التكنولوجيا :

- لتوظيفها من أجل الوصول إلى أعلى معدلات الإنتاج ، و لذلك يدور الصراع الخفي على المواد الخام التي تدخل في الصناعات التكنولوجية المتقدمة مثل: اليورانيوم ، و التي تتوفر خاماته و خاصة في أفريقيا مما يجعلها مطعماً للدول المتقدمة.





## المُرشد في المراجعة النهائية

### ١١١ ما العلاقة بين : العلاقات الدولية و الثورة الصناعية؟

- حيث تحول العلاقات خاصة منذ الثورة الصناعية بين الدول من ..
١. علاقات جوار إلى .. أفاق أوسع شملت العالم بأسرة في عهد القوى الاستعمارية الأوروبية.
  ٢. مجرد علاقات في الحرب و السلم إلى .. مجالات أخرى متعددة.

### ١١٢ دُلل : تشعبت العلاقات الدولية بين دول العالم ؟

دليل ذلك البعثات الدبلوماسية لأي دولة ونوعية التمثيل داخل كل بعثة على حدة ( تمثيل سياسي و اقتصادي و عسكري و ثقافي و صحي و تعليمي ... الخ ) .

### ١١٣ بم تفسر : وجود المنظمات الدولية في وقتنا الحالي ؟

بسبب : ما تعرضت له البشرية من حروب قضت على عشرات الملايين من البشر و آلاف الملايين من الأموال . الحرب العديدة خاصة الحربين العالميتين الأولى و الثانية كانت من أقوى الدوافع العالمية لإنشاء تنظيمين دوليين مهمتهما الأساسية المحافظة على الأمن و السلم الدوليين .

### ١١٤ بم تفسر : فشل و انهيار عصبة الأمم عام ١٩٢٩م ؟

١. عدم انضمام دول كبرى كالولايات المتحدة الأمريكية و الاتحاد السوفيتي .
٢. انسحاب دول أخرى كالإيابان و ألمانيا .
٣. افتقار العصبة إلى قوة عسكرية تابعة لها .
٤. اندلاع الحرب العالمية الثانية عام ١٩٣٩م .

### ١١٥ ما وجه النقد : الموجه للأمم المتحدة؟

هيمنت الدول الكبرى على قراراتها و عدم الحيادية في بعض القرارات مثل القضية الفلسطينية .

### ١١٦ ما هي : الأهداف المعلنة للنظام العالمي الجديد؟

- المحافظة على الاستقرار العالمي و احترام دور الأمم المتحدة .
١. احترام سيادة كل دولة و استقلالها و عدم المساس بوحدةها الوطنية .
  ٢. نشر قيم الديمقراطية و احترام حقوق الإنسان و حق الشعوب في تقرير مصيرها .



دليل ... سقوط الاعتماد السوفيتي بعد درسا للدول النامية؟

لأن (الاتحاد السوفيتي) عجز عن تطوير نظم إنتاجه الاقتصادي مقارنة بالمستوى السائد في الدول الغربية ، وهذا درس لكل الدول النامية وإنذار لها بإصلاح أوضاعها الاقتصادية بالاعتماد على الذات أولاً.

ما التغييرات التي دفعت للإعلان عن النظام العالمي الجديد؟

١. سعي دول غرب أوروبا لاستكمال وحدتها ، وباتت السوق الأوروبية المشتركة تُعرف بالمجموعة الأوروبية ، وتسعى لمزيد من التكتلات الاقتصادية.
٢. سعي دول صناعية آسيوية ناشئة للحصول على مكانة هامة في الساحة الاقتصادية والسياسية (الصين ، كوريا ، سنغافورة ، الهند ، ماليزيا).
٣. ظهور (ألمانيا واليابان) كقوتين عظيمتين في النظام الاقتصادي العالمي.
٤. الثورة الصناعية الثالثة يطلق عليها (الثورة المعلوماتية).
٥. إيجاد حلول لعدد من القضايا العالمية مثل: انتهاء الحرب العراقية الإيرانية - انتهاء الاحتلال السوفيتي لأفغانستان.
٦. تدعيم دور هيئة الأمم المتحدة في الحفاظ على السلم والأمن الدوليين وتكوين قوات حفظ السلام.
٧. تدخل الولايات المتحدة الأمريكية في الشؤون الداخلية للعديد من الدول.

## عزيزي الطالب

تم إصدار سلسلة

المُرشد في المراجعة النهائية

وتحتوي على:

- أولاً أسئلة متنوعة للمراجعة على أجزاء المنهج بدون إجابة لتدريب الطالب عليها.
- ثانياً نماذج الامتحانات (البوكليت).

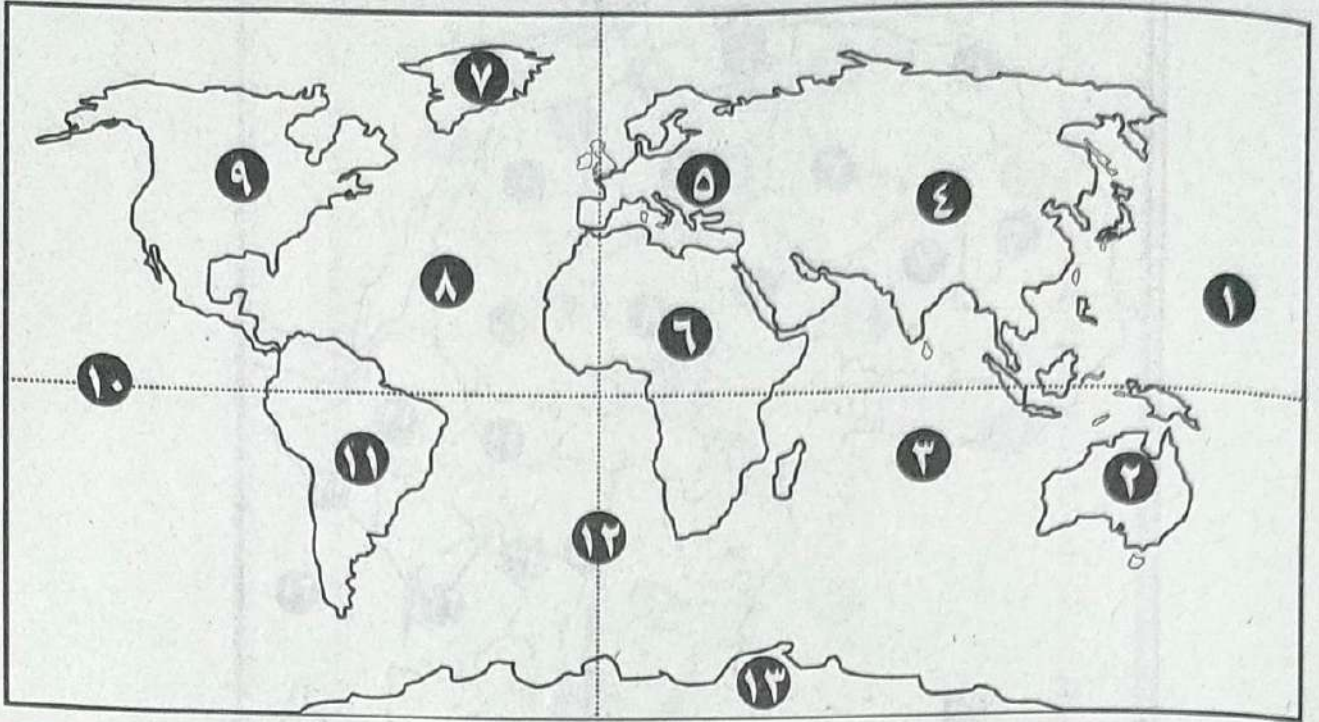


أطلس

الخرائط



## خريطة العالم



..... ٨. المحيط

..... ٩. قارة

..... ١٠. دائرة عرض

..... ١١. قارة

..... ١٢. خط طول

..... ١٣. قارة

..... ١. المحيط

..... ٢. قارة

..... ٣. المحيط

..... ٤. قارة

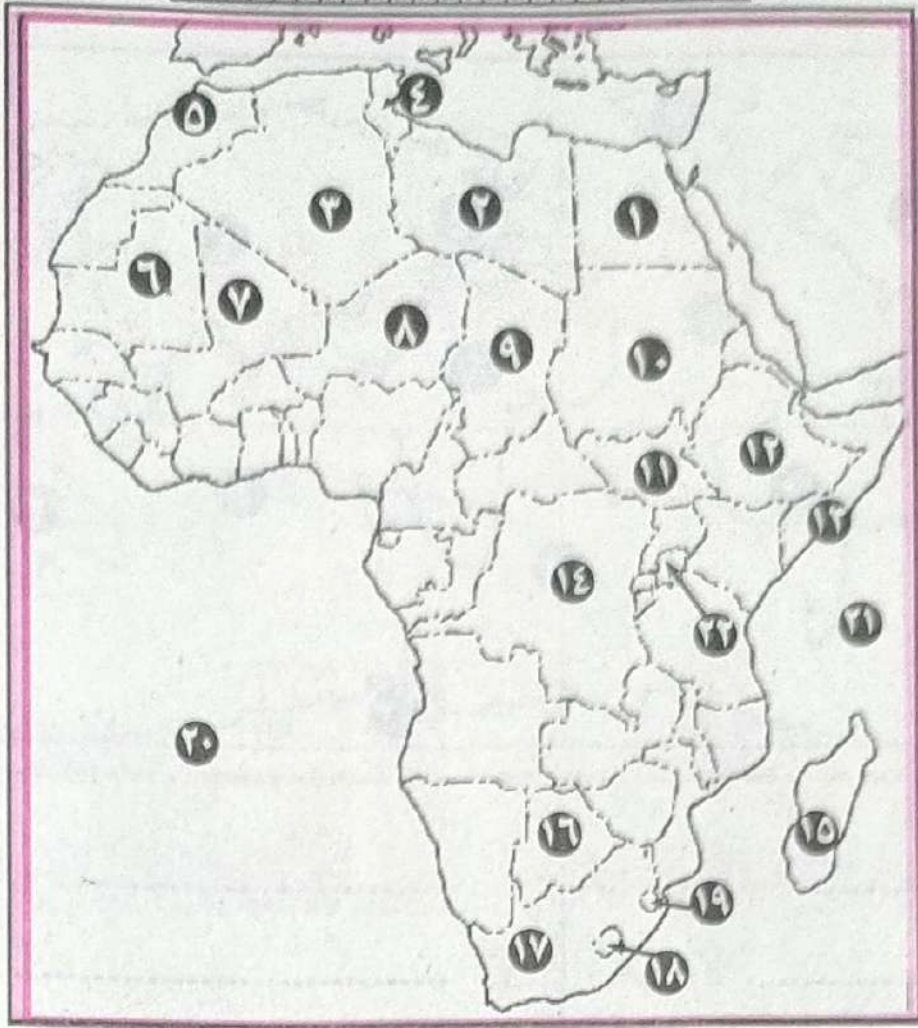
..... ٥. قارة

..... ٦. قارة

..... ٧. جزيرة



خريطة أفريقيا



- ..... ١٢- دولة
- ..... ١٣- دولة
- ..... ١٤- دولة
- ..... ١٥- دولة
- ..... ١٦- دولة
- ..... ١٧- دولة
- ..... ١٨- دولة
- ..... ١٩- دولة
- ..... ٢٠- المحيط
- ..... ٢١- المحيط
- ..... ٢٢- بحيرة

- ..... ١- دولة
- ..... ٢- دولة
- ..... ٢- دولة
- ..... ٤- دولة
- ..... ٥- دولة
- ..... ٦- دولة
- ..... ٧- دولة
- ..... ٨- دولة
- ..... ٩- دولة
- ..... ١٠- دولة
- ..... ١١- دولة





### خريطة أمريكا الجنوبية



- ..... ١٠. دولة
- ..... ١١. دولة
- ..... ١٢. دولة
- ..... ١٣. دولة
- ..... ١٤. حد طبيعي
- ..... ١٥. سطح مائي
- ..... ١٦. دائرة عرض
- ..... ١٧. دائرة عرض
- ..... ١٨. المحيط

- ..... ١. دولة
- ..... ٢. دولة
- ..... ٣. دولة
- ..... ٤. دولة
- ..... ٥. دولة
- ..... ٦. دولة
- ..... ٧. دولة
- ..... ٨. دولة
- ..... ٩. دولة

### استخرج من الخريطة

- ج. دولة وحدوية (مركزية).
- و. دولة شريطية.
- ن. دولة منتجة للحوم والألبان.

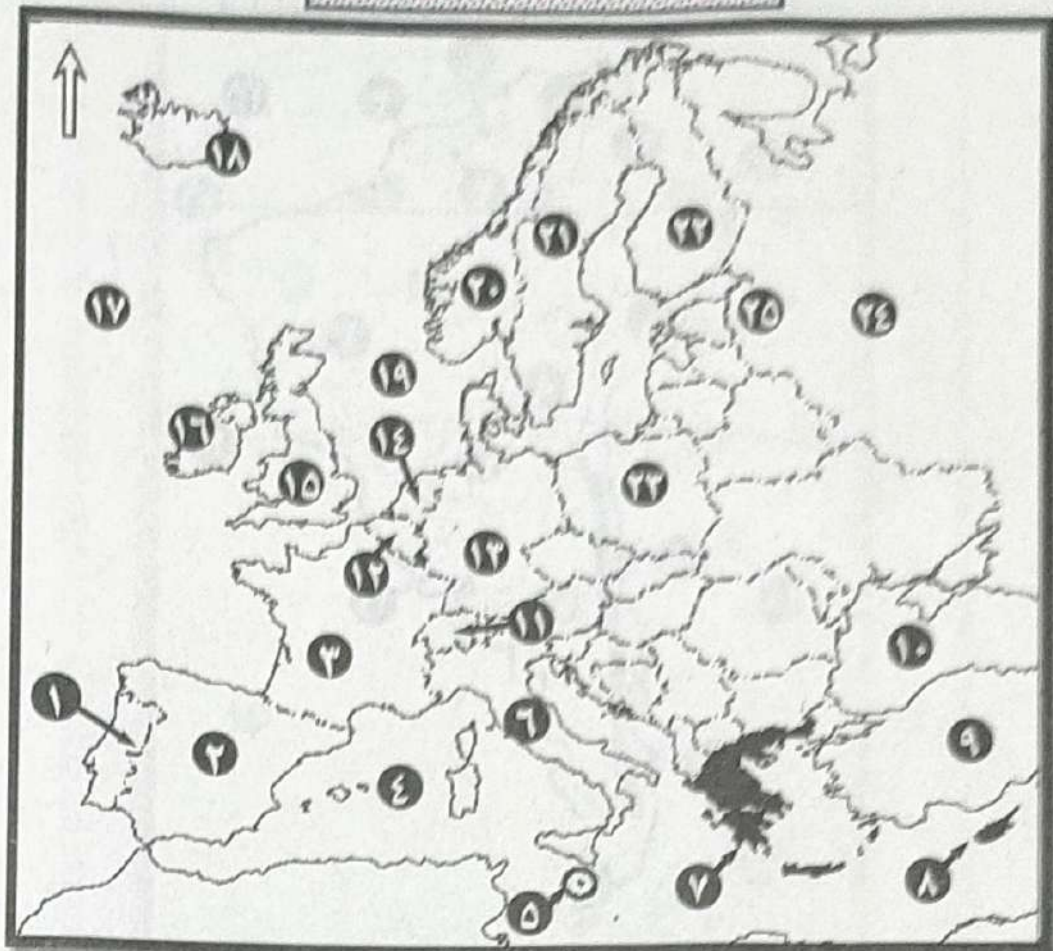
- ب. حد سياسي طبيعي.
- هـ. دولة حبيسة.
- ص. نهر محلي.

- أ. عاصمة مستحدثة.
- د. دولة مجزأة بريا بحريا.
- س. نهر دولي.





خريطة أوروبا - سياسية



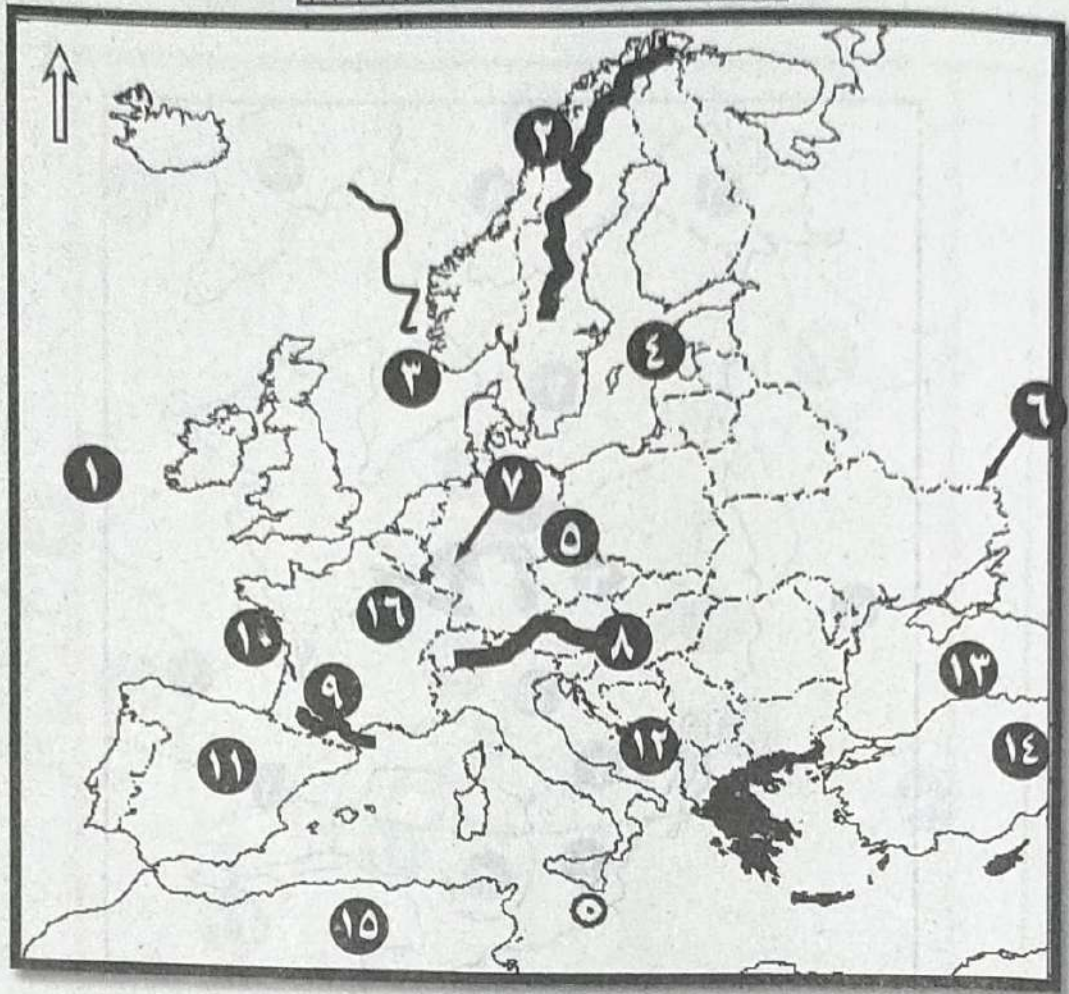
- ..... ١٤ - دولة
- ..... ١٥ - دولة
- ..... ١٦ - دولة
- ..... ١٧ - مسطح مائي
- ..... ١٨ - دولة
- ..... ١٩ - مسطح مائي
- ..... ٢٠ - دولة
- ..... ٢١ - دولة
- ..... ٢٢ - دولة
- ..... ٢٣ - دولة
- ..... ٢٤ - دولة
- ..... ٢٥ - دولة

- ..... ١ - دولة
- ..... ٢ - دولة
- ..... ٣ - دولة
- ..... ٤ - مسطح مائي
- ..... ٥ - دولة
- ..... ٦ - دولة
- ..... ٧ - دولة
- ..... ٨ - دولة
- ..... ٩ - دولة
- ..... ١٠ - مسطح مائي
- ..... ١١ - دولة
- ..... ١٢ - دولة
- ..... ١٣ - دولة





خريطة أوروبا - طبيعية

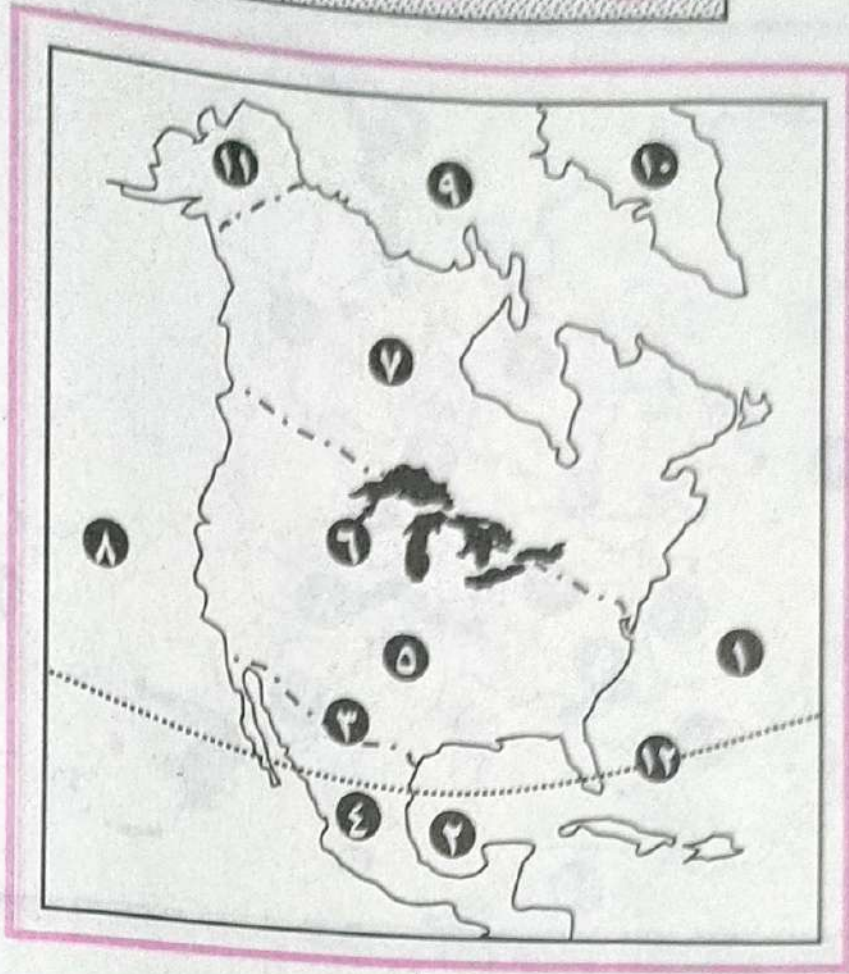


- ..... ٩. جبال
- ..... ١٠. خليج
- ..... ١١. هضبة
- ..... ١٢. مسطح مائي
- ..... ١٣. مسطح مائي
- ..... ١٤. دولة
- ..... ١٥. قارة
- ..... ١٦. دولة

- ..... ١. المحيط
- ..... ٢. جبال
- ..... ٣. مسطح مائي
- ..... ٤. مسطح مائي
- ..... ٥. سهل
- ..... ٦. نهر
- ..... ٧. نهر
- ..... ٨. جبال



خريطة أمريكا الشمالية



- ..... ٧. دولة
- ..... ٨. المحيط
- ..... ٩. المحيط
- ..... ١٠. جزيرة
- ..... ١١. منطقة
- ..... ١٢. دائرة عرض

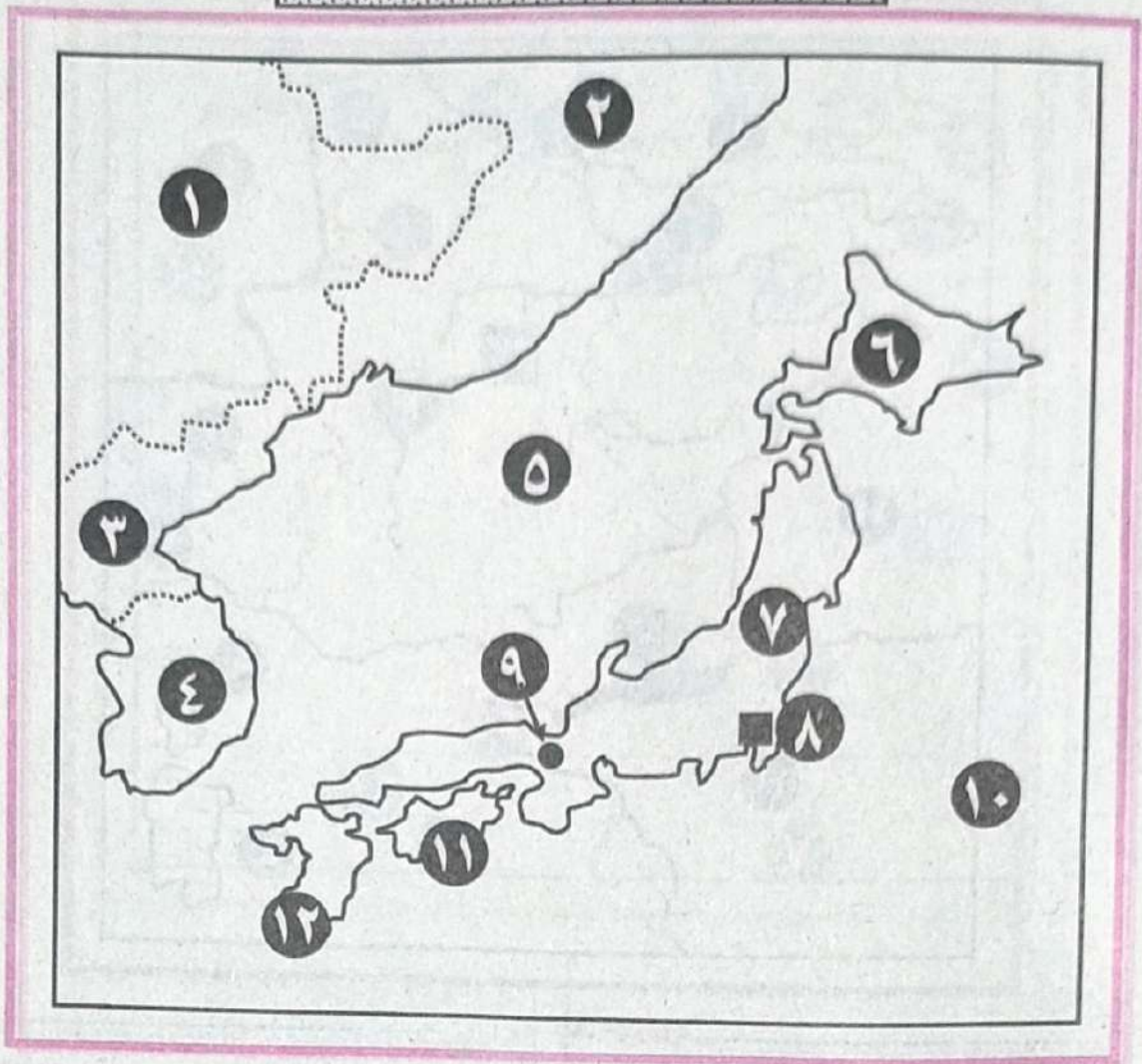
- ..... ١. المحيط
- ..... ٢. خليج
- ..... ٣. نهر
- ..... ٤. دولة
- ..... ٥. دولة
- ..... ٦. منطقة قلب صناعي

استخراج من الخريطة

- أ. دولة فيدرالية.
- ب. دولة مجزأة برياً.
- ج. حد سياسي طبيعي.
- د. مقر منظمة الأمم المتحدة.
- هـ. نهر محلي.
- و. نهر دولي.
- ز. مدينة عقد بها الاجتماع التأسيسي للأمم المتحدة.
- ح. بحيرة متشجن.



## دولة اليابان

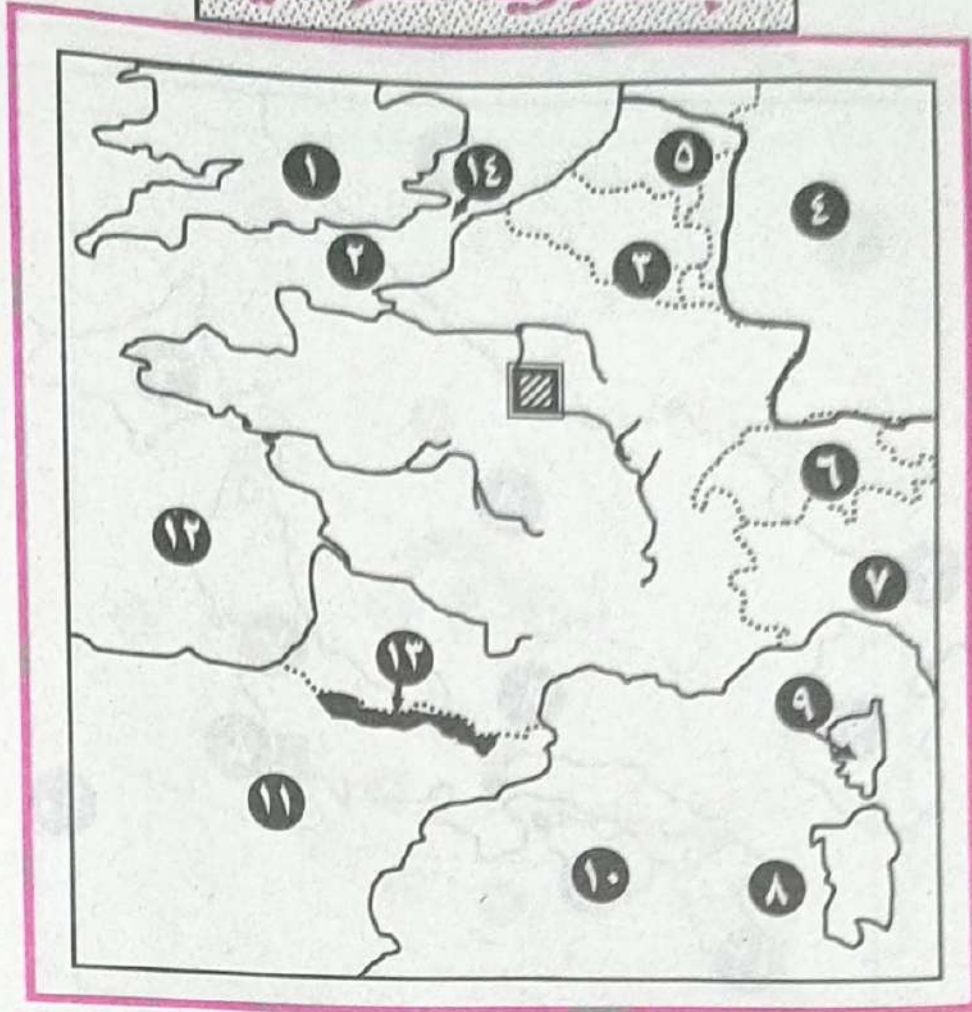


- ..... ٧. جزيرة
- ..... ٨. مدينة
- ..... ٩. مدينة
- ..... ١٠. سطح مائي
- ..... ١١. جزيرة
- ..... ١٢. جزيرة

- ..... ١. دولة
- ..... ٢. دولة
- ..... ٣. دولة
- ..... ٤. دولة
- ..... ٥. سطح مائي
- ..... ٦. جزيرة



## الجمهورية الفرنسية



- ..... ٨. جزيرة
- ..... ٩. جزيرة
- ..... ١٠. مسطح مائي
- ..... ١١. دولة
- ..... ١٢. مسطح مائي
- ..... ١٣. حد طبيعي
- ..... ١٤. مضيق

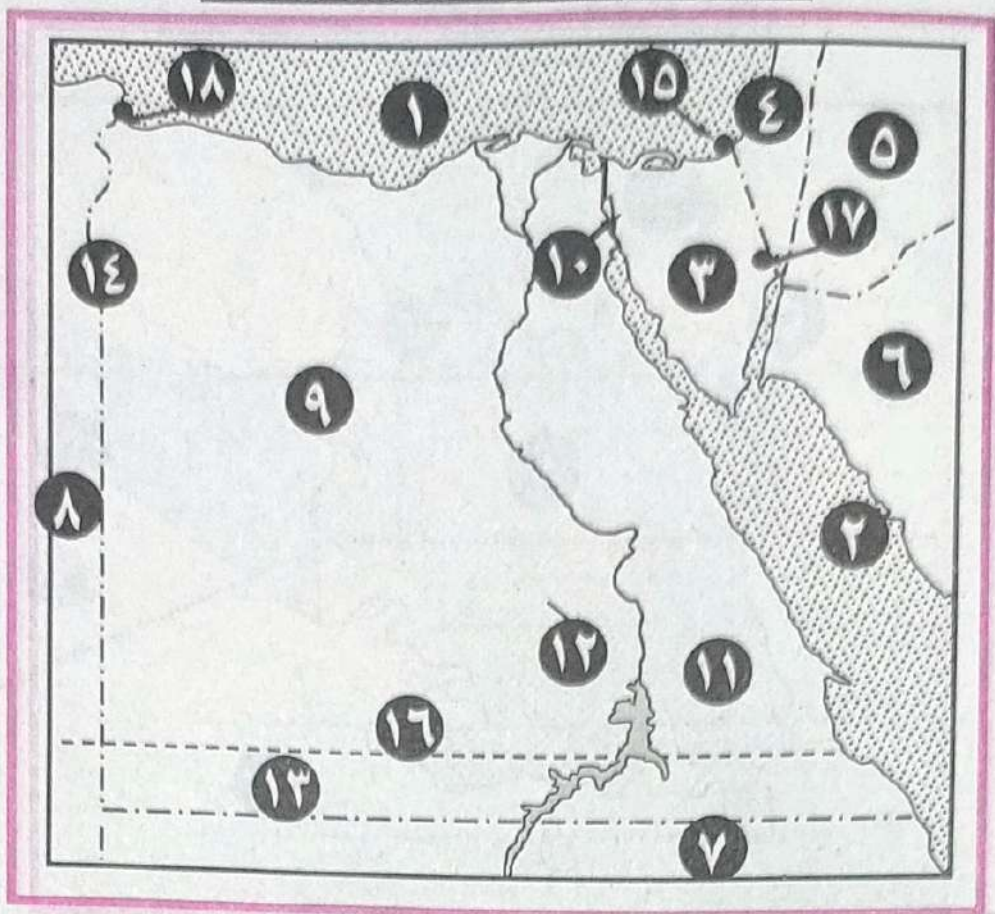
- ..... ١. دولة
- ..... ٢. مسطح مائي
- ..... ٣. دولة
- ..... ٤. دولة
- ..... ٥. دولة
- ..... ٦. دولة
- ..... ٧. دولة

### استخرج من الخريطة

- أ. دولة حبيسة.
- ب. دولة مجزأة بريا - بحريا.
- ج. حد سياسي طبيعي
- د. إقليم الياسيك.
- هـ. دولة جزرية.
- و. نهر دولي.
- س. نهر محلي.
- ص. مضيق دوفر.
- ز. أكبر دول الاتحاد الأوربي سكانا.



## جمهورية مصر العربية



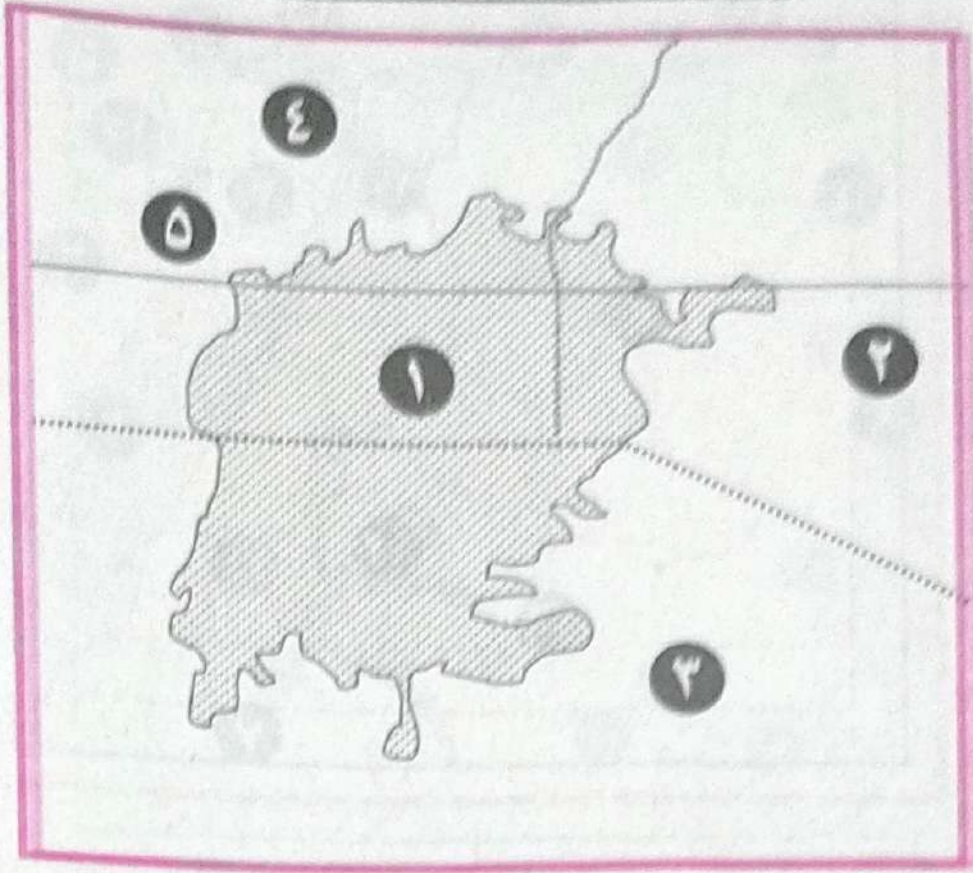
- |                         |                    |
|-------------------------|--------------------|
| ..... ١٠. ممر ملاحى هام | ..... ١. حد طبيعى  |
| ..... ١١. الصحراء       | ..... ٢. حد طبيعى  |
| ..... ١٢. بحيرة         | ..... ٣. شبه جزيرة |
| ..... ١٣. حد فلكى       | ..... ٤. دولة      |
| ..... ١٤. حد فلكى       | ..... ٥. دولة      |
| ..... ١٥. مدينة         | ..... ٦. دولة      |
| ..... ١٦. دائرة عرض     | ..... ٧. دولة      |
| ..... ١٧. مدينة         | ..... ٨. دولة      |
| ..... ١٨. مدينة         | ..... ٩. الصحراء   |

## استخرج من الخريطة

- |                               |                 |                         |
|-------------------------------|-----------------|-------------------------|
| ج. حد فلكى.                   | ب. حد طبيعى.    | أ. دولة متعددة الجيران. |
| و. دولة تطل على البحر بوجهتها | هـ. قلب سياسى.  | د. موقع استراتيجى.      |
| ز. قلب اقتصادى.               | ص. مياه داخلية. | س. نهر دولى.            |



## بحيرة فيكتوريا

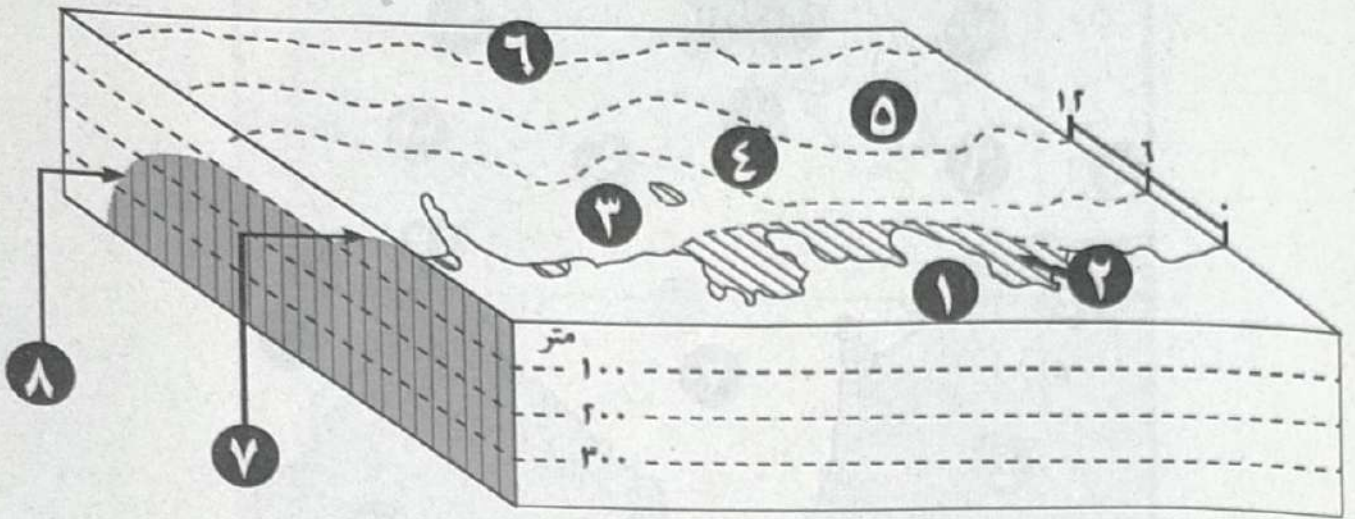


١. بحيرة .....
٢. دولة .....
٣. دولة .....
٤. دولة .....
٥. دائرة عرض .....





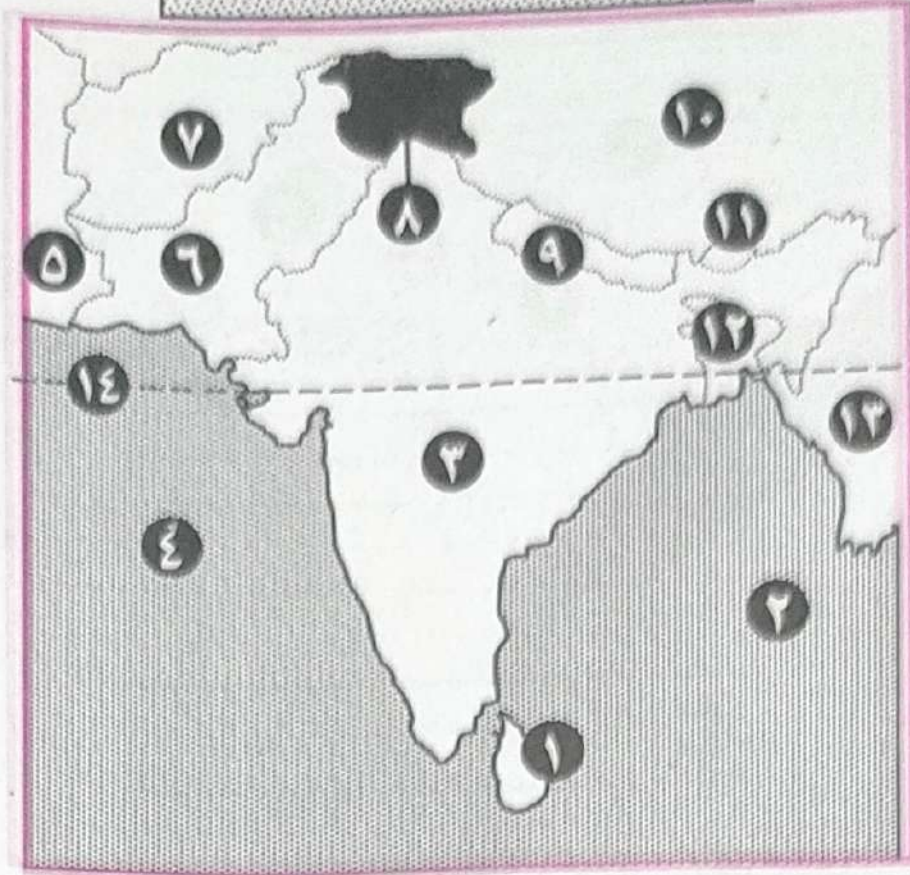
# المياه الإقليمية



- ..... ١
- ..... ٢
- ..... ٣
- ..... ٤
- ..... ٥
- ..... ٦
- ..... ٧
- ..... ٨



جمهورية الهند



- ..... ٨. مشكلة نيابنية
- ..... ٩. دولة
- ..... ١٠. دولة
- ..... ١١. دولة
- ..... ١٢. دولة
- ..... ١٣. دولة
- ..... ١٤. دائرة عرض

- ..... ١. دولة
- ..... ٢. مستطح مائي
- ..... ٣. دولة
- ..... ٤. مستطح مائي
- ..... ٥. دولة
- ..... ٦. دولة
- ..... ٧. دولة

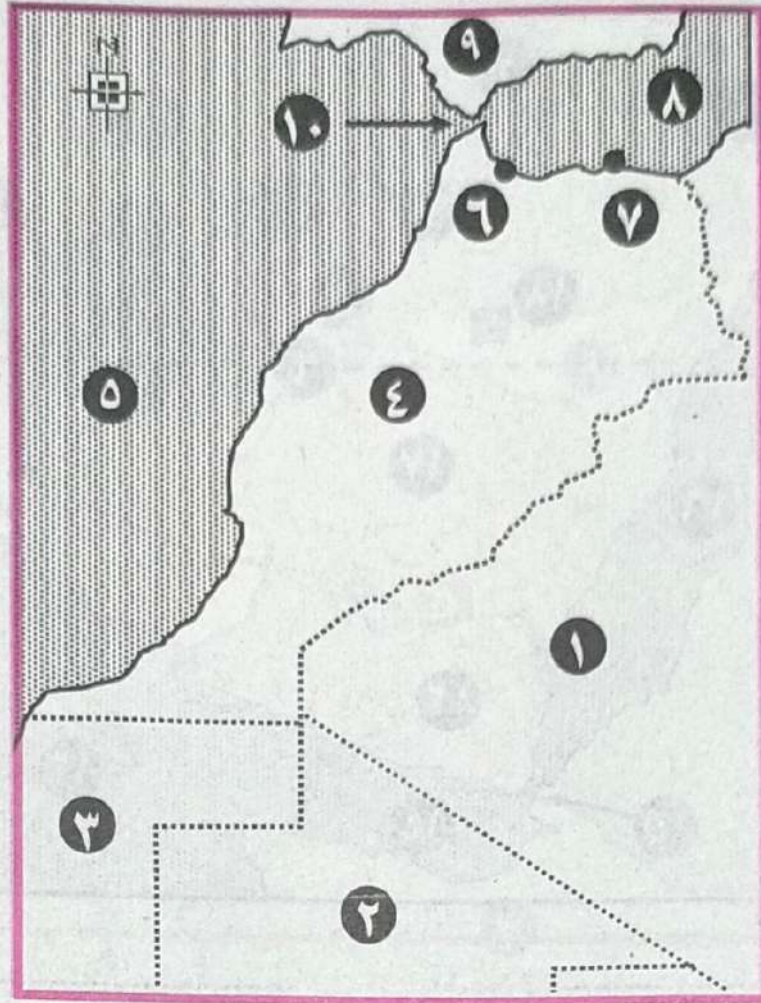
استخرج من الخريطة

- أ. دولة جزرية.
- ب. دولة مندمجة ذات بروز.
- ج. دولة فيد رالية.
- د. دولة شريطية.
- هـ. دولة حبيسة.
- و. دولة تعهدت بدعم حلف وارسو.
- ص. مضيق بالك.
- ز. حد سياسي طبيعي.
- س. باكستان الشرقية.





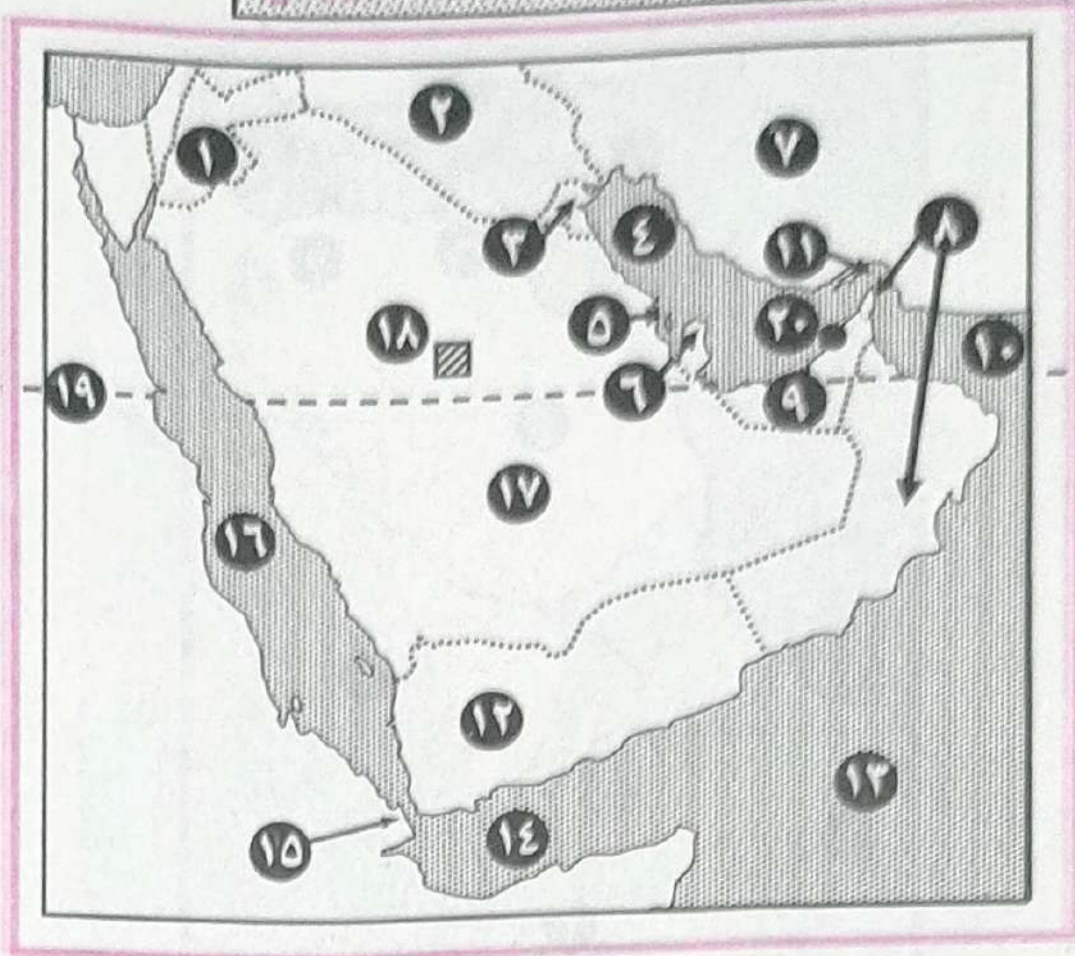
## المملكة المغربية



- ..... ١-دولة
- ..... ٢-دولة
- ..... ٣-دولة
- ..... ٤-دولة
- ..... ٥-مسطح مائي
- ..... ٦-مدينة
- ..... ٧-مدينة
- ..... ٨-مسطح مائي
- ..... ٩-دولة
- ..... ١٠-مضيق



دول مجلس التعاون الخليجي



- ..... ١١ دولة
- ..... ١٢ دولة
- ..... ١٣ مسطح مائي
- ..... ١٤ مسطح مائي
- ..... ١٥ مضيق
- ..... ١٦ مسطح مائي
- ..... ١٧ دولة
- ..... ١٨ مدينة
- ..... ١٩ دائرة عرض
- ..... ٢٠ مدينة

- ..... ١ دولة
- ..... ٢ دولة
- ..... ٣ دولة
- ..... ٤ مسطح مائي
- ..... ٥ دولة
- ..... ٦ دولة
- ..... ٧ دولة
- ..... ٨ مضيق
- ..... ٩ دولة
- ..... ١٠ مسطح مائي

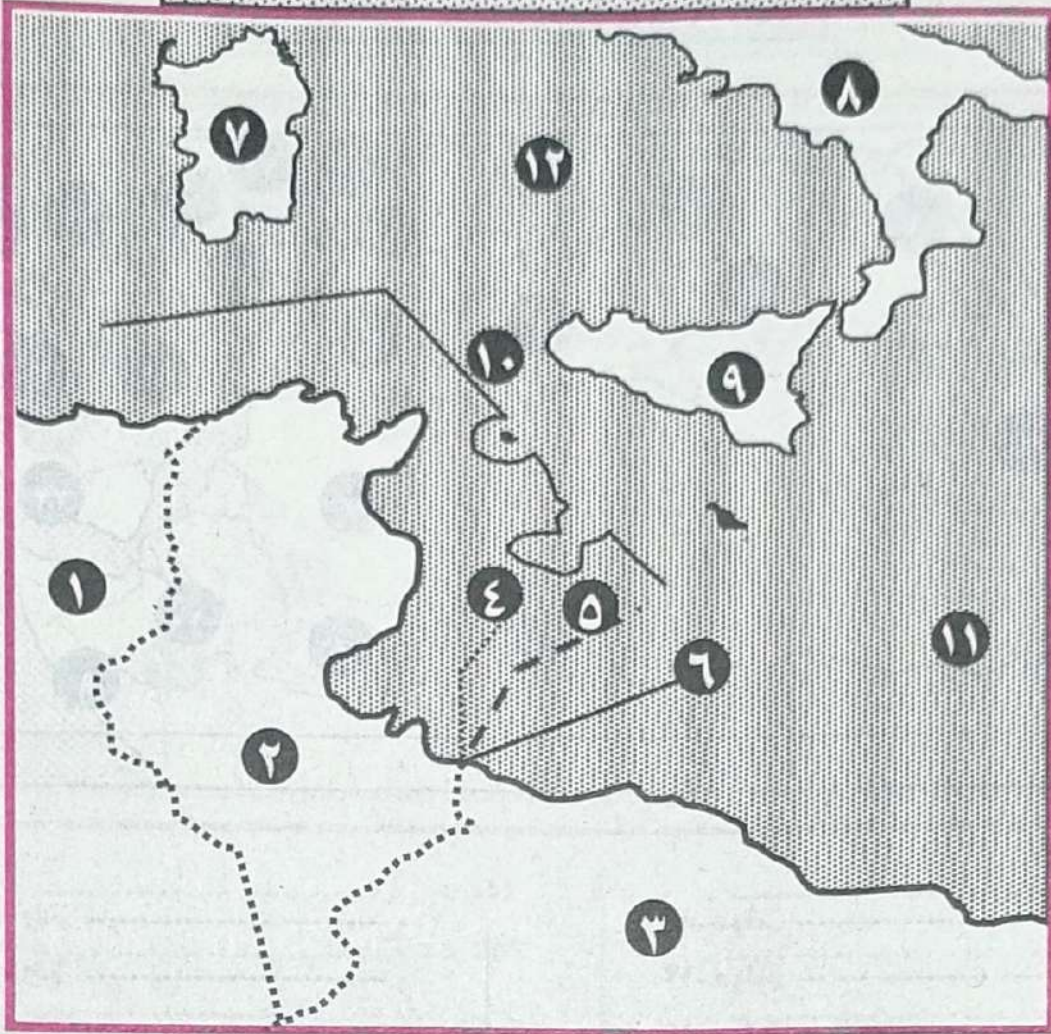
استخرج من الخريطة

- أ. دولة محاطة بثمان دول.
- ب. دولة مجزأة برياً.
- ج. حد سياسي طبيعي.
- د. موقع استراتيجي.
- هـ. دولة جزرية.
- و. تكتل اقتصادي.





## النزاع بين ليبيا و تونس



- ..... ٧. جزيرة
- ..... ٨. دولة
- ..... ٩. جزيرة
- ..... ١٠. مضيق
- ..... ١١. مسطح مائي
- ..... ١٢. مسطح مائي

- ..... ١. دولة
- ..... ٢. دولة
- ..... ٣. دولة
- ..... ٤. رصيف قاري طالبت به
- ..... ٥. رصيف قاري طالبت به
- ..... ٦. رصيف قاري

## استخرج من الخريطة

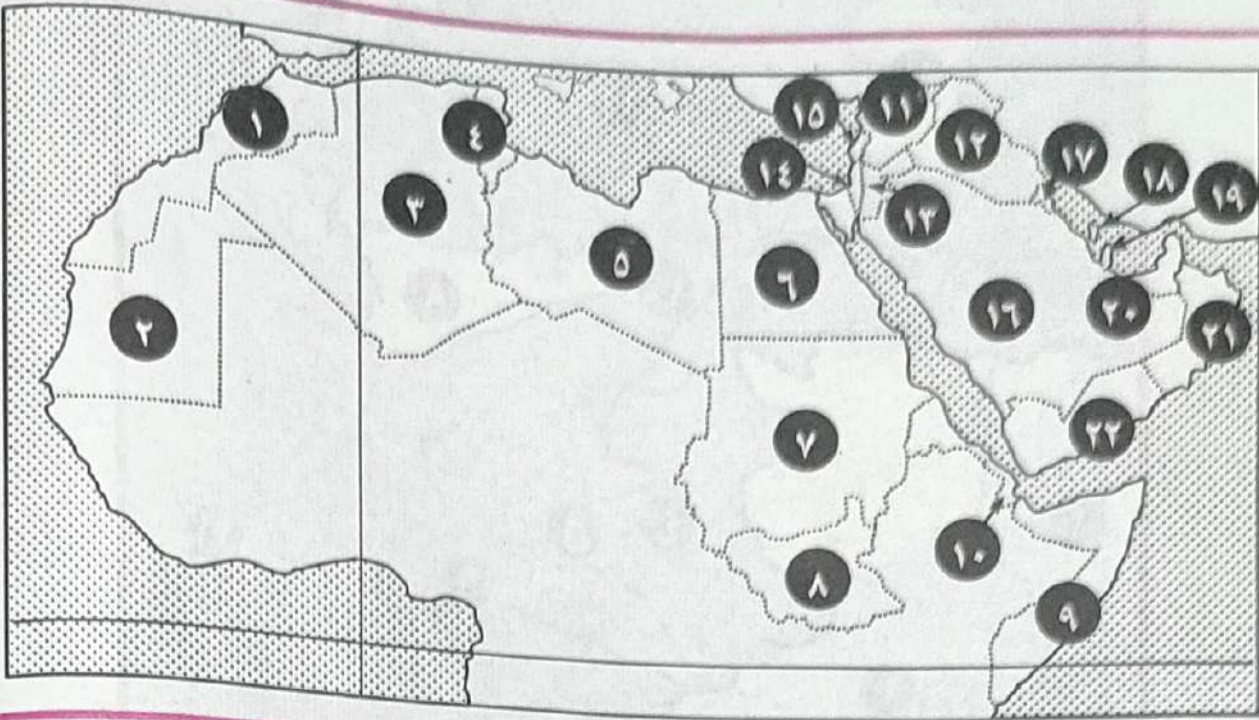
ج. موقع استراتيجي.  
و. دولة تطل على البحر بواجهتها.

ب. دولة مجزأة بريا - بحريا.  
هـ. البحر الادرياتي.

أ. دولة شريطية.  
د. دولة مندمجة.



## الوطن العربي



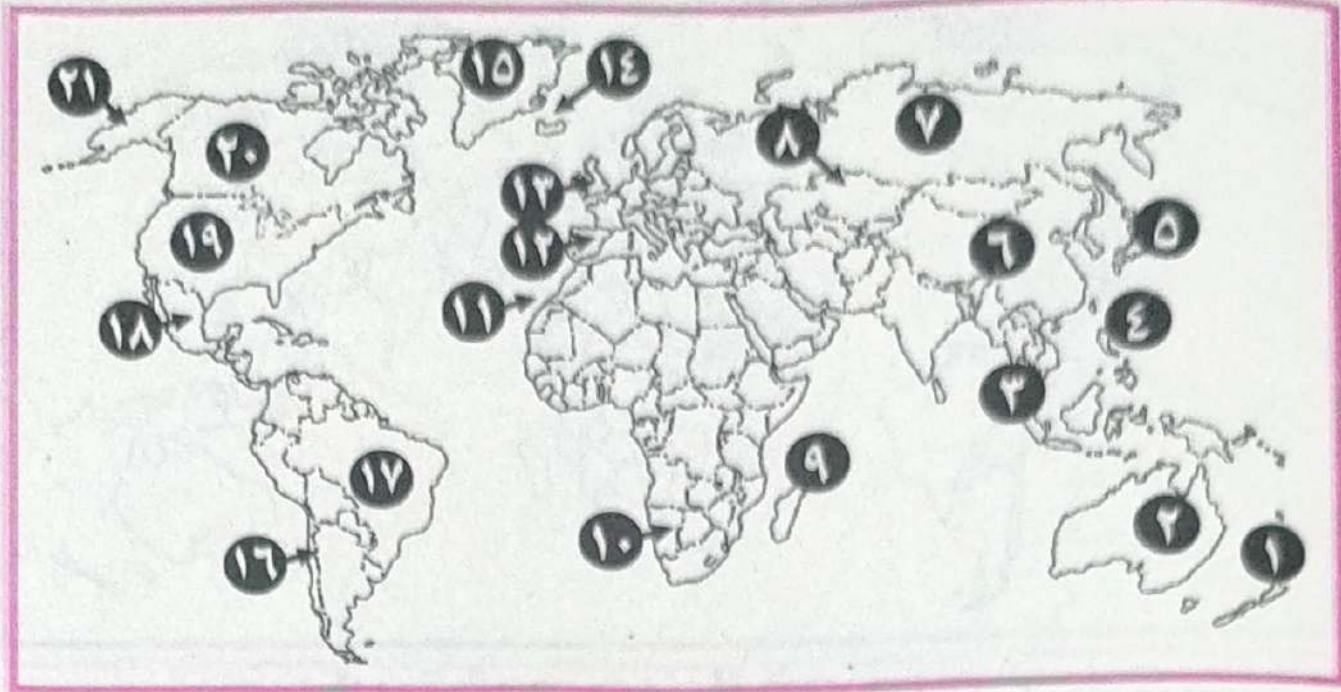
- ..... ١٢- دولة
- ..... ١٣- دولة
- ..... ١٤- دولة
- ..... ١٥- دولة
- ..... ١٦- دولة
- ..... ١٧- دولة
- ..... ١٨- دولة
- ..... ١٩- دولة
- ..... ٢٠- دولة
- ..... ٢١- دولة
- ..... ٢٢- دولة

- ..... ١- دولة
- ..... ٢- دولة
- ..... ٣- دولة
- ..... ٤- دولة
- ..... ٥- دولة
- ..... ٦- دولة
- ..... ٧- دولة
- ..... ٨- دولة
- ..... ٩- دولة
- ..... ١٠- دولة
- ..... ١١- دولة





## تدريب على خريطة العالم



- ..... ١٢. دولة
- ..... ١٣. دولة
- ..... ١٤. دولة
- ..... ١٥. دولة
- ..... ١٦. جزيرة
- ..... ١٧. دولة
- ..... ١٨. دولة
- ..... ١٩. دولة
- ..... ٢٠. دولة
- ..... ٢١. دولة
- ..... ٢٢. دولة (ولاية)

- ..... ١. دولة
- ..... ٢. دولة
- ..... ٣. دولة
- ..... ٤. دولة
- ..... ٥. دولة
- ..... ٦. دولة
- ..... ٧. دولة
- ..... ٨. دولة
- ..... ٩. دولة
- ..... ١٠. دولة
- ..... ١١. دولة



## تدريب على خريطة العالم



### استخرج من الخريطة

١. دولة مجزأة بحريا في قارة أفريقيا.
٢. دولة وحدوية في قارة أوروبا.
٣. دولة شريطية طوليا في قارة أوروبا.
٤. دولة كونفيدرالية.
٥. دولة مجزأة بریا - بحريا في أوروبا.
٦. دولة جزيرية في قارة أوروبا.
٧. دولة يغلب عليها الاقتصاد الرعوي.
٨. دولة شريطية في قارة أمريكا ج.
٩. دولة فيدرالية.
١٠. دولة وحدوية في قارة آسيا.
١١. دولة حبيسة في قارة آسيا.
١٢. دولة جزيرية في قارة آسيا.
١٣. دولة شريطية عرضية بآسيا.
١٤. دولة هامشية في قارة آسيا.
١٥. دولة مجزأة بحريا في قارة آسيا.
١٦. أكبر دول العالم مساحت.
١٧. دولة لم توقع على حلف وارسو.
١٨. دولة وحدوية في قارة أفريقيا.
١٩. دولة حبيسة في قارة أفريقيا.
٢٠. دولة شريطية في قارة أفريقيا.
٢١. دولة جزيرية في قارة أفريقيا.
٢٢. دولة مجزأة بریا بقارة أفريقيا.





## تدريب على خريطة العالم

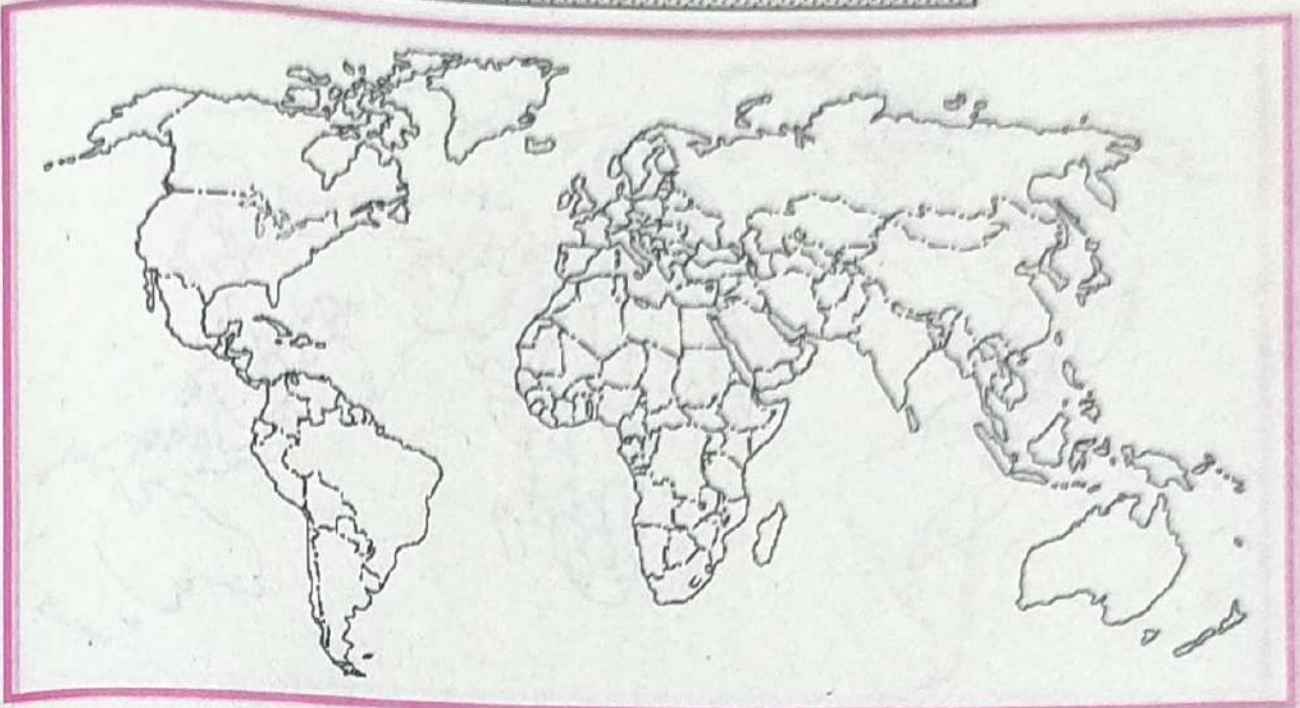


### استخرج من الخريطة

١. عاصمة الهند.
٢. عاصمة الصين.
٣. مدينة طوكيو.
٤. مدينة كيوتو.
٥. دولة أفغانستان.
٦. منطقة كشمير.
٧. مدينة نواكشوط.
٨. مدينة أنقرة.
٩. مدينة الخرطوم.
١٠. مدينة القاهرة.
١١. عاصمة إيطاليا.
١٢. مشكلة سببها الاستعمار بقارة إفريقيا.
١٣. مقر الأمم المتحدة.
١٤. مقر حلف الناتو.
١٥. مقر حلف وارسو.
١٦. عاصمة مستحدثة بأمريكا الجنوبية.
١٧. عاصمة روسيا الاتحادية.
١٨. مدينة باريس.
١٩. مدينة سان فرانسيسكو.
٢٠. مدينة أبوجا.
٢١. مدينة لاجوس.



## تدريب على خريطة العالم



### استخرج من الخريطة

- |                             |                      |
|-----------------------------|----------------------|
| ١٢. دولة ليسوتو.            | ١. نهر النيل.        |
| ١٣. البحرات العظمى الخمس.   | ٢. نهر ريو جراند.    |
| ١٤. مضيق ماجلان.            | ٣. نهر الأمازون.     |
| ١٥. دولة عربية مجزأة بحريا. | ٤. سهول سيبيريا.     |
| ١٦. دولة عربية مجزأة بريا.  | ٥. نهر السين.        |
| ١٧. خليج المكسيك.           | ٦. مضيق بلك.         |
| ١٨. مضيق ملقا.              | ٧. مضيق موزمبيق.     |
| ١٩. دولة النرويج.           | ٨. مضيق هرمز.        |
| ٢٠. جبال الأنديز.           | ٩. مضيق باب المنديب. |
| ٢١. جبال الألب.             | ١٠. مضيق جبل طارق.   |
| ٢٢. جبال الهيمالايا.        | ١١. مضيق دوفر.       |



# نماذج

# اليومكليت





## تعليمات هامة

عزيزي الطالب / عزيزتي الطالبة :-

- اقرأ السؤال بعناية ، و فكر فيه جيداً قبل البدء في إجابته.
  - أجب عن جميع الأسئلة ولا تترك أي سؤال دون إجابة.
  - عند إجابتك على الأسئلة المقالية ، أجب فيما لا يزيد عن المساحة المحددة لكل سؤال.
- مثال :

.....

.....

.....

- عند إجابتك عن أسئلة الاختيار من متعدد إن وجدت :  
ظلل الدائرة ذات الرمز الدال على الإجابة الصحيحة تظليلاً كاملاً لكل سؤال.
- مثال : الإجابة الصحيحة (د) مثلاً.

(د)

(ج)

(ب)

(أ)

- في حالة ما إذا أجبنا إجابة خطأ ، ثم قمنا بشطبها وأجبنا إجابة صحيحة تحسب الإجابة صحيحة.
- وفي حالة ما إذا أجبنا إجابة صحيحة ، ثم قمنا بشطبها وأجبنا إجابة خطأ تحسب الإجابة خطأ.
- في حالة التظليل على أكثر من رمز ، تعتبر الإجابة خطأ.

### ملحوظة : يفضل عدم تكرار الإجابة على الأسئلة.

- عدد صفحات الكتيب (١٢) صفحات.
- تأكد من ترقيم الأسئلة تصاعدياً ، ومن عدد صفحات كتيبك ، فهي مسئوليتك.
- زمن الامتحان (٢) ساعات.
- الدرجة الكلية للامتحان (٤٠) درجة.

- عند احتياج الطالب للإجابة على أي فقرة وذلك عند حدوث أي سبب يقتضي ذلك ، يستخدم المسودة بأخر الورقة الامتحانية مع كتابة رقم السؤال و الفقرة بوضوح ، بشرط ألا تكون الإجابة مكررة.





السؤال الأول

(أ) اكتب المفهوم الجغرافي الذي يدل على كل عبارة مما يلي:

- ١- تحديد تعريفية موحدة على السلع المستوردة من الدول خارج التكتل. ( )
- ٢- ترسم تصوراً لما يجب أن تكون عليه الدولة في المستقبل. ( )
- ٣- الأساليب والوسائل المستخدمة في عملية الإنتاج. ( )
- ٤- معاهدة تحول بموجبها السوق الأوروبية إلى الاتحاد الأوربي. ( )

(ب) قارن بين كل مما يأتي:

١- الوزن الاقتصادي والقوة العسكرية كعوامل مؤثرة في العلاقات الدولية.  
الوزن الاقتصادي:

.....  
.....  
.....

القوة العسكرية:

.....  
.....  
.....

٢- مرحلة التجارة التفضيلية والتجارة الحرة من مراحل تعزيز التكامل الاقتصادي بين دول الكوميسا.  
التجارة التفضيلية:

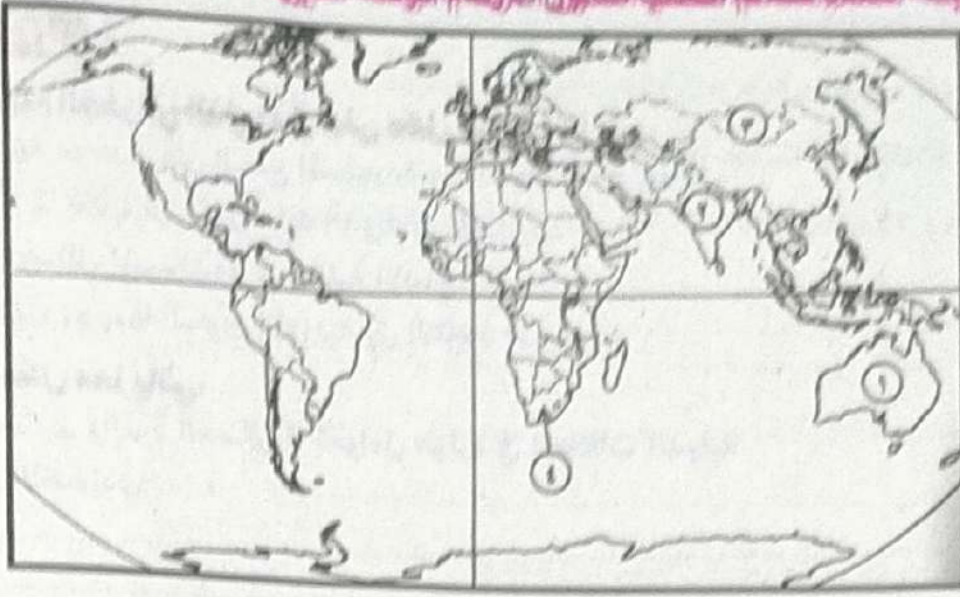
.....  
.....  
.....

التجارة الحرة:

.....  
.....  
.....



(أ) أمانك خير بركة صفراء للعالم اكتب عدداً من الأرقام الموقعة عليها:



- ١- دولة فيدرالية .....
- ٢- دولة بها مشكلات حدودية .....
- ٣- دولة شكلها مستطيل .....
- ٤- دولة بها أقليات .....
- (لها) إسم فكسبر ...؟

١- عدد سكان الدولة من العوامل المؤثرة في العلاقات الدولية.

٢- تعد المفوضية الأوروبية الجهاز التنفيذي للاتحاد الأوروبي.

٣- لم يعد هناك شعب نقي في كثير من دول العالم.

٤- الحدود الجبلية من أفضل الحدود السياسية.





### السؤال الثالث

(أ) تخير الإجابة الصحيحة مما بين أ، ب، ج، د:

- ١- أحد الأجهزة التابعة للأمم المتحدة ويهدف إلى تطوير التعاون الدولي:
  - (أ) البنك الدولي للإنشاء والتعمير.
  - (ب) صندوق النقد الدولي.
  - (ج) مركز التجارة الدولي.
  - (د) منظمة الأغذية والزراعة الدولية.
- ٢- أي من أشكال الدول الآتية أقل تعرضاً لحدوث صراعات مع الدول المجاورة الشكل:
  - (أ) البري المجزأ.
  - (ب) المندمج ذو البروز.
  - (ج) البحري المجزأ.
  - (د) المنتظم.
- ٣- يمكن اعتبارها القارة الأكثر تأثيراً في خلق المشكلات التي هددت أمن الأوطان في العالم قارة:
  - (أ) أفريقيا.
  - (ب) أمريكا الجنوبية.
  - (ج) أوروبا.
  - (د) آسيا.
- ٤- من أمثلة الدول غير كاملة العضوية بالأمم المتحدة:
  - (أ) كوريا واليابان.
  - (ب) الصين وسويسرا.
  - (ج) فلسطين والفاتيكان.
  - (د) بنما وتايوان.

(ب) ماذا يحدث إذا ...؟

- ١- استمر العالم بلا حدود سياسية.

- ٢- نجحت عصبة الأمم المتحدة في أداء دورها.

### السؤال الرابع

(أ) تخير الإجابة الصحيحة مما بين أ، ب، ج، د:

- ١- العالم الجغرافي الذي وضع الإطار العام الذي عُرف باسم دورة حياة الدولة هو:
  - (أ) راتزل.
  - (ب) أرسطو.
  - (ج) ابن خلدون.
  - (د) سيجفريد.
- ٢- تشابهت مدينة نواكشوط مع مدينة طوكيو كعاصمة في:
  - (أ) العامل التاريخي.
  - (ب) السيادة القومية.
  - (ج) الحماية والدفاع.
  - (د) الموقع الجغرافي.
- ٣- يرجع التجانس السكاني في دولة هولندا إلى عدة عوامل منها:
  - (أ) الموقع البحري.
  - (ب) المساحة الكبيرة.
  - (ج) الشكل المستطيل.
  - (د) استواء السطح.





## المرشد في المراجعة النهائية

- ٤- العامل الرئيس المؤثر في نشأة الحدود السياسية البحرية الحالية بين ليبيا وتونس يعود إلى:  
 (أ) زيادة عدد السكان.  
 (ب) الحاجة لاستغلال المناطق الهاشمية.  
 (ج) المعاهدات المبرمة بين الدول.  
 (د) تقسيم الاستعمار لمستعمراته.
- ٥- من الأنهار التي لا تخضع لاتفاقية باريس أو برشلونة نهر:  
 (أ) النيل.  
 (ب) الراين.  
 (ج) الفستولا.  
 (د) السين.
- ٦- يُعد القاسم المشترك بين أنظمة الحكم في دولتي فرنسا والمملكة المتحدة هو استخدام الانتخابات المباشرة لاختيار:  
 (أ) رئيس الدولة.  
 (ب) رئيس الوزراء.  
 (ج) السلطة التشريعية.  
 (د) السلطة التنفيذية.
- ٧- تحرص الدولة على تأمين مجالها الحيوي بفرض سيطرتها على المياه:  
 (أ) الداخلية.  
 (ب) الإقليمية.  
 (ج) التكميلية.  
 (د) الدولية.
- ٨- تُعد من نتائج السياسات الاستعمارية التي أحدثت مشكلات سياسية ناتجة عن حركة الرعاة:  
 (أ) تناقص مساحة المراعي.  
 (ب) تحصيل الرسوم والضرائب.  
 (ج) زيادة مساحة الأراضي الزراعية.  
 (د) تشجيع هجرة الرعاة إلى المدن.

### السؤال الخامس

(أ) اكتب كلمة (صواب) أمام العبارة الصحيحة وكلمة (خطأ) أمام العبارة غير الصحيحة فيما يلي مع ذكر السبب في الحالتين:

١- المساحة الكبيرة للدولة ليس لها آثار سلبية.  
 العبارة: ( )  
 السبب: .....

٢- اتحدت ألمانيا الشرقية وألمانيا الغربية في دولة واحدة في أوائل القرن العشرين.  
 العبارة: ( )  
 السبب: .....

٣- يساهم التقدم العلمي والتكنولوجيا في الحد من أثر المناخ السلبي على الدولة.  
 العبارة: ( )  
 السبب: .....





٤- يُعد المجلس الوزاري لمجلس التعاون لدول الخليج العربي الجهاز التنفيذي للمجلس.  
العبارة: ( )  
السبب:

امتحان (بوكلت) للشهادة الثانوية الأزهرية ١٤٤٢هـ - /٢٠٢٢م  
الدور الثاني الجغرافيا (أهبي) الزمن : ثلاث ساعات

السؤال الأول

(أ) بتخير الإجابة الصحيحة مما بين أ ، ب ، ج ، د :

١- إذا تسببت الحدود النهرية بين كل من دولتي بولندا وبيلاروسيا في ظهور مشكلات فإنها سوف تكون بالضرورة مرتبطة بـ :

- (أ) تقسيم المياه.  
(ب) تغيير مجرى النهر.  
(ج) توليد الكهرباء.  
(د) حق الصيد.

٢- يطلق على الثورة الصناعية الثالثة اسم الثورة:

- (أ) الاجتماعية.  
(ب) الصناعية.  
(ج) المعلوماتية.  
(د) الزراعية.

٣- تُعد دولة ..... من الدول البحرية المجزأة.

- (أ) باكستان.  
(ب) إندونيسيا.  
(ج) الصين.  
(د) البرازيل.

٤- من نماذج الاتفاقيات الخاصة بتنظيم حركة الرعاة معاهدة بين السنغال و:

- (أ) نيجيريا.  
(ب) موريتانيا.  
(ج) النيجر.  
(د) غانا.

(ب) ماذا يحدث إذا ...؟

١- كانت معظم الموارد الاقتصادية بالدولة في يد قلة من السكان.

٢- لم توجد قوة عسكرية لدى التكتل الاقتصادي.





السؤال الثاني

اكتب كلمة (صواب) أمام العبارة الصحيحة وكلمة (خطأ) أمام العبارة غير الصحيحة فيما يلي مع ذكر السبب في الحالتين:

(أ) يمكن أن تتعدد اللغات الرسمية في دولة واحدة.

العبارة: ( )

السبب: .....

(ب) تُعد دولة اليابان من الدول البرية المجرأة.

العبارة: ( )

السبب: .....

(ج) للموقع الفلكي للدولة أهمية كبيرة.

العبارة: ( )

السبب: .....

(د) في عام ١٩٨٥م ظهرت ثلاث مشكلات داخل سبته ومليلة.

العبارة: ( )

السبب: .....

السؤال الثالث

(أ) اكتب المفهوم الجغرافي الذي يدل على كل عبارة مما يلي:

- ١- مستويات الإدارة والحكم داخل الدولة. ( )
- ٢- الدولة التي تقع داخل دولة أخرى ولا يمكن الوصول إليها إلا بالمرور بأراضي الدولة المطوقة لها. ( )
- ٣- السوق المشتركة لدول شرق وجنوب أفريقيا. ( )
- ٤- نظام اجتماعي يقوم بأدوار ووظائف متعددة استناداً إلى سلطة أو قوة. ( )



## الترشيد في المراجعة النهائية



(ب) قارن بين كل مما يأتي:

١- الموقع والمساحة كعوامل مؤثرة في العلاقات الدولية.  
الموقع:  
المساحة:

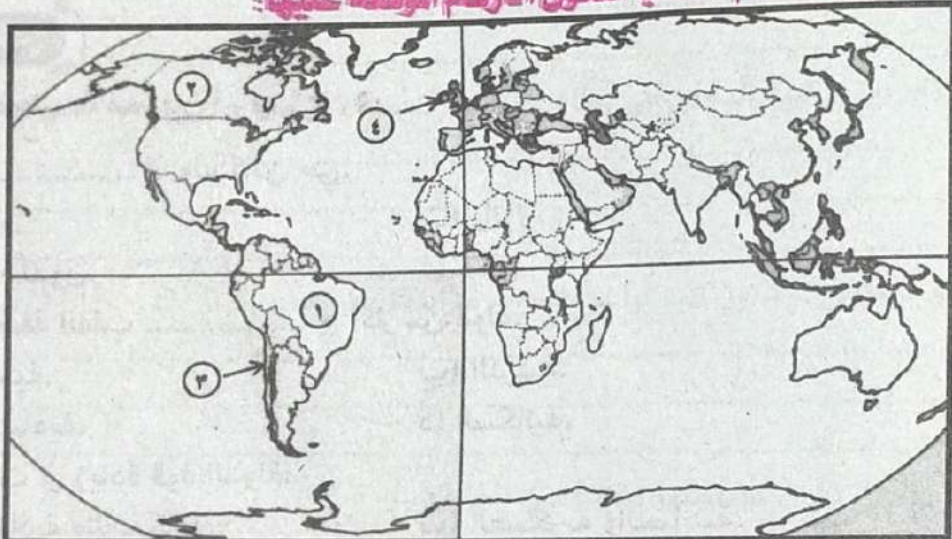
المساحة:

٢- مجلس الاتحاد الأوربي ومجلس أعمال الكوميسا.  
مجلس الاتحاد الأوربي:

مجلس أعمال الكوميسا:

## أسئلة

(أ) أمام خريطة صماء للعالم اكتب مدلول الأرقام الواقعة عليها:



١- دولة فيدرالية .....

٢- دولة بها فائض من الغذاء .....

٣- دولة شكلها مستطيل .....

٤- دولة جزرية .....





(ب) بم تفسر ...؟

١- نشأة منظمة الأمم المتحدة.

٢- تجمع سكان دول مجلس التعاون الخليجي خصائص مشتركة.

٣- للأمم المتحدة دور في حل مشكلة كشمير.

٤- للحدود البحرية للدولة مجموعة من الوظائف.

### السؤال الخامس

تخير الإجابة الصحيحة مما بين أ، ب، ج، د:

١- اعتبر العالم ..... الدولة كائن حي.

(أ) أرسطو.

(ب) راتزل.

(ج) ابن خلدون.

(د) كيلين.

٢- تمتد نفس منطقة القلب ..... في أكثر من دولة.

(أ) السياسية.

(ب) الدينية.

(ج) الاقتصادية.

(د) السكانية.

٣- تساهم الغابات في زيادة قوة الدولة:

(أ) الاقتصادية والعسكرية.

(ب) العسكرية والسياسية.

(ج) السياسية والاجتماعية.

(د) الاجتماعية والبيئية.

٤- شهدت خريطة العالم السياسية في نهاية الألفية الثانية تغيرات نتجت عن:

(أ) الثورة الصناعية الثانية.

(ب) اختلال توازن القوى.

(ج) انتهاء دور حركة عدم الانحياز.

(د) بدء الحرب الباردة.





## المرشد في المراجعة النهائية

- ٥- يتم الاستعانة بالخرائط التفصيلية في رسم الحدود السياسية في مرحلة:  
أ) التعريف والتخطيط.  
ب) التعيين.  
ج) التحديد.  
د) إدارة الحد.
- ٦- يعود الشبه بين المياه الإقليمية والمياه المحايدة إلى:  
أ) فرض الدولة للسيادة العسكرية عليها. ب) ممارسة السيادة القانونية عليها.  
ج) تحديد نطاق المياه لكل منهما.  
د) تمتع كل الدول البحرية بملكيتها.
- ٧- تختلف الدولة عن الأمة في:  
أ) اعتبارها ظاهرة سياسية.  
ب) كثرة عدد سكانها.  
ج) وحدة قرارها السياسي.  
د) صعوبة اختفائها.
- ٨- تُعد الأقليات الروسية نموذجاً للأقليات:  
أ) القومية.  
ب) الدينية.  
ج) اللغوية.  
د) العرقية.

امتحان (بوكلت) للشهادة الثانوية الأزهرية ١٤٤٢هـ - /٢١٠٢٠٢١  
الدور الأول الجغرافيا (أدبي) الزمن : ثلاث ساعات

### السؤال الأول

اكتب كلمة (صواب) أمام العبارة الصحيحة وكلمة (خطأ) أمام العبارة غير الصحيحة فيما يلي مع ذكر السبب في الحالتين:

أ- اتفاق النظم السياسية من المقومات اللازمة لنجاح التكتلات الاقتصادية. ( )

ب- هناك اتفاق بين غالبية الدول على نطاق المياه الإقليمية ٢٥ ميل بحري. ( )

ج- الشكل المجرأ للدولة تكون فيه أراضي الدولة مترابطة جغرافياً. ( )

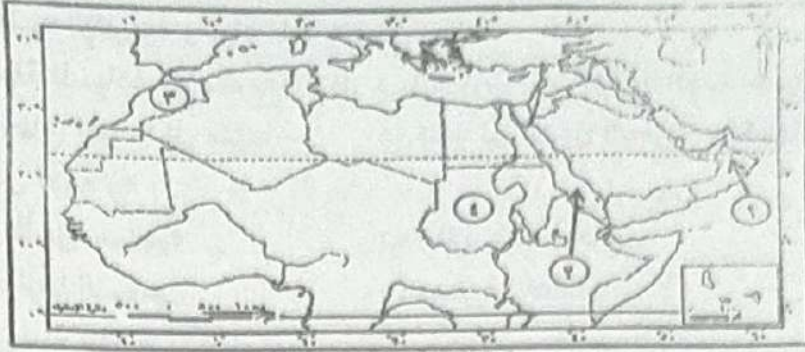
د- تحاول الدول أن تكون عاصمتها بعيدة عن الحدود. ( )





السؤال الثاني

(أ) أمامك خريطة صماء للوطن العربي اكتب مدلول الأرقام على الخريطة:



خريطة الوطن العربي السياسية (صماء)

- ١- دولة في مجلس التعاون لدول الخليج العربي .....
- ٢- البحر .....
- ٣- دولة يجاورها عدد قليل من الدول .....
- ٤- دولة يجاورها عدد كبير من الدول .....

(ب) ما المقصود بالمفاهيم التالية؟

١- الرصيف القاري.

٢- الهجرة الإجبارية.

٣- المياه الداخلية.

٤- المشكلات السياسية.

السؤال الثالث

(أ) اختر الإجابة الصحيحة مما بين أ، ب، ج، د:

١- العواصم المستحدثة هي التي قررت الحكومات نقلها إلى مدن أخرى مثل:

(ب) باريس.

(أ) لندن.

(د) روما.

(ج) أبوجا.





## المُرشد في المراجعة النهائية

٢- من الدول التي تشرف على البحر بواجهة بحرية واحدة:

- (أ) شيلي.  
(ب) السعودية.  
(ج) بريطانيا.  
(د) مصر.

٣- يتم الاستعانة بالخرائط التفصيلية في رسم الحدود السياسية في مرحلة:

- (أ) التعيين.  
(ب) التحديد.  
(ج) التعريف والتخطيط.  
(د) إدارة الحد.

٤- تمتد الحدود السياسية بين فرنسا وإسبانيا على جبال:

- (أ) الإنديز.  
(ب) طوروس.  
(ج) أطلس.  
(د) البرانس.

(ب) ما العلاقة بين كل من .....؟

١- توفر البنية الأساسية والتكتلات الاقتصادية.

٢- العلاقات الدولية والثورة الصناعية.

٣- الحشائش وقوة الدولة الاقتصادية.

٤- التركيب العمري للسكان وقوة الدولة.

### السؤال الرابع

(أ) ما النتائج المترتبة على .....؟

١- المساحة الصغيرة للدولة.





## المرشد في المراجعة النهائية

٢- المناخ الحار أو البارد للدولة.

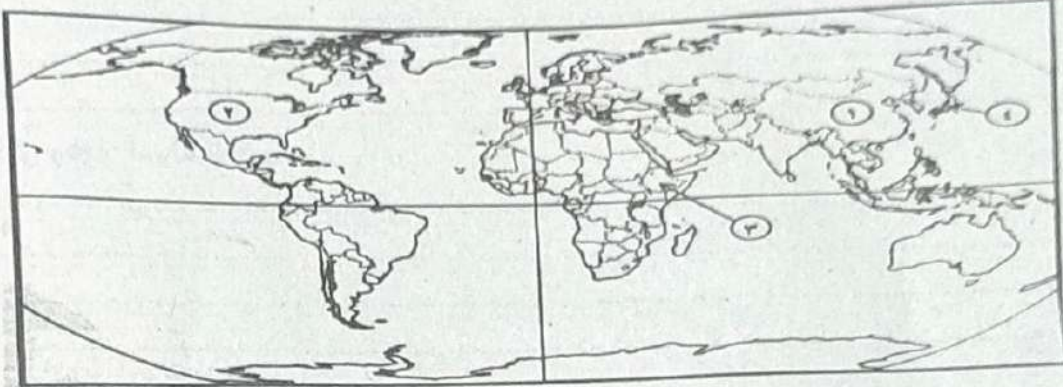
(ب) ماذا يحدث إذا.....؟

١- كانت الأقلية قوية اقتصادياً.

٢- تحولت أجزاء كبيرة من الأراضي الرعوية في الدولة إلى الزراعة.

### السؤال الخامس

(أ) ما المقصود بالمفاهيم التالية؟



١- دولة وحدوية .....

٢- دولة فيدرالية .....

٣- دولة حبيسة .....

٤- دولة بحرية جزرية .....

(ب) **بم تفسر**.....؟

١- المواقع الاستراتيجية للدولة تكسبها أهمية بالغة.

٢- للمرتفعات آثار سلبية على الدولة.





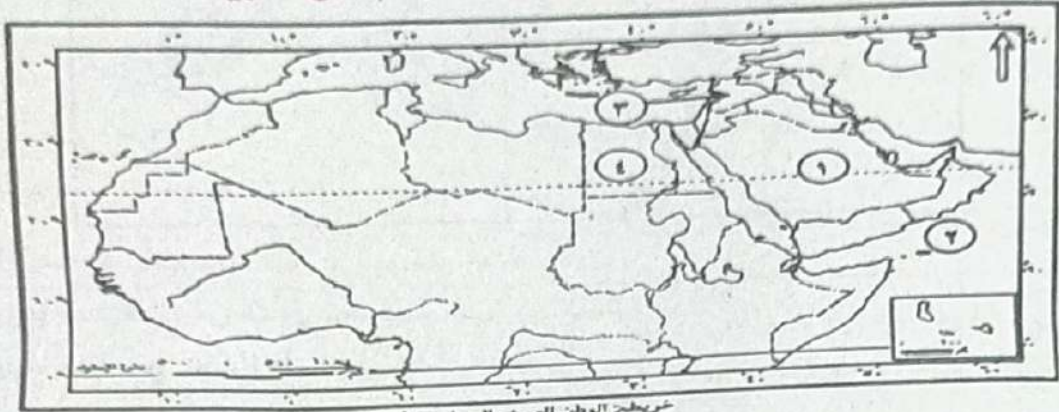
٣- تلجأ بعض الدول للاعتراف بحرية الأقليات في استخدام لغتها القومية.

٤- فشل عصبة الأمم.

امتحان (بوكليت) للشهادة الثانوية الأزهرية ١٤٤٢هـ - ٢٠٢١م  
الدور الثاني الجغرافيا (أدبي) الزمن : ثلاث ساعات

السؤال الأول

(أ) أمامك خريطة صماء للوطن العربي: اكتب مدلول الأرقام على الخريطة:



خريطة الوطن العربي الصماء (صماء)

- ١- دولة بها مقر مجلس التعاون الخليجي .....
- ٢- البحر .....
- ٣- دولة تطل على البحر بواجهة واحدة .....
- ٤- دولة بحرية بوجهتين .....

(ب) ما العلاقة بين كل من .....

- ١- الاستعمار ومشكلة كشمير.

٢- الصراع العالمي ومصادر الطاقة.





٤- الحماية والأمن تُعد الوظيفة الأكثر أهمية للحدود السياسية.

### السؤال الثالث

(أ) ما النتائج المترتبة على.....؟

١- الحرب العالمية الأولى والثانية على تطور خريطة العالم السياسية.

٢- قلة عدد سكان الدولة.

(ب) ما العلاقة بين كل من.....؟

١- أقبال الناس على تعمير مناطق الحدود السياسية.

٢- تم تأمين الحدود البحرية للدولة.

### السؤال الرابع

اكتب كلمة ( صواب ) أمام العبارة الصحيحة وكلمة ( خطأ ) أمام العبارة غير الصحيحة فيما يلي مع ذكر السبب في العاليتين:

أ- تفصل جبال الأنديز بين فرنسا وإسبانيا. ( )

ب- تمسكت إسبانيا بمدينتي سبتة ومليلة المغربيتين ورفضت التنازل عنهما. ( )

ج- لا يدخل من الفحم في التجارة الدولية سوى ١٠% من إنتاجه فقط. ( )



د- يقوم التكامل الاقتصادي بين الدول على أساس التشابه في الموارد.

السؤال الخامس

(أ) اختر الإجابة الصحيحة مما بين أ، ب، ج، د:

١- فيلسوف من أشهر مؤلفاته في الجغرافيا السياسية كتاب (السياسة):

(أ) ابن خلدون.

(ب) أرسطو.

(ج) ماكيندر.

(د) راتزل.

٢- تُعد دولة ..... مثالاً للدولة الفيدرالية:

(أ) مصر.

(ب) فرنسا.

(ج) الصين.

(د) البرازيل.

٣- تُعد دولة ..... من الدول ذات الشكل المستطيل وتمتد من الشرق إلى الغرب:

(أ) شيلي.

(ب) إيطاليا.

(ج) منغوليا.

(د) مصر.

٤- يقوم النظام ..... على أن السلطة التنفيذية مستقلة عن السلطة التشريعية:

(أ) الرئاسي.

(ب) الملكي.

(ج) البريطاني.

(د) شبه الرئاسي.

(ب) اكتب المفهوم أو المصطلح الجغرافي لكل مما يأتي .....

١- منطقة تلي منطقة المياه التكميلية تجاه البحر.

٢- مجموعة تفاعلات بين أطراف أو وحدات دولية.

٣- مجموعات بشرية قليلة العدد ذات خصائص تختلف عن مثيلاتها في مجتمع الأكثرية.

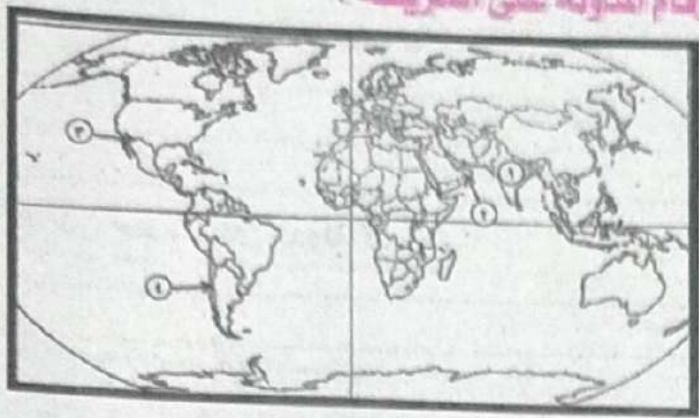
٤- مناطق جغرافية لها مساحة ذات بعدين (طول وعرض).



امتحان (بوكليت) للشهادة الثانوية الأزهرية ١٤٤١هـ - / ٢٠٢٠م  
الدور الأول الجغرافيا (أبج) الزمن : ثلاث ساعات

السؤال الأول

أ) أمامك خريطة صماء للعالم ، اكتب مدلول الأرقام المدونة على الخريطة :



- ١- دولة فيدرالية: .....
- ٢- دولة من دول مجلس التعاون الخليجي العربي: .....
- ٣- نهر يفصل بين الولايات المتحدة والمكسيك: .....
- ٤- دولة شكلها مستطيل: .....

ب) بم تفسر.....؟

١- عدم صلاحية الأنهار كحدود سياسية.

٢- تنوع الموارد الاقتصادية عامل أساسي لنجاح التكتلات الاقتصادية.

٣- تُعد الدولة الكونفدرالية أقل أنواع الدول شيوعاً وأكثرها هشاشة.

٤- تُراقب الدول تدفق السلع والبضائع عبر الحدود السياسية.

السؤال الثاني

أ) ما النتائج المترتبة على.....؟

١- وجود نظام نقل متطور ومتكامل في الدولة.



٢- الحرب العالمية الأولى والثانية على خريطة العالم السياسية.

(ب) ماذا يحدث إذا..... ؟

١- كانت الأقليات مُركزة جغرافياً في مكانٍ ما على أطراف الدولة.

٢- كان حجم سكان الدولة كبيراً.



س٣: (١) أمامك خريطة صماء لقارة أفريقيا ، اكتب مدلول الأرقام المدونة على الخريطة :

١- بحيرة عذبة :.....

٢- خط طول (حد فلكي) :.....

٣- ممر مائي استراتيجي :.....

٤- دولة بحرية :.....

(ب) اكتب المفهوم أو المصطلح الجغرافي لكل مما يأتي :

١- مجموعة القواعد والتشريعات والقوانين التي تُنظّم عملية انتخاب ممثلي الشعب.

٢- عملية تغيير الأنماط والنظم الاقتصادية والاجتماعية تقوم بها الدول الأقوى لفرض هيمنتها على الدول الأخرى.

٣- مناطق بحرية مفتوحة للجميع بدون قيود.

٤- انتقال شخص من دولة إلى أخرى من غير المنافذ الرسمية والطرق القانونية.





السؤال الرابع

دُل على صحة كل عبارة مما يأتي :  
أ) الدول البحريّة أفضل موقعاً من الدول الحبيسة.

ب) يتمنّع سُكّان دول مجلس التعاون الخليجي بخصائص زادت من تلاحمهم.

ج) يوجد في الدولة مواقع ذات أهمية لا تُقل عن العاصمة.

د) يُسهم التّنوّع المناخي للدولة في الاقتراب من الاكتفاء الذاتي .

السؤال الخامس

أ) اختر الإجابة الصحيحة مما بين (أ ، ب ، ج ، د) :

- ١- من الدول ذات الشكل المندمج ذو البروز :  
أ) إيطاليا.      ب) فرنسا .      ج) أفغانستان.      د) مصر.
- ٢- يقوم الاتحاد الأوربي على ركيزتين هما: سيادة .....  
أ) القانون وتحقيق العدالة.      ب) الحكومة وتحقيق العدالة.  
ج) الدولة وتحقيق التكافؤ.      د) القانون وتحقيق الديمقراطية.
- ٣- الحدود الجبلية بين فرنسا وأسبانيا : جبال .....  
أ) البرانس.      ب) الإنديز.      ج) الألب.      د) الهيمالايا.
- ٤- من العواصم الساحلية.....  
أ) روما.      ب) أنقرة.      ج) موسكو.      د) نواكشوط.

ب) ما العلاقة بين كل من ..... ؟

- ١- المساحة الكبيرة ، وقُوّة الدولة .



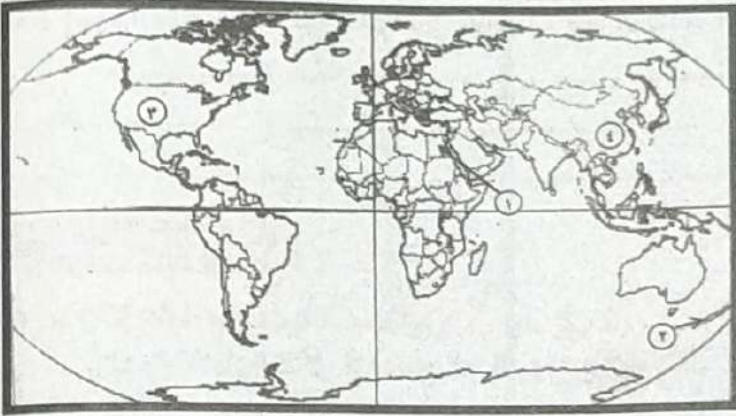


٢- النزاع الدائر بين الدول على الأنهار الدولية ، وحقوق الدول في النهر .

٣- الحد السياسي ، وسيادة الدولة .

٤- الجغرافيا السياسية ، وعلم الاستشعار من بُعد .

امتحان (بوكلت) للشهادة الثانوية الأزهرية ١٤٤١هـ - /٢٠٢٠م  
الدور الثاني الجغرافيا (أدبي) الزمن : ثلاث ساعات



السؤال الأول

أ) أمامك خريطة صماء للعالم ، اكتب  
مدلول الأرقام المدونة على الخريطة:

- ١- دولة وحدوية مركزية: .....
- ٢- دولة هامشية: .....
- ٣- دولة برية مجزأة : .....
- ٤- دولة حجم سكانها كبير: .....

ب) بم تفسر.....؟

١- توافر البنية الأساسية من مقومات نجاح التكتلات الاقتصادية.

٢- تُعد نُظم المعلومات الجغرافية إضافة للجغرافيا السياسية.

٣- تُساعد وفرة الحشائش على نمو اقتصاد بعض الدول.





## المُرشد في المراجعة النهائية

٤- تلجأ بعض الدول للاعتراف بـ بـحرية الأقليات في استخدام لغتها القومية.

### السؤال الثاني

أ) ما النتائج المترتبة على.....؟

١- أثر تقسيم الاستعمار لمستعمراته على الحدود السياسية.

٢- المساحة الصغيرة للدولة.

ب) ماذا يحدث إذا.....؟

١- كان وطن الأقلية على أطراف دولة معينة.

٢- كان شكل الدولة مستطيلاً يمتد من الشمال إلى الجنوب .

### السؤال الثالث

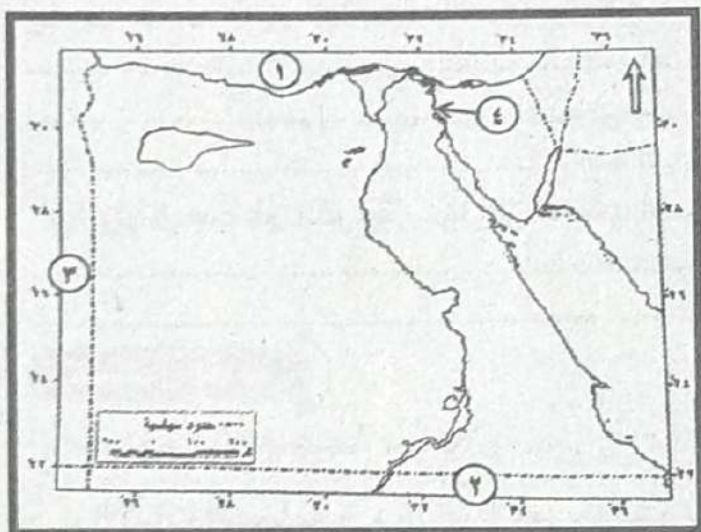
أ) أمامك خريطة صفاء لمصر ، اكتب مدلول الأرقام المدونة على الخريطة:

١- حد طبيعي:.....

٢- دولة تحد مصر من الجنوب:.....

٣- دولة تحد مصر من الغرب:.....

٤- ممر مائي استراتيجي :.....







## المُرشد في المراجعة النهائية

ب) اكتب المفهوم أو المصطلح الجغرافي لكل مما يأتي :

١- الأساليب والوسائل المستخدمة في عملية الإنتاج.

٢- الأنهار التي تجري في أكثر من دولة أو تفصل بين دولتين.

٣- موقع الدولة بالنسبة لخطوط الطول ودوائر العرض.

٤- رُقعة الأرض التي تشغلها الدولة وهي مُحددة بحدود سياسية واضحة.

### السؤال الرابع

دُكِّل على صحة كل عبارة مما يأتي :

أ) الطابع السهلي له آثار إيجابية على قوة الدولة.

ب) تُمثِّل الدوافع الاقتصادية أهم الدوافع للهجرة بالنسبة للدولة المرسلّة.

ج) من عوامل اختيار العاصمة : الحماية والدفاع.

د) تُؤثِّر الهجرة غير الشرعية سلبياً على الجانب الصحي للدولة.

### السؤال الخامس

أ) اختر الإجابة الصحيحة مما بين (أ ، ب ، ج ، د) :

١- الأقلّيات المُسلِّمة في دول أوروبا وأمريكا الشمالية والجنوبية تعتبر من الأقلّيات:.....

أ) القومية.      ب) الدينية.      ج) اللغوية.      د) العرقية.





- ٢- من الدول البحريّة المُجرّأة :  
 (أ) الولايات المتحدة. (ب) أفغانستان. (ج) اليابان. (د) إيطاليا.  
 ٣- منطقة بحريّة مفتوحة للجميع ولا تدّعي دولة ملكيتها لها :  
 (أ) أعالي البحار. (ب) المياه الإقليمية. (ج) المياه المحايدة. (د) المياه الداخلية.  
 ٤- ظهر مصطلح (الجيوبولتيك) لأول مرة على يد.....  
 (أ) راتزل. (ب) كيلين. (ج) أرسطو. (د) ماكيندر.

(ب) ضع علامة (✓) أمام العبارة الصحيحة ، وعلامة (x) أمام العبارة غير الصحيحة:

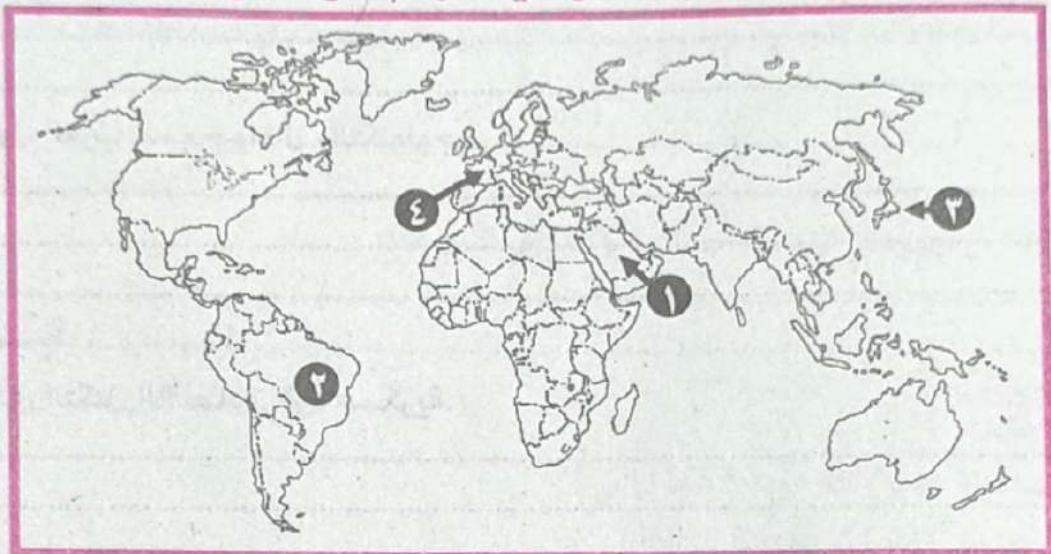
- ١- يعتمد التقدّم الصناعي للدول في الوقت الحالي على وفرة المواد الخام الأولية . ( )  
 ٢- يحق لأيّ دولة أن تتدخل في حرية الملاحة في المياه الإقليمية. ( )  
 ٣- تُعدّ (الصين) مثالاً للدولة الوجودية كبيرة المساحة. ( )  
 ٤- اعتبر (راتزل) الدولة كائناً حياً ينمو ويتوسع. ( )

امتحان الشهادة الثانوية الأزهرية لسنة ١٤٤٠هـ (٢٠١٨/١٩-٢٠٢٠م)

الدور الأول الجغرافيا (أدبي) الزمن : ثلاث ساعات

### السؤال الأول

أ) أمامك خريطة صماء للعالم ، اكتب ما تدل عليه الأرقام المدونة على الخريطة:



- ١- دولة بها مقر مجلس التعاون لدول الخليج :  
 ٢- دولة فيدرالية :  
 ٣- دولة وحدوية جزرية :  
 ٤- دولة مندمجة :

(ب) بم تفسر.....؟

- ١- تتميز دراسة سياسة النظام العالمي بالشمولية.





## المرشد في المراجعة النهائية

٢- تُعد الجوانب الاقتصادية من أهم مقومات الدولة.

٣- سقوط نظرية الحد الآمن في العصر الحديث.

٤- حدوث الهجرة الإجبارية (القسرية).

### السؤال الثاني

أ) ما النتائج المترتبة على.....؟

١- هدم (سور برلين) في ألمانيا ، وأثره على حلف وارسو.

٢- احتكار دول الغرب للسلاح والمال والتكنولوجيا.

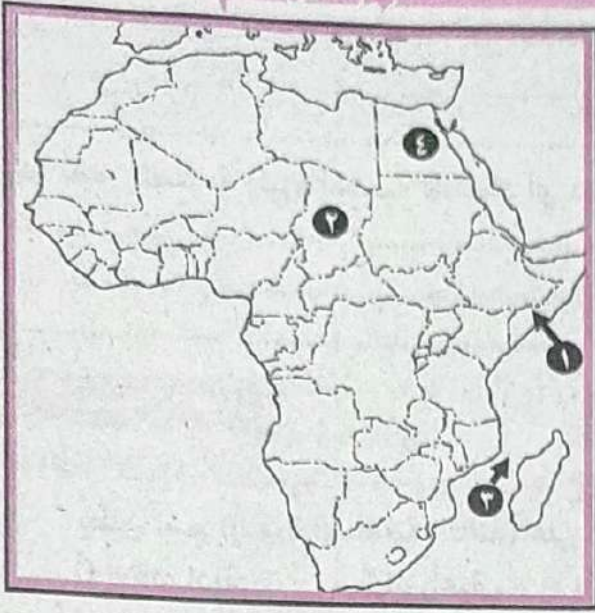
ب) ماذا يحدث إذا.....؟

١- لم يكن لدى التكتل الاقتصادي قوة عسكرية.

٢- لم تلتزم الدول بالاتفاقيات الخاصة بالأنهار الدولية.



السؤال الثالث



أ) أمامك خريطة صماء لقارة أفريقيا ، اكتب ما تدل عليه الأرقام المدونة على الخريطة :

- ١- دولة تواجه البحر بوجهين : .....
- ٢- دولة حبيسة : .....
- ٣- مضيق : .....
- ٤- دولة ذات شكل مندمج : .....

ب) اكتب ما تشير إليه كل عبارة مما يأتي :

١- الدول التي تقع داخل اليابس وليس لها أي اتصال مباشر بالبحار المفتوحة.

٢- الأسلوب القانوني حيث يصدر الحكم بين دولتين ويكون ملزماً للطرفين مثل : قضية طابا.

٣- أحد مؤسسات الاتحاد الأوربي ، ويقوم بإصدار القوانين والتشريعات في ضوء المقترحات المقدمة من قبل المفوضية الأوروبية.

٤- مؤسسة تُكرّس جهودها للتنمية الصناعية في الدول النامية .

السؤال الرابع

دّل على صحة أو خطأ كل عبارة مما يأتي :

أ) ظهور العديد من الأقليات الدينية في العالم.

ب) كان لانتشار الحروب أثره في ظهور المنظمات الدولية.





## المُرشد في المراجعة النهائية

ج) الحد البحري للدولة أقل أهمية عن حدّها البري.

د) تُعتبر الصناعة ركيزة أساسية لاقتصاد أي دولة .

### السؤال الخامس

أ) اختر الإجابة الصحيحة مما بين (أ، ب، ج، د) :

- ١- يُطلق اسم (الثورة الصناعية الثالثة) على الثورة :  
أ) الاقتصادية.      ب) الزراعية.      ج) الثقافية.      د) المعلوماتية .
- ٢- تُعتبر المقومات ..... من أهم المقومات التي تُشجع على قيام التكتلات الاقتصادية.  
أ) الطبيعية.      ب) البشرية.      ج) الاقتصادية.      د) العسكرية.
- ٣- يُعد نهر..... من أمثلة الأنهار الدولية التي تقطع الحدود السياسية للعديد من الدول.  
أ) الجانج.      ب) النيل.      ج) المسيسيبي.      د) السين.
- ٤- دولة..... من الدول الآسيوية كثيرة الجيران.  
أ) الهند.      ب) باكستان.      ج) الصين.      د) منغوليا.

ب) ما العلاقة بين كل من.....؟

١- الاستعمار ، ومشكلة سبتة ومليلة.

٢- الجغرافيا السياسية ، وفروع الجغرافيا الأخرى.

٣- حجم السكان ، وقوة الدولة.

٤- الاستعمار ، ونشأة الحدود السياسية.

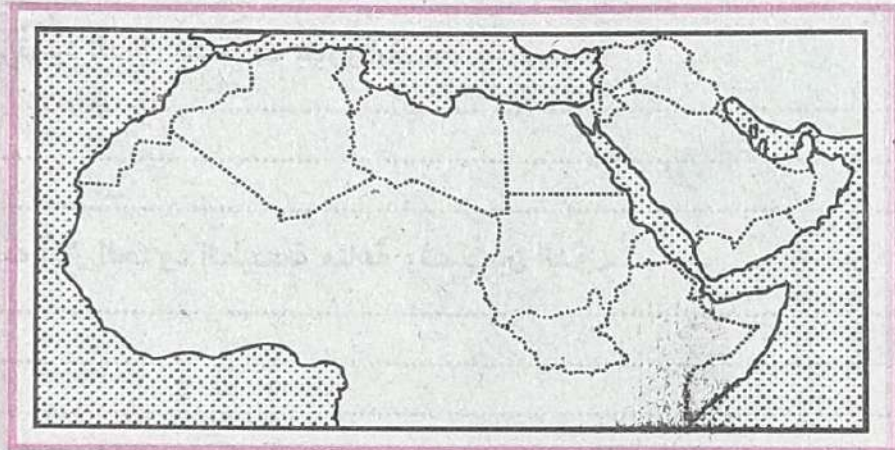


السؤال الثاني

- ١- اختر الإجابة الصحيحة مما بين (أ، ب، ج، د) :
- ٢- تُعد..... أخطر الجوانب البشرية تأثيراً في السلوك السياسي للدول ووزنها على خريطة العالم السياسية.  
(أ) المهارات. (ب) المواد الخام. (ج) التكنولوجيا. (د) الموارد البشرية.
- ٣- تهديد سيادة الدولة على أراضيها أو استقرار شعبها من الداخل أو الخارج من المشكلات.....  
(أ) العسكرية. (ب) السياسية. (ج) الاقتصادية. (د) الاجتماعية.
- ٤- الأقليات الروسية من نماذج الأقليات.....  
(أ) الدينية. (ب) العرقية. (ج) اللغوية. (د) القومية.
- ٥- شاع مفهوم (النظام العالمي الجديد) عام ١٩٩٠م في أزمة الخليج على يد.....  
(أ) ولسون. (ب) كلينتون. (ج) بوش الأب. (د) جورج باتشوف.
- ٦- لم تُؤفّق دولة..... على ميثاق حلف وارسو، ولكنها تعهدت بدعم الأعضاء في الحلف.  
(أ) رومانيا. (ب) ألبانيا. (ج) الصين. (د) الهند.
- ٧- (ب) دُلل على صحة أو خطأ كل عبارة مما يأتي :
- ١- تختلف دول العالم من حيث المساحة .
- ٢- الدول الكونفدرالية أكثر الدول شيوعاً في العالم.
- ٣- تعمل الجغرافية السياسية على تعزيز الأمن الوطني والسلام العالمي.

السؤال الثاني

- ١- أمانك خريطة صماء للوطن العربي، حدّد عليها ما يلي :







## المُرشد في المراجعة النهائية

١- دولة عربية تُجاور (مصر) من الشرق :.....

٢- دولة عربية وقَّعت اتفاقية لانتقال الرِّعَاة مع السنغال عام ١٩٨١م:.....

٣- دولة عربية أعلن فيها عن قيام مجلس التعاون لدول الخليج:.....

٤- مضيق..... بين اليمن والصومال وجيبوتي.

(ب) ما العلاقة بين كلٍّ من.....؟

١- هيئة الأمم المتحدة ، والنواحي السياسية في العالم.

٢- الحروب ، والحدود السياسية .

٣- الدين ، وقوة الدولة .

٤- الموارد الاقتصادية ، وقوة الدولة.

### السؤال الثالث

بم تفسر.....؟

(أ) الموقع بالنسبة لدوائر العرض أكثر أهمية للدولة.

(ب) المشكلات التي تُهدِّد الدول مشكلات موروثية.

(ج) الحدود الجبلية أكثر الحدود الطبيعية مناعةً وفصلاً بين الدول.





د) تدفق المهاجرين غير الشرعيين مصدر تهديد .

السؤال الرابع

أ) ما النتائج المترتبة على..... ؟  
أ) التكامل الذي تسعى إليه التكتلات الاقتصادية.

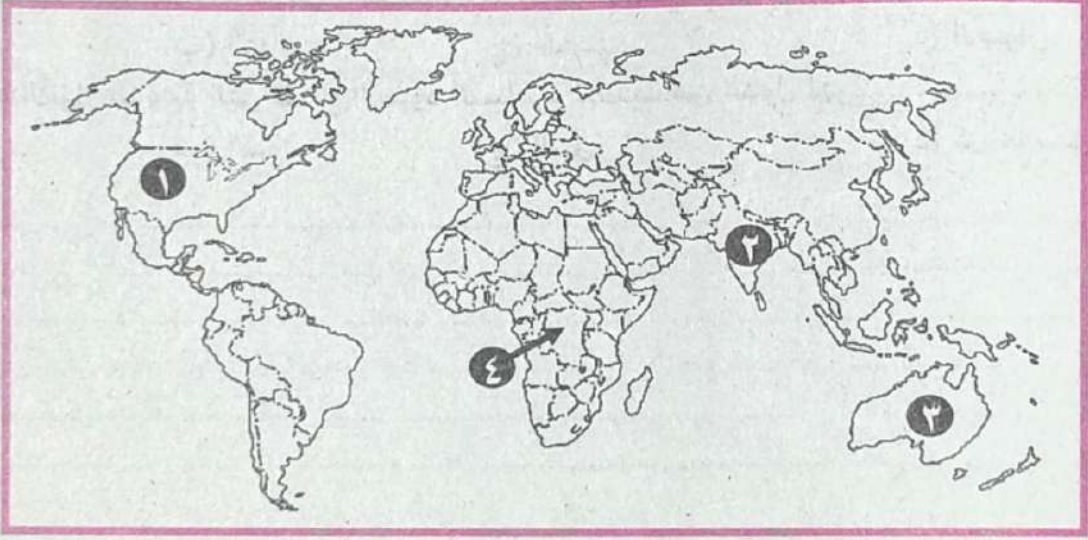
ب) سياسة الإصلاح للرئيس السوفيتي جورباتشوف.

ج) تأثير النظام العالمي الجديد على الدول النامية والدول المتقدمة.

د) العولمة وظهور الشركات متعددة الجنسيات .

السؤال الخامس

أ) أمامك خريطة صماء للعالم ، اكتب ما تدل عليه الأرقام المدونة على الخريطة :







- ١- دولة لها حدود نهريّة مع المكسيك : .....
  - ٢- دولة متنوعّة التضاريس : .....
  - ٣- دولة فيدرالية : .....
  - ٤- الدولة ذات الشكل المندمج ذو البروز : .....
- (ب) اكتب ما تشير إليه كل عبارة مما يأتي :
- ١- منطقة ذات أهمية وثقل اقتصادي أو سكاني أو ثقافي أو سياسي في الدولة.
  - ٢- نظام حكم يتميز بوجود استقلال كامل بين السلطات الثلاث في الدولة.
  - ٣- مكان تتركز فيه الأقلية وتتشكّل داخله ملامحها الخاصة.
  - ٤- أحد أنشطة دول مجلس التعاون لدول الخليج العربي ، ومهمته حماية أمن الدول الأعضاء.

المعتمدون المفوضون الأوروبيون المندمجون المندمجون المندمجون

المعتمدون المفوضون الأوروبيون المندمجون المندمجون المندمجون

### السؤال الأول

(أ) اختر الإجابة الصحيحة مما بين (أ، ب، ج، د) :

- ١- تُعدّ..... الجهاز التنفيذي للاتحاد الأوروبي حيث تُشرف على ميزانية الاتحاد.  
(أ) المجلس الأوروبي. (ب) البرلمان الأوروبي. (ج) مجلس الاتحاد الأوروبي. (د) المفوضية الأوروبية.
- ٢- من الدول الآسيوية كثيرة الجيران دولة.....  
(أ) البرازيل. (ب) الهند. (ج) الصين. (د) إسبانيا.
- ٣- السبب الرئيسي لنشأة الحدود السياسية في إفريقيا.....  
(أ) زيادة السكان. (ب) الحروب. (ج) المعاهدات المبرمة. (د) الاستعمار.
- ٤- يعد الإنتاج..... من أهم متطلبات الأمن القومي للدولة.  
(أ) الصناعي. (ب) الزراعي. (ج) المعدني. (د) الحيواني.
- ٥- من أمثلة الأنهار الدولية التي تقطع الحدود السياسية للعديد من الدول نهر.....  
(أ) المسيسيبي. (ب) السين. (ج) النيل. (د) كل ما سبق.





ب) قارن بين عناصر القوة الاقتصادية ، وعناصر القوة العسكرية للدولة .  
(يكتفى بثلاثة عناصر لكل منهما)

عناصر القوة الاقتصادية	عناصر القوة العسكرية
.....-١١	.....-١١
.....	.....
.....-٢٢	.....-٢٢
.....	.....
.....-٣٣	.....-٣٣
.....	.....

**السؤال الثاني**

١- إن المشاركة في الانتخابات واجب وطني ، فكل مصري ومصرية قد شارك بحرية واختار بحرية ،  
ليرسم مستقبل بلده بإيجابية . **في ضوء ما درستنا أجب عما يأتي :**  
-١١ صنف أنظمة الحكم من حيث الشكل وتنظيم العلاقات بين السلطات الثلاث.

.....

.....

.....

.....

.....

-٢٢ ما أهمية جغرافية الانتخابات كفرع للجغرافية السياسية ؟

.....

.....

.....

.....

.....

ب) ما العلاقة بين كل من.....؟؟

-١ الحروب ، والحدود السياسية للدولة.

.....

.....

.....

.....

.....





## المرشد في المراجعة النهائية

٢- أزمة الطاقة ، والعلاقات الدولية.

٣- حجم الأقلية وقوتها الاقتصادية ، واستقرار الدولة.

### السؤال الثالث

بم تفسر.....؟

أ) للحدود السياسية النهرية مميزات وعيوب.

ب) انهيار حلف (وارسو).

ج) أهمية الحدود السياسية البحرية للدولة.

د) تُعد نظم المعلومات الجغرافية إضافة هائلة للجغرافيا السياسية.

### السؤال الرابع

اكتب كلمة (صواب) أمام العبارة الصحيحة ، أو كلمة (خطأ) أمام العبارة الخطأ ، مع ذكر السبب في الحالتين :

أ) ظهرت هيئة الأمم المتحدة بعد الحرب العالمية الثانية ١٩٤٥م.



ب) يدور الصّراع الرّاهن بين الدول الكُبرى حول توظيف التكنولوجيا.

ج) الحدود السياسية مجرد خطوط تُمرّ في المناطق الجبلية ، ويختلف شكلها بين الدول.

د) استفادت كُُل من (تركيا ومنغوليا) بامتدادهما من الشرق إلى الغرب.

### السؤال الثامن

أ) أمامك خريطة صماء للعالم ، اكتب ما تدل عليه الأرقام المدونة على الخريطة :



- ١- دولة لها حدود بحيرية : .....
- ٢- دولة متنوعة التضاريس : .....
- ٣- دولة نموذج للنظام شبه الرئاسي : .....
- ٤- دولة جزرية : .....

ب) اكتب ما تشير إليه كل عبارة من العبارات الآتية :

١- مؤسسة تقوم بتنظيم القضايا النقدية الدولية.

٢- فرع من فروع الجغرافيا البشرية يهتم بدراسة المقومات الجغرافية (الطبيعية والبشرية) للدولة وتنظيمها الداخلي ، وتأثير ذلك في قوتها السياسية وعلاقتها الدولية.

٣- منظمة سياسية واقتصادية إقليمية تضم ست دول عربية.



٤٤ مجموعة التفاعلات بين أعضاء المجتمع الدولي على المستويين الإقليمي والعالمي ، والتي تجري وفقاً لنسق أو منظومة معينة مُستقاة من فلسفة العولمة.

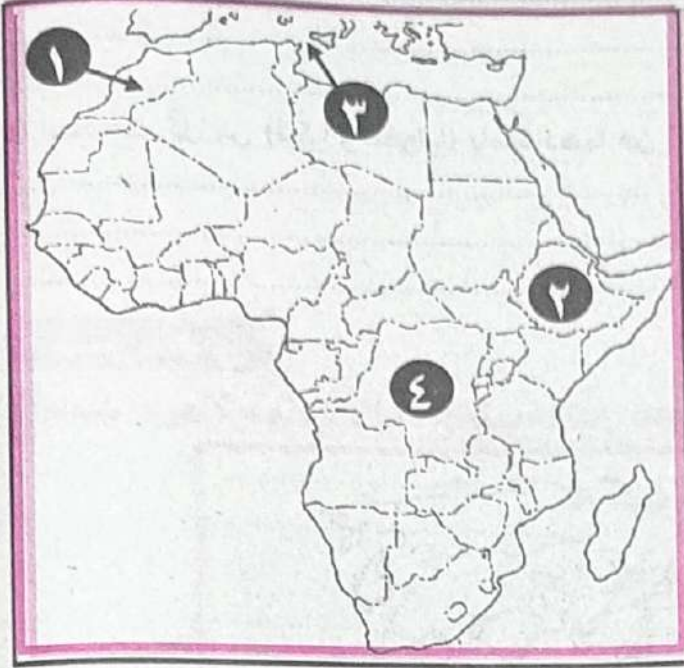
الصفحة رقم ١٤٥٦٨ / ١٤٥٦٩ - (٢٠١٧/٢٠١٨)

الزمن : ثلاث ساعات

الجغرافيا (أبج)

الدور الثاني

### السؤال الأول



١) أمامك خريطة صماء لقارة أفريقيا ، اكتب ما تدر عليه الأرقام المدونة عليها :

١- دولة يجاورها عدد قليل من الدول: .....

٢- دولة حبيسة: .....

٣- مضيق: .....

٤- دولة ذات شكل مُندمج ذو بروز: .....

٢) اكتب ما تشير إليه كل عبارة من العبارات الآتية :

١- هي عبارة عن المناطق البحرية المفتوحة للجميع بدون قيود ، والتي لا تدعي دولة ملكيتها ، أي (مشاع للبشرية) ، ولا يحق لأي دولة أن تتدخل في حرية الملاحة فيها.

٢- منظمة عالمية نشأت بعد عقد مؤتمر الصلح عام ١٩١٩م في باريس.

٣- يُطلق هذا الشكل على الدولة إذا بلغ طولها ستة أمثال عرضها.

٤- تعني (مستويات الإدارة والحكم) داخل الدولة.

### السؤال الثاني

١) اختر الإجابة الصحيحة مما بين (أ، ب، ج، د):

١- تتنازع دولتي ..... على مدينتي سبتة ومليلة.

أ) المغرب وبريطانيا. ب) المغرب وفرنسا. ج) المغرب وإسبانيا. د) المغرب والجزائر.

٢- جاء الميлад الحقيقي للجغرافية السياسية على يد العالم .....

أ) أرسطو. ب) ابن خلدون. ج) راتزل. د) رودلف كيلين.

٣- أكبر دولة في العالم من حيث المساحة دولة .....

أ) الولايات المتحدة. ب) روسيا الاتحادية. ج) الصين. د) كندا.





- ٤- يُعد..... أحد الأجهزة التابعة للأمم المتحدة ، ويهدف إلى تطوير التعاون الدولي.  
 (أ) صندوق النقد الدولي.  
 (ب) البنك الدولي للإنشاء والتعمير.  
 (ج) مركز التجارة الدولي.  
 (د) منظمة الأغذية والزراعة الدولية.

(ب) ما العلاقة بين كل من.....؟

١- القوة العسكرية ، والعلاقات الدولية ، وخريطة العالم السياسية.

٢- نظم الاستشعار من بُعد ، والجغرافيا السياسية.

٣- التركيب العُمري ، وقوة الدولة أو ضعفها.

٤- التَّقْدُم العلمي والتكنولوجي ، والأثر السلبي على المناخ.

السؤال الثالث

ما النتائج المترتبة على...؟

(أ) تشديد الاتحاد السوفيتي (السابق) حصاره على برلين عام ١٩٤٨م.

(ب) الحرب العالمية الأولى والثانية ، وتطور خريطة العالم السياسية.

(ج) حُكْم محكمة العدل الدولية بين ليبيا وتونس.

(د) تَفَكُّك الاتحاد السوفيتي ويوغسلافيا ، وظهور الأقليات.





السؤال الرابع

أ) الأحلاف العسكرية ظاهرة قديمة شهدها العالم على مر العصور، إلا أنه زاد انتشارها في العصر الحديث في ضوء العبارة وما درست أجب عما يأتي:

١- ما الأثر الدولي والإقليمي لحلف شمال الأطلسي (الناتو)؟

٢- اذكر أثر الموقع والمساحة في العلاقات الدولية.

ب) ماذا يحدث إذا....؟

١- استطاعت الدولة أن تُحقق الاكتفاء الذاتي من الغذاء.

٢- لم يتم رسم الحدود السياسية في إقليم السافانا الإفريقية.

السؤال الخامس

أ) أمام خريطة صماء للعالم، اكتب ما تدل عليه الأرقام المدونة على الخريطة:



١- دولة بها مقر منظمة الأمم المتحدة.





- ٢- دولة فيدرالية.....
- ٣- دولة وحدوية كبيرة المساحة.....
- ٤- دولة بحرية مجزأة.....
- ٥- جبال..... الحد الجبلي بين شيلي والأرجنتين.

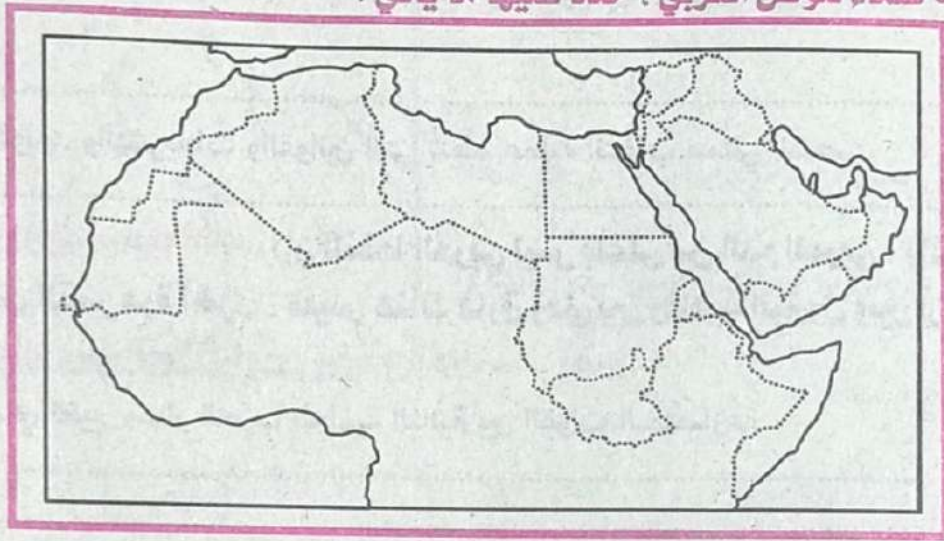
ب) **قارن بين النظام البرلماني والنظام شبه الرئاسي) من حيث السمات المميزة لكل منهما.**

النظام شبه الرئاسي	النظام البرلماني
.....	.....
.....	.....
.....	.....
.....	.....
.....	.....
.....	.....

امتحان الشهادة الثانوية الأزهرية لسنة ١٤٢٧/١٤٢٨ هـ (٢٠١٦/٢٠١٧ م)  
 الدور الأول الجغرافيا (أدبي) الزمن : ثلاث ساعات

**السؤال الأول**

١- أمامك خريطة صماء للوطن العربي ، حدّد عليها ما يأتي :



١- دولة أعلنَ فيها عن قيام مجلس التعاون لدول الخليج العربي عام ١٩٨١ م.

٢- مدينتي (سبته ومليلة) المغربيتين.

٣- دولة عربية تشترك في حدودها السياسية مع ثماني دول عربية.

٤- مضيق يصل خليج عدن بالبحر الأحمر.



بداية اختيار الإجابة الصحيحة مما بين (أ، ب، ج، د) :

- ١١- يَعدُّ ..... أشهر من كتب في الجغرافيا السياسية قديماً.  
 (أ) ابن خلدون. (ب) أرسطو. (ج) راتزل. (د) رودلف كيلين.
- ١٢- الدولة المُقسَّمة إلى وحدات إدارية قد تكون: ولايات، أو مقاطعات، أو محافظات، هي الدولة .....  
 (أ) المركزية. (ب) الفيدرالية. (ج) الكونفدرالية. (د) الوحديّة.
- ١٣- تُستخدم طرق مختلفة في توضيح الحد السياسي، مثل: الأسلاك الشائكة، أو بناء الأسوار في مرحلة.....  
 (أ) التعريف والتخطيط. (ب) التحديد. (ج) التعيين. (د) إدارة الحد.
- ١٤- تكون الحدود ..... في أشكال مختلفة مع خطوط الطول ودوائر العرض، أو خطوط مستقيمة، أو أقواس، أو على أبعاد متساوية من ساحل، أو سلسلة جبلية.  
 (أ) البحرية. (ب) الحضارية. (ج) الهندسية. (د) الفلكية.

س٢: أذا كتب ما تدل عليه كل عبارة من العبارات الآتية :

١- العواصم التي ظلّت لقرون عديدة مركزاً اقتصادياً وثقافياً رئيسياً في الدولة.

٢- منطقة جغرافية لها مساحة ذات بعدي طول وعرض.

٣- عملية تغيير الأمط والنظم الاقتصادية والاجتماعية تقوم بها الدول الأقوى لفرض هيمنتها على الدول الأخرى.

٤- مجموعة القواعد والتشريعات والقوانين التي تُنظّم عملية انتخاب ممثلي الشعب

بداية يقول الشيخ (زايد) رحمه الله: (إن النفط العربي ليس بأعلى من الدّم العربي ، واننا على استعداد للعودة إلى أكل التمر مرة أخرى ، فليس هناك فارق زمني بين رفاهية البترول وبين أن نعود إلى أكل التمرات). في ضوء ذلك القول المأثور، وضوء ما درست... وضع...

١- دور البترول في تغيير مسار الحرب العالمية الثانية بين القوات المتصارعة.

٢- ما أهم أنشطة وأجهزة مجلس التعاون لدول الخليج العربي ؟

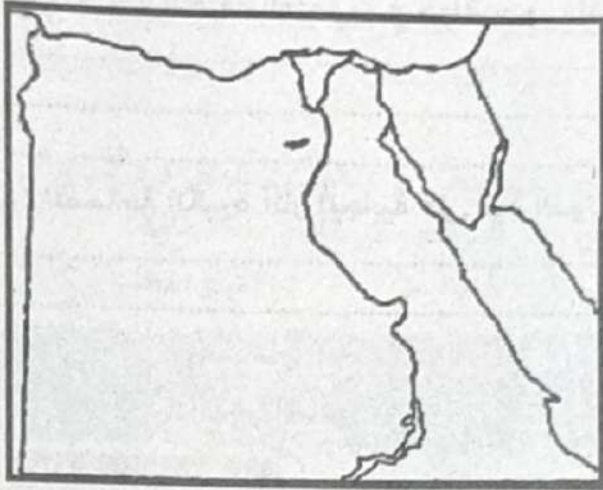


السؤال الثالث

ا) اذكر جغرافياً على صفة أو خطأ لكل عبارة من العبارات الآتية:  
 (الكوميسا هي: منطقة التجارة الحرة لأمريكا الشمالية ، وتأسست عام ١٩٩٢م.

ب) الحدود السياسية النهرية لها بعض العيوب.

ج) شهدت خريطة العالم السياسية تغيرات سريعة في السنوات العشر الأخيرة من القرن الماضي.



السؤال الرابع

ا) املك خريطة صماء لجمهورية مصر العربية ، حدّد عليها ما يأتي:

- ١- خليج السويس.
- ٢- حدّ هندسي فلكي يسير مع دائرة عرض ٢٢ درجة شمالاً.
- ٣- مدينة رفح.
- ٤- حدّ طبيعي بحري وبرّي ، ثم اكتب اسم البحر والدولة المجاورة.

ب) قارن بين كل من ...:

١- الأمة ، والدولة.

الدولة	الأمة
.....	.....
.....	.....
.....	.....
.....	.....
.....	.....
.....	.....



٢- أهداف قيام التكتلات الاقتصادية ، وأهداف الأحلاف العسكرية. (يكتفى بهدفين لكل منهما)

أهداف قيام التكتلات الاقتصادية	أهداف الأحلاف العسكرية
.....	.....
.....	.....
.....	.....
.....	.....
.....	.....

س٥: بم تفسر.....؟

أ) للحدود البحرية أهمية كبرى لا تقل أهمية وخطورة بالنسبة للدول عن حدودها البرية.

ب) للحجم الكبير لسكان الدولة مميزات وسلبيات.

ج) تختلف التفرقة العنصرية في دولة جنوب أفريقيا عن نظيرتها في الولايات المتحدة.

د) للمساحة الكبيرة آثار إيجابية على قوة الدولة.

امتحان الشهادة الثانوية الأزهرية لسنة ١٤٢٧/١٤٢٨ هـ (١٦/٢-١٧-٢٠٢١ م)  
الدور الثاني الجغرافيا (أدبي) الزمن : ثلاث ساعات

### السؤال الأول

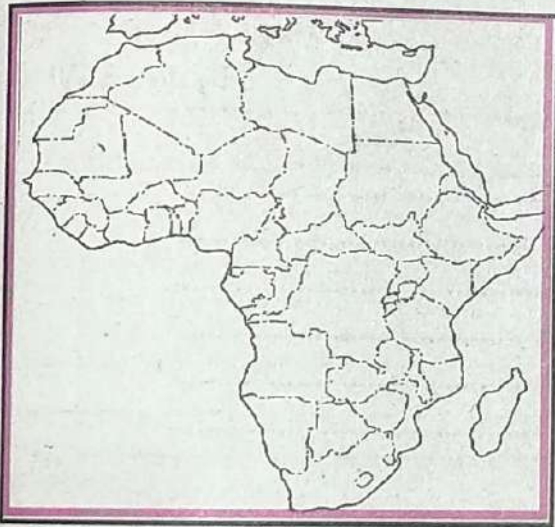
أ) أمامك خريطة صماء لقارة أفريقيا، حدّد عليها ما يلي:

١- دولة عانت كثيراً من سياسية التفرقة العنصرية :

٢- مضيق يفصل القارة الأفريقية عن القارة الأوربية :

٣- دولة عربية يجاورها سبع دول:

٤- دولة عربية لها جبهتان بحريتان:







(ب) يَم تفسر.....؟

١- انهيار حلف (وَأرسو).

٢- صُعوبة استخدام الأنهار كحدود سياسية.

٣- للهجرة السكانية آثار إيجابية ، وأخرى سلبية على الدول المرسله والمستقبلة للمهاجرين.

### السؤال الثاني

(أ) اختر الإجابة الصحيحة مما بين (أ، ب، ج، د) لتكمل العبارات التالية:

١- وزن الدولة على المستوى العالمي يتحدّد على أساس ما تملكه الدولة مما يأتي ما عدا.....  
أ- حدود حضارية. ب- خصائص سكانية. ج- موارد اقتصادية. د- مساحة كبيرة.

٢- ..... تنظر للدولة ككائن حيّ.

أ- الجيوبولتيك. ب- الجغرافيا السياسية. ج- الجغرافيا الطبيعية. د- المقوّمات الجغرافية للدولة.

٣- ..... امتداد لليابس تحت مياه البحر ، ويمتد من خط الساحل حتى عمق ١٠٠ قامة.

أ- الحدود البحرية. ب- الرصيف القاري. ج- المياه الدولية. د- المياه المحايدة.

٤- تأسست مجموعة دول..... عام ١٩٥٥م.

أ- الاتحاد الأوربي. ب- عدم الانحياز.

ج- مجلس التعاون لدول الخليج العربي. د- حلف شمال الأطلسي (الناتو).

(ب) ما النتائج المترتبة على كل من.....؟

١- احتلال (أسبانيا) لـ (سبتة) عام ١٤١٥م ، ثم (مليلة) عام ١٤٩٥م.

٢- نشأة حلف شمال الأطلسي (الناتو).





السؤال الثالث

أ) أوضحت الأحداث العالمية منذ ظهور ما يُسمى بـ (النظام العالمي الجديد) أن له تأثيراً كبيراً على دول العلم المتقدّم منها والنامي، في ضوء العبارة السابقة أجب عما يأتي:

١- ما المقصود بالنظام العالمي الجديد ؟

٢- ما خصائص النظام العالمي الجديد ؟ (يكتفى بأربعة خصائص)

ب) اكتب ما تشير إليه كل عبارة من العبارات الآتية :

١- أي تهديد للدولة من الداخل أو الخارج يمس سيادتها على أراضيها أو استقرار شعبيها ومآسكها.

٢- مجموعة من القواعد والتشريعات والقوانين التي تُنظّم عملية انتخاب ممثلي الشعب.

٣- مجموعات بشرية قليلة العدد ذات خصائص تختلف عن مثيلاتها في مجتمع الأَكثَرِيَّة.

٤- دولة تقع داخل دولة أخرى ولا يمكن الوصول إليها إلا بالمرور في أراضٍ وأجواء الدولة المُطوَّقة لها.

السؤال الرابع

أ) دَلِّلْ جُغْرَافِيًّا عَلَى صِحَّةِ أَوْ خَطَأِ كُلِّ عِبْرَةٍ مِنَ الْعِبَارَاتِ الْآتِيَةِ:

١- ارتباط الجغرافيا السياسية بالعملية الانتخابية.

٢- يتم انتخاب البرلمان الأوروبي من قِبَلِ شُعُوبِ الدُولِ الْأَعْضَاءِ كُلِّ ثَلَاثِ سَنَوَاتٍ.

٣- (التخوم) ظاهرة قابلة للنقل والحركة والتغيير بل والاختفاء في حالات كثيرة.





ب) ما الفرق بين كل من: المياه الداخليّة، والمياه المُحايدة؟

السؤال الخامس

١) ماذا يحدث إذا.....؟

١- استطاعت الدولة أن تُحقّق اكتفاءً ذاتياً من الغذاء.

٢- لم يُطبّق مبدأ الفصل بين السُّلطات في نظام الحكم.

ب) أجب حسب ما يُطلب منك :

١- تُعدّ وسائل النقل والاتصال من الأمور الضرورية للدولة العصريّة، فلماذا؟ (يُكتفى بأربعة أسباب)

٢- ما مقترحاتك في ضوء ما درستَ لمواجهة المشكلات الاقتصادية التي يُعاني منها العالم اليوم؟

نموذج تحريري (بوكليت) للشهادة الثانوية الأزهرية ١٤٤١هـ - ٢٠٢٠م

النموذج الأول الجغرافيا السياسية (أدبي) الزمن : ثلاث ساعات

١) اختر الإجابة الصحيحة مما بين (أ، ب، ج، د) :

- تُعدّ دولة..... من الدول الوجودية المجزأة.

أ) مصر. ب) الصين. ج) اليابان. د) فرنسا.

٢) اكتب كلمة (صواب) أو كلمة (خطأ) أمام العبارة الآتية، مع ذكر السبب في العاليتين :

- تُعدّ العاصمة ضابط إيقاع لكل أجزاء الدولة. ( )





## المُرشد في المراجعة النهائية

(٣) يم تفسر.....؟

- نشأة الكثير من الحدود الخطية خاصة في أفريقيا و آسيا و أمريكا الجنوبية.

(٤) ماذا يحدث إذا... قل عدد الدول المجاورة للدولة؟

(٥) ما النتائج المترتبة على.. ظهور البترول في منطقة الرصيف القاري لدولة ليبيا؟

(٦) اختر الإجابة الصحيحة مما بين ( أ ، ب ، ج ، د ) :

- تُعد دولة..... مُودجاً للنظام البرلماني.

(أ) فرنسا. (ب) المملكة المتحدة. (ج) مصر. (د) الولايات المتحدة الأمريكية.

(٧) تُعد الحدود السياسية ظاهرة بشرية حديثة؛ تظهر على الخرائط كخطوط تحدد أبعاد كل

دولة) في ضوء العبارة السابقة.. وضح..

(أ) أسباب نشأة الحدود السياسية.

(ب) اذكر أنواع الحدود الطبيعية.

(٨) أمامك خريطة صماء لليابان، وضح عليها:

(١) المحيط الهادي.

(٢) العاصمة القديمة.

(٣) العاصمة المُستحدثة.

(٤) بحر اليابان.

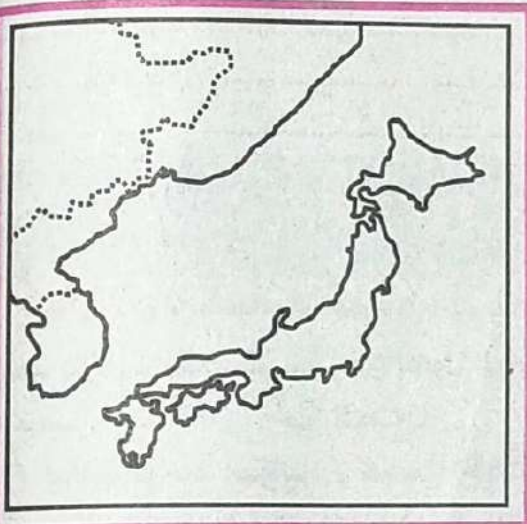
(٩) اكتب كلمة (صواب) أو كلمة (خطأ) أمام العبارة

الآتية، مع ذكر السبب في العاليتين:

- عقدَ الملك رمسيس الثالث معاهدة مع خاتو سبل ملك

الحيثيين عام ١٢٧٨ ق.م لتنظيم مبادئ الحرب والسلام بين

الدولتين. ( )







(١٠) بم تفسر ... أهمية التكتلات الاقتصادية ؟

(١١) ماذا يحدث إذا ... كانت الأقلية مكرزة جغرافياً في مكان ما في الدولة ؟

(١٢) ما النتائج المترتبة على ... تدخل الأمم المتحدة في الحرب الهندية الباكستانية ؟

(١٣) قارن بين كل من ... :

الحلف شمال الأطلسي - حلف وارسو من حيث (أسباب نشأة الحلف - مقر الحلف).

(١٤) اختر الإجابة الصحيحة مما بين ( أ ، ب ، ج ، د ) :

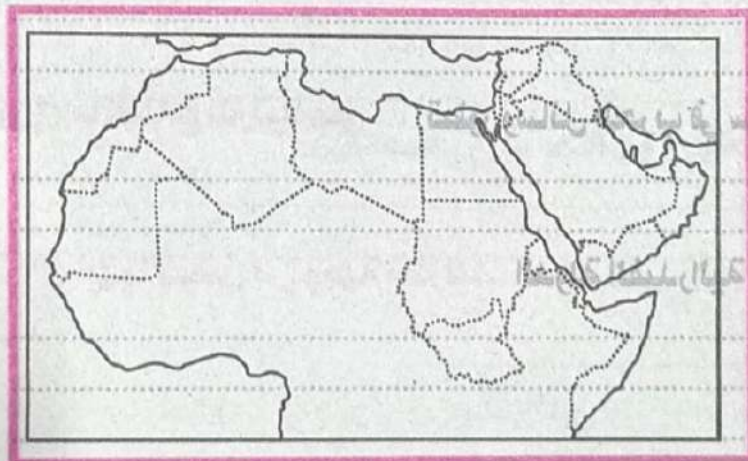
- تُعد بعض دول أفريقيا مطمئناً للدول المتقدمة ؛ بسبب توفر المواد الخام التي تدخل الصناعات التكنولوجية مثل :

- (أ) الخامات الزراعية كالقطن.
- (ب) الخامات المعدنية كاليورانيوم.
- (ج) مصادر الطاقة كالبتروول.
- (د) الخامات المعدنية كالذهب.

(١٥) قارن بين كل من ... خصائص النظام البرلماني ، وخصائص النظام شبه الرئاسي.

- ١- مجلس رئاسي منتخب (أ)
- ٢- مجلس رئاسي منتخب (ب)
- ٣- مجلس رئاسي منتخب (ج)
- ٤- مجلس رئاسي منتخب (د)

(١٦) أمامك خريطة مسماء للسوطن العربي.. وضح عليها :



- ١) مضيق هرمز.
- ٢) البحر المتوسط.
- ٣) الخليج العربي.
- ٤) دولة تطل على البحر بجبهتين.





## المُرشد في المراجعة النهائية

(١٧) اكتب كلمة ( صواب أو كلمة ) خطأ أمام العبارة الآتية ، مع ذكر السبب في الحالتين :  
- يُحدّد البرلمان الأوروبي أولويات واتجاهات السياسة العامة الأوروبية.  
( )

(١٨) **يم تفسر ...** سقوط وانهيار الاتحاد السوفيتي سابقًا؟

(١٩) **ماذا يحدث إذا ...** لم يكن هناك قوة عسكرية لدى أعضاء التكتل الاقتصادي؟

(٢٠) **ما النتائج المترتبة على ...** العولمة وظهور الشركات متعددة الجنسيات؟

(٢١) **ما أوجه الشبه والاختلاف بين كل من ...** الأمة والدولة؟

(٢٢) اكتب كلمة ( صواب أو كلمة ) خطأ أمام العبارة الآتية ، مع ذكر السبب في الحالتين :  
- أثار رسم الحدود السياسية في إقليم السافانا العديد من المشاكل السياسية.  
( )

(٢٣) **ما المقصود بـ (الأحلاف العسكرية) ؟**

(٢٤) **اختر الإجابة الصحيحة مما بين ( أ ، ب ، ج ، د ) :**

- العالم الذي وضع الإطار العام الذي عُرف باسم (دورة حياة الدولة).....  
(أ) أرسطو. (ب) راتزل. (ج) ابن خلدون. (د) رودلف كيلين.

(٢٥) **يم تفسر ...** أهمية جغرافية الانتخابات؟

(٢٦) **ما النتائج المترتبة على ...** تطور وسائل الحرب في سُرعتها ومدّاتها وفعاليتها التدميرية؟

(٢٧) **أيهما تفضّل من وجهة نظرك ..** الدولة الفيدرالية أم الدولة الكونفيدرالية؟ ولماذا؟





(٢٨) ما المقصود بـ (الجغرافيا السياسية) ؟

(٢٩) قارن بين كل من ... الخصائص الطبيعية والبشرية لمجلس التعاون لدول الخليج العربي.

(٣٠) اكتب كلمة ( صواب أو كلمة ) خطأ أمام العبارة الآتية ، مع ذكر السبب في الحالتين :

- يعتمد التقدّم الصناعي للدول في الوقت الحالي على وفرة المواد الخام الأولية. ( )

(٣١) اختر الإجابة الصحيحة مما بين ( أ ، ب ، ج ، د ) :

- يُطلق اسم ..... على الثورة الصناعية الثالثة.

( أ ) الثورة العلمية. ( ب ) الثورة الزراعية. ( ج ) الثورة التكنولوجية. ( د ) الثورة المعلوماتية.

نموذج تحريبي (بوكلت) للشهادة الثانوية الأزهرية ١٤٤١هـ - ٢٠٢٠م

النموذج الثاني الجغرافيا السياسية (ادبي) الزمن : ثلاث ساعات

(١) اختر الإجابة الصحيحة مما بين ( أ ، ب ، ج ، د ) :

- تعتبر ..... من العواصم المستحدثة.

( أ ) باريس. ( ب ) القاهرة. ( ج ) برازيليا. ( د ) موسكو.

(٢) اكتب كلمة ( صواب أو كلمة ) خطأ أمام العبارة الآتية ، مع ذكر السبب في الحالتين :

- في النظام الفيدرالي.. الأمور السيادية من اختصاص حكومات الأقاليم. ( )

(٣) بم تفسر ... نشأة منظمة الأمم المتحدة؟

(٤) ماذا يحدث إذا ... تعاون العالم من أجل مواجهة المشكلات الاقتصادية؟

(٥) ما النتائج المترتبة على ... وجود نسبة كبيرة من البطالة بين السكان؟

(٦) اختر الإجابة الصحيحة مما بين ( أ ، ب ، ج ، د ) :

- الحدود بين (شيلي والأرجنتين) تسير مع جبال .....

( أ ) البرانس. ( ب ) الهيمالايا. ( ج ) الإنديز. ( د ) الأبلش.



## المرشد في المراجعة النهائية

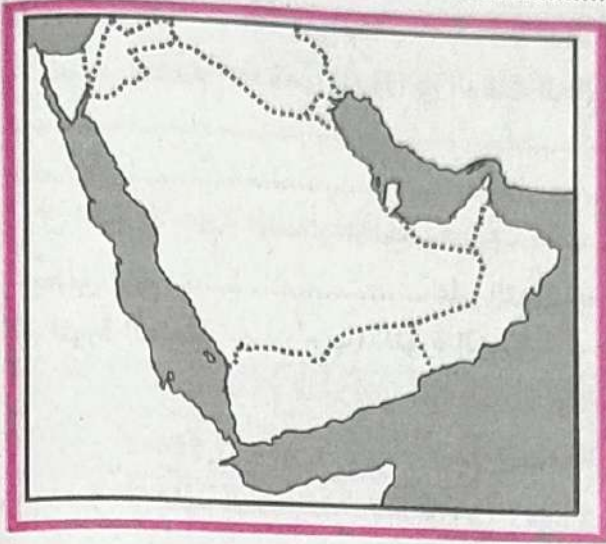


(٧) هناك صراع وتكالب حالياً ومستقبلاً من قبل النظام العالمي الجديد على دول تتوافر فيها المواد

الغمام) في ضوء العبارة السابقة.. وضح..

(أ) ما هي أهداف النظام العالمي الجديد؟

(ب) ما هي أنواع المياه الإقليمية؟



(٨) أمامك خريطة صفاء لدول مجلس التعاون لدول

الخليج.. وضح عليها.

(١) المحيط الهندي.

(٢) المملكة العربية السعودية.

(٣) الإمارات العربية المتحدة.

(٤) الخليج العربي.

(٩) اكتب كلمة (صواب) أو كلمة (خطأ) أمام

العبارة الآتية، مع ذكر السبب في الحاليتين:

- اليابان واندونيسيا دول برية بحرية مُجزأة.

( )

(١٠) بم تفسر... أهمية الحكومة و على رأسها الحاكم بالنسبة للدولة؟

(١١) ماذا يحدث إذا... لم توجد قوة عسكرية لدى أعضاء التكتل الاقتصادي؟

(١٢) ما النتائج المترتبة على... ارتفاع حجم السكان بالنسبة لدول أعضاء التكتلات الاقتصادية؟

(١٣) قارن بين كل من... الآثار السلبية والإيجابية للسهول؟

(١٤) اختر الإجابة الصحيحة مما بين (أ، ب، ج، د):

- التجمع الكبير الذي يضم معظم دول آسيا والباسيفيكي يُسمى.....

(أ) منتدى التعاون الاقتصادي. (ب) منتدى التعاون السياسي (ج) رابطة أمم شرق آسيا.

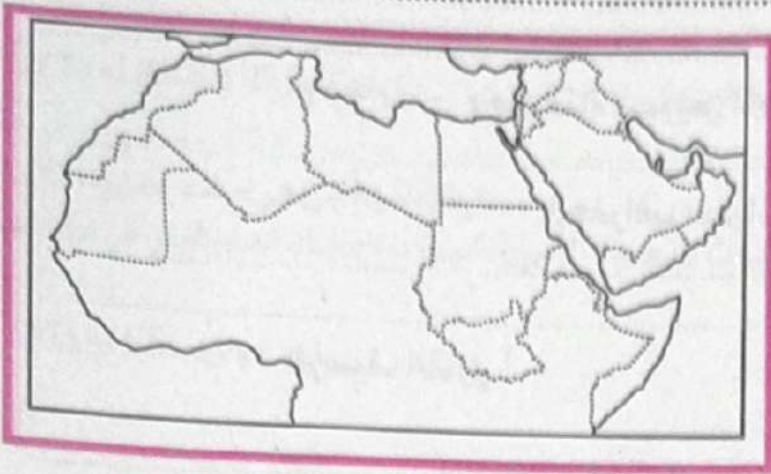
(ج) الاتحاد الاقتصادي الآسيوي. (د) منتدى التعاون العسكري. (هـ) منظمة التجارة العالمية.





## المرشد في المراجعة النهائية

(١٥) قارن بين كل من... الجوانب الإيجابية والسلبية للحدود النهرية



(١٦) أمامك خريطة صفاء للوطن العربي..

رُضِعْ عَلَيْهَا.

(١) مضيق باب المندب.

(٢) المحيط الهندي.

(٣) دولة مندمجة.

(٤) مشكلة سبتة ومليلة.

(١٧) اكتب كلمة (صواب) أو كلمة

(خطأ) أمام العبارة الآتية، مع ذكر السبب

في العاليتين:

- التكامل الاقتصادي بين الدول يقوم بطبيعته على التنوع.

(١٨) بم تفسر... تحول منطقة (بانكو) بعد عام ١٨٩٨م من تبعية الولايات المتحدة إلى المكسيك؟

(١٩) ماذا يحدث إذا... حصلت الأمة على السلطة والسيادة؟

(٢٠) ما النتائج المترتبة على... ارتفاع فئة صغار السن (دون الخامسة) في الدول النامية؟

(٢١) ما العلاقة بين كل من... اللغة وقوة الدولة؟

(٢٢) اكتب كلمة (صواب) أو كلمة (خطأ) أمام العبارة الآتية، مع ذكر السبب في العاليتين:

- تُعد المفوضية الأوروبية الجهاز التنفيذي للاتحاد الأوربي.

(٢٣) ما المقصود بـ (الأقليات)؟

(٢٤) اختر الإجابة الصحيحة مما بين (أ، ب، ج، د):

أثرت أفكاره كثيراً في التوسع الاستعماري لألمانيا:

(أ) أرسطو. (ب) راتزل. (ج) ابن خلدون. (د) رودلف كيلين.





(٢٥) بم تفسر ... حدوث مشكلة سبتة ومليلة؟

(٣٦) ما النتائج المترتبة على ... وجود قناة السويس داخل مصر؟

(٣٧) أيهما تفضل من وجهة نظرك : الجغرافيا السياسية أم الجيوبولوتيك؟ ولماذا؟

(٣٨) ما المقصود بـ الرصيف القاري؟

(٣٩) قارن بين كل من ... دور المجلس الأعلى والأمانة العامة في مجلس التعاون الخليجي

(٤٠) اكتب كلمة (صواب) أو كلمة (خطأ) أمام العبارة الآتية ، مع ذكر السبب في الحالتين :  
- الموارد الطبيعية موزعة بشكل منتظم على خريطة العالم. ( )

(٤١) اختر الإجابة الصحيحة مما بين ( أ ، ب ، ج ، د ) :

- يوجد مقر حلف الناتو في مدينة.....  
( أ ) واشنطن. ( ب ) نيويورك. ( ج ) لندن. ( د ) بروكسل.

نموذج تجريبي (بوكليت) للشهادة الثانوية الأزهرية ١٤٤١هـ - ٢٠٢٠م

النموذج الثالث الجغرافيا السياسية (أدبي) الزمن : ثلاث ساعات

(١) اختر الإجابة الصحيحة مما بين ( أ ، ب ، ج ، د ) :

- تُعرّف منطقة التجارة الحرة لأمريكا الشمالية بـ.....  
( أ ) النافتا. ( ب ) المريسكرور. ( ج ) الإيكو. ( د ) الكوميسا.

(٢) اكتب كلمة ( صواب ) أو كلمة ( خطأ ) أمام العبارة الآتية ، مع ذكر السبب في الحالتين :

- كان للبترول دور واضح في مسار الحرب العالمية الثانية. ( )





(٣) بم تفسر ... حدوث النزاعات السياسية على حركة القبائل الرعوية بين الوحدات السياسية؟

(٤) ماذا يحدث إذا ... استمر حلف وارسو حتى اليوم؟

(٥) ما النتائج المترتبة على ... انهماك الولايات المتحدة الأمريكية والاتحاد السوفيتي في سياسة سباق التسلح؟

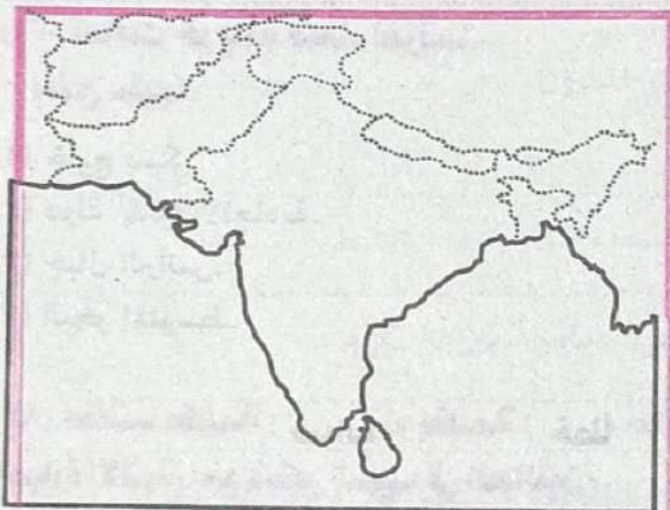
(٦) اختر الإجابة الصحيحة مما بين ( أ ، ب ، ج ، د ) :

- الحدود بين الولايات المتحدة والمكسيك تتفق مع نهر.....  
( أ ) سانت لورانس. ( ب ) ريوجراند. ( ج ) المسيسيبي. ( د ) الراين.

(٧) لجميع الدول الحق في المحافظة على أمنها القومي في ضوء العبارة السابقة.. وضح..

( أ ) أهم أشكال الحدود السياسية التي تتبع الأنهار.

( ب ) ما هي أسباب النزاع على الأنهار الدولية ؟



(٨) أمامك خريطة صماء لدولة (الهند)..

وضّح عليها :

- (١) منطقة كشمير.
- (٢) دولة الصين.
- (٣) باكستان.
- (٤) خليج البنغال.

(٩) اكتب كلمة ( صواب أو كلمة ) خطأ أمام

العبارة الآتية ، مع ذكر السبب في العاليتين :

- كان للجغرافيا السياسية دور مهم في حل المشكلات السياسية.  
( )







(١٨) بم تفسر ... التكتلات الاقتصادية ضرورة ملحة ؟

(١٩) ماذا يحدث إذا ... لم يُطبق مبدأ الفصل بين السلطات ؟

(٢٠) ما النتائج المترتبة على ... الحرب العالمية الأولى والثانية على خريطة العالم السياسية ؟

(٢١) ما العلاقة بين كل من ... إصلاحات ميخائيل جورباتشوف وسقوط حلف وارسو ؟

(٢٢) اكتب كلمة (صواب) أو كلمة (خطأ) أمام العبارة الآتية ، مع ذكر السبب في الحالتين :  
- الانضمام للاتحاد الأوربي ليس مشروطاً .

(٢٣) ما المقصود بـ (الهجرة غير الشرعية) ؟

(٢٤) اختر الإجابة الصحيحة مما بين ( أ ، ب ، ج ، د ) :

- ظهرت الجغرافيا السياسية على يد .....  
( أ ) أرسطو. ( ب ) راتزل. ( ج ) ابن خلدون. ( د ) رودلف كيلين.

(٢٥) بم تفسر ... حدوث مشكلة كشمير ؟

(٢٦) ما النتائج المترتبة على ... استخدام الجبال كحدود سياسية بين دولتين ؟

(٢٧) أيهما تفضل من وجهة نظرك : انضمام الدولة للتكتلات الاقتصادية أم بقاؤها منفردة ؟





(٢٩) قارن بين كل من ... المياه الإقليمية والمياه التكميلية .

(٣٠) اكتب كلمة (صواب) أو كلمة (خطأ) أمام العبارة الآتية ، مع ذكر السبب في الحالتين :

- الموارد الطبيعية موزعة بشكل منتظم على خريطة العالم .  
( )

(٣١) اختر الإجابة الصحيحة مما بين ( أ ، ب ، ج ، د ) :

- يوجد مقر مجلس التعاون لدول الخليج العربي في مدينة .....  
( أ ) جدة . ( ب ) الدوحة . ( ج ) أبو ظبي . ( د ) الرياض .

موجة بحريية (بوكليت) للشهادة الثانوية الأزهرية ١٤٤١هـ - ٢٠٢٠م

الموجة الزاوية الجغرافيا السياسية (أدبي) الزمن : ثلاث ساعات

(١) اختر الإجابة الصحيحة مما بين ( أ ، ب ، ج ، د ) :

- ..... امتداد لليابس تحت مياه البحر ، ويمتد من خط الساحل حتى عمق ١٠٠ قدم .  
( أ ) المياه الإقليمية . ( ب ) الرصيف القاري . ( ج ) المياه المحايدة . ( د ) أعالي البحار .

(٢) اكتب كلمة (صواب) أو كلمة (خطأ) أمام العبارة الآتية ، مع ذكر السبب في الحالتين :

- لا يوجد في الوقت الحالي شعب ذو سلالة نقيّة .  
( )

(٣) بم تفسر ... يعد المجلس الوزاري الجهاز التنفيذي لمجلس التعاون لدول الخليج العربي ؟

(٤) ماذا يحدث إذا ... لم تكن هناك نقاط تفتيش وجمارك وحراسة وتحصينات على الحدود ؟

(٥) ما النتائج المترتبة على ... تدخل محكمة العدل الدولية في النزاع بين ليبيا وتونس ؟





## المُرشد في المراجعة النهائية

(٦) اختر الإجابة الصحيحة مما بين ( أ ، ب ، ج ، د ) :

تهدف منظمة..... إلى العناية بالريف.  
( أ ) الأوبك. ( ب ) اليونسكو. ( ج ) الفاو. ( د ) اليونيدو.

(٧) تجرى الانتخابات في كل مكان بالعالم ، فهي لا تقتصر على الجانب السياسي ، ولكنها موجودة في كل مجالات المجتمع ( في ضوء العبارة السابقة .. أجب عما يأتي.. )

( أ ) دَلَل جغرافياً على ما يأتي : ترتبط الجغرافيا بالعملية الانتخابية.

( ب ) ما مفهوم النظام الانتخابي ؟

(٨) أمامك خريطة صماء لقارة أمريكا الشمالية..

وَضِّحْ عليها.

(١) المحيط الأطلسي.

(٢) دولة المكسيك.

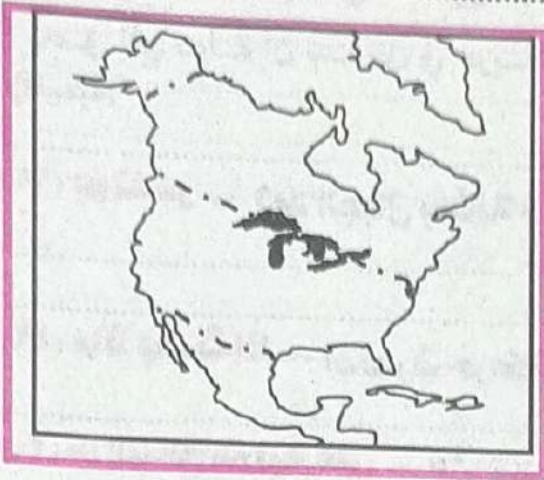
(٣) منطقة قلب صناعي.

(٤) نهر ريوجراند.

(٩) اكتب كلمة (صواب) أو كلمة (خطأ) أمام العبارة

الآتية ، مع ذكر السبب في الحالتين :

- ردع الأعداء أهم أهداف الأحلاف العسكرية. ( )



(١٠) بم تفسر... للعادات والتقاليد دور مهم في قيام التكتلات الاقتصادية ؟

(١١) ماذا يحدث إذا... ظلَّ الاتحاد السوفيتي متمسكاً ولم ينهار ؟

(١٢) ما النتائج المترتبة على... هدم جدار برلين واتحاد الألمانيتين ؟

(١٣) قارن بين كل من... طبيعة العلاقات الدولية في السلم والحرب.

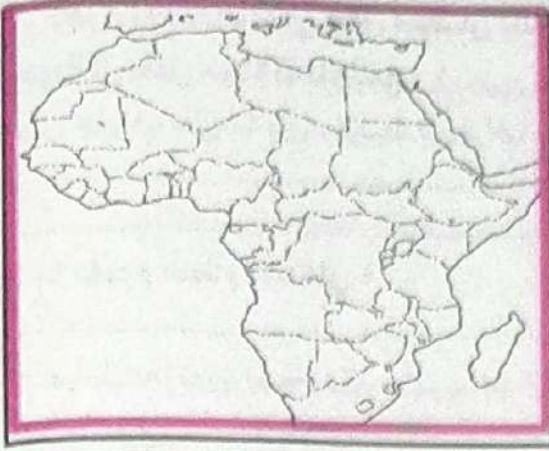
(١٤) اختر الإجابة الصحيحة مما بين ( أ ، ب ، ج ، د ) :

- من نماذج الاتفاق يات الخاصة بتنظيم حركة الرعاة بدول غرب أفريقيا:.....  
( أ ) الإيكوس. ( ب ) الإيموس. ( ج ) البارسيينا. ( د ) الكوميسا.



(١٥) قارن بين كل من --- الآثار السلبية والإيجابية للدول ذات المساحة الكبيرة.

(١٦) أمامك خريطة صماء لقارة أفريقيا.. وضع عليها.



(١) دولة وحدوية.

(٢) دولة محتواة.

(٣) دولة مندمجة.

(٤) دولة حبيسة.

(١٧) اكتب كلمة (صواب) أو كلمة (خطأ) أمام العبارة

الآتية ، مع ذكر السبب في العاليتين :

- يحق لأي دولة أن تتدخل في حرية الملاحة في المياه الإقليمية. ( )

(١٨) بم تفسر --- تعد الجبال بمثابة خطوط دفاعية ؟

(١٩) ماذا يحدث إذا --- استمرت حركة الحياد الإيجابي وعدم الانحياز ؟

(٢٠) ما النتائج للترتبة على --- الثورة الصناعية الثالثة ؟

(٢١) ما العلاقة بين كل من --- الحروب ونشأة المنظمات الدولية ؟

(٢٢) اكتب كلمة (صواب) أو كلمة (خطأ) أمام العبارة الآتية ، مع ذكر السبب في العاليتين :

- كانت التغيرات المناخية أحد أسباب النزاعات السياسية الناتجة عن حركة الرعاة. ( )

(٢٣) ما المقصود بـ (الهجرة القسرية) ؟

(٢٤) اختر الإجابة الصحيحة مما بين (أ ، ب ، ج ، د) :

- اهتم..... بدراسة موقع الدولة الجغرافي وتأثير المناخ عليها.

(أ) أرسطو. (ب) راتزل. (ج) ابن خلدون. (د) رودلف كيلين.

(٢٥) بم تفسر --- تزايد مشكلة سبتة ومليلة عام ١٩٨٥م ؟





(٢٦) ما النتائج المترتبة على ... استخدام مبدأ التوفيق في العلاقات الدولية ؟

(٢٧) ما رأيك في ... جهود حلف شمال الأطلسي ؟

(٢٨) ما المقصود بـ (العلاقات الدولية) ؟

(٢٩) قارن بين كل من ... الأنهار المحلية - الأنهار الدولية .

(٣٠) اكتب كلمة (صواب) أو كلمة (خطأ) أمام العبارة الآتية ، مع ذكر السبب في الحالتين :  
يُعدّ الدين من السمات الحضارية المستخدمة في ترسيم الحدود بين الدول. ( )

(٣١) اختر الإجابة الصحيحة مما بين ( أ ، ب ، ج ، د ) :

- قامت تركيا بنقل عاصمتها من اسطنبول إلى مدينة .....  
(أ) أنطاليا. (ب) أدنة. (ج) أنقرة. (د) الإسكندرونه.

نموذج تجريبي (بوكلين) للشهادة الثانوية الأزهرية ١٤٤١هـ - ٢٠٢٠م

النموذج الخامس الجغرافيا السياسية (أدبي) الزمن : ثلاث ساعات

(١) اختر الإجابة الصحيحة مما بين ( أ ، ب ، ج ، د ) :

- يقوم النظام ..... على أن السلطة التنفيذية مُستقلة عن السلطة التشريعية.  
(أ) الملكي. (ب) الرئاسي. (ج) شبه الرئاسي. (د) البرلماني.

(٢) اكتب كلمة (صواب) أو كلمة (خطأ) أمام العبارة الآتية ، مع ذكر السبب في الحالتين :  
- يتمتع سكان دول مجلس التعاون بخصائص مشتركة. ( )

(٣) بم تفسر ... وضع الاتحاد الأوربي عدة شروط للانضمام له ؟

(٤) ماذا يحدث إذا ... تواجد حجم سكاني مناسب في الدول التي يضمها التكتل الاقتصادي ؟





## المرشد في المراجعة النهائية

(٥) ما النتائج المترتبة على... تحرير التجارة العالمية في السنوات الأخيرة ؟

(٦) اختر الإجابة الصحيحة مما بين (أ ، ب ، ج ، د) :

..... منظمة دولية تهدف إلى تنظيم القضايا النقدية الدولية.  
(أ) صندوق النقد الدولي.

(ب) البنك الدولي للإنشاء والتعمير.

(ج) منظمة الأمم المتحدة للتنمية الصناعية.

(د) مركز التجارة الدولي.

(٧) (الأحلاف العسكرية قديمة قدم التاريخ) في ضوء العبارة السابقة... وضح ما يأتي..

(أ) ما أهم أهداف الأحلاف العسكرية ؟

(ب) ما هي استراتيجية حلف الناتو بعد انهيار حلف وارسو عام ١٩٩١م ؟

(٨) أمامك خريطة صماء لقارة أمريكا الشمالية ...

وضح عليها.

(١) المحيط الهادي.

(٢) دولة كندا.

(٣) دولة بَرِيَّة مُجزأة.

(٤) دولة المكسيك.

(٩) اكتب كلمة (صواب) أو كلمة (خطأ) أمام العبارة

الآتية ، مع ذكر السبب في الحالتين :

- تلعب قوة الدولة العسكرية دوراً مؤثراً في العلاقات

الدولية. ( )

(١٠) بم تفسر... ظهور سياسة التقارب والانفتاح على أساس المصالح المشتركة بين الولايات المتحدة

والاتحاد السوفيتي؟

(١١) ماذا يحدث إذا... كَوَّنَ الوطن العربي حلف عسكري ؟



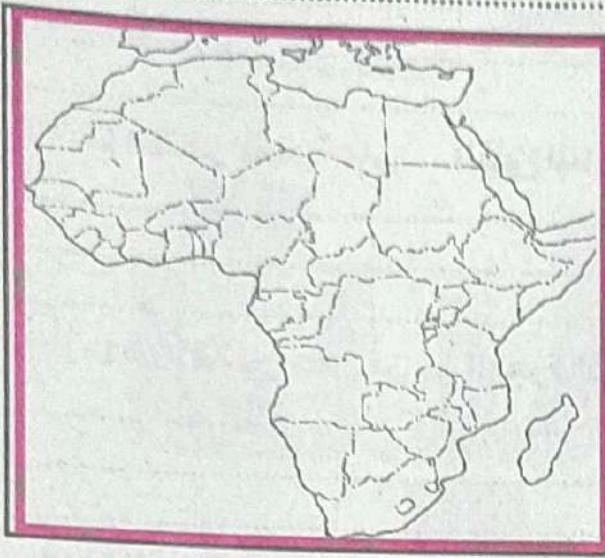
(١٢) ما النتائج المترتبة على ... احتكار دول الغرب الرأسمالية للسلح والمال والتكنولوجيا؟

(١٣) قارن بين كل من ... الاتحاد الأوربي ومجلس التعاون الخليجي من حيث أهم المؤسسات

(١٤) اختر الإجابة الصحيحة مما بين ( أ ، ب ، ج ، د ) :

- ظهور (حلف وارسو) كَرَدَ فعل مباشر لانضمام دولة..... لحلف الناتو.  
 (أ) ألمانيا الشرقية. (ب) ألبانيا. (ج) ألمانيا الغربية. (د) يوغسلافيا.  
 (١٥) قارن بين كل من ... الآثار السلبية والإيجابية للدول ذات المساحة الصغيرة

(١٦) أمامك خريطة صماء لقارة أفريقيا.. وضح عليها.



- (١) دولة جزرية.  
 (٢) مضيق موزمبيق.  
 (٣) دولة محتواة.  
 (٤) دولة حبيسة.

(١٧) اكتب كلمة (صواب) أو كلمة (خطأ) أمام

العبارة الآتية ، مع ذكر السبب في الحالتين :

- ليس هناك نظام حكم مثالي على مستوى العالم.

(١٨) بم تفسر ... أهمية الموقع البحري للدولة؟

(١٩) ماذا يحدث إذا ... فقدت منطقة الشرق الأوسط والخليج العربي مكانتها البترولية؟

(٢٠) ما النتائج المترتبة على ... تغيير نهر (ريوجراند) مجراه؟

(٢١) ما العلاقة بين كل من ... توزيع الأقلية الجغرافي واستقرار الدولة؟





## المرشد في المراجعة النهائية

(٢٢) اكتب كلمة (صواب أو كلمة خطأ) أمام العبارة الآتية ، مع ذكر السبب في الحالتين :  
- يتم اختيار مدينة ما عاصمة للدولة بناء على عدة عوامل.

(٢٣) ما المقصود بـ (الدول الفيدرالية) ؟

(٢٤) اختر الإجابة الصحيحة مما بين ( أ ، ب ، ج ، د ) :

- رَگَزْ ..... على أهم ظاهرتين سياسيتين : القبيلة والمدنية.  
(أ) أرسطو. (ب) راتزل. (ج) ابن خلدون. (د) رودلف كيلين.  
(٢٥) بم تفسر ... نشأة الحدود السياسية الخطية بين الدول ؟

(٢٦) ما النتائج المترتبة على ... التنوع المناخي بالنسبة لقوة الدولة ؟

(٢٧) ما العلاقة بين كل من ... الهجرة القسرية والحروب الأهلية ؟

(٢٨) ما المقصود بـ (المياه المحايدة) ؟

(٢٩) قارن بين كل من ... العلاقات الدولية في العصور القديمة وفي العصور الحديثة.

(٣٠) اكتب كلمة (صواب أو كلمة خطأ) أمام العبارة الآتية ، مع ذكر السبب في الحالتين :  
- يُعد الرئيس السوفيتي الأسبق (جورباتشوف) أول من طرح فكرة النظام العالمي الجديد. ( )

(٣١) اختر الإجابة الصحيحة مما بين ( أ ، ب ، ج ، د ) :

- اعتبر راتزل ..... بمثابة كائن حي تنطبق عليه قوانين الميلاد والنمو والوفاة.  
(أ) الإقليم. (ب) الأمة. (ج) الإمبراطورية. (د) الدولة.



إجابات



البوكليت







## المرشد في المراجعة النهائية

### الدور الثاني

### اجابة امتحان (بوكلت) الشهادة الثانوية الأزهرية ١٤٤٣هـ - ٢٢٠٢٢م

١- (ب) موريتانيا.

٢- (ب) إندونيسيا.

٣- (ج) المعلوماتية.

٤- (أ) ١- (ب) تغيير مجرى النهر.

(ب) ١- تسبب مشكلة تمييز صنصري بين الأقلية التي تمتلك الثروة والأغلبية مثل البيض في دولة جنوب أفريقيا يسيطرون على ثلاثة أرباع اقتصاد الدولة وما زال جزء كبير من اقتصاد الدولة في أيديهم.

٢- القوة العسكرية من مقومات نجاح التكتل الاقتصادي وعدم وجودها يعرض التكتل الاقتصادي للمنافسة من الدول الأخرى أو من التكتلات الاقتصادية مما ينتج عنها نزاعات تلجأ فيها التكتلات الاقتصادية إلى استخدام القوة أو التلويح باستخدامها.

٣- (٢) (أ) العبارة: (صواب) السبب: مثل سويسرا بها أربع لغات رسمية هي الإيطالية والألمانية والفرنسية والرومانشية.

(ب) العبارة: (خطأ) السبب: لأن اليابان دولة بحرية مجزأة أما الدولة البرية المجزأة مثل الولايات المتحدة التي تفصلها كندا عن الاسكا.

(ج) العبارة: (صواب) السبب: يقصد بالموقع الفلكي موقع الدولة بالنسبة لخطوط الطول ودوائر العرض ويعد الموقع بالنسبة لدوائر العرض الأكثر أهمية لأسباب منها:

١- تحديد الملامح العامة لمناخ الدولة.

٢- التأثير في النشاط البشري للسكان.

(د) العبارة: (خطأ) السبب: في عام ١٩٨٥ م ظهرت مشكلتان داخل سبتة ومليلية وهي محاولة السكان الإسبان الحصول على الحكم الذاتي وإصدار إسبانيا قانون يلزم الأجانب في إسبانيا بالحصول على إذن إقامة كل ٥ سنوات بينما يعتبر السكان المغاربة أنفسهم هم السكان الأصليين وتعتبرهم إسبانيا سكان أجانب.

١- القوة التنظيمية (الاجتماعية والسياسية).

٢- الدولة الجيبية (الشكل المحتوى).

٣- النظام السياسي في صورته الاجتماعية.

٤- الكوميسا.

(ب) ١- الموقع: فالعلاقات الدولية لدولة هاشمية مثل نيوزلندا وأستراليا تختلف بالطبع عن دولة مركزية ذات موقع استراتيجي على خريطة العالم مثل مصر.

المساحة: دولة ذات مساحة عملاقة كروسيا الاتحادية بكل ما تحمله المساحة من إمكانيات تختلف بالتأكيد علاقاتها الدولية عن دولة قزمية في المساحة.

٢- مجلس الاتحاد الأوربي: يعد الجهة الرئيسية لاتخاذ القرار داخل الاتحاد الأوربي ويشارك البرلمان الأوربي في مسئولية إصدار قوانين الاتحاد الأوربي.

مجلس أعمال الكوميسا: تم إنشائها عام ٢٠٠٥ م وتقوم بدور أساسي في دعم القطاع الخاص في الدول الأعضاء ويهدف إلى المشاركة الفعالة للقطاع الخاص في التكامل الإقليمي والتجارة بين دول الكوميسا من أجل المنافسة الدولية.

١- البرازيل.

٢- كندا.

٣- شيلي.

٤- المملكة المتحدة (بريطانيا).

(ب) ١- نشأت منظمة الأمم المتحدة بعد الحرب العالمية الثانية ١٩٤٥ م حيث تعددت الجهود المنادية بإقامة منظمة دولية جديدة لتكون أكثر ثباتاً وأعمق أثراً وأكثر قدرة على حل المشكلات الدولية وهدفت إلى الحفاظ على السلم والأمن الدوليين وتقديم التعاون الدولي في مختلف المجالات.

٢- خصائص دول مجلس التعاون الخليجي:

الدين (الديانة الإسلامية) - وحدة اللغة العربية - الجوار - التاريخ المشترك - العادات والتقاليد

٣- دور الأمم المتحدة في حل مشكلة كشمير:

اقترحت وقف إطلاق النار وتجريد كشمير من السلاح وسحب القوات المتحاربة إلى مواقعها قبل بدأ القتال ثم إجراء استفتاء محايد تحت إشراف الأمم المتحدة لتقرير المصير على أساس إما الاستقلال عن الدولتين أو الانضمام لأحدهما.

٤- الوظائف الحدود البحرية للدولة:

- حماية حدودها البحرية من السفن المشبوهة.

- حماية اقتصاد الدولة من خلال منع تهريب البضائع المختلفة إليها.

- حماية اقتصاد الدولة من ثروات ومصايد أو حماية عسكرية.

- وقاية الدولة من الأوبئة والأمراض.

١- (ب) راتزل.

٢- (ج) الاقتصادية.

٣- (أ) الاقتصادية والعسكرية.

٤- (أ) فرض الدولة للسيادة العسكرية عليها.

٥- (ب) التعيين.

٦- (ب) اختلال توازن القوى.

٧- (أ) القومية.

٨- (ج) وحدة قرارها السياسي.





إجابة امتحان الشهادة الثانوية الأزهرية لسنة (٢٠١٨/٢٠١٩م) الدور الأول

- ١- المملكة العربية السعودية. ٢- البرازيل. ٣- اليابان. ٤- فرنسا.
- ١- لأنها تشمل المجالات الآتية: أثر التكتلات الاقتصادية - ظاهرة الهولمة - الأمن الغذائي والمائي - المنظمات الدولية والإقليمية - قضايا الطاقة - الأجيال العسكرية - آثار التدخلات العسكرية.
- ٢- لأن وزن الدولة على المستوى العالمي يتحدد في المقام الأول على أساس ما تمتلكه الدولة من موارد اقتصادية وقدرة السكان على استثمار هذه الموارد، لذا فإن سلوك الدولة السياسي يكون نابعاً من خلفيتها الاقتصادية.
- ٣- لأن التطور في وسائل الحرب من حيث مداها وسرعتها وقاهاية تدميرها وتخطيها للعقبات الطبيعية كالجبال أثرت على وظيفة الحد الأمنية مما يسقط نظرية الحد الأمن.
- ٤- للأسباب الآتية: حدوث الكوارث الطبيعية كالفيضانات أو الزلازل / دوافع قومية مثل: تهجير أهل النوبة من جنوب أسوان إلى كوم امبو / الصراعات المسلحة الدولية أو المحلية، مما اضطر بعض السكان إلى الهجرة القسرية إلى دول الجوار وهو ما يطلق عليه (مشكلة اللاجئين).
- ١- أدى لاتحاد ألمانيا الغربية وألمانيا الشرقية وعودة الوحدة الألمانية / وظهور ألمانيا كأكبر قوة اقتصادية في أوروبا، وانحياز الاتحاد السوفيتي، وانفجار حلف وارسو، وإلغاء هيكله العسكري.
- ٢- ترقب على ذلك تحويل المساعدات الاقتصادية والمالية والتكنولوجية لصالح دول أوروبا على حساب الدول النامية، ولم تغد الدول النامية في سلم أولويات الدول الغربية المتقدمة لاتجاه الاهتمام إلى شرق أوروبا.
- ٣- لم ينجح التكتل الاقتصادي ولم يكتب له الاستمرار، لأن التكتل يواجه منافسة من التكتلات الأخرى، وقد ينتج عن هذه المناقشات نزاع تكافؤ فيه التكتلات الاقتصادية لاستخدام القوة.
- ٤- يكتب الطالب في ضوء: مخالفة الدول للقوانين الدولية وتأثر مصالح الدول الأخرى / حدوث نزاعات سياسية بين الدول على الأنهار الدولية / عدم تحقيق التعاون والتنمية الاقتصادية بين الدول المشتركة في الأنهار الدولية.
- ١- الصومال. ٢- تشاد. ٣- موزمبيق. ٤- مصر.
- ١- الدول الحبيسة (الداخلية). ٢- التحكيم (التحكيم الدولي). ٣- البرلمان الأوروبي. ٤- منظمة الأمم المتحدة للتنمية الصناعية.
- ١- العبارة (صحيحة) حيث تظهر الأقليات المسلمة في دول أوروبا والأمريكيتين، وتظهر الأقليات المسيحية في العالم العربي عدا لبنان/ وأتباع الديانات السماوية في الصين واليابان وكوريا والهند.
- ٢- العبارة (صحيحة) يرجع ظهور المنظمات الدولية التي نعرّض البشرية لحروب قوّت على ملايين البشر والأموال/ الحرب العالمية الأولى والثانية أقوى الدوافع لإنشاء منظمات دولية للحفاظ على الأمن والسلام الدوليين، مما دفع رجال السياسة إلى بذل جهود فكرية وسياسية لتحقيق ذلك.
- ٣- العبارة (خطأ) حيث أن الحد البحري له أهمية لا تقل أهمية وخطورة بالنسبة للدول عن حدّها البري، حيث يعمل على حماية الدولة من الشنن المشبوهة / ويحمي اقتصاد الدولة من خلال منع التهريب منها أو إليها/ ويضمن للدولة حقوقاً مختلفة منها ما هو اقتصادي أو عسكري/ وقاية الدولة من الأوبئة والأمراض.
- ٤- العبارة (صحيحة) حيث أن القوى الكبرى العالمية هي قوى صناعية لا يمكن لأي سياسة سواء دفاعية أو هجومية أن تكون ذات أثر إذا لم تساندها قدرة على تصنيع الآلات الحربية.
- ١- (د) المعلوماتية. ٢- (ج) الاقتصادية. ٣- (ب) النيل. ٤- (ج) الصين.
- ١- هناك علاقة وثيقة بين الاستعمار ومشكلة (سبتة ومليلة)، فقد احتلت إسبانيا (سبتة) عام ١٤١٥م، و(مليلة) عام ١٤٩٥م، ووقعت (المغرب) تحت الاحتلال الفرنسي، وقد استقلت المملكة المغربية عام ١٩٥٦م، بينما بقيت المدينتين في يد الإسبان، وطالبت المغرب بالمدينتين، ولكن إسبانيا رفضت بسبب التقادم، وأن نسبة السكان الإسبان ٦٠٪ من السكان، وأن المدينتين غير مسجلتين ضمن الأراضي التي يجب تصفية الاستعمار فيها بالأمة المتحدة.
- ٢- ترتبط الجغرافيا السياسية بفروع الجغرافيا الأخرى التي تعدها بالمعلومات اللازمة عن المقومات الطبيعية والبشرية للدولة، كما ترتبط ببعض العلوم الأخرى مثل: علم التاريخ والعلوم السياسية.
- ٣- هناك علاقة وثيقة بين حجم السكان وقوة الدولة، بمعنى أن الكثرة العددية لسكان الدولة يمكنها من بناء قواتها السياسية والعسكرية، فأصبحت تؤدي دوراً في السياسة الدولية للعالم، فوجد على سبيل المثال أن الدول العظمى في العالم ذات العضوية الدائمة في مجلس الأمن ذات حجم سكاني كبير مثل: الولايات المتحدة، والصين، وروسيا الاتحادية.
- ٤- توجد علاقة وثيقة بينهما، حيث أدت تصفية الاستعمار التي بدأت منذ الحرب العالمية الثانية إلى نشأة الحدود الخطية مثل: المستعمرات الفرنسية والإنجليزية والإيطالية في أفريقيا وآسيا وأمريكا الجنوبية.



إجابة امتحان الشهادة الثانوية الأزهرية لسنة (٢٠١٨/٢٠١٩ م) الدور الثاني

١- (ج) الصين.

٢- (ب) السياسية.

٣- (د) القومية.

٤- (ج) بوش الأب.

١- العبارة (صحيحة) مثل: روسيا الاتحادية [١٢.٦ مليون كم<sup>٢</sup>] على عكس الفاتيكان التي تبلغ مساحتها أقل من كيلو متر مربع.  
٢- العبارة (خطأ) لأن الدولة الكونفدرالية أقل انتشاراً وأكثر ضعفاً وهشاشة؛ لأنه يعطى الحق لأي دولة من دول الاتحاد أن تنفصل عن الاتحاد وتتحول لدولة فيدرالية مثل: سويسرا.

٣- العبارة (صحيحة) لأن الجغرافيا السياسية تعمل على تحديد عناصر القوة والضعف للوحدات السياسية واقتراح حلول للمشكلات السياسية مثل: رسم الحدود في أوروبا وقضية طابا المصرية. كذلك توفير المعلومات اللازمة لاتخاذ القرارات السياسية والعسكرية.

١- فلسطين.

٢- موريتانيا.

٣- الإمارات.

٤- باب المنذب.

١- مساندة حركات التحرر في العالم مثل: تونس والجزائر/ حل العديد من النزاعات الطويلة بإرسال قوات متعددة الجنسيات مثل: أفغانستان، والعراق/ إرسال قوات حفظ السلام لبعض الدول مثل: البوسنة والهرسك، وكرواتيا/ إرسال مراقبين دوليين في منطقة التوتر بالشرق الأوسط والهند.

٢- كانت الحروب ذات أثر واضح على نشأة الحدود الطبيعية كمثال على ذلك حدود الغالب والمغلوب وحدود الهدنة التي أصبحت بمثابة حدود سياسية.

٣- هناك علاقة وثيقة بين الدين وقوة الدولة. بمعنى أن الدين عامل من عوامل التجانس السكاني للدولة، بمعنى أن الدين لم يعد عاملاً من عوامل إثارة المنازعات كما كان قديماً بسبب انتشار الثقافة وتغليب المصالح السياسية والاقتصادية.

٤- هناك علاقة وثيقة بين الموارد الاقتصادية وقوة الدولة، بمعنى أن وزن الدولة على المستوى العالمي يتحدد في المقام الأول على أساس ما تملكه الدولة من موارد اقتصادية وقدرة السكان على استغلال هذه الموارد، ومن ثم فإن سلوك الدولة السياسي يكون نابغاً من خلفيتها الاقتصادية.

١- (٣) لأن الموقع بالنسبة لدوائر العرض يؤثر في تحديد الملامح العامة لمناخ الدولة، وتحديد النشاط البشري للسكان.

ب) لأن المشكلات التي تهدد أمن الدول سواء من الداخل أو من الخارج هي في معظمها إرث الدول الاستعمارية، إذ لم تخل مستعمرة سابقة من مشكلة سياسية خلفها المستعمر.

ج) لأن الحدود الجبلية ظاهرة دائمة ومرئية وعريضة وقليلة السكان ويقتصر عبورها على ممرات معينة، و لذلك تصلح لتكون حدوداً فاصلة بين الدول، كما أنها تعتبر عامل فصل يعرقل حركة الانتقال على جانبيها، إضافة إلى أنها تعتبر خطوطاً دفاعية تستغلها الدول في إقامة التحصينات للدفاع عن نفسها ضد أي غزو.

د) لأن هذا التدفق مرتبط دائماً بأشكال مختلفة من الجريمة المنظمة، فتقوم المنظمات الإجرامية والعصابات المعادية بتسهيل توطئ العناصر الإجرامية إلى داخل البلاد أو العكس (إفلات الإرهابيين) بالإضافة لتنامي الصراعات القبلية العنافية بين المهاجرين / إضافة إلى أن الهجرة غير الشرعية تخلق بالتوازن الديموجرافي مَهْدَدَةً بذلك مواطني الدولة أو المنطقة / كما أنها تعمل على انتشار بعض العادات المخالفة لقيم المجتمع / تؤثر سلباً على التنمية الاقتصادية، حيث أصبح المهاجرون غير الشرعيين يشكلون أيدي عاملة رخيصة تتزايد وتؤدي إلى سوق العمل غير الشرعي مما يؤثر سلباً على الأيدي العاملة المحلية / تؤدي الهجرة غير الشرعية إلى نقل الأوبئة والأمراض الفتاكة سريعة الانتشار.

١- (٤) أ) أدى إلى: الاستفادة من مزايا الإنتاج الكبير / تحقيق التنمية الاقتصادية / رفع مستوى رفاهية الأفراد / الاستفادة من المراكز البحثية ومهارات الفنيين / تنوع الإنتاج بطريقة اقتصادية / تخفيف آثار الصدمات الخارجية.

ب) أدت إلى: فشل سياسته في إيجاد نظام اقتصادي أكثر تطوراً / انهيار حلف وارسو / التأثير على العلاقات الدولية / اتحاد ألمانيا الغربية والشرقية وعودة الوحدة الألمانية.

ج) أدى إلى: احتكار دول الغرب لسلح والمال والتكنولوجيا / الصراع الراهن حول التكنولوجيا / تضاول دور حركة عدم الانحياز / التدخل الأمريكي في الشؤون الداخلية للدول / انتشار الحروب الأهلية / اختراق الأمن الثقافي العربي.

د) التأثير على خريطة العالم السياسية / وتهديد السيادة القومية للدول.

١- الكنفو الديمقراطية.

٢- استراليا.

٣- الهند.

٤- الولايات المتحدة الأمريكية.

٥- (٥) أ)

١- قلب الدولة.

٢- النظام الرئاسي.

٣- وطن الأقلية.

٤- قوات درع الجزيرة.

٥- (ب)

إجابة امتحان الشهادة الثانوية الأزهرية لسنة (٢٠١٧/٢٠١٨ م) الدور الأول

١- (أ) ١- (المفوضية الأوروبية).

٢- (الصين).

٣- (الاستعمار).

٤- (الزراعي).

٥- (النيل).

ب) المقارنة: (يكتفى بثلاثة عناصر لكل منهما)

عناصر القوة الاقتصادية	عناصر القوة العسكرية
١- تنوع مواردها الاقتصادية.	١- حجم القوة البشرية العسكرية سواء العاملة أو الاحتياط.



٢. كفاءة المقاتل ودرجة تعلمه وإخلاقه ودوافعه.	٢. الكفاءة التي تستثمر بها الموارد.
٣. مقدار المعدات العسكرية ومعدات القتال الرئيسية.	٣. مدى امتلاكها للتقنية الحديثة.
٤. الإنفاق العسكري الذي تُنفقه الدولة من دخلها القومي.	٤. صلاتها التجارية والميزان التجاري.
٥. كفاءة جهاز المخابرات الحربية.	٥. مضرورة الدولة على الصمود الاقتصادي ومدى اكتفائها الذاتي.

بد نظام جمهوري.

- (٢) أ. أنظمة الحكم من حيث الشكل: أ. نظام ملكي.
١. أنظمة الحكم من حيث تنظيم العلاقات بين السلطات الثلاث هي: أ. النظام الرئاسي. ب. النظام البرلماني. ج. النظام شبه الرئاسي.
٢. جغرافية الانتخابات تهتم بدراسة: أ. توزيع الدوائر الانتخابية.
- ج. دراسة السلوك الانتخابي للناخبين. د. تحليل الآثار البيئية الطبيعية والبشرية والظروف الاقتصادية على السلوك الانتخابي للفرد.
- هـ. دراسة أثر الانتخابات على تغيير الظروف البشرية في المنطقة.
- ب. كانت الحروب ذات أثر واضح على نشأة الحدود الخيالية كمثال على ذلك حدود الغالب والمغلوب وحدود الهدنة التي أصبحت بمثابة حدود سياسية.
٢. ظهرت آثار أزمة الطاقة في مجالين رئيسيين للعلاقات الدولية: العلاقات الدولية بين الدول المتقدمة وبعضها. ثم العلاقات بين الدول المتقدمة والدول النامية، حيث رفعت من شأن دول العالم الثالث، فالصراع العالمي على مصادر الطاقة (خاصة: البترول والغاز الطبيعي) وراء الكثير من الأزمات الدولية والمواقف السياسية للدول على المسرح العالمي، وليس أدل على ذلك من الصراع في منطقة الشرق الأوسط.
٣. يتوقف أثر المشكلات السياسية التي تُثيرها الأقلية على حجمها من مجموع السكان وقوتهم الاقتصادية. فقد كان البيض في دولة جنوب أفريقيا أقلية لكنهم يسيطرون على حوالي ثلاثة أرباع اقتصاد الدولة، وما زال جزء كبير من اقتصاد الدولة في أيديهم.

(٣) أ. المميزات: وضوحها في الطبيعة - تمثل حطًا دفاعيًا ومانعًا مائيًا.

- العيوب: الأنهار تغير مجاريها بشكل مستمر، لذا نجد ضفافها غير ثابتة بسبب الفيضان والتحت والإرساب، مثل: نهر اليرموك، وجود جزر في مجرى النهر قد يعوق تحديد الحد السياسي.
- ب. كان انهيار (حلف وارسو) نتيجة تداعيات كثيرة، أهمها: فشل سياسة (جورباتشوف) في إيجاد نظام أكثر تطورًا، وبدأت النزعة الانفصالية تظهر بين الجمهوريات السوفيتية من ناحية ودول حلف وارسو من ناحية أخرى، وبدأت الجمهوريات السوفيتية إعلان نفسها دول مستقلة مستقلة الفوضى السياسية في الاتحاد السوفيتي، وهذا ما سهل على دول حلف وارسو التحلل من التزاماتها في الحلف إلى أن أعلنت روسيا حل الحلف رسميًا عام ١٩٩١م.

ج. ترجع أهمية الحدود السياسية البحرية للدولة للأسباب الآتية:

١. حماية حدودها البحرية من السفن المشبوهة (الحماية والأمن).
٢. حماية حقوق مختلفة للدول منها ما هو اقتصادي (ثروات ومصايد طبيعية) أو عسكرية.
٣. وقاية الدولة من أي أوبئة وأمراض قد تدخل إليها من خلال السفن القادمة من دول أخرى، حيث تخضع للتفتيش الصحي بمجرد دخولها المياه الإقليمية للدولة.
- د. وذلك من خلال:
١. توفير كافة البيانات والمعلومات الرقمية عن الموارد الطبيعية والبشرية واستخدامات الأراضي، مما يساعد في التعرف على مدى قوة الدول.
٢. توفير خرائط حديثة ودقيقة عن الدول.
٣. مساعدة متخذي القرار في اتخاذ القرارات السياسية السليمة اعتمادًا على البيانات الدقيقة والتفصيلية المستمدة منها.

- (٤) أ. (صواب): بعد انتهاء الحرب العالمية الثانية ١٩٤٥م تعددت الجهود المندوبة بإقامة منظمة دولية جديدة لتكون أكثر ثباتًا وأعمق أثرًا قدرة على حل المشكلات الدولية، وتم الاتفاق على ميثاق هيئة الأمم المتحدة في مؤتمر سان فرانسيسكو ١٩٤٥م وهدفت إلى الحفاظ على السلم والأمن الدوليين وتدعيم التعاون الدولي في مختلف المجالات.
- ب. (صواب): توظيف التكنولوجيا من أجل الوصول إلى معدلات الإنتاج، ولذلك يدور الصراع الخفي على المواد الخام التي تدخل في الصناعات التكنولوجية المتقدمة مثل: اليورانيوم، والذي تتوفر خاماته في بعض الدول النامية، وخاصة دول قارة أفريقيا، مما يجعلها مَطْمَعًا للدول المتقدمة.

- ج. (صواب): قد يمتد خط الحدود مع خط تقسيم المياه على طول امتداد القمم الجبلية وهو يُعد أفضل أنواع الحدود السياسية في المناطق الجبلية، وقد يكون خط الحدود بين الدول عند أقدم الجبال.
- د. (خطأ): لم تستند كل من (تركيا ومنغوليا) لامتدادهما من الشرق إلى الغرب؛ لأن هذا الامتداد لا يساعد على تنوع مناخهما.

(٥) أ. ١- (كندا).

- ٢- (البرازيل). ٣- (فرنسا). ٤- (إندونيسيا).
- ب. ١- (صندوق النقد الدولي). ٢- (الجغرافيا السياسية). ٣- مجلس التعاون لدول الخليج العربي. ٤- (النظام العالمي الجديد).



الجانب امتحان الشهادة الثانوية الأزهرية لسنة (١٧-١٨/٢-٢٠٢٠م) الدور الثاني

ج (١) أ- المملكة المغربية. ٢- ألبانيا. ٣- صقلية. ٤- الكنفو الديمقراطية.

ب- ١- أعلى البحار (المياه الدولية). ٢- عصبة الأمم. ٣- الشكل المستطيل. ٤- القوة التنظيمية (الاجتماعية - السياسية).

ج (٢) أ- ١- (ج) المغرب وإسبانيا. ٢- (ج) راتزل. ٣- (ب) روسيا الاتحادية. ٤- (ج) مركز التجارة الدولي.

ب- ١- تلعب قوة الدولة في المجال العسكري دوراً مؤثراً في العلاقات الدولية وخريطة العالم السياسية بعلاقاتها الدولية في بداية الألفية الثالثة خير شاهد على ذلك، فما زالت روسيا الاتحادية الوريث الأكبر للاتحاد السوفيتي السابق تلعب دوراً مؤثراً في كثير من الأحداث العالمية مثل: مشكلة أوكرانيا، والأوضاع في سوريا.

٢- أدى الاستعمار من بعد وما استخدمه من وسائل التصوير الجوي والفضائي الحديثة وأجهزة تحديد المواقع وغيرها إلى توفير مرنيات فضائية ومعلومات أكثر دقة عن الكثير من المجالات التي تهتم بها الجغرافيا السياسية، مثل: الحدود السياسية بين الدول والممرات الملاحية والمياه الإقليمية للدول ومناطق النزاع بين الدول.

٣- يعد التركيب العمري للسكان حسب فئات الأعمار أحد عوامل قوة الدولة أو ضعفها، فالدول التي ترتفع فيها نسبة الأطفال دون سن الخامسة عشرة ونسبة كبار السن يسبب لها مشكلة في ارتفاع معدل الإعالة، أما الدول التي ترتفع فيها نسبة الشباب فذلك يشكل أساس القوى العاملة لأنشطتها الاقتصادية وبأجور منخفضة.

٤- قد يساهم التقدم العلمي والتكنولوجيا في التقليل من أثر المناخ السلبى على الدولة من خلال تطور وسائل النقل والمواصلات وأجهزة التكييف والزراعة الحديثة في البيوت البلاستيكية.

ج (٣) أ- ترتب على ذلك إنشاء جلف شمال الأطلسي (الناتو) بموجب ميثاق تم توقيعه في واشنطن ١٩٤٩م ومقره (بروكسل) عاصمة بلجيكا، ودور الجلف في فترة التأسيس تولى مهمة الدفاع عن أوروبا الغربية ضد الاتحاد السوفيتي والدول المشكلة لجلف (وارسو) آنذاك في سياق الحرب الباردة.

ب- أدت الحرب العالمية الأولى والثانية إلى تغييرات سريعة على أثرهما اختفت دول وظهرت دول، وعُدلت حدود دول، واختفت إمبراطوريات وحل محلها قوى عظمى جديدة مثلما حدث في ألمانيا التي انقسمت إلى ألمانيا الشرقية وألمانيا الغربية.

ج- أدى إلى تعديل الحد البحري بين الدولتين بزواوية ٥٥٢، ويرجع ذلك إلى وجود الجزر التونسية وتغير اتجاه خط الساحل التونسي، وبهذا الحكم أصبحت لتونس حقوق أساسية في حقول الغاز والبتروول في هذه المنطقة.

د- لقد أسفر عن تمكك الاتحاد السوفيتي (السابق) عدّة دول مستقلة، منها (روسيا الاتحادية) التي أساسها التومية الروسية وداخلها قوميات (أقليات) كانت تشكل الاتحاد السوفيتي السابق، كما أن باقي الدول التي انفصلت بها أقلية روسية، كما أسفر عن تمكك (يوغوسلافيا) عدّة دول، يوجد في كل دولة أقلية قومية، حيث يوجد في (مقدونيا وصربيا) أقليات (البانية)، وفي (البوسنة والهرسك) أقليات صربية وكرواتية.

ج (٤) أ- ١- زيادة جدّة الحرب الباردة بين المعسكرين الشرقي والغربي، إذ أنشأ الاتحاد السوفيتي (جلف وارسو) لمواجهة جلف شمال الأطلسي.

- انهماك الجلفين في سياسة سباق التسلح، مما أدى إلى إرهاب اقتصاد الولايات المتحدة والاتحاد السوفيتي بصفة خاصة.

- إضعاف هيئة الأمم المتحدة بسبب التنافس بين القوى الكبرى، مما أدى إلى عدم قدرة المنظمة الدولية على تحقيق الأمن والسلام الدوليين.

٢- أثر الموقع: العلاقات الدولية لدولة هامشية مثل (نيوزيلاندا وأستراليا) تختلف عن دولة مركزية ذات موقع استراتيجي (كمصر).

المساحة: دولة ذات مساحة عملاقة كـ(روسيا) بكل ما تحمله المساحة من إمكانيات تختلف بالتأكيد علاقاتها الدولية عن دولة قزمية المساحة.

ب- ١- توفير متطلبات الأمن القومي للدولة، حيث يعرض الشعب من التعرض للضغوط الخارجية.

٢- مراعاة القبايل وتوزعاتها المكافية - لم تثار العديد من المشاكل السياسية - لم تحصل الضرائب والرسوم من الرعاة.

ج (٥) أ- ١- الولايات المتحدة الأمريكية. ٢- الهند. ٣- الصين. ٤- اليابان. ٥- الأنديز.

النظام البرلماني	النظام شبه الرئاسي
يتميز النظام البرلماني بسمات عدّة:	يتميز بالسمات الآتية:
١- وجود برلمان هو مصدر السلطة والتشريع ومنتخب من الشعب.	١- يوجد رئيس منتخب مباشرة من الشعب على رأس السلطة التنفيذية.
٢- وجود رئيس أو ملك (يسود ولا يحكم).	٢- برلمان منتخب يشكل الحكومة.
٣- رئيس الوزراء هو الذي يتولى مسؤولية الحكم (ينتخب من الشعب).	٣- السلطة في هذا النظام مشتركة بين الرئيس والحكومة وينظمها الدستور.
وتعد (المملكة المتحدة) نموذجاً لهذا النظام.	وتعد (فرنسا) نموذجاً للنظام شبه الرئاسي.





إجابة النموذج الأول

(١) اليابان

(٢) صواب : لأن العاصمة مركز للحكم والإدارة وتضم حشدًا للقوى السياسية، وهي مركز للقوة والسلطة في الدولة. وأكثر مدن الدولة عالية، كما أنها تمثل حلقة اتصال بين الدولة والعالم الخارجي. بالإضافة إلى أنها تمثل المركز الثقافي للدولة. كما أن موقعها عادة يكون ملتقى طرق النقل والمواصلات في الدولة.

(٣) أدت تصفية الاستعمار التي بدأت منذ الحرب العالمية الثانية إلى نشأة الكثير من الحدود الخطئية خاصة في المستعمرات الأوربية في أفريقيا وآسيا وأمريكا الجنوبية، مثال ذلك المستعمرات الفرنسية والإنجليزية والإيطالية في أفريقيا.

(٤) تأثير إيجابي.. تحقيق التعاون وزيادة قوتها : مثل: دول غرب أوروبا.

تأثير سلبي.. تسبب العديد من المشكلات وزيادة الأعباء : مثل: السودان، حيث يجاورها سبع دول مما سبب لها مشاكل عديدة مع جيرانها.

(٥) طالبت ليبيا أن يتجه الحد البحري إلى الشمال مباشرة في مياه هذا الرصيف.

● طالبت تونس بحد بحري ينحرف شرقاً بزاوية مقدارها ٤٥ درجة تقريباً.

● أصدرت محكمة العدل الدولية حكمها: بأن يسير الحد البحري بين الدولتين بزاوية ٢٦ درجة، ثم بعد ذلك بزاوية ٥٢ درجة، ويرجع ذلك إلى وجود الجزر التونسية (جربة وكرنكاح) وتغير اتجاه خط الساحل التونسي.

● ترتب على ذلك الحكم: أن أصبحت لتونس حقوق أساسية في حقول الغاز والبتروال في هذه المنطقة.

(٦) المملكة المتحدة (بريطانيا).

(٧) أ) ١. زيادة عدد السكان.

٢. المعاهدات المبرمة بين الدول.

ب) ١. جبلية.

٢. نهريّة.

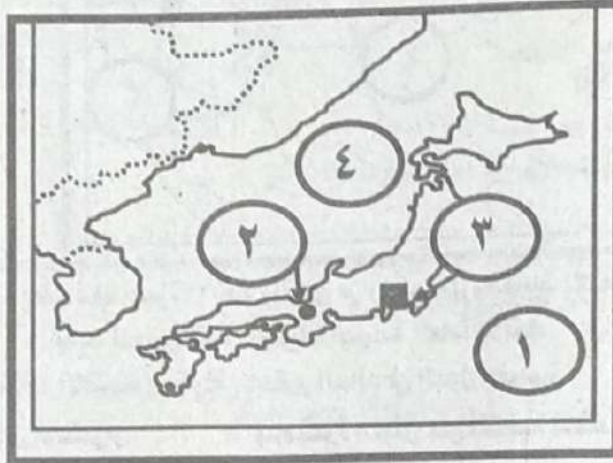
٢. الحاجة إلى تنمية المناطق الهامشية.

٤. تصفية الاستعمار لمستعمراته.

٣. بحرية.

٥. الحروب.

٤. بحيرية.



(٨) →

(٩) خطأ) رمسيس الثاني.

(١٠) أ) الحصول على مزايا الإنتاج الكبير وتحقيق التكامل بين الدول الأعضاء.

٢) تيسير الاستفادة من المراكز البحثية ومهارات الفنيين والأيدي العاملة بصورة أفضل.

٣) تسهيل عملية التنمية الاقتصادية وإقامة مشروعات مشتركة. ٤) تنوع الإنتاج بطريقة اقتصادية. ٥) رفع مستوى رفاهية المواطنين.

٦) تخفيف أثر الصدمات الخارجية، بتقليل الاعتماد على الخارج، وذلك بزيادة مستوى التنوع الإنتاجي في دول التكتل.

(١١) تكون مطالباتها بالانفصال خطراً على استقرار الدولة.. خاصة إذا كانت هناك قوى مجاورة تشجع هذه الأقلية في مطالبها : مثال ذلك: الباسك في أسبانيا، وسكان تيمور الشرقية في إندونيسيا.

(١٢) قَدّمت الأمم المتحدة اقتراحات لحل المشكلة، منها ..

١) وقف إطلاق النار ٢) تجريد (كشمير) من السلاح ٣) سحب القوات المتحاربة إلى مواقعها قبل بدء القتال.

٤) إجراء استفتاء محايد تحت إشراف الأمم المتحدة لتقرير المصير على أساس إما الاستقلال عن الدولتين أو الانضمام لإحدهما.

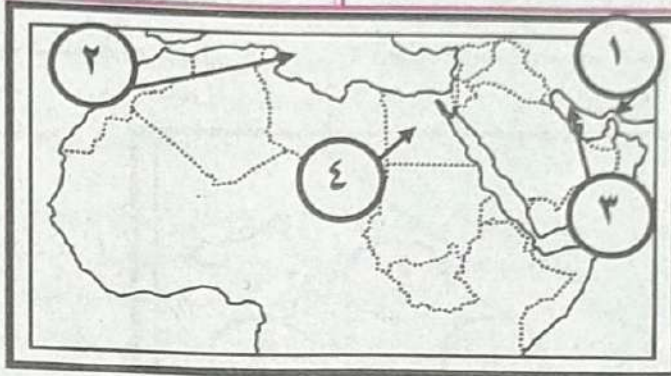


## المرشد في المراجعة النهائية

حلف وارسو	حلف شمال الأطلسي	حلف
تأسس الحلف في مايو عام ١٩٥٥ م .. لمواجهة تهديدات أعضاء حلف شمال الأطلسي خاصة انضمام ألمانيا الغربية لحلف شمال الأطلسي.	- قيام الاتحاد السوفيتي (السابق) بتشديد حصار علي برلين عام ١٩٤٨ م. - مما أدى إلى تبلور فكرة إنشاء حلف عسكري يضم دول غرب أوروبا والولايات المتحدة الأمريكية للدفاع عن أوروبا الغربية ضد الاتحاد السوفيتي والدول المشكلة لحلف وارسو آنذاك في سياق الحرب الباردة. - تم أنشأ الحلف بموجب ميثاق تم توقيعه في واشنطن أبريل عام ١٩٤٩ م.	أسباب نشأة الحلف
(وارسو) عاصمة بولندا.	(بروكسل) عاصمة بلجيكا.	المقر

(١٤٤) خصائص النظام البرلماني كالبيوراينوم.

خصائص النظام شبه الرئاسي.	خصائص النظام البرلماني
١) يوجد رئيس منتخب مباشرة من الشعب على رأس السلطة التنفيذية. ٢) برلمان منتخب يشكل الحكومة. ٣) السلطة في هذا النظام مشتركة بين الرئيس والحكومة وينظمها الدستور.	١) البسرلمان هو مصدر السلطة والتسريع ومنتخب من الشعب. ٢) وجود رئيس أو ملك (يسود ولا يحكم) ٣) رئيس الوزراء هو الذي يتولى مسؤولية الحكم (ينتخب من الشعب).



(١٤٧) خطأ، المجلس الأوربي: - يعتبر قمة أجهزة الاتحاد ويتكون من رؤساء دول وحكومات الاتحاد.

- يحدد المجلس اتجاه وأولويات السياسة العامة للاتحاد.

(١٤٨) عجزه عن تطوير نظم إنتاجه الاقتصادي مقارنة بالمستوى السائد في الدول الغربية.

(١٤٩) ١. فشل التكتل وعجزه عن الاستمرار ٢. عدم قدرة التكتل على المنافسة الاقتصادية مع الدول الأخرى.

(٢٠٠) تعد الشركات متعددة الجنسيات من أهم خصائص النظام العالمي الجديد.

الأممة	الدولة	الشبه
لا تتطلب سلطة حاكمية.	عناصر التكوين من .. أرض وشعب.	السلطة .. تتطلب سلطة حاكمية فهي المكون الأساسي لسيادتها.
يمكن أن تكون في أكثر من دولة لكل منها سلطاتها الخاصة.	هناك عناصر غير ضرورية في قيام الدولة مثل.. اللغة والعادات والثقافة؛ فعلى سبيل المثال.. ● الولايات المتحدة الأمريكية يعيش بها سكان من جنسيات ولغات مختلفة. ● سويسرا بها ثلاث لغات أيضاً: الإيطالية والألمانية والفرنسية.	الاختلاف



٣٣١) لقد تم رسم الحدود السياسية في إقليم السافانا الإفريقية بين دول الإقليم دون مراعاة للقبائل وتوزيعاتها المكانية ، مما أثار العديد من المشاكل السياسية بعد ترسيم الحدود ، مثلما يحدث في غرب السودان الآن ، أو بين دولتي الشمال والجنوب السوداني .

٣٣٢) الأحلاف العسكرية : اتفاق رسمي تتعهد بموجبه مجموعة من الدول بأن تتعاون فيما بينها في مجال الاستخدام المشترك لقدراتها العسكرية ضد أي دولة أو مجموعة دول ، كما تتنرم الدول الموقعة باستخدام القوة أو التشاور باستخدامها في ظروف معينة .

٣٣٣) (١) تفسير التباين في الأنماط الانتخابية السائدة في مكان معين .

٣٣٤) دراسة وتحليل تغيرات السلوك التصويتي للناخب من مكان لآخر أو من دائرة انتخابية لأخرى ومعرفة أسباب هذا الاختلاف .

٣٣٥) (١) حماية الحدود من خلال المراقبة الجوية والأقمار الصناعية .

٣٣٦) لكنها في نفس الوقت أسقطت نظرية الحد الأمن بسبب تطور وسائل الحرب خاصة في مداها وسرعتها وفعاليتها تدميرها وتخليطها للعقبات خاصة العقبات الطبيعية كالجبال على وظيفة الحد الأمنية .

٣٣٧) (الأفضل : الدولة الفيدرالية) : ١) يكون للشعب حق المشاركة في إدارة الشؤون المركزية .

٣٣٨) تتمتع بدستور فيدرالي . ٢) يتم فيها تحقيق التوازن بين السلطة المركزية والسلطة المحلية لكل ولاية .

٣٣٩) (٣٨٨) الجغرافيا السياسية : ذلك الفرع من الجغرافيا البشرية الذي يهتم بدراسة المقومات الطبيعية والبشرية للدولة وأثرها في قوة الدولة السياسية وكيفية تأثير تلك العوامل في العلاقات الدولية .

الخصائص الطبيعية	الخصائص البشرية
١. تقع دول مجلس التعاون لدول الخليج العربي في الجزء الجنوبي الغربي من قارة آسيا .	١. الدين (الدين الإسلامي) .
٢. تطل شرقاً على الخليج العربي وخليج عمان .	٢. اللغة (اللغة العربية) .
٣. تطل غرباً على البحر الأحمر .	٣. الجوار .
٤. تطل جنوباً على بحر العرب .	٤. التاريخ المشترك .
٥. المساحة : ٢,٤٢٢ مليون كم <sup>٢</sup> .	٥. العادات والتقاليد .
٦. عدد السكان : حوالي ٤٦ مليون نسمة عام ٢٠١٢م .	٦. تشابه الأنشطة الاقتصادية للسكان .
٧. يتمتع سكان دول مجلس التعاون بخصائص مشتركة زادت من تلاحمهم .	

٣٤٠) (خطأ) ، تقدم الصناعة حالياً لم يعد يتحقق ، حيث توجد مصادر الخام الأولية ، لكن حيث توجد العقول والمهارات ، مثال على ذلك .. اليابان ؛ لم ترتبط بمصادر الطاقة ولكن بالعقول والمهارات .

٣٤١) الثورة المعلوماتية .

### الإجابة النموذجية الثاني

١) برازيليا .

٢) (خطأ) في النظام الكونفيدرالي .. تختص الحكومات الإقليمية بالوظائف السيادية وهي .. السياسة الخارجية ، الاقتصادية ، الجيش ، الشرطة ، الإعلام .

٣) بعد انتهاء الحرب العالمية الثانية عام ١٩٤٥م ظهرت جهود تنادي بإقامة تنظيم دولي جديد ليكون أكثر ثباتاً وأعمق أثراً وأكثر قدرة على حل المشكلات الدولية .

٤) تم الاتفاق على ميثاق هيئة الأمم المتحدة في مؤتمر سان فرانسيسكو عام ١٩٤٥م .

٥) حل المشكلات الاقتصادية العالمية ، ورفع مستوى معيشة ورفاهية الأفراد .

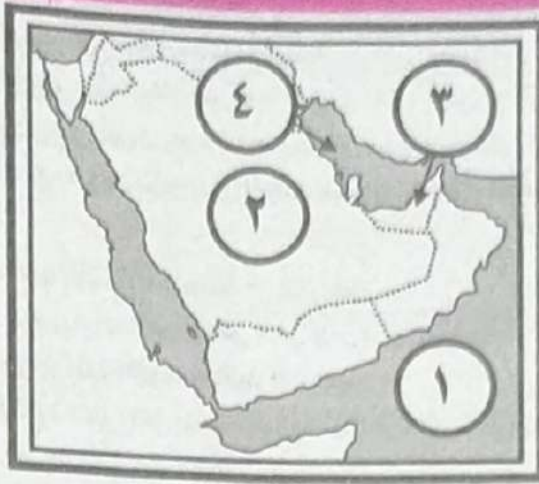
٦) زيادة المشكلات الاجتماعية ، وارتفاع عبء الإعالة .

٧) البرانس .

٨) المحافظة على الاستقرار العالمي واحترام دور الأمم المتحدة ، واحترام سيادة كل دولة واستقلالها وعدم المساس بوحدةها الوطنية ، ونشر قيم الديمقراطية واحترام حقوق الإنسان وحق الشعوب في تقرير مصيرها .

٩) أنواع المياه الإقليمية : - مياه داخلية . - مياه إقليمية . - مياه تكميلية أو ملاصقة . - مياه محايدة . - مياه دولية .





(١٦)

(١٦) صواب لأن هذه الدول عبارة عن دول جزرية.

(١٧) تدير وتنظم شؤون البلاد وتشرع القوانين وتوفر الخدمات للشعب وتحفظ أمن البلاد مع اعتراف دول العالم بها.

(١٨) فشل التكتل وعجزه عن الاستمرار وعدم قدرته على المنافسة الاقتصادية مع الدول الأخرى.

(١٩) ضمان سوق بين دول التكتل تشجع على قيام الأنشطة الاقتصادية، ووجود حجم من العمالة قادرًا على استغلال موارد الدول في التكتل

؛ وتلك العمالة عنصر أساسي في كل دول التكتل خاصة لو كانت على درجة عالية من المهارة والتخصص الإنتاجي بين دول التكتل.

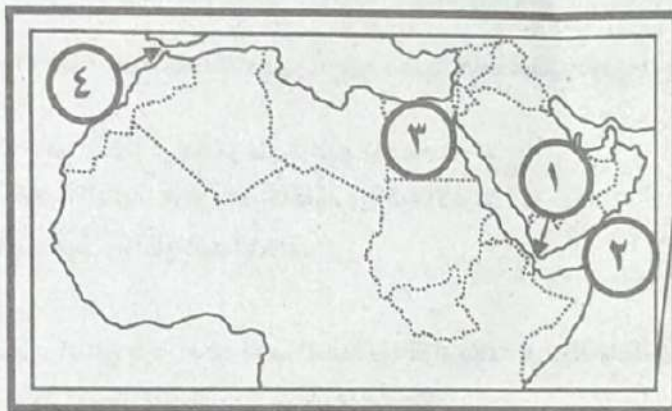
الآثار السلبية للسهول	الآثار الإيجابية للسهول
تجعل الدولة مكشوفة (غير منيعة) أثناء تعرضها للاحتلال.	١. تنوع الإنتاج الزراعي ووفرته.. كالمناطق السهلية لنهر النيل في مصر. ٢. تطور العمران والأنشطة الصناعية والتجارية؛ نظرًا لسهولة النقل والمواصلات وإنشاء البنية التحتية. ● مثل.. السهل الأوربي الأعظم والذي يوجد به ثاني أكبر كتلة سكانية في العالم وسهول آسيا الموسمية التي بها أكثر من نصف سكان العالم. ٣. سهولة الاتصال والامتزاج الثقافي وتعزيز الوحدة بين سكانها؛ مما يقوي من سيادة الدولة عليها.

(٢٠)

(٢٤) منتدى التعاون الاقتصادي.

الجوانب السلبية للحدود النهرية	الجوانب الإيجابية للحدود النهرية
١. الأنهار تغير مجاريها بشكل مستمر، لذا نجد ضفافها غير ثابتة بسبب الفيضان والنحت والإرساب، مثل: نهر ريوجراند الذي تسير معه الحدود السياسية بين الولايات المتحدة والمكسيك الذي غير مجراه فتحولت منطقة بانكو بعد عام ١٨٩٨م من تبعية الولايات المتحدة إلى المكسيك. ٢. وجود جزر في مجرى النهر قد يعوق تحديد الحد السياسي.	١. وضوحها في الطبيعة. ٢. تمثل خطًا دفاعيًا ومانعًا مائيًا يصعب على الجيوش الغازية عبورها

(٢٥)



(٢٦)

(٢٧) صواب، يجب تنوع الموارد؛ لأن التكامل يقوم على التنوع لا التشابه.





- (٢٨) الأنتاركتيكا تغير مجاريها بشكل مستمر، لذا نجد ضفافها غير ثابتة بسبب الفيضان والنحت والإرساب.
- (٢٩) حل العديد من مشكلات العالم (المشكلة الفلسطينية)، والعد من تدخل الولايات المتحدة في الشؤون الداخلية لدول العالم.
- (٣٠) ظهور مشكلة في ارتفاع معدل الإعاقة.
- (٣١) تؤدي وحدة اللغة إلى قوة الدولة وتماسكها، بينما يؤدي تعدد اللغات إلى ضعفها، خاصة إذا كانت الدول تضم أقليات لغوية ذات نزعة انفصالية.
- (٣٢) (صواب)، حيث أن المفوضية تشرف على ميزانية الاتحاد والبرامج التي يوافق عليها، وكذا الاتفاقيات والمعاهدات بالاشتراك مع محكمة العدل الأوروبية، كما أنها تمثل الاتحاد على المسرح الدولي سياسياً واقتصادياً.
- (٣٣) الأقليات: مجموعات بشرية ذات سمات وخصائص تختلف عن مثيلاتها في مجتمع الأكثرية.
- (٣٤) رانسزل.
- (٣٥) ١) احتلت أسبانيا (سبتة) عام ١٤٦٥م (وميليلة) عام ١٤٩٥م، ووقعت المغرب بعد ذلك فريسة للاستعمار الفرنسي، وقد استقلت المملكة المغربية عام ١٩٥٦م، بينما بقيت المدينتان في يد الأسبان.
- ٢) لم يتوقف المغرب عن مطالبته بالمدينتين، ولكن أسبانيا رفضت ذلك بحجج واهية أهمها..
- التقادم (طول فترة الاحتلال الأسباني).
- نسبة سكان المدينتين من الأسبان تصل إلى ٦٠٪.
- المدينتان غير مسجلتين ضمن الأراضي غير المستقلة لدى الأمم المتحدة عام ١٩٤٢م.
- (٣٦) أصبحت مصر دولة ذات موقع استراتيجي.
- (٣٧) الأفضل: الجيوبولوتيك؛ لأنها تهتم في دراستها للوحدات السياسية بتحليل بيئتها الطبيعية والبشرية دراسة موضوعية؛ لتوضح أثر ذلك على السلوك السياسي للدولة، لكن تدرس ماذا تريد الدولة؟ وما مطالبها الخارجية؟، كما أنها ترسم تصوراً لما يجب أن تكون عليه الدولة، وتنتظر للدولة ككائن حي.
- (٣٨) الرصيف القاري: هو امتداد لليابس تحت مياه البحر ويمتد من خط الساحل حتى عمق ١٠٠ قامة (القامة = ١٨٢سم) وللدولة حق استكشاف الموارد الاقتصادية المائية والمعدنية الموجودة به.

(٣٩)

المجلس الأعلى في مجلس التعاون الخليجي	الأمانة العامة في مجلس التعاون الخليجي
١. التصديق على ميزانية الأمانة العامة.	١. تعتبر الهيئة الإدارية المركزية الثابتة للمجلس ومقرها مدينة (الرياض).
٢. وضع السياسة العليا للمجلس.	٢. مهمتها: إعداد الدراسات الخاصة بالتعاون والتنسيق والخطط والبرامج المتكاملة للعمل المشترك بين أعضاء المجلس.
٢. وضع الخطوط الرئيسية التي تدير عليها الأمانة العامة.	

- (٤٠) (خطأ)، الموارد الطبيعية بطبيعتها غير موزعة بانتظام على خريطة العالم وخاصة الموارد المعدنية وموارد الطاقة، فهناك مناطق تتوافر فيها هذه الموارد بكثرة، بينما تندر هذه الموارد في مناطق أخرى، ومن هنا فهي مجال للصراع بين الدول من أجل الحصول على هذه الموارد خاصة الموارد غير المتجددة.
- (٤١) بروكسل.

### الإجابة النموذج الثالث

(١) النافتا.

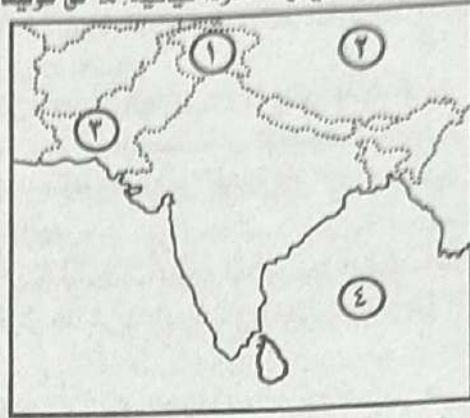
- (٢) (صواب)، لعبت مصادر الطاقة دوراً بارزاً في الصراعات الدولية خاصة منذ الحرب العالمية الثانية بين ألمانيا من ناحية والحلفاء من ناحية أخرى.
- مثال.. لعب البترول دوراً في مسار الحرب وفي اتجاه القوات المتصارعة نحو السيطرة على منابعه، حيث اندفعت الجيوش الألمانية نحو القوقاز أولاً في الحصول على بترول تلك البلاد.
- (٣) ١) تقلص المراعى مع زيادة السكان، حيث حولت بعض الدول جزءاً من أراضيها الرعوية إلى الزراعة، وأصبحت هناك نزاعات بين الرعاة والمزارعين في العديد من دول أفريقيا.
- ٢) رسم الحدود السياسية في إقليم السافانا الإفريقية بين دول الإقليم دون مراعاة للقبائل وتوزيعاتها المكانية؛ مما أثار العديد من المشاكل السياسية بعد ترسيم الحدود؛ مثلما يحدث في غرب السودان الآن؛ أو بين دولتي الشمال والجنوب السوداني.
- ٣) تحصيل الضرائب والرسوم الناتجة عن ترسيم الحدود السياسية من الرعاة.





٤. التغيرات المناخية التي شهدتها دول غرب أفريقيا في سبعينات وثمانينات القرن العشرين ، نتج عن ذلك :  
 ■ حدوث مشكلات في مناطق المراعي من نفوق ملايين الحيوانات.  
 ■ هجرة السكان إلى المدن أو إلى حرفة الزراعة.  
 (٤) حدوث توازن دولي . - عدم قدرة الولايات المتحدة على الانفراد بالعالم .  
 (٥) إرهاب اقتصاد الولايات المتحدة الأمريكية والاتحاد السوفيتي بصفة خاصة .  
 (٦) ريوجراند .

- (٧) ١. خط المنتصف (الوسط) : مثل نهر ريوجراند بين الولايات المتحدة و المكسيك .  
 ٢. خط العمق الملاحي : مثل الحدود بين فرنسا وألمانيا على طول نهر الراين .  
 (ب) ١. حق الملاحة : لأن بعض الدول حبيسة ؛ يمثل النهر أحد طرق النقل .  
 ٢. حق صيد الأسماك في المجرى النهري ، حيث أن تكاثر الأسماك لا يعرف حدوداً سياسية . ٣. حق توليد الكهرباء على طول المجرى .  
 ٢. حق توزيع المياه أو اقتسام مياه النهر .



- (٨) (٩) (صواب) دور الجغرافيين في الحرب العالمية الأولى والثانية في رسم الحدود السياسية الحديثة في أوروبا .  
 - دور الجغرافيا في الدفاع عن حق مصر في قضيه طابا .  
 (١٠) بسبب تطور وسائل الحرب خاصة في مداها وسرعتها وفاعلية تدميرها وتخطيها للعقبات الطبيعية كالجبال على وظيفة الحد الأمنية .  
 (١١) يؤدي ذلك إلى حدوث المشكلات السياسية داخل الدولة ، ومطالبة الأقلية بالانفصال .  
 (١٢) ● دفعت زيادة السكان كل دولة إلى التوسع في مناطق التخوم المجاورة لها وصاحب هذا التوسع تقدم وسائل النقل والمواصلات التي سهلت من عملية التوسع .  
 ● مما أدى إلى التقاء الدول مع بعضها البعض عند نقطة ما ؛ فكان لا بد وأن يحدد عندها حدود خطية تحدد سيادة كل دولة بكل دقة .  
 ● مثال ذلك : قارة أوروبا ؛ حيث كانت الجبال والغابات بمثابة التخوم الفاصلة بين دول القارة وبإزالة الغابات انكشفت الأرض وبالتالي رسمت الحدود الخطية للفصل بين الدول بدلاً من التخوم .

(١٣)

المقومات الطبيعية (الجغرافية) لقيام التكتل	المقومات البشرية والتكنولوجية لقيام التكتل
<ul style="list-style-type: none"> <li>● يعد الاتصال الأرضي أهم المقومات الجغرافية التي تساعد على قيام التكتلات الاقتصادية ؛ مثال ذلك ..</li> <li>١. دول الاتحاد الأوروبي .</li> <li>٢. دول أمريكا الشمالية .</li> <li>● لكنهما يشتركان في حلف عسكري واحد هو حلف الناتو .</li> </ul>	<ul style="list-style-type: none"> <li>وجود حجم سكاني مناسب في الدول التي يضمها التكتل الاقتصادي ؛ حيث أن الحجم السكاني المناسب يعني ..</li> <li>- ضمان سوق بين دول التكتل تشجع على قيام الأنشطة الاقتصادية .</li> <li>- وجود حجم من العمالة قادراً على استغلال موارد الدول في التكتل ؛ هذه العمالة عنصر أساسي في كل دول التكتل خاصة لو كانت على درجة عالية من المهارة والتخصص الإنتاجي بين دول التكتل .</li> <li>المستوى التكنولوجي لدول التكتل : حيث أن وجود مستوى تكنولوجي متقارب بين دول التكتل يساعد على أن تعم الفائدة على كل الدول الأعضاء دون أن تستأثر دولة من دول التكتل بمزاياه .</li> <li>تشابه العادات والتقاليد : يساعد على قيام التكتل واستمراره حيث أن التنافر الثقافي بين الدول لا يساعد على قيام التكتلات الاقتصادية .</li> </ul>



خصائص النظام البرلماني	خصائص النظام الرئاسي
١. البرلمان هو مصدر السلطة والتشريع ومنتخب من الشعب.	١. الرئيس هو رأس الدول (يسود ويحكم).
٢. وجود رئيس أو ملك (يسود ولا يحكم).	٢. السلطة التنفيذية فيه مستقلة عن السلطة التشريعية.
٣. رئيس الوزراء هو الذي يتولى مسؤولية الحكم (يُنتخب من الشعب).	٣. السلطة التشريعية تقوم وحدها بالتشريع في الدولة بصفة أساسية.
	٤. السلطة القضائية وهي مستقلة عن باقي السلطات.



ج ١٧) صواب، النظام العالمي الجديد له تأثير كبير على دول العالم المتقدم منها والنامي، ودليل ذلك:

- احتكار دول الغرب الرأسمالية للأسلحة والمال والتكنولوجيا.
- تحويل كثير من المساعدات الاقتصادية والمالية والتكنولوجية والتبادل التجاري لصالح العلاقات الجديدة بين شرق أوروبا والغرب عموماً على حساب الدول النامية.
- لم تعد الدول النامية في سلم أولويات الدول الغربية المتقدمة (لماذا).
- توظيف التكنولوجيا من أجل الوصول إلى أعلى معدلات الإنتاج ولذلك يدور الصراع الخفي على المواد الخام التي تدخل في الصناعات التكنولوجية المتطورة مثل: اليورانيوم والذي تتوفر خاماته في بعض الدول النامية وخاصة أفريقيا مما يجعلها مطعماً للدول المتقدمة.
- تضاؤل دور حركة عدم الانحياز في العلاقات الدولية والتي ضمت عضويتها غالبية الدول النامية في آسيا وأفريقيا وأمريكا اللاتينية والتي كان لها شأن بارز في الأحداث العالمية في مرحلة الحرب الباردة.
- كان من أهم أسباب سقوط الاتحاد السوفيتي عجزه عن تطوير نظم إنتاجه الاقتصادي مقارنة بالمستوى السائد في الدول الغربية ويُعد هذا درساً لكل الدول النامية وجرس إنذار لها بإصلاح أوضاعها الاقتصادية بالاعتماد على الذات أولاً.
- التدخل الأمريكي في الشؤون الداخلية لبعض الدول.
- اختراق الأمن الثقافي العربي من خلال إحلال قيم العولمة السلبية.
- انتشار العنف وقيام الحروب الأهلية وحروب الحدود كما حدث في الصومال والكونغو وأفغانستان.

ج ١٨) الحصول على مزايا الإنتاج الكبير وتحقيق التكامل بين الدول الأعضاء.

- تيسير الاستفادة من المراكز البحثية ومهارات الفنيين والأيدي العاملة بصورة أفضل.
- تسهيل عملية التنمية الاقتصادية وإقامة مشروعات مشتركة.
- تنويع الإنتاج بطريقة اقتصادية.
- رفع مستوى رفاهية المواطنين.
- تخفيف أثر الصدمات الخارجية .. بتقليل الاعتماد على الخارج وذلك بزيادة مستوى التنويع الإنتاجي في دول التكتل.

ج ١٩) يترتب على ذلك تجاوزات تُضر بمصالح الأفراد.

ج ٢٠) ظهرت دول واخفت أخرى.

ج ٢١) - اندمجت دول وانقسمت دول أخرى.

ج ٢٢) - تكونت علاقات دولية جديدة وتمزقت علاقات أخرى.

ج ٢٣) - تولي الرئيس السوفيتي الأسبق (جورباتشوف) الرئاسة في عام ١٩٨٥م، وأعلن عن سياسته الجديدة والتي تمثلت في إعادة البناء الاقتصادي من خلال.. الشفافية والانفتاح السياسي، والاعتماد على القطاع الخاص، وتشجيع المستثمرين الأجانب على الاستثمار داخل الاتحاد السوفيتي، والانفتاح الاقتصادي على الغرب.





٢. فشلت سياسته في إيجاد نظام أكثر تطوراً ويدات النزعة الانفصالية تظهر.

➤ (٢٢) خطأ. في عام ١٩٩٢م قام مجلس الاتحاد الأوربي بوضع عدة شروط للانضمام. بسبب الضائق الشاسع في المستوى السياسي والاقتصادي بين دول أوربا (بشروط كوبنهاغن).

١. شروط اقتصادية: وجود نظام اقتصادي قادر على التعامل مع المنافسة الموجودة بين دول الاتحاد.

٢. شروط تشريعية: تعديل تشريعات وقوانين الدولة بما يتناسب مع تشريعات الاتحاد الأوربي.

٣. شروط سياسية: تضمن الديمقراطية وتطبيق القانون واحترام الإنسان وحقوق الأقليات.

➤ (٢٣) الهجرة غير الشرعية: هي انتقال شخص من دولة إلى أخرى من غير المنافذ الرسمية للدول دون اتباع الطرق القانونية التي تنظم

انتقال الأشخاص بين الدول.

➤ (٢٤) راتزل.

➤ (٢٥) ١. قيام بريطانيا بتقسيم الهند إلى قسمين رئيسيين في أغسطس عام ١٩٤٧م هما:

١. جمهورية الهند: تضم الأغلبية الهندوسية.

٢. جمهورية باكستان: تضم الأغلبية المسلمة، وقسمت باكستان إلى قسمين: باكستان الشرقية (بنجلادش حالياً) وباكستان الغربية.

٣. ترك الاستعمار الحرية لكشمير بحيث تستقل أو تنضم إلى إحدى الدولتين (الهند، باكستان).

٤. أصبحت الديانة السائدة في كشمير هي الإسلام لكن السلطة الحاكمة كانت هندوسية، ولذلك لم يرغب حاكم كشمير في الانضمام إلى أي من

الدولتين في البداية وأثر أن يبقى بعيداً عن الصراع بينهما.

٥. حدثت ثورة داخلية من المسلمين في كشمير ضد الهندوس: نتج عنها استعانة حاكم كشمير (المهراجا) بالهند التي أسرع وأرسلت

جيوشها إلى كشمير، وتدخلت باكستان لمساعدة شعب كشمير المسلم.

➤ (٢٦) - صعوبة الانتقال عبر تلك الجبال. - الفصل التام بين الدول. - قلة الاحتكاكات والمنازعات.

➤ (٢٧) الأفضل: الانضمام للتكتلات: لأن ذلك يعود على الدولة بفوائد كثيرة منها: الحصول على مزايا الإنتاج الكبير وتيسير الاستفادة

من المراكز البحثية ومهارات الفنيين والأيدي العاملة بصورة أفضل، وتسهيل عملية التنمية الاقتصادية وإقامة مشروعات مشتركة، وتنوع

الإنتاج بطريقة اقتصادية، ورفع مستوى رفاهية المواطنين، وتخفيف أثر الصدمات الخارجية.

➤ (٢٨) المقصود بـ(التخوم): هي مناطق جغرافية لها مساحة (لها طول وعرض) كالغابات والصحارى.

➤ (٢٩)

المياه الإقليمية	المياه التكميلية
<ul style="list-style-type: none"> <li>تضم المياه الإقليمية النطاق البحري الممتد من خط الساحل وتحدد حافته الخارجية من جهة البحر الحد السياسي البحري للدولة وتمارس الدولة سيادتها المطلقة عليه في الصيد والتجارة واستخراج الثروات.</li> <li>هذا النطاق يتفاوت عرضه من ثلاثة أميال إلى ٢٠٠ ميل بحري وفقاً لظروف كل دولة وهناك اتفاق بين غالبية الدول على أن نطاق المياه الإقليمية هو ١٢ ميلاً بحرياً.</li> </ul>	<ul style="list-style-type: none"> <li>تمتد من نهاية المياه الإقليمية إلى مسافة محددة في اتجاه البحر.</li> <li>تمارس الدولة في هذه المياه سلطات جمركية وإجراءات خاصة بالرقابة والإشراف الضروريين لتحقيق الأمن والسلامة لها للمحافظة على مصالحها الحيوية.</li> <li>تعد جزءاً من مياه أعالي البحار وسيادة الدولة عليها مشروطة بأمن وسلامة الدولة المجاورة لها في تلك المياه.</li> </ul>

➤ (٣٠) خطأ. فالموارد الطبيعية بطبيعتها غير موزعة بانتظام على خريطة العالم وخاصة الموارد المعدنية وموارد الطاقة:

١. فهناك مناطق تتوافر فيها هذه الموارد بكثرة.

٢. تندر هذه الموارد في مناطق أخرى، ومن هنا فهي مجال للصراع بين الدول من أجل الحصول على هذه الموارد خاصة الموارد غير المتجددة.

➤ (٣١) الرياض.

### إجابة النموذج الرابع

➤ (١) الرصيف القاري.

➤ (٢) (صواب) بسبب حركات السكان منذ فجر التاريخ عبر الأوطان والأقاليم والقارات والتي أدت لأسباب مختلفة إلى اختلاط السكان

وبالتالي لم يعد هناك شعب نقي، حيث اكتسب كل شعب دماء جديدة وعناصر جنسية وقومية وثقافية وافدة على هذا الشعب.

➤ (٣) لأن من أهم اختصاصات المجلس الوزاري لمجلس التعاون لدول الخليج العربي:

١. اقتراح السياسات ووضع التوصيات الهادفة لتطوير التعاون بين الدول الأعضاء.

٢. العمل على تنسيق وتشجيع الأنشطة القائمة بين الدول الأعضاء.





٢) تعيين الأمناء المساعدين لمدة ثلاث سنوات قابلة للتجديد.

٤) - عدم القدرة على الفصل بين الدول، ودخول الأشخاص غير المرغوب فيهم أيديولوجيًا، وتهديد التماسك القومي للبلاد، وعبور الصحف والمجلات والكتب التي قد تضر بسلامة الوطن.

٥) بهذا الحكم أصبح لتونس حقوق أساسية في حقول الغاز والبتترول في هذه المنطقة.

٦) الفاو.

٧) أ) حيث تدرس جغرافية الانتخابات ما يلي :

١- توزيع الدوائر الانتخابية.

٢- دراسة التباين المكاني في التصويت.

٣- دراسة السلوك الانتخابي للناخبين.

٤- تحليل الآثار البيئية الطبيعية والبشرية والظروف الاقتصادية على سلوك الانتخابي للفرد.

٥- دراسة أثر الانتخابات على تغيير الظروف البشرية في المنطقة.

ب) النظام الانتخابي: هو مجموعة القواعد والتشريعات والقوانين التي تنظم عملية انتخاب ممثلي الشعب.



٨)

٩) ( صواب )، ردع الأعداء يكون هدفًا أساسيًا للأحلاف العسكرية الدفاعية والتي تنشأ بدافع الخوف من خطر مشترك يهدد الدول المتحالفة دفاعًا عن كيانها الإقليمي وحماية لأمنها القومي.

١٠) تشابه العادات والتقاليد يساعد على قيام التكتل واستمراره، حيث أن التناظر الثقافي بين الدول لا يساعد على قيام التكتلات الاقتصادية.

١١) - لَمَّا انهار حلف وارسو، وما انفردت الولايات المتحدة الأمريكية بزعامة العالم، وما سقط عنصر التوازن الدولي.

١٢) - تسارع التغيرات العالمية. - انهيار حلف وارسو.

١٣)

طبيعة العلاقات الدولية في السلم	طبيعة العلاقات الدولية في الحرب
● في السلم اتجهت الدول لحل النزاعات الدولية بينها بعدة طرق:	- قيام الحرب العالمية الأولى والثانية.
١. المفاوضات.	- نشأة المنظمات الدولية مثل:
٢. الوساطة ... طرف ثالث بين متصارعين.	عصبة الأمم، الأمم المتحدة.
٣. الساعي الحميدة ... دول متبرعة قد تكون صديقة للطرفين.	
٤. التوفيق ... إحالة النزاع إلى لجنة معاهدة مهمتها تقديم تقرير إلى الطرفين يتضمن اقتراحات واضحة من أجل إجراء تسوية بينهما.	
٥. التحكيم ... وهو الأسلوب القانوني حيث يصدر الحكم بين دولتين ويكون ملزمًا للطرفين. مثل: قضية طابا.	

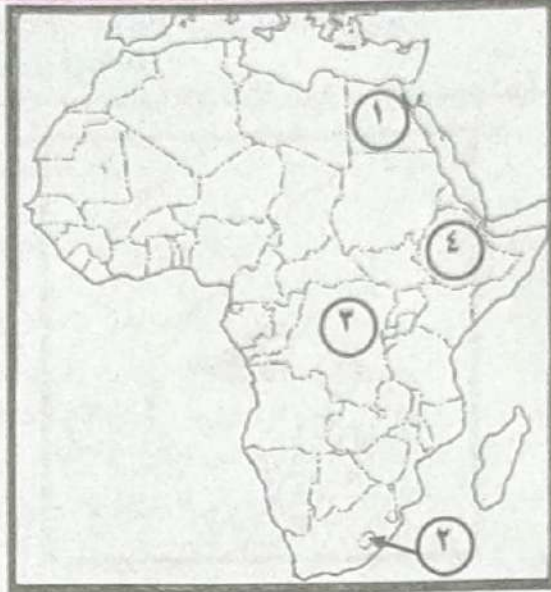
١٤) الإيكوس.





## المُرشد في المراجعة النهائية

الآثار السلبية للدول ذات المساحة الكبيرة	الآثار الإيجابية للدول ذات المساحة الكبيرة
المساحة الكبيرة للدولة تحتاج منها إلى جهود وامكانيات كبيرة لتطويرها وحمايتها والسيطرة على أجزائها المترامية الأطراف.	١. تزايد من احتمالية التنوع في التركيب الجيولوجي مما يؤدي إلى تنوع في الموارد المعدنية مثل روسيا الاتحادية والولايات المتحدة والصين. ٢. تساعد في ظل الإمكانيات الاقتصادية على أن تضم عددًا كبيرًا من السكان الذين يمكنهم استثمار هذه الموارد الاقتصادية. ٣. تتيح للدولة وقت الحرب فرصة إبعاد مصانعها وسكانها عن المناطق المهتدة بالعدوان إلى مناطق آمنة. ٤. تتيح للدولة أن تبني نظرية الدفاع بالعمق.



(١٧٧) خطأ) تضم المياه الإقليمية النطاق البحري الممتد من خط الساحل وتحده حافته الخارجية من جهة البحر الحد السياسي البحري للدولة وتمارس الدولة سيادتها المطلقة عليه في الصيد والتجارة واستخراج الثروات ، وهذا النطاق يتفاوت عرضه من ثلاثة أميال إلى ٣٠٠ ميل بحري وفقًا لظروف كل دولة وهناك اتفاق بين غالبية الدول على أن نطاق المياه الإقليمية هو ١٢ ميلًا بحريًا.

(١٧٨) خطأ) حيث أن الجبال ظاهرة دائمة ومرئية وعريضة وقليلة السكان ويقتصر عبورها على ممرات معينة ولذلك تصلح لتكون حدودًا فاصلة بين الدول.

(١٧٩) خطأ) تعتبر عامل فصل يعرقل حركة الانتقال على جانبيها.

(١٨٠) خطأ) تعتبر خطوط دفاعية تستغلها الدول في إقامة التحصينات للدفاع عن نفسها ضد أي غزو.

(١٨١) خطأ) كان هذا سيؤدي إلى حدوث توازن في العلاقات الدولية، وعدم انفراد القوى الكبرى بالقرارات الدولية، وزيادة مشاركة الدول النامية في آسيا وأفريقيا وأمريكا الجنوبية في الأحداث العالمية.

(١٨٢) خطأ) ظهور الثورة العلمية والتكنولوجية، وإعلان النظام العالمي الجديد.

(١٨٣) خطأ) كانت الحروب العديدة خاصة الحربين العالميتين الأولى والثانية أقوى الدوافع العالمية لإنشاء تنظيمين دوليين مهمتهما الأساسية المحافظة على الأمن والسلم الدوليين.

(١٨٤) خطأ) ما تعرضت له البشرية من حروب قضت على عشرات الملايين من البشر وآلاف الملايين من الأموال.

(١٨٥) خطأ) أدت التغيرات المناخية التي شهدتها دول غرب أفريقيا في سبعينات وثمانينات من القرن العشرين إلى..

• حدوث مشكلات في مناطق المراعي من نفوق ملايين الحيوانات.

• هجرة السكان إلى المدن أو إلى حرفة الزراعة.

• كل ذلك أدى إلى وجود مشاكل سياسية أساسها حرفة الرعي وهجرة الرعاة بين الدول.

(١٨٦) خطأ) الهجرة القسرية: هي تعرض الإنسان رغم إرادته للهجرة خارج أو داخل الوطن الذي يأويه.



جـ (٢٤) أرسطو.

جـ (٢٥) ١) محاولة السكان الأسبان الحصول على الحكم الذاتي.

٢) إصدار أسبانيا قانوناً يلزم الأجانب في أسبانيا بالحصول على إذن إقامة كل خمس سنوات في الوقت الذي يعتبر الأسبان في سببة ومليئة أن السكان المقاربة أجنب، بينما يعتبر المقاربة أنفسهم أنهم السكان الأصليون.

جـ (٢٦) - حالة النزاع إلى لجنة محايدة مهمتها تقديم تقرير إلى الطرفين يتضمن اقتراحات واضحة من أجل إجراء تسوية بينهما.  
- حل المشكلة موضوع النزاع وإلا اللجوء إلى التحكيم كحلٍ أخير.

جـ (٢٧) قام حلف شمال الأطلسي بجهود بناءً ويتضح ذلك من خلال..

- |              |  |
|--------------|--|
| ١) عام ١٩٩٥م | .. التدخل في البوسنة والهرسك ونشر قوات حفظ السلام فيها.          |
| ٢) عام ٢٠٠١م | .. إرسال قوات الحلف إلى مقدونيا لمهمة حفظ السلام.                |
| ٣) عام ٢٠٠٦م | .. تدخل قوات الحلف لتخفيف آثار الزلزال الذي ضرب باكستان.         |
| ٤) عام ٢٠٠٦م | .. إغاثة المتضررين من إعصار كاترينا الذي اجتاح الولايات المتحدة. |

جـ (٢٨) العلاقات الدولية: هي مجموعة التفاعلات بين أعضاء المجتمع الدولي على المستويين الإقليمي والعالمي والتي تجرى وفقاً لنسق أو منظومة معينة لتقييم مستقاة من فلسفة العولمة.

جـ (٢٩) الأنهار الدولية	الأنهار المحلية
هي تلك الأنهار التي تفصل بين الدول ويتم اتخاذها كحد سياسي أو الأنهار التي تجري عبر الحدود السياسية لعدد من الدول أي تقطع الحدود السياسية بين الدول. - يظهر النزاع بين الدول على ترسيم خط الحدود السياسية مع إحدى ضفتي النهر أو مع اقتسام سطح المجرى أو قاعه.	هي تلك الأنهار التي تجري من منبعها إلى مصبها في دولة أو داخل الحدود السياسية لدولة واحدة. - هنا لا تظهر مشكلة سياسية داخلية خاصة بالمستفادة من مافية النهر في الري والصيد والملاحة. - مثل نهر المسيسيبي في الولايات المتحدة الأمريكية.

جـ (٣٠) ( صواب ) حيث يُعدّ الذين عنصرًا حضاريًا مهمًا يستخدم في تحديد الحدود بين الدول.

مثال ذلك: الحدود بين الهند وباكستان.

جـ (٣١) أنقرة.

### إجابة النموذج الخامس

جـ (١) الرناسي.

جـ (٢) ( صواب ) تلك الخصائص المشتركة هي:

- ١- الدين (الدين الإسلامي).
- ٢- اللغة (اللغة العربية).
- ٣- الجوار.
- ٤- التاريخ المشترك.
- ٥- العادات والتقاليد.
- ٦- تشابه الأنشطة الاقتصادية للسكان.

جـ (٣) ● في عام ١٩٩٢م قام مجلس الاتحاد الأوربي بوضع عدة شروط للانضمام بسبب .. الفارق الشاسع في المستوى السياسي والاقتصادي بين

دول أوروبا (بشروط كوبنهاجن).

١- شروط اقتصادية: وجود نظام اقتصادي قادر على التعامل مع المنافسة الموجودة بين دول الاتحاد.

٢- شروط تشريعية: تعديل تشريعات وقوانين الدولة بما يتناسب مع تشريعات الاتحاد الأوربي.

٣- شروط سياسية: تضمن الديمقراطية وتطبيق القانون واحترام الإنسان وحقوق الأقليات.

جـ (٤) - ضمان سوق بين دول التكتل تشجع على قيام الأنشطة الاقتصادية.

- وجود حجم من العمالة قادراً على استغلال موارد الدول في التكتل ؛ هذه العمالة عنصر أساسي في كل دول التكتل خاصة لو كانت على درجة

عالية من المهارة والتخصص الإنتاجي بين دول التكتل.

جـ (٥) ظهور النظام العالمي الجديد، وازدياد حجم التجارة الدولية.

جـ (٦) صندوق النقد الدولي.

جـ (٧) أ) أهم أهداف الأحلاف العسكرية:

١. ردع الأعداء: يكون هدفاً أساسياً للأحلاف العسكرية الدفاعية والتي تنشأ بدافع الخوف من خطر مشترك يهدد الدول المتحالفة دفاعاً عن

كيانها الإقليمي وحماية أمنها القومي.

٢. زيادة القوة: تسعى الدول إلى زيادة قوتها من خلال سياسة التحالف كبديل لسياسة التسليح المنفردة والتي تستنزف موارد اقتصادية هائلة





٤. تسوية النزاعات بين الدول الأعضاء بالطرق السلمية.
  ٥. حماية المصالح المشتركة وتنمية التعاون الاقتصادي والاجتماعي بين الدول الأعضاء.
- ب) استراتيجية حلف الناتو بعد انهيار حلف وارسو:
١. السعي نحو توسيع الحلف شرقاً.
  ٢. ربط مستقبل الأمن الأوربي بالدور الذي يقوم به الحلف في الأزمات الكبرى داخل أوروبا وعلى أطرافها.
  ٣. إيجاد دور له في الأزمات الأوربية وفي الشرق الأوسط.
- وعلى أثر ذلك انضم عدد من الدول المنفصلة عن حلف وارسو إلى حلف شمال الأطلسي وبذلك بلغ عدد أعضائه ٢٨ دولة بنهاية عام ٢٠١٥م.



- (٩) صواب، تلعب قوة الدولة العسكرية دوراً مؤثراً في العلاقات الدولية، فما زالت روسيا الاتحادية الوريث الأكبر للاتحاد السوفيتي تلعب دوراً مؤثراً في كثير من الأحداث العالمية كمسكلة أوكرانيا والأوضاع في سوريا.
- (١٠) بسبب قيام رئيس الاتحاد السوفيتي الأسبق (ميخائيل جورباتشوف) بالإعلان عن بدء حقبة جديدة بالتعاون مع الغرب ونهاية الحرب الباردة على اعتبار أن هناك مجموعة جديدة من المبادئ الحاكمة للعلاقات بين الدولتين.
- (١١) لأدى ذلك إلى: ١. زيادة الثقل الاقتصادي للوطن العربي على المستويين الإقليمي والعالمي.
٢. عدم قدرة الدول الكبرى على التدخل في شئونه الداخلية والخارجية.
  ٣. زيادة العلاقات الدولية بين الوطن العربي ودول العالم المختلفة.
- (١٢) تحويل كثير من المساعدات الاقتصادية والمالية والتكنولوجية والتبادل التجاري لصالح العلاقات الجديدة بين شرق أوروبا والغرب عموماً على حساب الدول النامية.

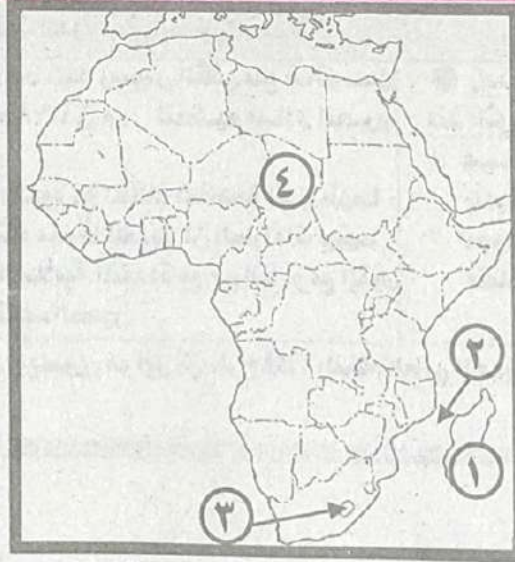
أهم المؤسسات بالتعاون لدول الخليج العربي	أهم المؤسسات بالاتحاد الأوربي
١. المجلس الأعلى.	١. المجلس الأوربي.
٢. المجلس الوزاري.	٢. البرلمان الأوربي.
٣. الأمانة العامة.	٣. مجلس الاتحاد الأوربي.
	٤. المفوضية الأوربية.

(١٤) ألمانيا الشرقية.

الآثار السلبية للدول ذات المساحة الصغيرة	الآثار الإيجابية للدول ذات المساحة الصغيرة
١. المساحة الصغيرة للدولة في بعض الأحيان يسهل اختراقها والسيطرة عليها في حالة الحرب مثل..	١. تمكّن الحكومة من.. ضبط الدولة وإدارتها بسهولة.
- سيطرة ألمانيا على.. هولندا وبلجيكا أثناء الحرب العالمية الثانية.	٢. تمكّن الحكومة من..
- سيطرة العراق على الكويت عام ١٩٩٠م.	- تنمية جميع أجزاء الدولة وتطويرها.
٢. تكون أكثر تأثراً بالكوارث الطبيعية.. كالزلازل والأعاصير.	- حصر موارد وإمكانيات الدولة.

(١٥)





(١٧) (صواب)، لأن المجتمعات تختلف حضاريًا وجغرافيًا وثقافيًا ولكل منها تجربته الخاصة.

(١٨) ١- وسيلة اتصال الدولة بالعالم الخارجي دون عوائق أو تحكم دولة أخرى.

٢- زيادة احتكاك الدولة حضاريًا بغيرها من الدول.

٣- تمتعها بالثروات البحرية المختلفة الموجودة في مياهها الإقليمية.

(١٩) ١. لما أصبحت منطقة الشرق الأوسط مجالاً للصراعات الدولية.

٢. لأدى ذلك إلى سقوط منطقة الشرق الأوسط من اهتمامات الدول الكبرى.

(٢٠) تحولت منطقة بانكو بعد عام ١٨٩٨ م من تبعية الولايات المتحدة إلى المكسيك.

(٢١) ● الأقلية المنتشرة والمبعثرة جغرافيًا في أنحاء الدولة - الأغلبية يكون تأثيرها محدودًا أو حتى معدومًا خاصة في حالة مطالبتها

بالانفصال عن الدولة الأم.

● الأقلية المركزة جغرافيًا في مكان ما في الدولة خاصة إذا كان ذلك على أطراف الدولة، تكون مطالبتها خطرًا على استقرار الدولة، خاصة إذا كانت هناك قوى مجاورة تشجع هذه الأقلية في مطالبها، مثال ذلك: الباسك في أسبانيا، وسكان تيمور الشرقية في إندونيسيا.

(٢٢) (صواب)، حيث يتم اختيار عاصمة الدولة بناء على...

١. العامل التاريخي... ٢. سهولة المواصلات... ٣. الحماية والدفاع... ٤. السيادة القومية...

(٢٣) الدولة الفيدرالية: هي الدولة المقسمة إلى وحدات إدارية قد تكون ولايات أو مقاطعات أو محافظات ويكون لهذه الوحدات نوع من

الاستقلال الذاتي فيما عدا النواحي المالية والدفاعية.

(٢٤) ابن خلدون.

(٢٥) ١. زيادة عدد السكان ٢. الحاجة إلى تنمية المناطق الهامشية ٣. الحروب ٤. المعاهدات المبرمة ٥. تصفية الاستعمار لمستعمراته.

(٢٦) يسهم التنوع المناخي للدولة في الاقتراب من درجة الاكتفاء الذاتي، حيث التنوع في الإنتاج الزراعي الذي يعمل على تنوع الأنشطة الاقتصادية مما يؤدي إلى التكامل بين أقاليم الدولة وتعزيز وحدتها الوطنية.

- مثال ذلك.. الولايات المتحدة الأمريكية... تكثر فيها الأقاليم المناخية وتعدد.

(٢٧) الصراعات والنزاعات المسلحة سواء دولية أو محلية (الحروب الأهلية) تضطر بعض السكان إلى الهجرة القسرية لدول الجوار حتى

تجربها وهم من يطلق عليهم (اللاجئون) ومن أمثلة ذلك: الصراع بين اليهود والفلسطينيين في فلسطين.. بين من يدعون أن فلسطين هي

وطنهم الموعود وبين أصحاب الأرض، وقد شجعت القوة الاستعمارية اليهود على إقامة وطن لهم في فلسطين، وما زالت هذه القوة تساندهم بكل

الوسائل، الأمر الذي يترتب عليه تهجير الفلسطينيين قسراً إلى خارج وطنهم.

(٢٨) المياه المحايدة: تضم المياه الإقليمية النطاق البحري الممتد من خط الساحل وتحدد حافته الخارجية من جهة البحر الحد السياسي

البحري للدولة وتتمارس الدولة سيادتها المطلقة عليه في الصيد والتجارة واستخراج الثروات.

- وهذا النطاق يتفاوت عرضه من ثلاثة أميال إلى ٢٠٠ ميل بحري وفقاً لظروف كل دولة وهناك اتفاق بين غالبية الدول على أن نطاق المياه

الإقليمية هو ١٢ ميلاً بحرياً.





العلاقات الدولية في العصور الحديثة	العلاقات الدولية في العصور القديمة
<p>● زادت العلاقات الدولية و زاد اعتمادها على بعضها خاصة منذ الثورة الصناعية حيث تحول العلاقات بين الدول من علاقات جوار إلى .. أفاق أوسع شملت العالم بأسرة في عهد القوى الاستعمارية الأوربية.</p> <p>٢. مجرد علاقات في الحرب و السلم إلى .. مجالات أخرى متعددة.</p>	<p>● المعاهدة التي عقدها الملك رمسيس الثاني مع حاتوسيل ملك الحيثيين عام ١٢٧٨ ق.م ... لتنظيم مبادئ الحرب و السلم بين الدولتين.</p> <p>● علاقات الفرس و الروم مع الممالك الخاضعة لكل منهما ؛ حيث كانت منطقة الشام مسرحاً للعديد من الصراعات بينهما.</p> <p>● علاقات الدولة الإسلامية المتعددة مع جيرانها أو مع القوى التي عاصرتها في مختلف العصور.</p>

(٢٩)

(٣٠) خطأ. الرئيس الأمريكي (ويلسون) هو أول من طرح فكرة النظام العالمي الجديد.

(٣١) الدولة.

### عزيزي الطالب

تم إصدار سلسلة المرشد في المراجعة النهائية، ويوجد بها الكثير من الأسئلة المتنوعة مع الإجابات. وقد قمنا بعمل بعض نماذج (المراجعة) بدون إجابة لتدريب الطالب عليها.





## المُرشد في المراجعة النهائية

٣- الهجرة غير الشرعية والجانب الصحي للسكان.

٤- التغيرات المناخية ومشكلات المناطق الرعوية.

### السؤال الثاني

(أ) أمامك خريطة صماء للوطن العربي: اكتب مدلول الأرقام على الخريطة:



- ١- دولة كبيرة المساحة .....
- ٢- دولة يجاورها عدد قليل من الدول .....
- ٣- دولة يجاورها عدد كبير من الدول .....
- ٤- دولة مركزية .....

(ب) بم تفسر .....

١- نقلت اليابان عاصمتها من مدينة كيوتو إلى مدينة طوكيو.

٢- تمثل الغابات مورداً مهماً من الموارد الطبيعية للدولة.

٣- تُعد الصناعة ركيزة أساسية لاقتصاد أي دولة.



بالمكتبات **الآن**

سلسلة كتب

# المرشد

● يوجد جزء منفرد للمواد الثقافية كتاب لكل مادة

● رياضيات

● فيزياء

● كيمياء

● أحياء

● لغة انجليزية

● لغة فرنسية

● تاريخ

● جغرافيا

● فلسفه ومنطق

شرح - تدريبات - امتحانات  
لا يخرج عنها الامتحان



تابعنا دوماً

**الناشر**

**دار الكتب الأزهرية**

١٠ ش كامل صدقى - الفجالة - القاهرة

0225894351 01016609562 01098782267

سلسلة المرشد علامة تجارية مسجلة برقم ١٥٧٤٠١

رقم الإيداع: ٢٠٢١/٢٣٧٤٥٠

السعر ٧٥ جنيه